

ΥΠΟΥΡΓΕΙΟ ΠΑΙΔΕΙΑΣ, ΑΘΛΗΤΙΣΜΟΥ ΚΑΙ ΝΕΟΛΑΙΑΣ
ΔΙΕΥΘΥΝΣΗ ΜΕΣΗΣ ΓΕΝΙΚΗΣ ΕΚΠΑΙΔΕΥΣΗΣ
ΕΝΙΑΙΕΣ ΑΠΟΛΥΤΗΡΙΕΣ ΓΡΑΠΤΕΣ ΕΞΕΤΑΣΕΙΣ 2023-2024
Γ' ΤΑΞΗ ΛΥΚΕΙΟΥ
ΕΞΕΤΑΖΟΜΕΝΟ ΜΑΘΗΜΑ: ΕΛΕΥΘΕΡΟ - ΠΡΟΟΠΤΙΚΟ ΣΧΕΔΙΟ
ΔΕΙΓΜΑΤΙΚΟ ΔΟΚΙΜΙΟ
ΚΩΔΙΚΟΣ ΜΑΘΗΜΑΤΟΣ : Γ022
ΣΥΝΟΛΙΚΗ ΔΙΑΡΚΕΙΑ ΓΡΑΠΤΗΣ ΕΞΕΤΑΣΗΣ: 90 ΛΕΠΤΑ
ΤΟ ΕΞΕΤΑΣΤΙΚΟ ΔΟΚΙΜΙΟ ΑΠΟΤΕΛΕΙΤΑΙ ΑΠΟ ΠΕΝΤΕ (5) ΣΕΛΙΔΕΣ Α4
ΚΑΙ ΔΥΟ (2) ΦΥΛΛΑ ΣΧΕΔΙΑΣΗΣ Α3

ΟΔΗΓΙΕΣ (για τους εξεταζόμενους)

1. Να συμπληρώσετε τα στοιχεία σας με μπλε μελάνι στο έντυπο εξώφυλλο Α4 καθώς και στα δύο φύλλα σχεδίασης μεγέθους Α3.
2. Το εξεταστικό δοκίμιο αποτελείται από δύο (2) μέρη Α' και Β'.
3. Το Μέρος Α' αποτελείται από μία (1) άσκηση και βαθμολογείται με εξήντα (60) μονάδες. Το Μέρος Β' αποτελείται από μια (1) άσκηση και βαθμολογείται με σαράντα (40) μονάδες. Να λύσετε και τις δύο (2) ασκήσεις με την σειρά που επιθυμείτε, την κάθε μία στο αντίστοιχο φύλλο σχεδίασης μεγέθους Α3.
4. Οι λύσεις των ασκήσεων να σχεδιαστούν στην ίδια όψη του φύλλου σχεδίασης, όπου θα αναγράφονται τα στοιχεία σας.
5. Να παραδώσετε ταυτόχρονα το έντυπο εξώφυλλο Α4 και τα δύο φύλλα σχεδίασης, είτε λύσετε όλα τα θέματα είτε όχι.
6. *Με ευθύνη των επιτηρητών, στην παρουσία του μαθητή που παραδίδει, να γίνουν τα πιο κάτω:*
 - I. Το εξώφυλλο να επικαλύπτει τα δύο (2) φύλλα σχεδίασης και όλα μαζί να συνδεθούν με συρραπτικό.*
 - II. Στο τέλος να επικολληθούν οι τρεις (3) αυτοκόλλητες ετικέτες για επικάλυψη των στοιχείων του εξεταζόμενου.*

ΣΑΣ ΕΥΧΟΜΑΣΤΕ ΚΑΛΗ ΕΠΙΤΥΧΙΑ

ΜΕΡΟΣ Α: ΠΡΟΟΠΤΙΚΟ ΣΧΕΔΙΟ

Δίνονται:

α) η Κάτοψη η Πρόσοψη και η Πλάγια (αριστερή) όψη μικρής αστικής οικίας, όπως επίσης και η κάτοψη της οροφής(σελ.4).

β) η Κάτοψη, τοποθετημένη υπό κλίση 45° ως προς τη γραμμή εδάφους, με διαστάσεις (σελ. 5).

γ) η Κάτοψη της μικρής αστικής οικίας και μέρος αυτής σε προοπτική απεικόνιση, σχεδιασμένη στο φύλλο σχεδίασης Α3.

-το σημείο Κ της κάτοψης εφάπτεται της γραμμής εδάφους.

-το σημείο Ο' η θέση παρατηρητή, απέχει από τον πίνακα προβολής (τη γραμμή εδάφους 16 μέτρα), δηλ. ο οπτικός άξονας Ο'Κ = 16 μέτρα

-η γραμμή του ορίζοντα με τα σημεία φυγής, όπου ο παρατηρητής, παρατηρεί το κτήριο από ύψος 1.80 μέτρα.

Οι αναγραφόμενες διαστάσεις δίνονται σε μέτρα. Κλίμακα σχεδίασης 1:100

Ζητούνται:

- I. Να απεικονίσετε προοπτικά τα σκιαγραφημένα μέρη της οικοδομής έτσι όπως αυτά παρουσιάζονται στην υπό κλίση κάτοψη.
- II. Να τοποθετήσετε τουλάχιστον πέντε (5) διαφορετικά επιπλέον οικοδομικά στοιχεία της δικής σας επιλογής όπως προέκταση (πχ δωμάτιο/α, όροφο, γκαράζ ή άλλους χώρους) ανοίγματα (πόρτα, παράθυρο) στέγαστρο, καπνοδόχο, προεξοχή, διάδρομο, πλακόστρωτο, ανθώνες, τοιχοποιία (επίχρισμα, διακοσμητική λιθοδομή) ώστε να εμπλουτιστεί αισθητικά και λειτουργικά η οικία με τα δικά σας οικοδομικά στοιχεία.

Κριτήρια αξιολόγησης

- Ορθός προοπτικός σχεδιασμός των στοιχείων της δεδομένης οικοδομής που δεν είναι σχεδιασμένος.
- Ορθή προοπτική απεικόνιση των πέντε (5) επιπρόσθετων στοιχείων.

(Μονάδες 45)

- III. Να αποδώσετε τη φωτοσκίαση στο κτήριο και στον περιβάλλοντα χώρο χρησιμοποιώντας χρώματα και υλικά της επιλογής σας (χρωματιστά μολύβια, νερομπογιές, μολύβια ακουαρέλας κ.λπ.)
- IV. Η κατεύθυνση φωτός, είναι δικής σας επιλογής.

Κριτήρια αξιολόγησης

- Χρωματική απόδοση και φωτοσκίαση του τελικού έργου.
- Ορθή χρήση των υλικών.

(Μονάδες 15)

ΜΕΡΟΣ Β: ΕΛΕΥΘΕΡΟ ΣΧΕΔΙΟ

Δίνεται Νεκρή Φύση αποτελούμενη από ένα (1) αντικείμενο.

Να σχεδιάσετε με μολύβι το αντικείμενο όπως φαίνεται εκ του φυσικού.

Μπορείτε να χρησιμοποιήσετε μολύβια από HB μέχρι 6B.

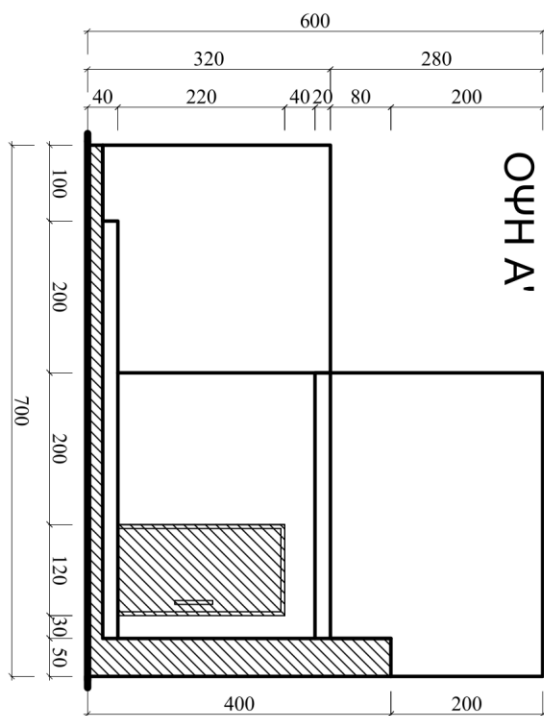
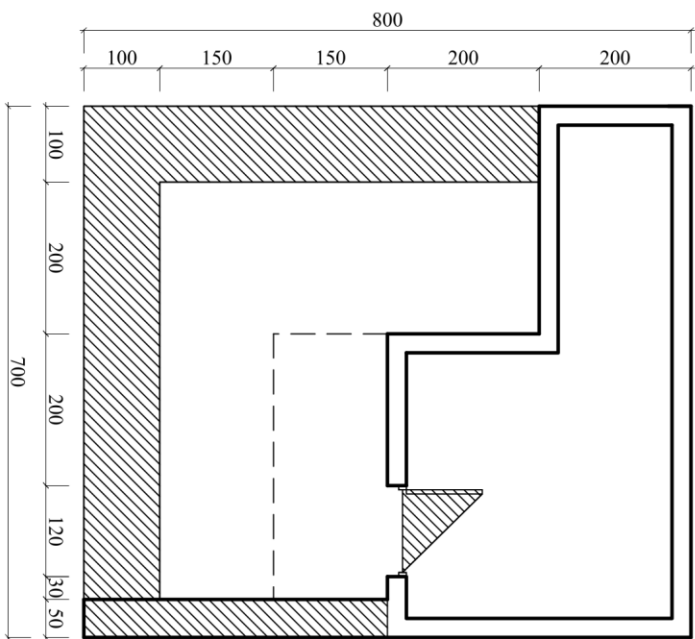
Το χαρτί σχεδίασης μπορεί να τοποθετηθεί οριζόντια ή κάθετα.

Η σύνθεση θα αξιολογηθεί ως προς τα ακόλουθα σημεία :

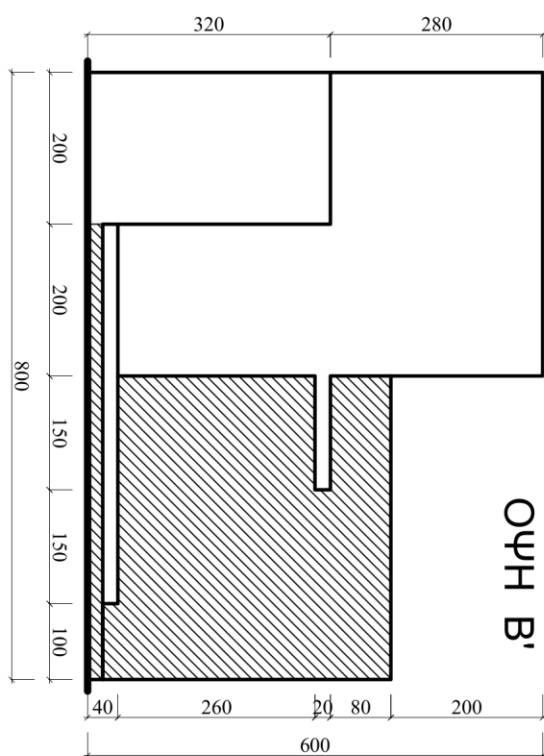
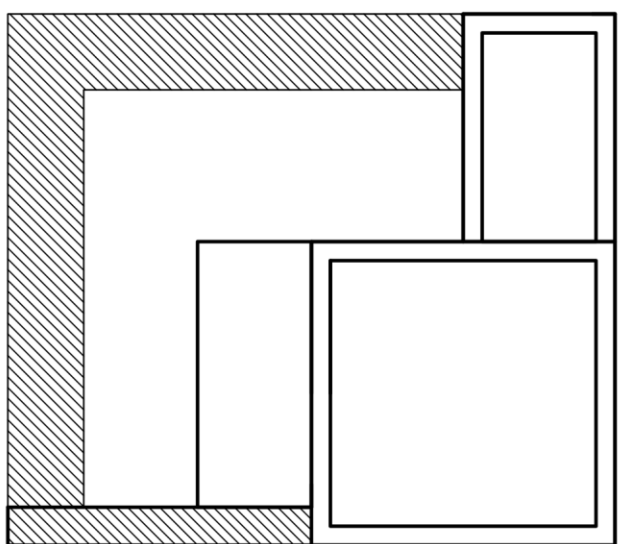
- Σωστή τοποθέτηση στο σχεδιαστικό χώρο.
- Ορθές αναλογίες / κλίσεις.
- Ορθή απόδοση της Τονικής διαβάθμισης, φωτισκίασης και όγκου.
- Απόδοση του Φόντου και του Βάθους / Χώρου.

Στο Δειγματικό Δοκίμιο περιλαμβάνονται ερωτήσεις/ ασκήσεις από όλη την Διδακτέα ύλη όπως έχει καθοριστεί στα πλαίσια Μάθησης. Η εξεταστέα Ύλη θα ανακοινωθεί σε μεταγενέστερο στάδιο

ΚΑΤΟΨΗ ΙΣΟΓΕΙΟΥ



ΚΑΤΟΨΗ ΟΡΟΦΗΣ



ΑΣΚΗΣΗ Α'
ΚΑ 1:100

Ο ΠΑΡΑΤΗΡΗΤΗΣ

