

## **ΕΝΟΤΗΤΑ 5 – Δ' ΤΑΞΗ**

Επιπρόσθετο υλικό

### **ΘΕΜΑΤΑ**

- Εκτίμηση γινομένων
- Μονοψήφιος Πολλαπλασιασμός
- Επίλυση προβλήματος
- Γραφικές παραστάσεις

## Εκτίμηση γινομένων και Μονοψήφιος πολλαπλασιασμός

1. Ποιο από τα παρακάτω δίνει απάντηση πιο κοντά στο  $79 \times 32$ ;

(α)  $75 \times 30$

(β)  $70 \times 35$

(γ)  $80 \times 40$

(δ)  $80 \times 30$

2.  $35 \times 9$

Απάντηση: \_\_\_\_\_

3. Ποιο ψηφίο σβήστηκε από την πιο κάτω πράξη;

$$\begin{array}{r} 123 \\ \times \quad 4 \\ \hline 4\text{○}2 \end{array}$$

Απάντηση: \_\_\_\_\_

4. Να γράψεις τους αριθμούς 2 , 4 και 5 στα πιο κάτω κουτιά, για να σχηματίσεις το μεγαλύτερο γινόμενο.

$$\begin{array}{r} \square \square \\ \times \quad \square \\ \hline \end{array}$$

## Επίλυση προβλήματος

1. Ο Κώστας αγόρασε τρεις φανέλες προς €22 την κάθε μία και 2 παντελόνια αξίας €18 το κάθε ένα. Πόσα ρέστα πήρε αν στο ταμείο έδωσε ένα χαρτονόμισμα των €100.

Απάντηση: \_\_\_\_\_

2. Σε ένα περιβόλι υπήρχαν 7 σειρές που η κάθε σειρά είχε από 15 λεμονιές και 3 σειρές που η κάθε σειρά είχε 15 πορτοκαλιές. Πόσα συνολικά δέντρα έχει στο περιβόλι;

Απάντηση: \_\_\_\_\_

3. Ο κήπος της Αγγελικής έχει 82 σειρές με μαρούλια. Υπάρχουν 58 μαρούλια σε κάθε σειρά. Ποιο από τα πιο κάτω δίνει τον ΚΑΛΥΤΕΡΟ τρόπο, για να εκτιμήσουμε πόσα περίπου μαρούλια υπάρχουν στον κήπο;

(α)  $100 \times 50 = 5000$

(β)  $90 \times 60 = 5400$

(γ)  $80 \times 60 = 4800$

(δ)  $80 \times 50 = 4000$

4. Μια ποδοσφαιρική ομάδα αγόρασε 18 νέες στολές. Κάθε στολή κόστιζε €59. Ποιο από τα πιο κάτω δίνει τον ΚΑΛΥΤΕΡΟ τρόπο, για να εκτιμήσουμε ποιο είναι το συνολικό κόστος των στολών;

(α)  $10 \times 50 = 500$






(β)  $10 \times 60 = 600$

(γ)  $20 \times 50 = 4800$

(δ)  $20 \times 60 = 1200$



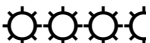

## Γραφικές Παραστάσεις


1. Η γραφική παράσταση δείχνει πόσα παιδιά πήγαν σε ένα πάρκο την περασμένη εβδομάδα. Αν τα παιδιά που επισκέφτηκαν το πάρκο την Παρασκευή ήταν 48, να βρεις πόσα παιδιά πήγαν στο πάρκο συνολικά την Δευτέρα και την Τρίτη.

Δευτέρα	
Τρίτη	
Τετάρτη	
Πέμπτη	
Παρασκευή	

Απάντηση: \_\_\_\_\_

2. Η Μαρία κατασκεύασε το πιο κάτω εικονόγραμμα, για να παρουσιάσει το αγαπημένο φρούτο των παιδιών του σχολείου τις.

Αγαπημένο φρούτο	Αριθμός παιδιών
Μήλο	
Μπανάνα	
Καρπούζι	
Φράουλα	

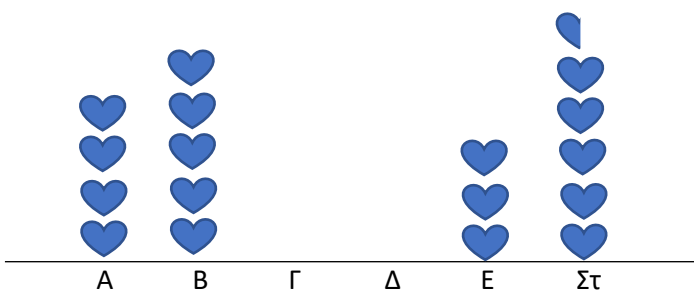
Αν τα παιδιά που προτιμούν μήλο είναι κατά 32 λιγότερα από αυτά που προτιμούν μπανάνα, να βρεις ποιον αριθμό αναπαριστά το .


Απάντηση: \_\_\_\_\_

3. Ο Κυριάκος καταγράφει τον αριθμό των παιδιών του σχολείου του. Άρχισε να παρουσιάζει τις πληροφορίες αυτές σε έναν πίνακα και σε ένα εικονόγραμμα.

Να συμπληρώσεις τις πληροφορίες που λείπουν από τον πίνακα και το εικονόγραμμα.

Τάξη	Αριθμός παιδιών
A	24
B	30
Γ	21
Δ	42
Ε	
Στ	



Κάθε  αντιστοιχεί με \_\_\_\_\_ παιδιά.