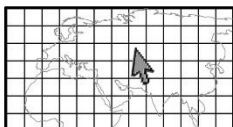


Από το Ηνωμένο Βασίλειο στην Κύπρο

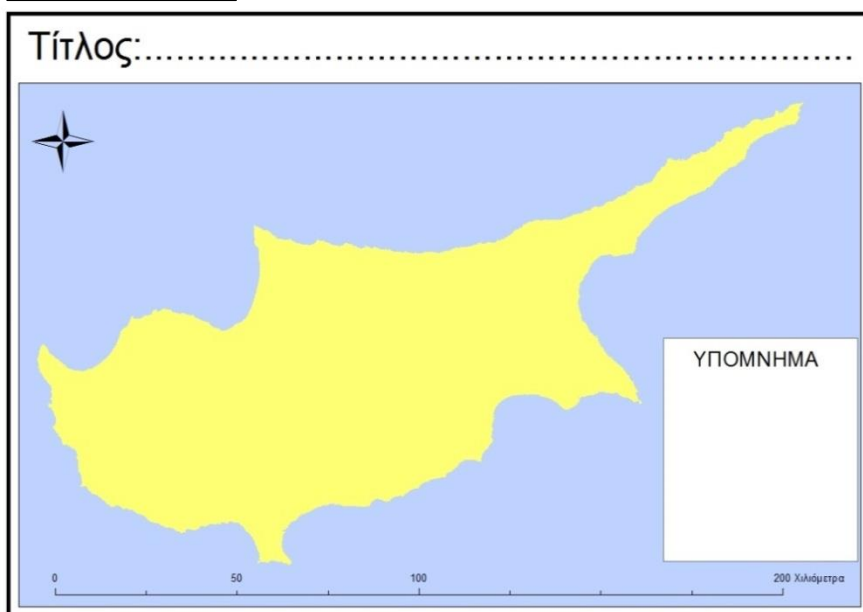
Ο Αντρέας είναι δέκα χρόνων, κάτοικος Λονδίνου στο Ηνωμένο Βασίλειο και προγραμματίζει να έρθει στην Κύπρο με τους γονείς του για να περάσει τις καλοκαιρινές του διακοπές. Μελετά διάφορες πληροφορίες για το νησί μας. Πρώτα απ' όλα ερευνά να μάθει για το πού θα αφιχθεί στην Κύπρο και μετά μαθαίνει για τις πόλεις που θα ήθελε να επισκεφθεί.



1. Γράφουμε το όνομα της Κύπρου και του Ηνωμένου Βασιλείου στη θέση τους στον χάρτη.



2. Σύρουμε γραμμή με το μολύβι κατά μήκος της ακτής, εκεί που η ξηρά συναντάει τη θάλασσα. Μετά, συμπληρώνουμε το υπόμνημα και τον τίτλο του χάρτη.



3. Συμπληρώνουμε:
α) Η ακτογραμμή είναι η γραμμή στον χάρτη, η οποία

.....
.....
.....
.....
.....
.....

β) Η Κύπρος είναι νησί, αφού



4. Αντιστοιχίζουμε και ονομάζουμε τα μέσα συγκοινωνίας και τις υποδομές που εξυπηρετούν τις συγκοινωνίες.

Μέσα συγκοινωνίας



.....



.....



.....



.....

Υποδομή



.....



.....



.....



.....



5. Ονομάζουμε τους τύπους συγκοινωνίας στον πιο κάτω πίνακα και γράφουμε τα μέσα συγκοινωνίας που εξυπηρετούν κάθε τύπο:

<p>Στην επιφάνεια της ξηράς:</p>	<p>..... συγκοινωνία</p>	<p>Μέσα συγκοινωνίας:</p>
<p>Στον αέρα:</p>	<p>..... συγκοινωνία</p>	<p>Μέσα συγκοινωνίας:</p>
<p>Στην επιφάνεια της θάλασσας:</p>	<p>..... συγκοινωνία</p>	<p>Μέσα συγκοινωνίας:</p>



6. Ο Αντρέας έχει στη διάθεσή του 10 μέρες για τις διακοπές του. Μελετούμε τον χρόνο που χρειάζεται για τη μετάβαση και του δίνουμε εισηγήσεις, για να διαλέξει το καταλληλότερο μέσο συγκοινωνίας.

Στην επιφάνεια της ξηράς	Στην επιφάνεια της θάλασσας	Στον αέρα
<p>.....</p>	<p>.....</p>	<p>.....</p>
<p><u>Διάρκεια ταξιδιού:</u> 6 μέρες (μέχρι το λιμάνι του Πειραιά, Ελλάδα)</p>	<p><u>Διάρκεια ταξιδιού:</u> περίπου 30 μέρες</p>	<p><u>Διάρκεια ταξιδιού:</u> περίπου 5 ώρες</p>

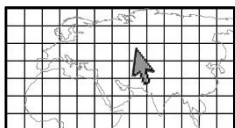
Αγαπητέ Αντρέα,

.....

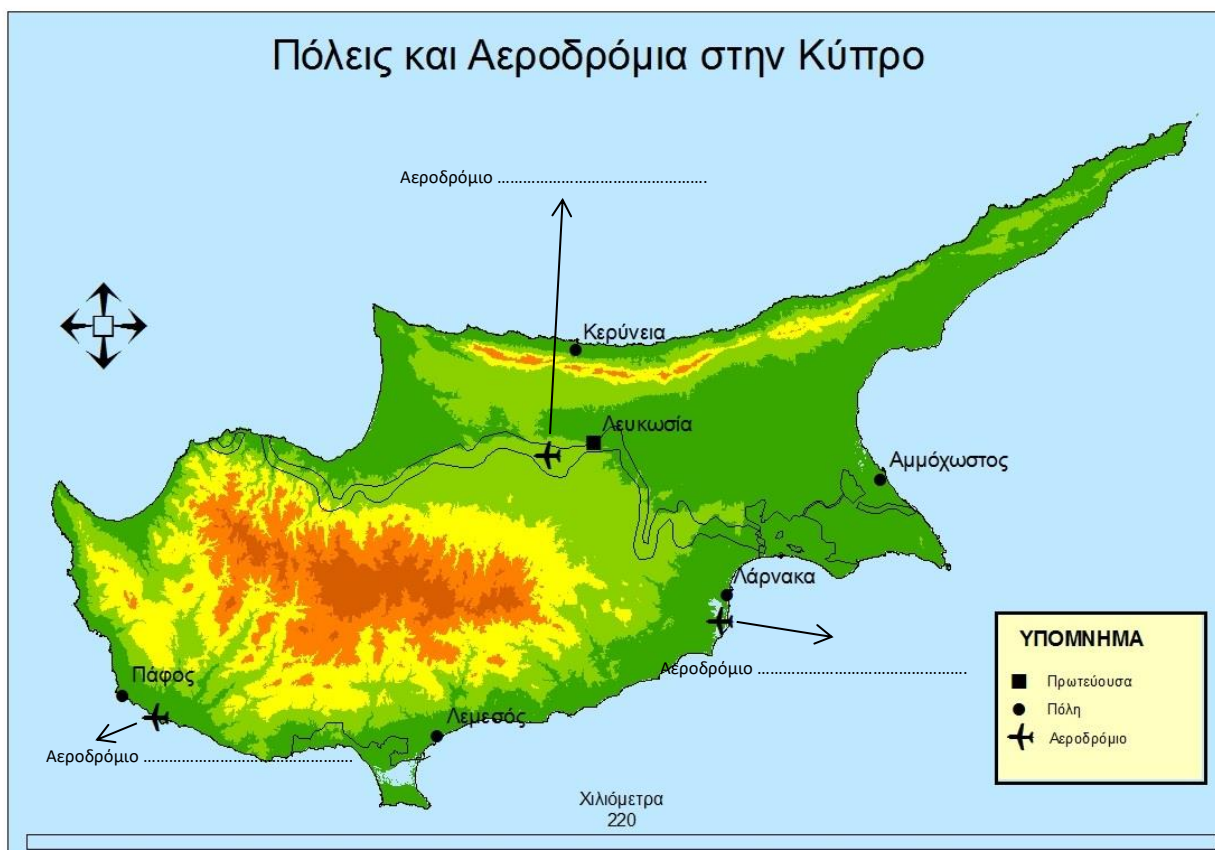
.....

.....

Επιλέγουμε αεροδρόμιο



1. Εντοπίζουμε το σύμβολο για τα αεροδρόμια στον χάρτη και συμπληρώνουμε τα ονόματα των αεροδρομίων στην Κύπρο.



Αν απαράχθηκε από τους χάρτες του Τμήματος Κτηματολογίου και Χωρομετρίας με την έγκριση της Κυβέρνησης της Κυπριακής Δημοκρατίας. Απαγορεύεται οποιαδήποτε αντύπωση.

2. Μελετούμε το κείμενο και εντοπίζουμε πληροφορίες για τις γραμμές που φαίνονται στον πιο πάνω χάρτη.

Στις 20 Ιουλίου 1974 η Τουρκία εισέβαλε με τον στρατό της στην Κύπρο και κατάφερε να καταλάβει μεγάλο μέρος του νησιού μας. Έτσι, στο νησί μας υπάρχει η κατεχόμενη περιοχή, η οποία ελέγχεται από τον τουρκικό κατοχικό στρατό και η ελεύθερη περιοχή, που ελέγχεται από την Κυπριακή Δημοκρατία.

Οι θέσεις όπου σταμάτησε ο τουρκικός στρατός τον Αύγουστο του 1974 δημιουργούν μια γραμμή, που ονομάζεται «Γραμμή Κατάπαυσης του Πυρός» (Γ.Κ.Π.) των τουρκικών δυνάμεων. Οι θέσεις της Εθνικής Φρουράς της Κυπριακής Δημοκρατίας, όπως ήταν στις 16 Αυγούστου του 1974 (ώρα 18:00) δημιουργούν μια άλλη γραμμή, που ονομάζεται «Γραμμή Κατάπαυσης του Πυρός» (Γ.Κ.Π.) της Εθνικής Φρουράς. Ανάμεσα στις γραμμές αυτές υπάρχει η Νεκρή Ζώνη. Η Νεκρή Ζώνη, παρεμβάλλεται μεταξύ της ελεύθερης και της κατεχόμενης περιοχής. Αποτελεί μέρος του εδάφους της Κυπριακής Δημοκρατίας, αλλά ελέγχεται από τον Οργανισμό Ηνωμένων Εθνών.

Πηγές: Υπουργείο Εξωτερικών, <http://www.mfa.gov.cy>
Γραφείο Τύπου και Πληροφοριών, <http://moi.gov.cy>

3. Ονομάζουμε τα πιο κάτω στον βουβό χάρτη: *ελεύθερη περιοχή, κατεχόμενη περιοχή, Γραμμές Κατάπαυσης του Πυρός, Νεκρή Ζώνη*. Μετά δίνουμε τίτλο στον χάρτη.



Αν απαράχθηκε από τους χάρτες του Τμήματος Κτηματολογίου και Χωρομετρίας με την έγκριση της Κυβέρνησης της Κυπριακής Δημοκρατίας. Απαγορεύεται οποιαδήποτε ανατύπωση.

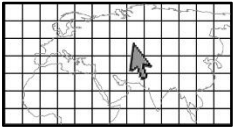
4. Εντοπίζουμε πού βρίσκεται κάθε αεροδρόμιο στον πιο πάνω χάρτη και συμπληρώνουμε τον πίνακα.

Αεροδρόμια στην ελεύθερη περιοχή	Αεροδρόμια στη Νεκρή Ζώνη

5. Συμπληρώνουμε τις προτάσεις με τις λέξεις/φράσεις: *ελεύθερη περιοχή, κατεχόμενη περιοχή, Νεκρή Ζώνη, κλειστό, Οργανισμός Ηνωμένων Εθνών*

- Το αεροδρόμιο Λευκωσίας είναι από το 1974.
- Το αεροδρόμιο Λευκωσίας βρίσκεται στην και ελέγχεται από τον
- Τα αεροδρόμια Λάρνακας και Πάφου βρίσκονται στην της Κύπρου και ελέγχονται από την Κυπριακή Δημοκρατία.

Διεθνές Αεροδρόμιο Λευκωσίας




Μελετούμε τις πληροφορίες και συμβουλεύουμε τον Αντρέα αν μπορεί να χρησιμοποιήσει το αεροδρόμιο Λευκωσίας, για να έρθει στην Κύπρο. Εξηγούμε γιατί.



- Τι βλέπουμε;
- Τι είναι αυτά που βλέπουμε;
- Βάζουμε σε κύκλο τις οικιστικές ζώνες.
- Σημειώνουμε τους διαδρόμους προσγείωσης – απογείωσης αεροσκαφών.
- Πού βρίσκεται το Αεροδρόμιο Λευκωσίας;

- Τι θα δούμε, αν πάμε στο Αεροδρόμιο Λευκωσίας;



Το Διεθνές Αεροδρόμιο Λευκωσίας αποτελούσε το κύριο αεροδρόμιο της Κύπρου από την οικοδόμησή του το 1968, μέχρι και το 1974. Βρίσκεται πλήρως εντός της Νεκρής Ζώνης, η οποία διαχωρίζει τις ελεύθερες περιοχές της Δημοκρατίας από τις κατεχόμενες. Το αεροδρόμιο της Λευκωσίας βρίσκεται σε κατάσταση αχρησίας από το 1974 και αυτή τη στιγμή τελεί υπό τον έλεγχο του Οργανισμού Ηνωμένων Εθνών.

<http://www.cyprusairports.com.cy/showpage.php?PageID=233&LanguageCode=gr>
[Διασκευή]

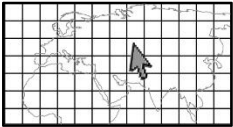
.....

.....

.....

.....

Διεθνές Αεροδρόμιο Λάρνακας



Μελετούμε τις πληροφορίες και συμβουλευόμαστε τον Αντρέα αν μπορεί να χρησιμοποιήσει το αεροδρόμιο Λάρνακας, για να έρθει στην Κύπρο. Εξηγούμε γιατί.



- Τι βλέπουμε;
- Τι είναι αυτά που βλέπουμε;
- Βάζουμε σε κύκλο τις οικιστικές ζώνες.
- Σημειώνουμε τους διαδρόμους προσγείωσης – απογείωσης αεροσκαφών.
- Πού βρίσκεται το Αεροδρόμιο Λάρνακας;

- Τι θα δούμε, αν πάμε στο Διεθνές Αεροδρόμιο Λάρνακας;



Το Διεθνές Αεροδρόμιο Λάρνακας λειτούργησε το 1975, αφού, λόγω της τουρκικής εισβολής του 1974, το Αεροδρόμιο Λευκωσίας περιήλθε σε αχρησία. Αρχικά, λειτουργούσε μόνο κατά τη διάρκεια της μέρας, καθώς η περιοχή διακίνησης αεροσκαφών δεν διέθετε τον απαραίτητο φωτισμό. Κατά τα χρόνια που ακολούθησαν έγιναν σημαντικές επεκτάσεις στις εγκαταστάσεις και στον εξοπλισμό του αεροδρομίου. Από το 2009 λειτουργεί το νέο Διεθνές Αεροδρόμιο Λάρνακας, το οποίο έχει τη δυνατότητα να εξυπηρετεί πέρα από επτάμισι εκατομμύρια επιβάτες κάθε έτος.

<http://www.hermesairports.com> [Διασκευή]

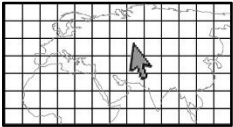
.....

.....


.....

.....

Διεθνές Αεροδρόμιο Πάφου



Μελετούμε τις πληροφορίες και συμβουλεύουμε τον Αντρέα αν μπορεί να χρησιμοποιήσει το αεροδρόμιο Πάφου, για να έρθει στην Κύπρο. Εξηγούμε γιατί.



- Τι βλέπουμε;
- Τι είναι αυτά που βλέπουμε;
- Βάζουμε σε κύκλο τις οικιστικές ζώνες.
- Σημειώνουμε τους διαδρόμους προσγείωσης – απογείωσης αεροσκαφών.
- Πού βρίσκεται το Αεροδρόμιο Πάφου;

- Τι θα δούμε, αν πάμε στο Διεθνές Αεροδρόμιο Πάφου;



Το Διεθνές Αεροδρόμιο Πάφου λειτούργησε για πρώτη φορά το 1983, με σκοπό τη διευκόλυνση της τουριστικής ανάπτυξης του δυτικού μέρους του νησιού. Οι πρώτες εγκαταστάσεις ήταν ιδιαίτερα μικρές με περιορισμένες δυνατότητες, αφού ήταν σε θέση να εξυπηρετήσουν ταυτόχρονα, μόνο μέχρι 4 αεροσκάφη. Ο χώρος επιβατών μπορούσε να καλύψει ανάγκες για μόλις 200 επιβάτες. Από το 2008 λειτουργεί το νέο Διεθνές Αεροδρόμιο Πάφου, το οποίο είναι μεγαλύτερο και μπορεί να εξυπηρετεί περισσότερους από δύομισι εκατομμύρια επιβάτες τον χρόνο.

<http://www.hermesairports.com/> [Διασκευή]

Τουρκική κατοχή στην Κύπρο



1. Επιλέγουμε και γράφουμε φράσεις πάνω στις φωτογραφίες ή κάτω από τις λεζάντες τους: *ελεύθερη περιοχή, κατεχόμενη περιοχή, Γραμμή Κατάπαυσης του Πυρός, Νεκρή Ζώνη*



Άγιος Δομέτιος, Λευκωσία

.....



Οδόφραγμα

.....



Φυλάκιο της Εθνικής Φρουράς

.....



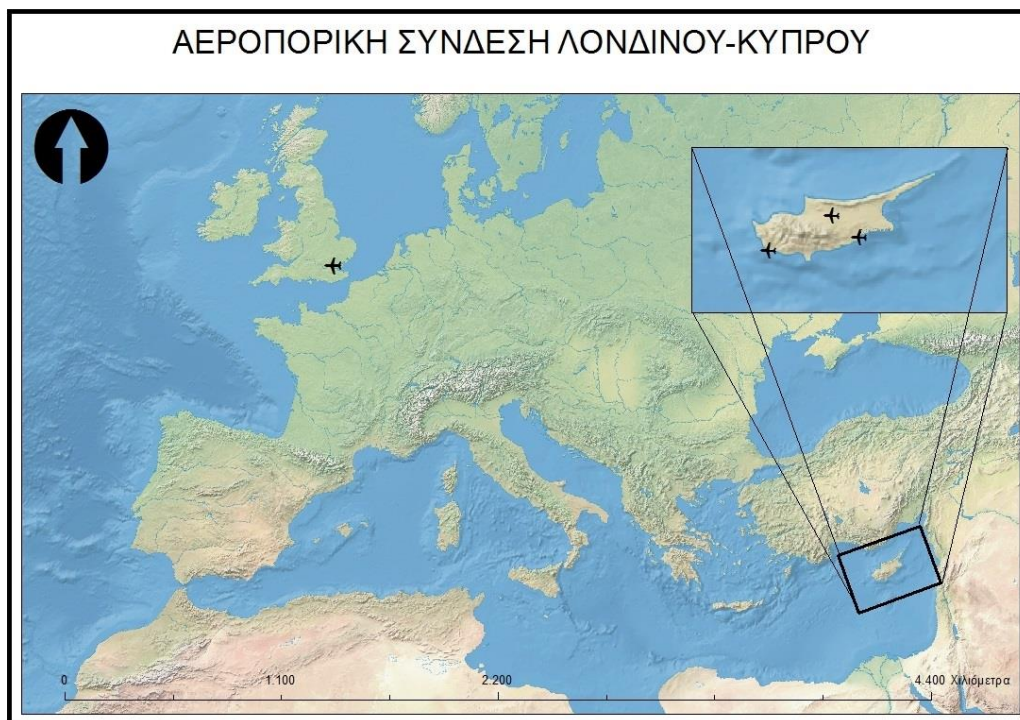
Αμμόχωστος

.....


Πτήση για την Κύπρο



1. Συνδέουμε το Λονδίνο με την Κύπρο. Στον ένθετο χάρτη βάζουμε σε κύκλο τα αεροδρόμια που μπορεί να χρησιμοποιήσει ο Αντρέας για να έρθει στην Κύπρο και εξηγούμε γιατί συμβαίνει αυτό στην Κύπρο.



2. Αναγνωρίζουμε και σημειώνουμε: κτήρια αεροδρομίου, πύργος ελέγχου, εργαζόμενοι, διάδρομοι απογείωσης και προσγείωσης αεροσκαφών



Μέσα επίγειας συγκοινωνίας στην Κύπρο



1. Ονομάζουμε τα επίγεια μέσα συγκοινωνίας και σημειώνουμε με ✓ όσα μπορεί να χρησιμοποιήσει κάποιος στην Κύπρο.



.....



.....



.....



.....



.....



.....



.....



.....

Τα επίγεια μέσα συγκοινωνίας που υπάρχουν στην Κύπρο κινούνται πάνω σε

Γεωμορφολογικές περιφέρειες και οι πόλεις της Κύπρου



1. Ονομάζουμε τις οροσειρές και τις πεδιάδες της Κύπρου στον βουβό χάρτη. Ύστερα, χρωματίζουμε με το κατάλληλο χρώμα και δημιουργούμε υπόμνημα.



2. Μελετούμε το κείμενο και εξηγούμε πώς διακρίνεται η πρωτεύουσα από τις υπόλοιπες πόλεις.

Η πρωτεύουσα μιας χώρας είναι η πόλη που λειτουργεί ως έδρα της κυβέρνησης και ως διοικητικό κέντρο του κράτους. Εκεί βρίσκονται τα κυβερνητικά γραφεία. Συνήθως, η πόλη αυτή καθορίζεται από σχετικό νόμο της χώρας.

3. Στον πιο πάνω χάρτη εντοπίζουμε το σύμβολο για τις πόλεις και σημειώνουμε το όνομα κάθε πόλης. Συμπληρώνουμε το υπόμνημα.

4. Συμπληρώνουμε τις παράκτιες και τις μη παράκτιες πόλεις της Κύπρου στον πίνακα.

<i>Παράκτιες πόλεις της Κύπρου</i>	<i>Μη παράκτιες πόλεις της Κύπρου</i>
.....
.....
.....
.....
.....



5. Αναγνωρίζουμε ή/και ονομάζουμε χαρακτηριστικά στοιχεία κάθε πόλης της Κύπρου και σημειώνουμε με το μολύβι μας την ακτή, όπου φαίνεται.



.....

Λευκωσία



.....

Λεμεσός



.....

Λάρνακα




.....

Πάφος



.....

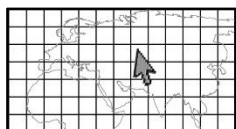
Αμμόχωστος



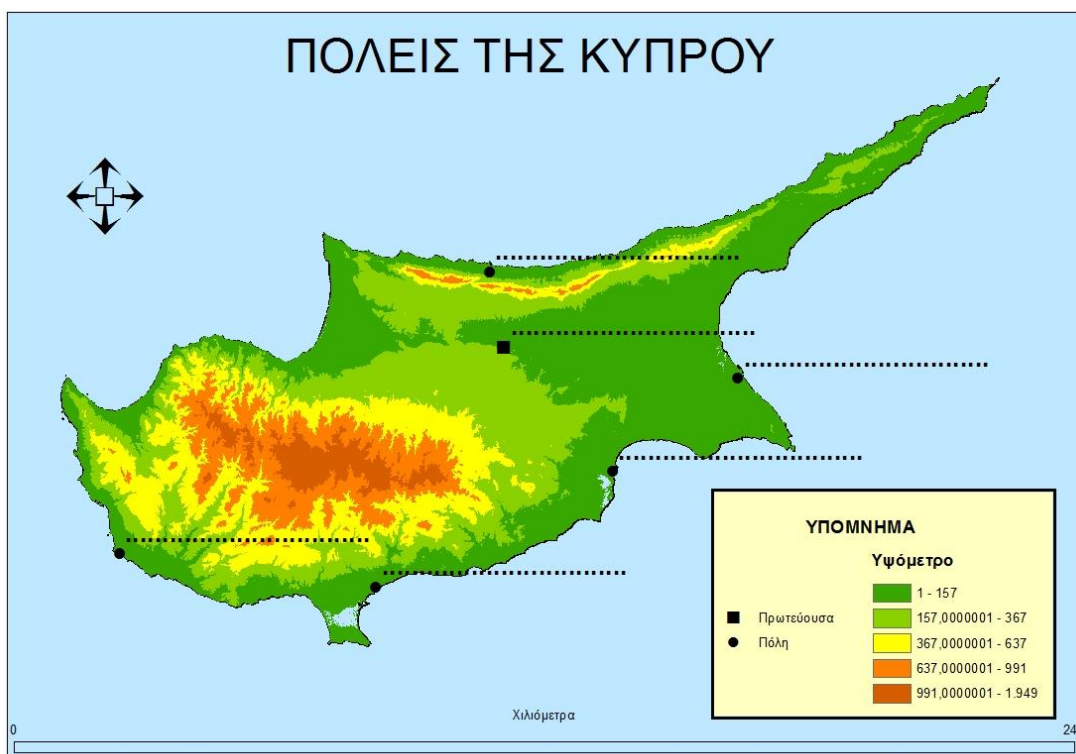
.....

Κερύνεια

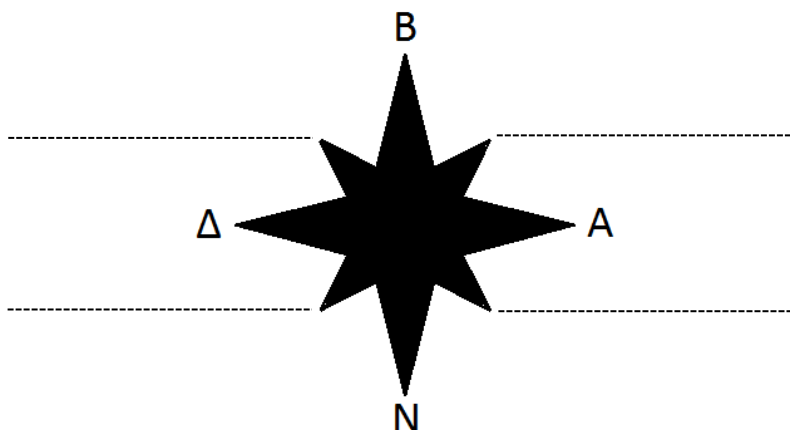
Κατευθύνσεις του ορίζοντα



1. Στον χάρτη ονομάζουμε τις πόλεις της Κύπρου από μνήμης.
2. Στο αστέρι προσανατολισμού συμπληρώνουμε ολογράφως τις υπόλοιπες κατευθύνσεις του ορίζοντα.



Αναπαράχθηκε από τους χάρτες του Τμήματος Κτηματολογίου και Χωρομετρίας με την έγκριση της Κυβέρνησης της Κυπριακής Δημοκρατίας. Απαγορεύεται οποιαδήποτε ανατύπωση.



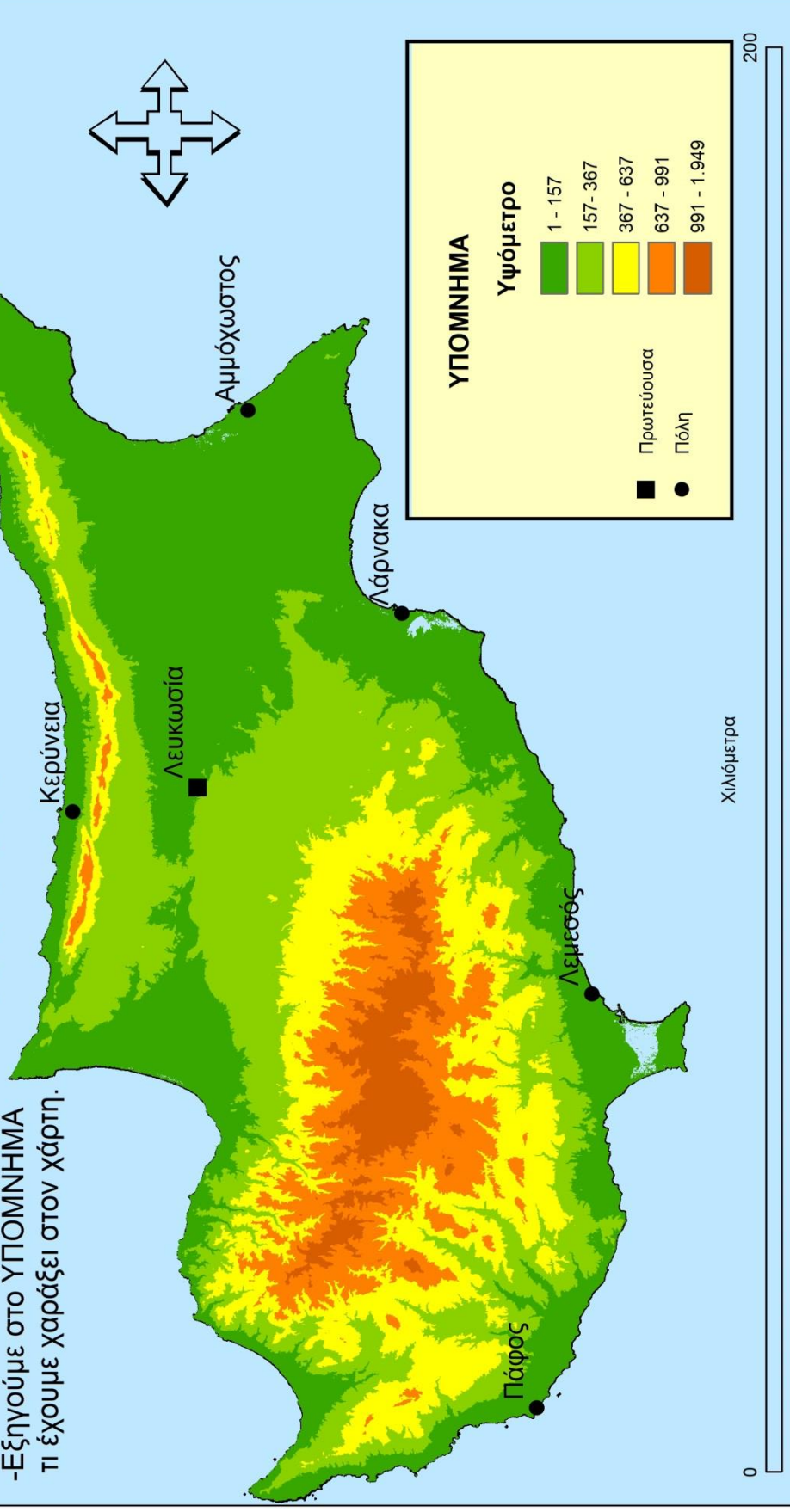
3. Τοποθετούμε τη διαφάνειά μας με τον σταυρό προσανατολισμού πάνω στον χάρτη (πιο πάνω) και περιγράφουμε πού βρίσκεται κάθε πόλη σε σχέση με τη Λευκωσία, χρησιμοποιώντας τις κατευθύνσεις του ορίζοντα.

- Η Κερύνεια βρίσκεται στα της Λευκωσίας.
- Η Αμμόχωστος βρίσκεται στα της Λευκωσίας.
- Η Λάρνακα βρίσκεται στα της Λευκωσίας.
- Η Λεμεσός βρίσκεται στα της Λευκωσίας.
- Η Πάφος βρίσκεται στα της Λευκωσίας.

ΣΥΝΔΕΟΥΜΕ ΤΗΝ ΠΡΩΤΕΥΟΥΣΑ ΚΑΙ ΤΙΣ ΠΟΛΕΙΣ ΤΗΣ ΚΥΠΡΟΥ ΜΕ ΔΡΟΜΟΥΣ

Προσέχουμε:

- Επιλέγουμε την πιο σύντομη διαδρομή.
- Αποφεύγουμε όσο γίνεται περισσότερο το ψηλότερο έδαφος.
- Αξιοποιούμε τμήματα δρόμων που ήδη έχουμε χαράξει.
- Εξηγούμε στο ΥΠΟΜΝΗΜΑ τι έχουμε χαράξει στον χάρτη.

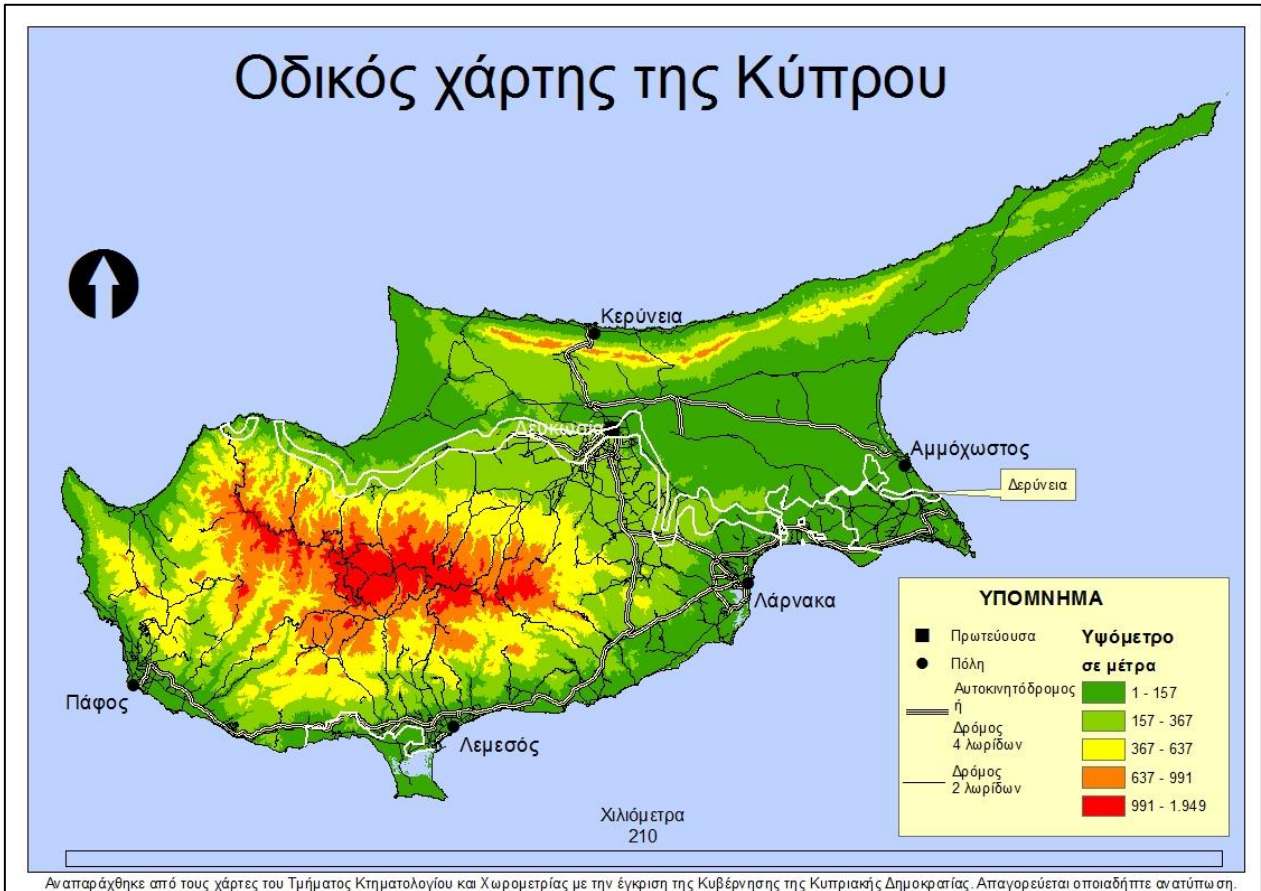


Αναπαράχθηκε από τους Χάρτες του Τμήματος Κτηματολογίου και Χωρομετρίας με την έγκριση της Κυβέρνησης της Κυπριακής Δημοκρατίας. Απαγορεύεται οποιαδήποτε ανατύπωση.

Οδικές Συνδέσεις μεταξύ των πόλεων της Κύπρου



1. Εντοπίζουμε τους δρόμους που συνδέουν τις πόλεις μεταξύ τους στον χάρτη. Απαντούμε στις ερωτήσεις πιο κάτω:



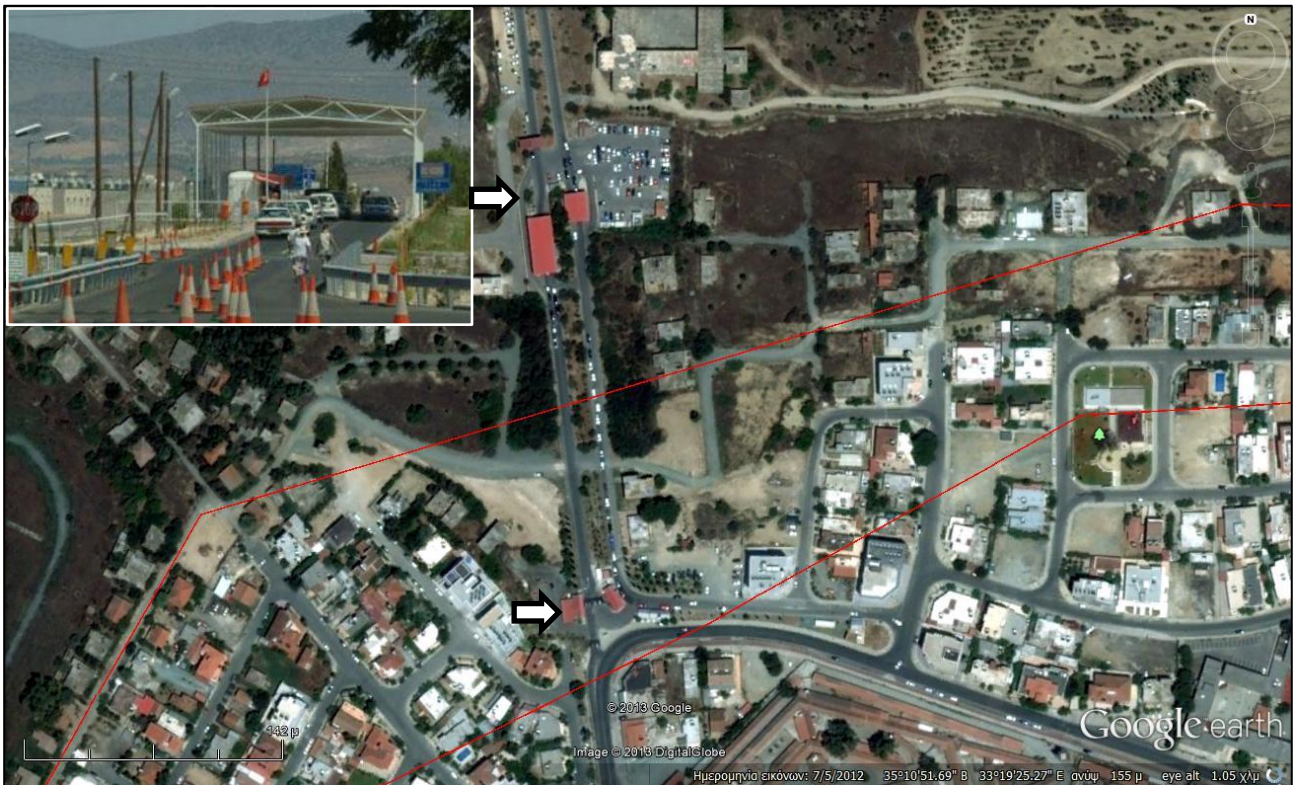
- Προς ποια κατεύθυνση του οριζοντα θα προχωρήσουμε, αν θέλουμε να πάμε από την Πάφο προς τη Λεμεσό;
- Από πού περνάει ο δρόμος που συνδέει τη Λάρνακα με την Πάφο;
- Γιατί δεν υπάρχει ευθύς δρόμος που να συνδέει τη Λευκωσία με την Πάφο;
- Από πού περνάει ο δρόμος που συνδέει τη Λευκωσία με την Κερύνεια;
- Ποιο δρόμο μπορεί να ακολουθήσει κάποιος, για να μεταβεί από τη Λευκωσία στη Δερύνεια; Γιατί;



2. Αναγνωρίζουμε τη Νεκρή Ζώνη και σημειώνουμε με κύκλο τα οδοφράγματα και τα σημεία διέλευσης προς τις κατεχόμενες περιοχές στις αεροφωτογραφίες και στις φωτογραφίες.



Δερύνεια – Αμμόχωστος



Άγιος Δομέτιος – Λευκωσία

Προγραμματισμός διακοπών στην Κύπρο

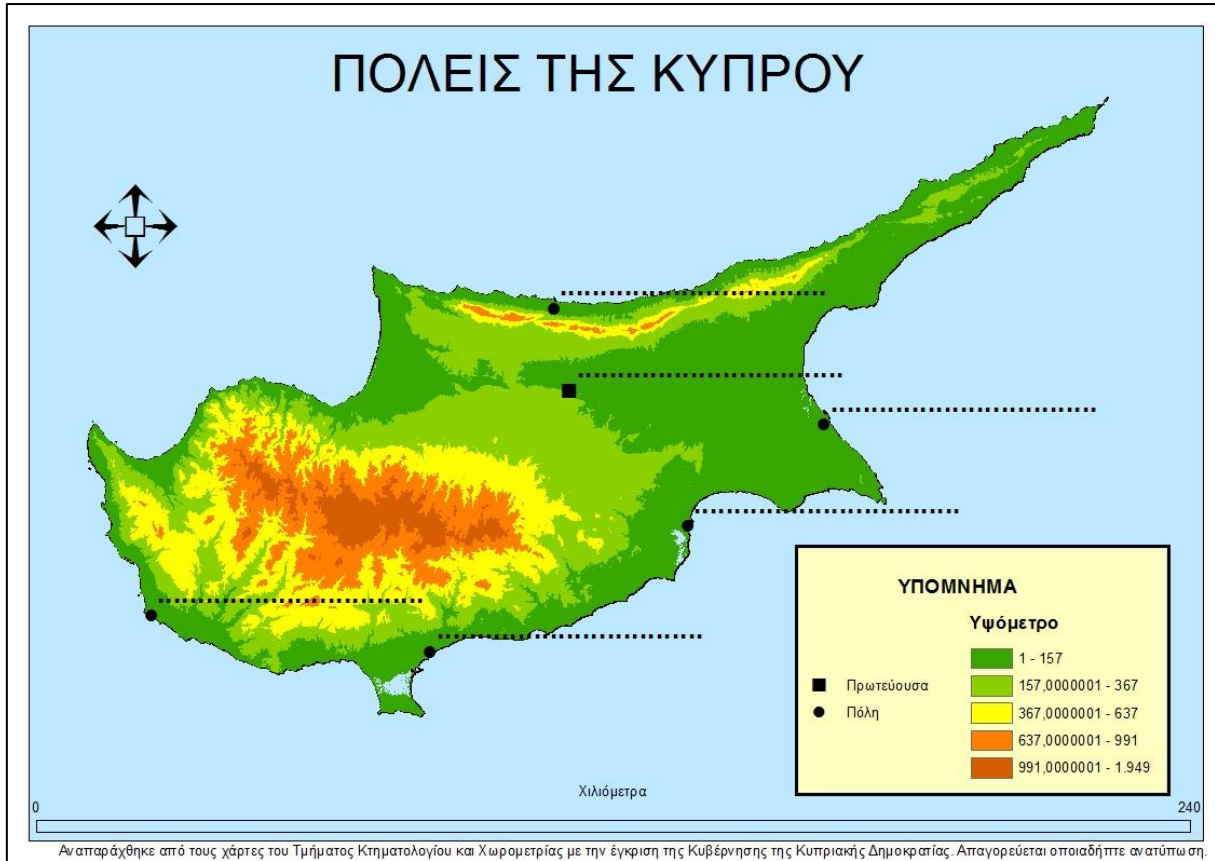
1. Οργανώνουμε τις δεκαήμερες διακοπές του Αντρέα στην Κύπρο. Αποφασίζουμε τα πιο κάτω και προτείνουμε με ποιο τρόπο θα παρουσιάσουμε την κάθε επιλογή:
 - Το αεροδρόμιο άφιξης και αναχώρησης
 - Τη σειρά με την οποία θα επισκεφθεί πόλεις της Κύπρου
 - Την κατεύθυνση που βρίσκεται κάθε πόλη σε σχέση με την προηγούμενη που θα επισκέπτεται ο Αντρέας
 - Το μέσο συγκοινωνίας που θα χρησιμοποιεί κάθε φορά, για να κυκλοφορεί στην Κύπρο.

2. Ελέγχουμε πόσο ευχαριστημένοι είμαστε με την οργάνωση των διακοπών του Αντρέα.

1	Επιλέξαμε αεροδρόμιο άφιξης;	☺	☹	☹
2	Επιλέξαμε αεροδρόμιο αναχώρησης;	☺	☹	☹
3	Οργανώσαμε επίσκεψη στις πόλεις;	☺	☹	☹
4	Αναφέραμε πού βρίσκεται κάθε πόλη σε σχέση με την προηγούμενη που θα έχει επισκεφθεί ο Αντρέας, χρησιμοποιώντας τις κατευθύνσεις του ορίζοντα;	☺	☹	☹
5	Επιλέξαμε μέσο συγκοινωνίας για τη μετακίνηση από τη μια πόλη στην άλλη;	☺	☹	☹
6	Επιλέξαμε μέσο συγκοινωνίας για τη μετακίνηση μέσα στις πόλεις;	☺	☹	☹

ΠΑΡΑΡΤΗΜΑ

ΔΕΛΤΙΟ ΕΙΣΟΔΟΥ: ΟΙ ΠΟΛΕΙΣ ΤΗΣ ΚΥΠΡΟΥ



ΔΕΛΤΙΟ ΕΞΟΔΟΥ: Η ΚΥΠΡΟΣ ΥΠΟ ΚΑΤΟΧΗ (Α)

ΟΝΟΜΑ: ΤΜΗΜΑ:

1. Σημειώνουμε δίπλα σε κάθε πρόταση αν είναι ορθή (Ο) ή λανθασμένη (Λ) με βάση αυτά που ισχύουν στην Κύπρο.

πρόταση	Ο ή Λ
α. Όλες οι περιοχές της Κύπρου είναι ελεύθερες.	
β. Η Νεκρή Ζώνη χωρίζει τις κατεχόμενες περιοχές από τις ελεύθερες περιοχές.	
γ. Οι κατεχόμενες περιοχές βρίσκονται στο νότιο μέρος της Κύπρου.	
δ. Οι περιοχές βόρεια της Νεκρής Ζώνης είναι κατεχόμενες.	
ε. Το αεροδρόμιο Λευκωσίας είναι κλειστό.	
στ. Το αεροδρόμιο Λευκωσίας βρίσκεται στις κατεχόμενες περιοχές.	

2. Διορθώνουμε λανθασμένες προτάσεις της εργασίας 1 πιο πάνω, γράφοντας ορθές πληροφορίες (π.χ. ορθές προτάσεις ή φράσεις).

.....

.....

.....

.....

ΔΕΛΤΙΟ ΕΞΟΔΟΥ: Η ΚΥΠΡΟΣ ΥΠΟ ΚΑΤΟΧΗ (B)

1. Στην αεροφωτογραφία σημειώνουμε στην ορθή θέση όσα από τα παρακάτω μπορούμε.

Νεκρή Ζώνη	χωριό εντός της Νεκρής Ζώνης (ένα)	Γραμμή Κατάπτωσης του Πυρός
ελεύθερες περιοχές	χωριά στις ελεύθερες περιοχές (τρία)	κοίτη ποταμού
κατεχόμενες περιοχές	χωριά στις κατεχόμενες περιοχές (τρία)	γεωργική ζώνη



ΔΕΛΤΙΟ ΕΞΟΔΟΥ: ΔΡΟΜΟΙ ΚΑΙ ΟΔΟΦΡΑΓΜΑΤΑ

ΟΝΟΜΑ: ΤΜΗΜΑ:

1. Σημειώνουμε δίπλα σε κάθε πρόταση αν είναι ορθή (Ο) ή λανθασμένη (Λ) με βάση αυτά που ισχύουν στην Κύπρο.

<i>πρόταση</i>	Ο ή Λ
ζ. Στους αυτοκινητόδρομους κινούνται και τρένα.	
η. Δεν υπάρχουν δρόμοι για να πάμε στις κατεχόμενες περιοχές.	
θ. Οι δρόμοι συνδέουν τις πόλεις μεταξύ τους.	
ι. Στους δρόμους κινούνται αυτοκίνητα, ταξί, λεωφορεία, μοτοσικλέτες.	
ια. Όλα τα οδοφράγματα στην Κύπρο είναι κλειστά.	
ιβ. Οι αυτοκινητόδρομοι στην Κύπρο περνούν από τις οροσειρές.	
ιγ. Για να πάμε στις κατεχόμενες περιοχές περνάμε από τα σημεία διέλευσης.	

2. Παρατηρούμε τον χάρτη και σημειώνουμε προς ποια κατεύθυνση κινούμαστε για να πάμε από τον έναν τόπο στον άλλο. Χρησιμοποιούμε τις κατευθύνσεις του ορίζοντα.

- α. Από τη Λεμεσό προς την Πάφο κινούμαστε
- β. Από τη Λευκωσία στην Κερύνεια κινούμαστε
- γ. Από τη Λευκωσία προς τη Λάρνακα κινούμαστε
- δ. Από τη Λάρνακα προς τη Λεμεσό κινούμαστε
- ε. Από τη Λεμεσό προς τη Λάρνακα κινούμαστε

