

ΥΠΟΥΡΓΕΙΟ ΠΑΙΔΕΙΑΣ, ΑΘΛΗΤΙΣΜΟΥ ΚΑΙ ΝΕΟΛΑΙΑΣ  
ΔΙΕΥΘΥΝΣΗ ΜΕΣΗΣ ΤΕΧΝΙΚΗΣ ΚΑΙ ΕΠΑΓΓΕΛΜΑΤΙΚΗΣ ΕΚΠΑΙΔΕΥΣΗΣ  
ΚΑΙ ΚΑΤΑΡΤΙΣΗΣ

ΕΝΙΑΙΑ ΓΡΑΠΤΗ ΑΞΙΟΛΟΓΗΣΗ Β' ΤΕΤΡΑΜΗΝΟΥ 20 22 - 20 23

Β' ΤΑΞΗΣ ΤΕΣΕΚ

ΣΕΙΡΑ Α'

ΘΕΩΡΗΤΙΚΗ ΚΑΤΕΥΘΥΝΣΗ

ΗΜΕΡΟΜΗΝΙΑ : Τετάρτη, 24 Μαΐου 2023

ΕΞΕΤΑΖΟΜΕΝΟ ΜΑΘΗΜΑ: ΥΓΙΕΙΝΗ ΚΑΙ ΑΣΦΑΛΕΙΑ ΟΙΝΟΠΟΙΕΙΟΥ

ΚΩΔΙΚΟΣ ΜΑΘΗΜΑΤΟΣ : thoa 202

ΣΥΝΟΛΙΚΗ ΔΙΑΡΚΕΙΑ ΓΡΑΠΤΗΣ ΕΞΕΤΑΣΗΣ: 90' λεπτά

ΤΟ ΕΞΕΤΑΣΤΙΚΟ ΔΟΚΙΜΙΟ ΜΑΖΙ ΜΕ ΤΟΥΣ ΒΟΗΘΗΤΙΚΟΥΣ ΠΙΝΑΚΕΣ ΚΑΙ ΤΟ ΤΥΠΟΛΟΓΙΟ ΑΠΟΤΕΛΕΙΤΑΙ ΑΠΟ ΤΡΕΙΣ ( 3 ) ΣΕΛΙΔΕΣ.

ΤΑ ΜΕΡΗ ΤΟΥ ΕΞΕΤΑΣΤΙΚΟΥ ΔΟΚΙΜΙΟΥ ΕΙΝΑΙ ΤΡΙΑ (Α', Β' ΚΑΙ Γ').

**ΟΔΗΓΙΕΣ (για τους εξεταζόμενους)**

1. Να απαντήσετε **ΟΛΑ** τα ερωτήματα πάνω στο εξεταστικό δοκίμιο.
2. Το δοκίμιο αποτελείται από τρία μέρη (Α', Β' και Γ').
3. Να μη γράψετε πουθενά το όνομα σας στο εξεταστικό δοκίμιο εκτός του καθορισμένου χώρου στο χαρτονάκι που σας έχει δοθεί.
4. Να απαντήσετε σε όλα τα θέματα μόνο με πένα χρώματος μπλε ανεξίτηλης μελάνης. Μολύβι επιτρέπεται, μόνο αν το ζητάει η εκφώνηση, και μόνο για σχήματα, πίνακες, διαγράμματα κλπ.
5. Απαγορεύεται η χρήση διορθωτικού υγρού και διορθωτικής ταινίας.
6. Επιτρέπεται η χρήση μη προγραμματιζόμενης υπολογιστικής μηχανής.

**ΣΑΣ ΕΥΧΟΜΑΣΤΕ ΚΑΛΗ ΕΠΙΤΥΧΙΑ**

**ΟΔΗΓΙΕΣ (για την επιτροπή εξετάσεων τετραμήνων)**

**ΤΟ ΕΞΕΤΑΣΤΙΚΟ ΔΟΚΙΜΙΟ ΝΑ ΕΚΤΥΠΩΘΕΙ: ΕΓΧΡΩΜΟ**

**ΜΕΡΟΣ Α:** Αποτελείται από 6 ερωτήσεις. Κάθε ερώτηση βαθμολογείται με 8 μονάδες. Να απαντήσετε σε όλες τις ερωτήσεις.

1. Να δώσετε τον ορισμό του ήχου;

.....  
.....  
.....  
.....

2. Τι είναι ο θόρυβος?

.....  
.....  
.....

3. Α': Οι δυνατοί ήχοι σε ένα οινόποιείο δεν επηρεάζουν την υγεία των υπαλλήλων.  
Σ / Λ

Β': Μια σωστή πρακτική είναι να διαβάζουμε τις οδηγίες των μηχανημάτων πριν την χρήση τους.  
Σ / Λ

4. Να κυκλώσετε την ορθή απάντηση.





(Α) Οι σημάνσεις που πρέπει να υπάρχουν σε ένα χώρο εργασίας είναι:

- (α) Απαγόρευσης (β) Προειδοποίησης  
(γ) Υποχρέωσης (δ) Όλα τα πιο πάνω

(Β) Σε ένα οινόποιείο πρέπει να ακολουθούνται κάποιοι κανονισμοί. Αυτοί είναι:

- (1) Απαγόρευση καπνίσματος (2) Εκπαίδευση προσωπικού  
(3) Χρήση ειδικής στολής (4) Όλα τα πιο πάνω

5. Να γράψετε τι σημαίνουν τα πιο κάτω σήματα

(a) 	.....	(b) 	.....
(c) 	.....	(d) 	.....

6. Να συμπληρώσετε τα κενά στην πρόταση.

Η ..... έχει πάντα ..... κόστος από το κόστος που απαιτείται για την ..... της ..... και την ..... των ζημιών μετά από αυτή.

**ΜΕΡΟΣ Β: Αποτελείται από 4 ερωτήσεις. Η κάθε ερώτηση βαθμολογείται με 10 μονάδες. Να απαντήσετε σε όλες τις ερωτήσεις.**

7. Να αναφέρετε τρία μέτρα πρόληψης από τον θόρυβο.

.....  
.....  
.....

8. Ποιές είναι οι άμεσες ενέργειες που πρέπει να γίνουν σε περίπτωση ατυχήματος που οφείλεται σε επαφή με τον ηλεκτρισμό;

.....  
.....  
.....

9. Τι θα συμβεί αν γίνει ανάμειξη Χλωρίνης με Αμμωνία;

.....  
.....  
.....

10. Τι είναι το τρίγωνο της φωτιάς; Εξηγείστε.

.....  
.....  
.....  
.....

**ΜΕΡΟΣ Γ: Αποτελείται από 1 ερώτηση. Η ερώτηση βαθμολογείται με 12 μονάδες.**

11.Α. Τι είναι η πρόληψη σε ένα χώρο εργασίας και γιατί είναι τόσο σημαντικό;

.....  
.....  
.....  
.....

Β. Να αναφέρετε πέντε (5) μέτρα πρόληψης ατυχημάτων από τον ηλεκτρισμό.

.....  
.....  
.....  
.....

**ΤΕΛΟΣ ΕΞΕΤΑΣΤΙΚΟΥ ΔΟΚΙΜΙΟΥ**