

ΥΠΟΥΡΓΕΙΟ ΠΑΙΔΕΙΑΣ, ΑΘΛΗΤΙΣΜΟΥ ΚΑΙ ΝΕΟΛΑΙΑΣ ΔΙΕΥΘΥΝΣΗ
ΜΕΣΗΣ ΤΕΧΝΙΚΗΣ ΕΠΑΓΓΕΛΜΑΤΙΚΗΣ ΕΚΠΑΙΔΕΥΣΗΣ ΚΑΙ
ΚΑΤΑΡΤΙΣΗΣ

ΕΝΙΑΙΑ ΓΡΑΠΤΗ ΑΞΙΟΛΟΓΗΣΗ Β' ΤΕΤΡΑΜΗΝΟΥ 2022 - 23
Β' ΤΑΞΗΣ ΤΕΣΕΚ

ΣΕΙΡΑ Α'

ΠΡΑΚΤΙΚΗ ΚΑΤΕΥΘΥΝΣΗ

ΗΜΕΡΟΜΗΝΙΑ: Δευτέρα, 22 Μαΐου 2023

ΕΞΕΤΑΖΟΜΕΝΟ ΜΑΘΗΜΑ: ΣΧΕΔΙΑΣΜΟΣ ΕΣΩΤΕΡΙΚΟΥ ΧΩΡΟΥ II (ΠΚ)

ΚΩΔΙΚΟΣ ΜΑΘΗΜΑΤΟΣ: ed201

ΣΥΝΟΛΙΚΗ ΔΙΑΡΚΕΙΑ ΓΡΑΠΤΗΣ ΕΞΕΤΑΣΗΣ: 90' λεπτά

ΤΟ ΕΞΕΤΑΣΤΙΚΟ ΔΟΚΙΜΙΟ ΑΠΟΤΕΛΕΙΤΑΙ ΑΠΟ ΠΕΝΤΕ (5) ΣΕΛΙΔΕΣ
ΜΕΓΕΘΟΥΣ Α3

Ο/Η εξεταζόμενος/η να εφοδιαστεί με τα πιο κάτω:

- Το **εξεταστικό δοκίμιο Α3** (Μέρος Α' και Μέρος Β')
- Το **εξώφυλλο χαρτονάκι** για τα στοιχεία του
- **Όργανα σχεδίασης** (κλιμακόμετρο, τρίγωνο και ταυ)


ΟΔΗΓΙΕΣ (για τους εξεταζόμενους)

1. Να μη γράψετε πουθενά το όνομά σας ή οποιαδήποτε άλλα στοιχεία που να δηλώνουν την ταυτότητά σας στο εξεταστικό δοκίμιο εκτός του καθορισμένου χώρου στο χαρτονάκι που σας έχει δοθεί.
2. **Να απαντήσετε ΟΛΑ τα ερωτήματα πάνω στο εξεταστικό δοκίμιο.**
3. Οι **ερωτήσεις 1, 2 και 3 του ΜΕΡΟΥΣ Α'** να απαντηθούν στον ενδεικνυόμενο χώρο. Να απαντήσετε μόνο με **μπλε πένα** ανεξίτηλης μελάνης.
4. Η σχεδιαστική εργασία της **ερώτησης 4 του ΜΕΡΟΥΣ Β'** να εκτελεστεί στον ενδεικνυόμενο χώρο. Να χρησιμοποιήσετε μολύβι και χρωματιστά μολύβια για τη σχεδιαστική εργασία.
5. Τα υλικά και όργανα σχεδίασης που επιτρέπεται να χρησιμοποιηθούν είναι: σελτ μολυβιών, χρωματιστά μολύβια, μαύρα και έγχρωμα πενάκια / μαρκαδόροι, σβηστήρι, ξύστρα, σελτ τρίγωνο, ρίγα, ταυ και κολλητική ταινία.
6. Απαγορεύεται η χρήση διορθωτικού υγρού και διορθωτικής ταινίας.

ΣΑΣ ΕΥΧΟΜΑΣΤΕ ΚΑΘΕ ΕΠΙΤΥΧΙΑ


ΜΕΡΟΣ Α': (40 μονάδες)

1. Να κατονομάσετε δίπλα από κάθε φωτογραφία, το **είδος του φωτισμού** που φαίνεται σε κάθε μια από αυτές. (9 μονάδες)



2. Να κατονομάσετε πιο κάτω, τα **πέντε (5) είδη των φωτιστικών** που φαίνονται στην **ΕΙΚΟΝΑ 1** που ακολουθεί. (15 μονάδες)

ΕΙΚΟΝΑ 1



1.

2.

3.

4.

5.

3. Να αναφέρετε **τέσσερις (4) λόγους** για τους οποίους συστήνεται η **χρήση ψευδοροφών** σε εσωτερικούς χώρους. (16 μονάδες)

α.

.....

.....

β.

.....

.....

γ.

.....

.....

δ.

.....

.....

ΤΕΛΟΣ Α΄ ΜΕΡΟΥΣ
ΑΚΟΛΟΥΘΕΙ ΤΟ Β΄ ΜΕΡΟΣ

ΜΕΡΟΣ Β΄: (60 μονάδες)

4. Στο **ΣΧΗΜΑ 1** στη **Σελίδα 5**, δίνεται **ΚΑΤΟΨΗ ΕΝΙΑΙΟΥ ΧΩΡΟΥ ΚΑΘΙΣΤΙΚΟΥ-ΤΡΑΠΕΖΑΡΙΑΣ** σε κλίμακα 1:50. Στη διαρρύθμιση του χώρου φαίνεται μόνο η επίπλωση της τραπεζαρίας.

Σας ζητούνται τα ακόλουθα:

α) Χρησιμοποιώντας όργανα σχεδίασης, να σχεδιάσετε στην ίδια κλίμακα (1:50), **μια λειτουργική διάταξη όλων των στοιχείων του χώρου του καθιστικού** στη δοθείσα κάτοψη.

Η σχεδίαση θα πρέπει να περιλαμβάνει τα ακόλουθα:

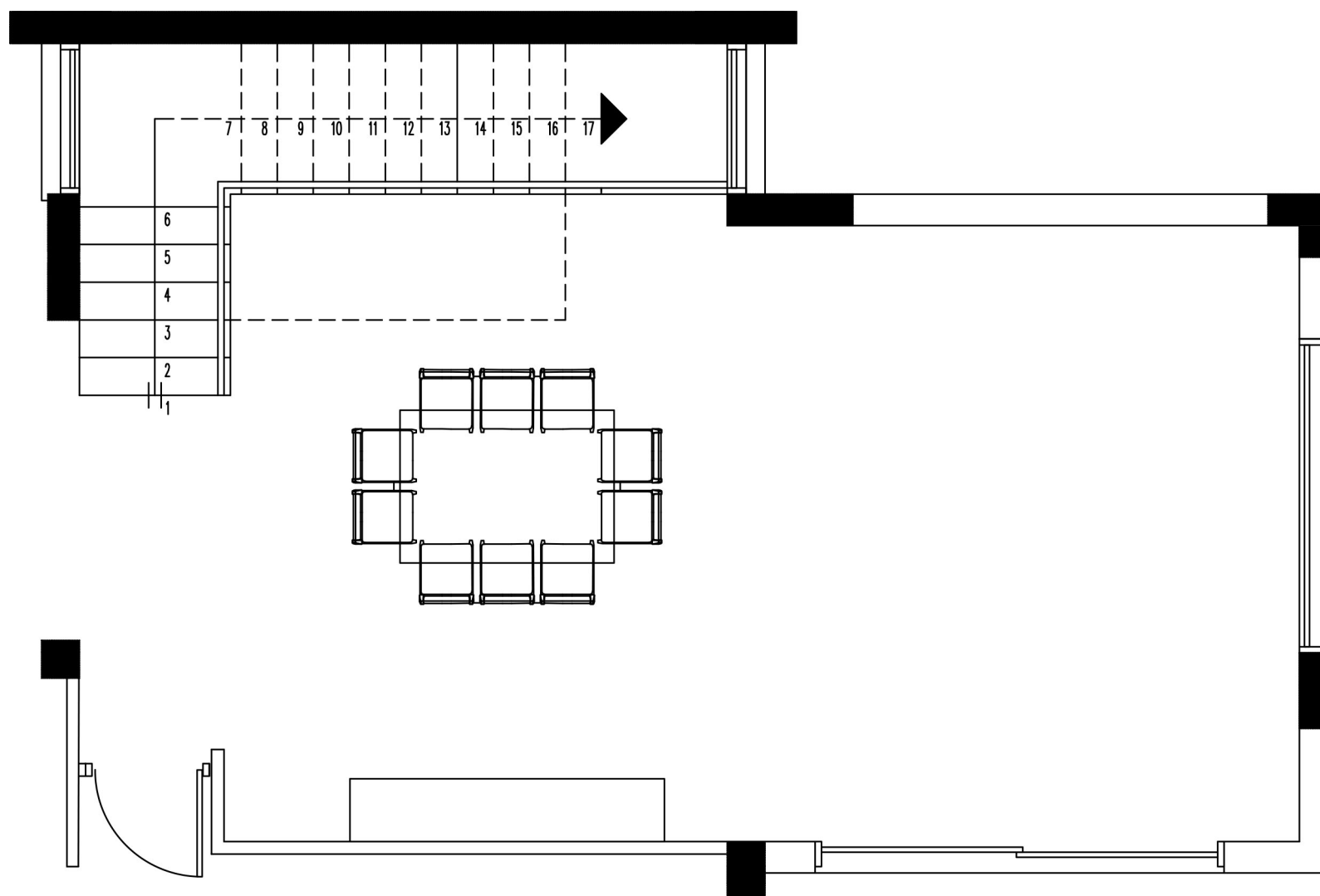
- Ένα (1) τριθέσιο καναπέ
- Ένα (1) διθέσιο καναπέ
- Δύο (2) πολυθρόνες ή δύο (2) μικρές πολυθρόνες / καρέκλες
- Ένα (1) κεντρικό τραπέζακι
- Δύο (2) Πλαϊνά / βοηθητικά τραπέζακια
- Δάπεδο (μόνο στον χώρο του καθιστικού)
- Τουλάχιστον τρία (3) συμπληρωματικά στοιχεία όπως φωτιστικά, χαλιά, φυτά

β) Να αποδώσετε με χρώμα όλα τα στοιχεία που προτείνετε για τα έπιπλα, το δάπεδο και τα συμπληρωματικά στοιχεία **μόνο στον χώρο του καθιστικού**.

Κριτήρια αξιολόγησης:

- Σχεδιασμός των επτά (7) λειτουργικών στοιχείων (14 μονάδες)
- Σχεδιασμός τριών (3) συμπληρωματικών στοιχείων (03 μονάδες)
- Σχεδιασμός δαπέδου (03 μονάδες)
- Ορθότητα και ακρίβεια σχεδίασης (15 μονάδες)
- Λειτουργική λύση και δημιουργικότητα (10 μονάδες)
- Πάχη και ποιότητα γραμμών, καθαρότητα (05 μονάδες)
- Απόδοση χρωμάτων και φωτοσκιάσεων (10 μονάδες)

Σύνολο : **(60 μονάδες)**



ΚΑΤΟΨΗ ΕΝΙΑΙΟΥ ΧΩΡΟΥ ΚΑΘΙΣΤΙΚΟΥ-ΤΡΑΠΕΖΑΡΙΑΣ

Κλίμακα 1:50

ΣΧΗΜΑ 1

ΤΕΛΟΣ ΕΞΕΤΑΣΤΙΚΟΥ ΔΟΚΙΜΙΟΥ