

ΥΠΟΥΡΓΕΙΟ ΠΑΙΔΕΙΑΣ, ΑΘΛΗΤΙΣΜΟΥ ΚΑΙ ΝΕΟΛΑΙΑΣ ΔΙΕΥΘΥΝΣΗ
ΜΕΣΗΣ ΤΕΧΝΙΚΗΣ ΕΠΑΓΓΕΛΜΑΤΙΚΗΣ ΕΚΠΑΙΔΕΥΣΗΣ ΚΑΙ
ΚΑΤΑΡΤΙΣΗΣ

ΕΝΙΑΙΑ ΓΡΑΠΤΗ ΑΞΙΟΛΟΓΗΣΗ Β' ΤΕΤΡΑΜΗΝΟΥ 2022 - 23
Β' ΤΑΞΗΣ ΤΕΣΕΚ

ΣΕΙΡΑ Α'

ΠΡΑΚΤΙΚΗ ΚΑΤΕΥΘΥΝΣΗ

ΗΜΕΡΟΜΗΝΙΑ: Δευτέρα, 22 Μαΐου 2023


ΕΞΕΤΑΖΟΜΕΝΟ ΜΑΘΗΜΑ: ΣΧΕΔΙΑΣΜΟΣ ΕΣΩΤΕΡΙΚΟΥ ΧΩΡΟΥ II (ΠΚ)

ΚΩΔΙΚΟΣ ΜΑΘΗΜΑΤΟΣ: ed201

ΛΥΣΕΙΣ

ΜΕΡΟΣ Α': (40 μονάδες)


1. Να κατονομάσετε δίπλα από κάθε φωτογραφία το **είδος του φωτισμού** που φαίνεται σε κάθε μια από αυτές. (9 μονάδες)



Ατμοσφαιρικός φωτισμός




Ειδικός φωτισμός



Γενικός φωτισμός

2. Να κατονομάσετε πιο κάτω, τα **πέντε (5) είδη των φωτιστικών** που φαίνονται στην **ΕΙΚΟΝΑ 1** που ακολουθεί. (15 μονάδες)

ΕΙΚΟΝΑ 1



1. Φωτιστικό τοίχου , επιτοίχιο

2. Κρεμαστό φωτιστικό

3. Φωτιστικό δαπέδου

4. Φωτιστικό οροφής

5. Επιτραπέζιο φωτιστικό

3. Να αναφέρετε **τέσσερις (4) λόγους** για τους οποίους συστήνεται η **χρήση ψευδοροφών σε εσωτερικούς χώρους**. (16 μονάδες)

- Απόκρυψη/επιδιόρθωση κατασκευαστικών ατελειών της οροφής
- Μείωση του ύψους του χώρου
- Εξασφάλιση ηχομόνωσης και θερμομόνωσης
- Εκμετάλλευση του χώρου μεταξύ ψευδοροφής και πλάκας, για λειτουργικούς σκοπούς
- Ευκολία στην τοποθέτηση φωτιστικών χωρίς να γίνεται επέμβαση στην οροφή
- Δημιουργία διαφορετικών επιπέδων με τέτοιο τρόπο, ώστε να ορίζουν και το γενικό ύψος της διακόσμησης του χώρου

ΤΕΛΟΣ Α΄ ΜΕΡΟΥΣ
ΑΚΟΛΟΥΘΕΙ ΤΟ Β΄ ΜΕΡΟΣ

ΜΕΡΟΣ Β΄: (60 μονάδες)

4. Στο **ΣΧΗΜΑ 1** στη **Σελίδα 5**, δίνεται **ΚΑΤΟΨΗ ΕΝΙΑΙΟΥ ΧΩΡΟΥ ΚΑΘΙΣΤΙΚΟΥ-ΤΡΑΠΕΖΑΡΙΑΣ** σε κλίμακα 1:50. Στη διαρρύθμιση του χώρου φαίνεται μόνο η επίπλωση της τραπεζαρίας.

Σας ζητούνται τα ακόλουθα:

α) Χρησιμοποιώντας όργανα σχεδίασης, να σχεδιάσετε στην ίδια κλίμακα (1:50), **μια λειτουργική διάταξη όλων των στοιχείων του χώρου του καθιστικού** στη δοθείσα κάτοψη.

Η σχεδίαση θα πρέπει να περιλαμβάνει τα ακόλουθα:

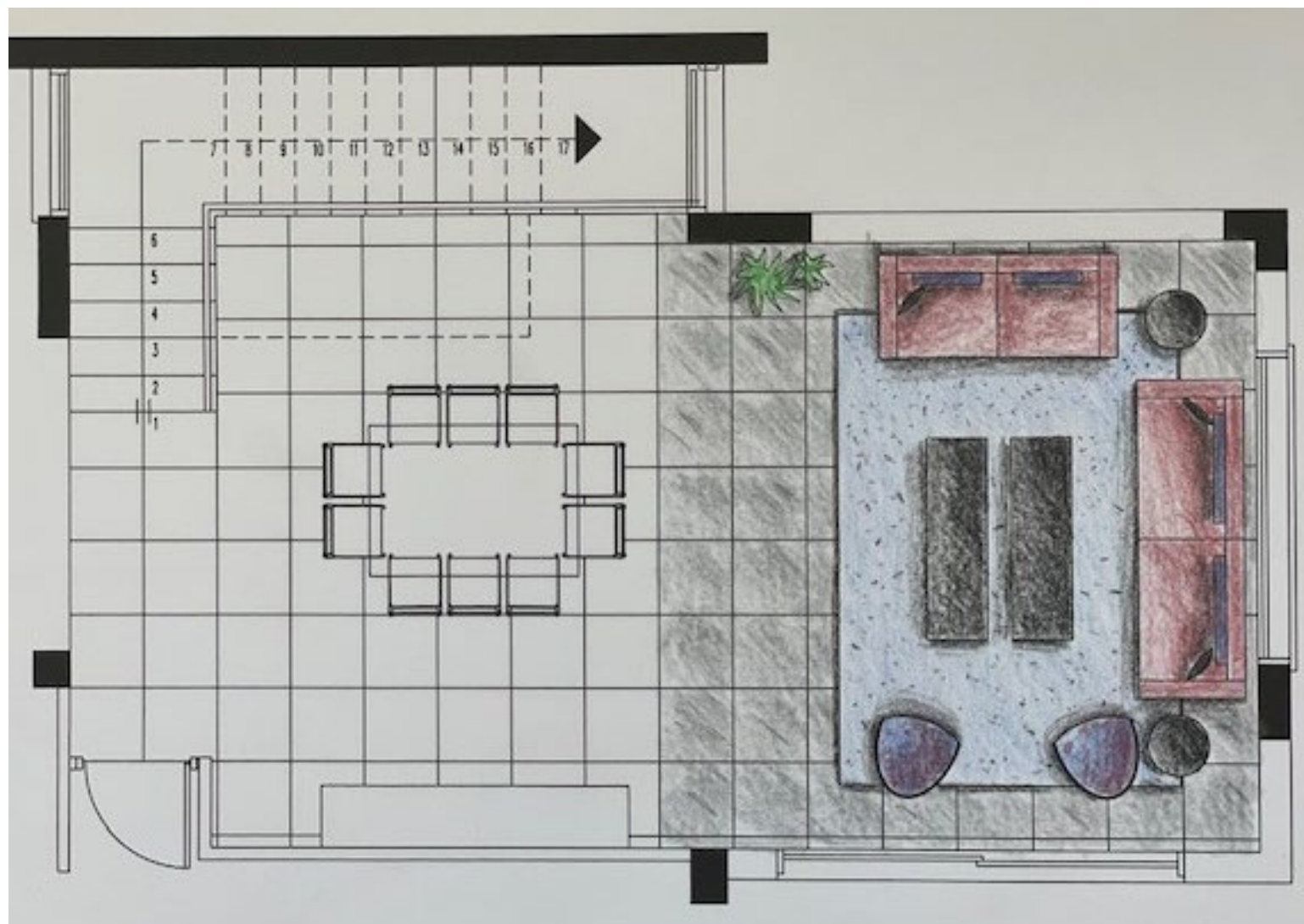
- Ένα (1) τριθέσιο καναπέ
- Ένα (1) διθέσιο καναπέ
- Δύο (2) πολυθρόνες ή δύο (2) μικρές πολυθρόνες / καρέκλες
- Ένα (1) κεντρικό τραπέζακι
- Δύο (2) Πλαϊνά / βοηθητικά τραπέζακια
- Δάπεδο (μόνο στον χώρο του καθιστικού)
- Τουλάχιστον τρία (3) συμπληρωματικά στοιχεία όπως φωτιστικά, χαλιά, φυτά

β) Να αποδώσετε με χρώμα όλα τα στοιχεία που προτείνετε για τα έπιπλα, το δάπεδο και τα συμπληρωματικά στοιχεία **μόνο στον χώρο του καθιστικού**.

Κριτήρια αξιολόγησης:

- Σχεδιασμός των επτά (7) λειτουργικών στοιχείων (14 μονάδες)
- Σχεδιασμός τριών (3) συμπληρωματικών στοιχείων (03 μονάδες)
- Σχεδιασμός δαπέδου (03 μονάδες)
- Ορθότητα και ακρίβεια σχεδίασης (15 μονάδες)
- Λειτουργική λύση και δημιουργικότητα (10 μονάδες)
- Πάχη και ποιότητα γραμμών, καθαρότητα (05 μονάδες)
- Απόδοση χρωμάτων και φωτοσκιάσεων (10 μονάδες)

Σύνολο : **(60 μονάδες)**



ΚΑΤΟΨΗ ΕΝΙΑΙΟΥ ΧΩΡΟΥ ΚΑΘΙΣΤΙΚΟΥ-ΤΡΑΠΕΖΑΡΙΑΣ

Κλίμακα 1:50

ΣΧΗΜΑ 1

ΤΕΛΟΣ ΕΞΕΤΑΣΤΙΚΟΥ ΔΟΚΙΜΙΟΥ