

ΥΠΟΥΡΓΕΙΟ ΠΑΙΔΕΙΑΣ, ΑΘΛΗΤΙΣΜΟΥ ΚΑΙ ΝΕΟΛΑΙΑΣ
ΔΙΕΥΘΥΝΣΗ ΜΕΣΗΣ ΤΕΧΝΙΚΗΣ ΚΑΙ ΕΠΑΓΓΕΛΜΑΤΙΚΗΣ ΕΚΠΑΙΔΕΥΣΗΣ
ΚΑΙ ΚΑΤΑΡΤΙΣΗΣ

ΕΝΙΑΙΑ ΓΡΑΠΤΗ ΑΞΙΟΛΟΓΗΣΗ Β' ΤΕΤΡΑΜΗΝΟΥ 20 22 - 20 23

Β' ΤΑΞΗΣ ΤΕΣΕΚ
ΣΕΙΡΑ Α'

ΠΡΑΚΤΙΚΗ ΚΑΤΕΥΘΥΝΣΗ

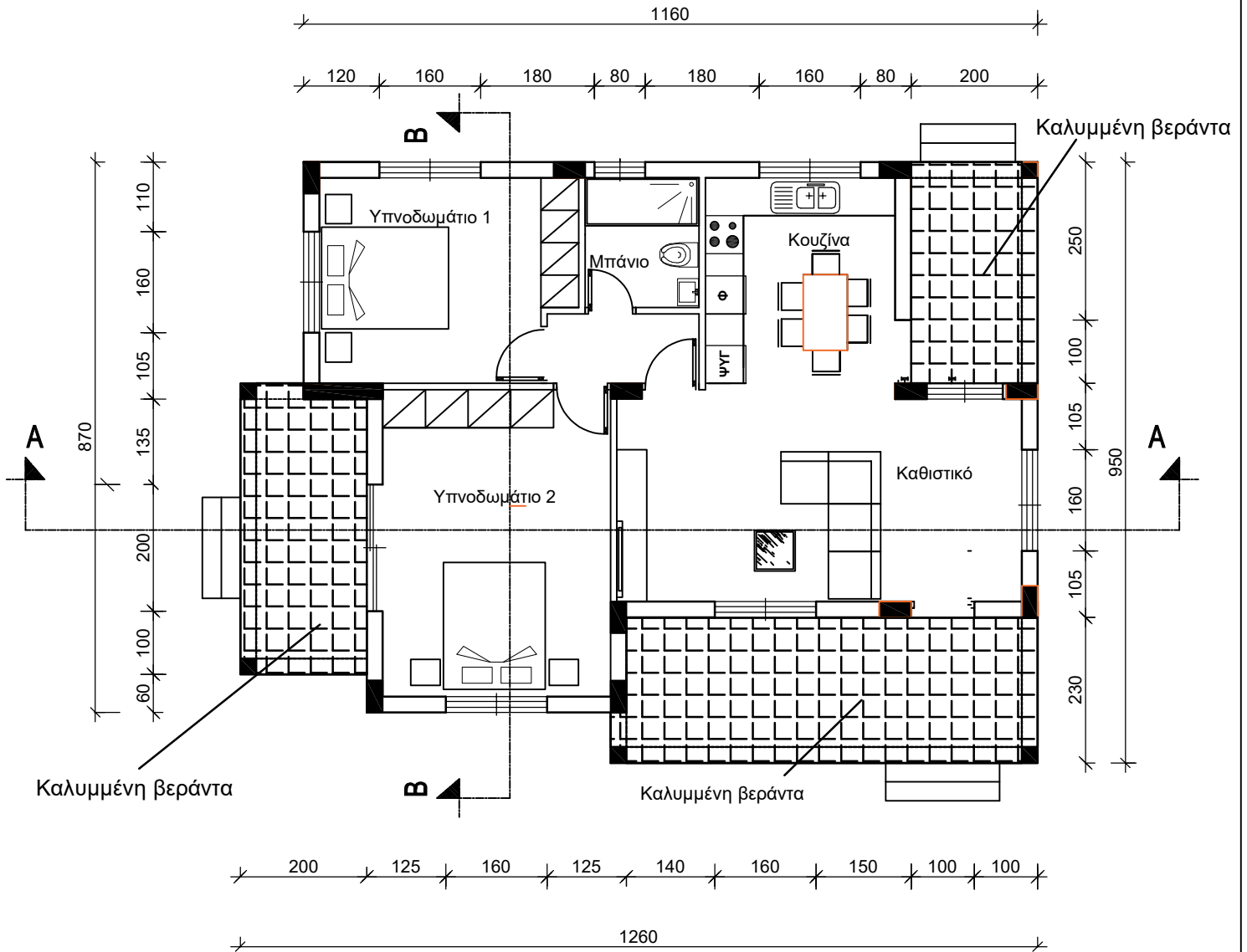
ΗΜΕΡΟΜΗΝΙΑ : Δευτέρα, 22 Μαΐου 2023

ΕΞΕΤΑΖΟΜΕΝΟ ΜΑΘΗΜΑ: Σχεδίαση με Ηλεκτρονικό Υπολογιστή

ΚΩΔΙΚΟΣ ΜΑΘΗΜΑΤΟΣ : ds201

ΛΥΣΕΙΣ

ΠΑΡΑΡΤΗΜΑ



ΚΑΤΟΨΗ ΙΣΟΓΕΙΟΥ

ΚΛΙΜΑΚΑ: 1:100

ΦΥΛΛΟ ΣΧΕΔΙΑΣΗΣ 1 - ΜΕΡΟΣ Α΄

Στο **ΠΑΡΑΡΤΗΜΑ** δίνεται η κάτοψη κατοικίας.
Στο **Σχήμα 1** δίνεται μέρος της κάτοψη κατοικίας του **ΠΑΡΑΡΤΗΜΑΤΟΣ**.
Όλα τα σχέδια είναι σε κλίμακα 1:100.

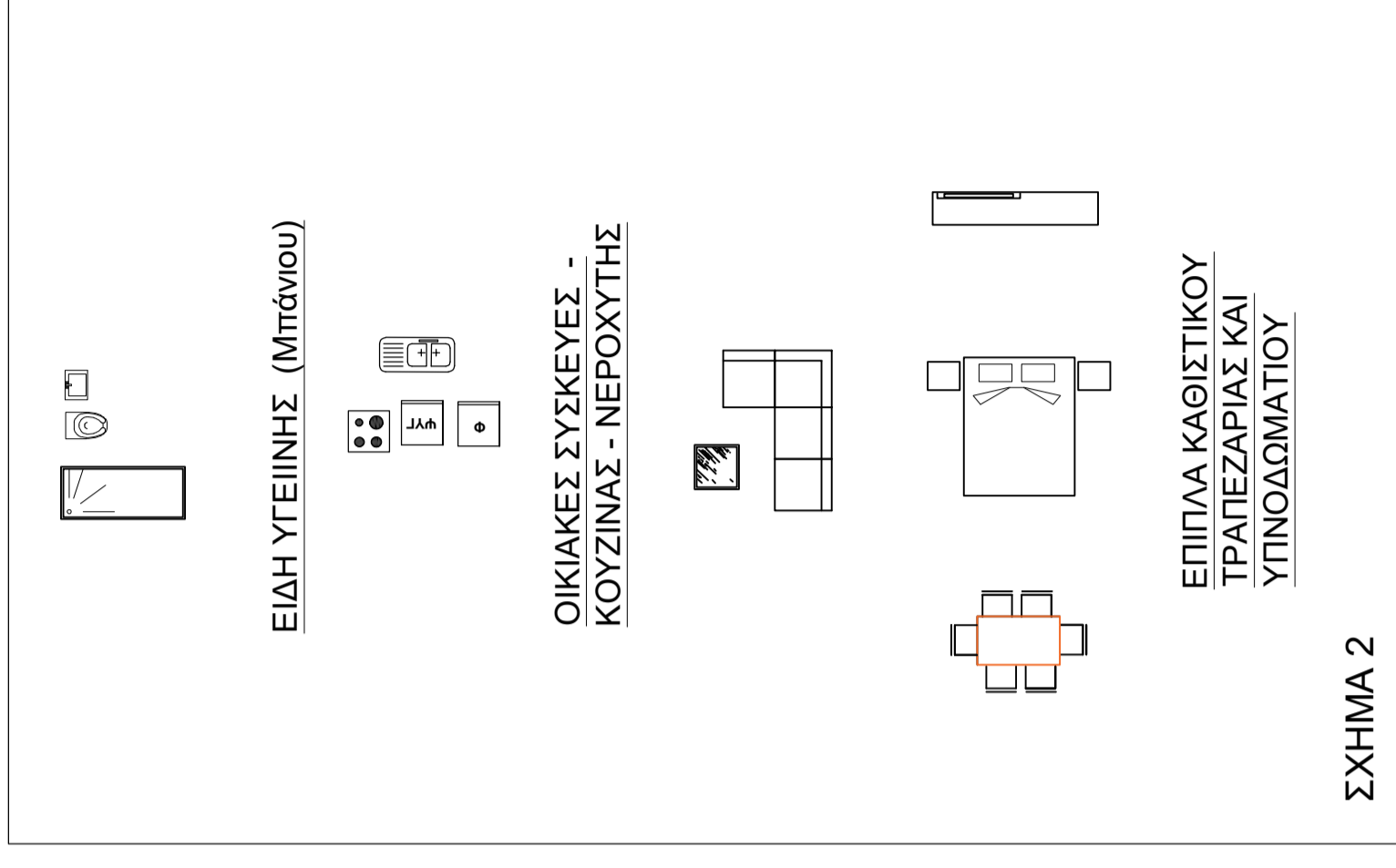
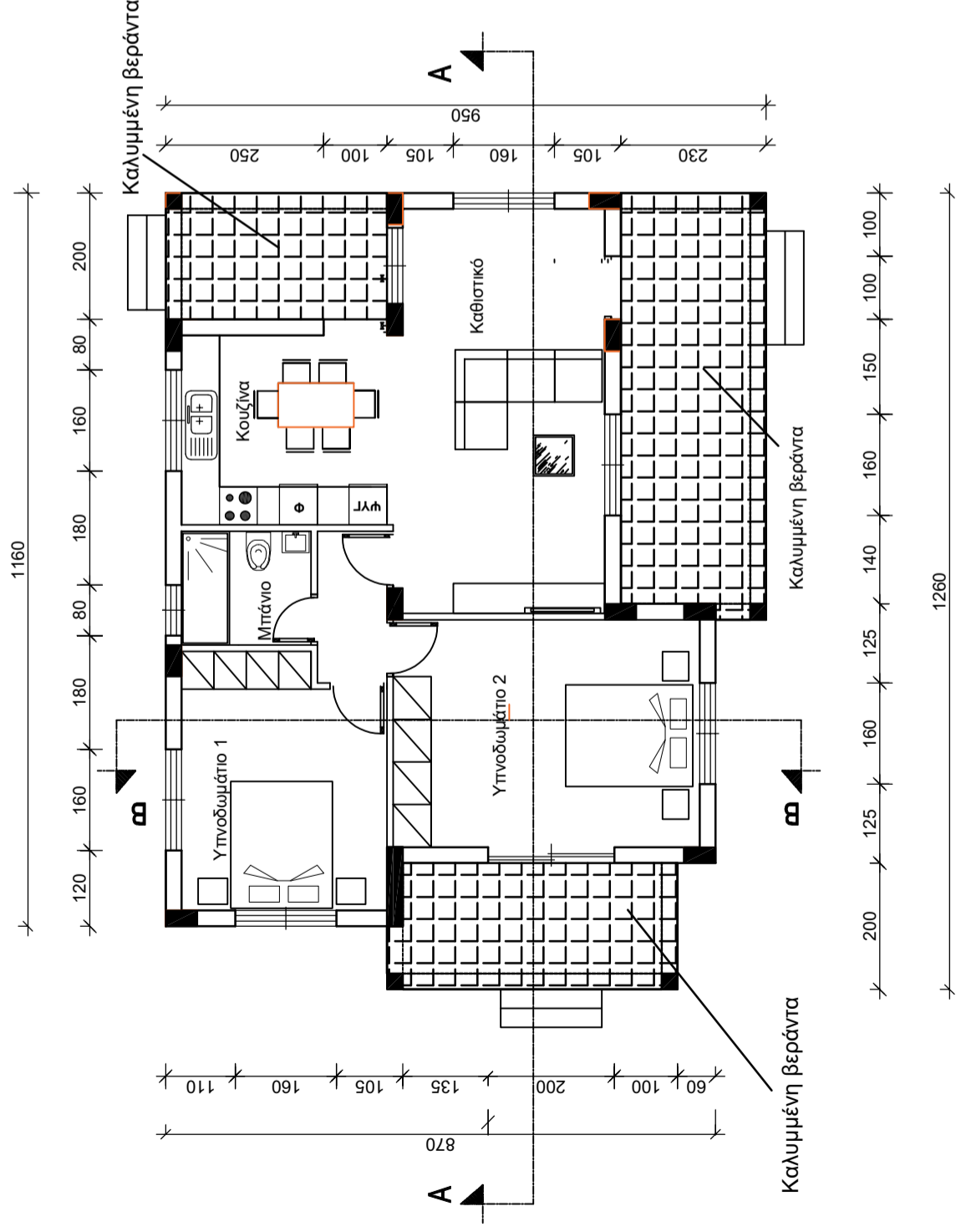
ΑΣΚΗΣΗ 1 (15 μονάδες)

Στο **Σχήμα 1** να σχεδιάσετε όλες τις εσωτερικές τοιχοποιίες.

ΑΣΚΗΣΗ 2 (15 μονάδες)

Στο **Σχήμα 1** να τοποθετήσετε:

- (α) τις εξωτερικές διαστάσεις
(β) τα έπιπλα καθιστικού, τραπεζαρίας και υπνοδωματίου, τις οικιακές συσκευές κουζίνας, τον νεροχύτη και τα είδη υγιεινής που σας δίνονται στο **Σχήμα 2**.



ΣΧΗΜΑ 2

ΚΑΤΟΨΗ ΙΣΟΓΕΙΟΥ

ΚΛΙΜΑΚΑ: 1:100

ΣΧΗΜΑ 1

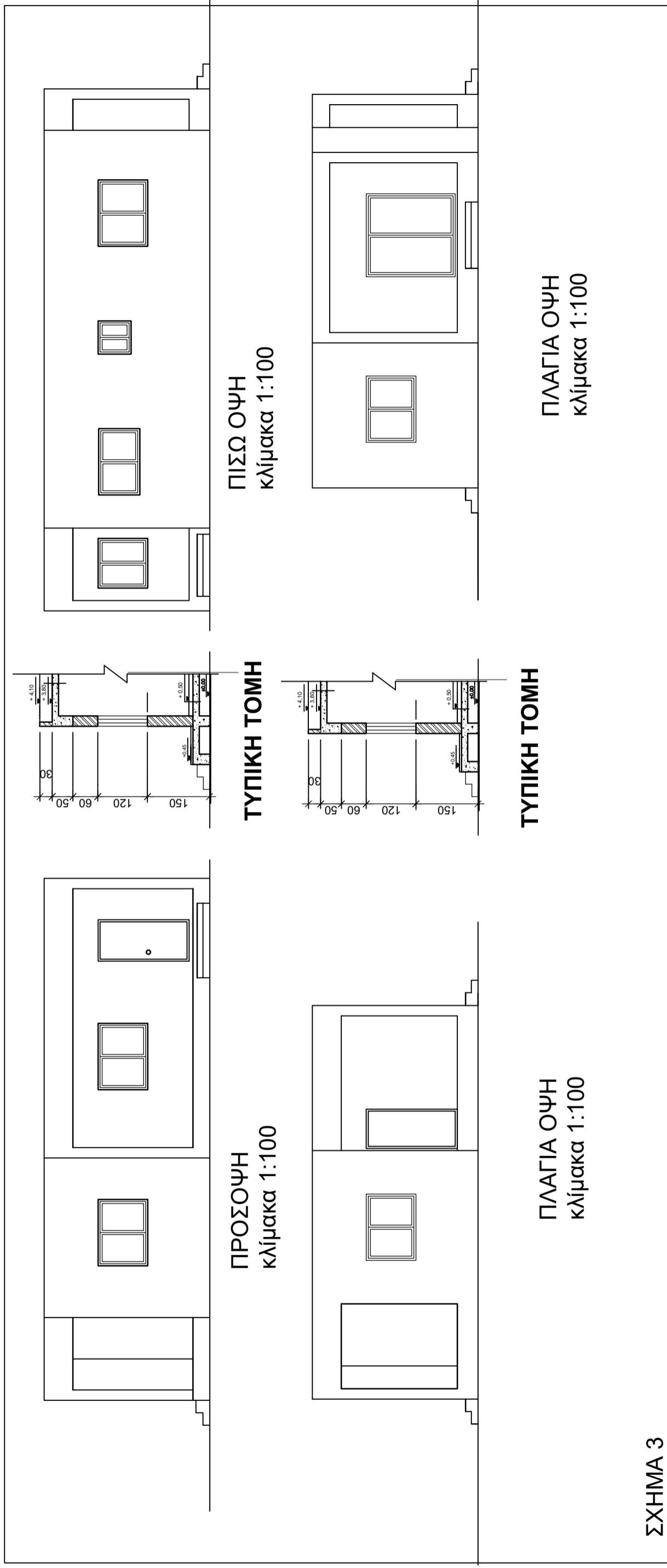
ΦΥΛΛΟ ΣΧΕΔΙΑΣΗΣ 2 - ΜΕΡΟΣ Β'

Όλα τα σχέδια είναι σε κλίμακα 1:100

ΑΣΚΗΣΗ 3 (30 μονάδες)

Να συμπληρώσετε σε κλίμακα 1:100 όλες τις όψεις του σχήματος 3 σύμφωνα με το σχέδιο της κάτοψης του παραρτήματος.

Πόρτες - παράθυρα να χρησιμοποιήσετε αυτά που σας δίνονται στο Σχήμα 4.

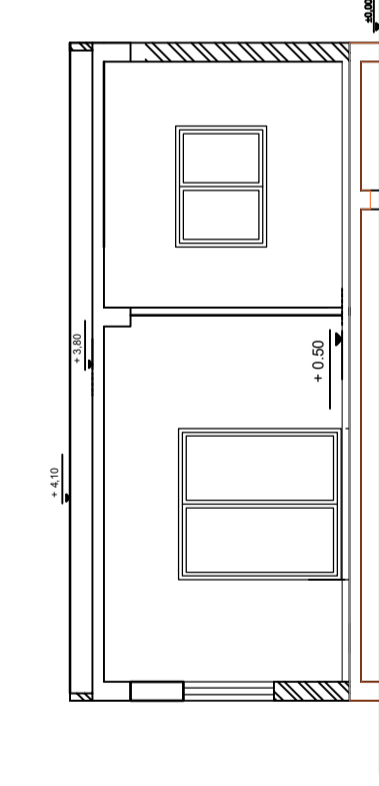


ΦΥΛΛΟ ΣΧΕΔΙΑΣΗΣ 3 - ΜΕΡΟΣ Β΄

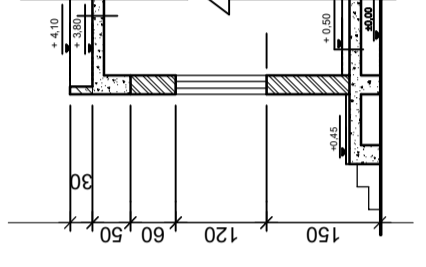
ΑΣΚΗΣΗ 4 (40 μονάδες)

Στο **Σχήμα 4 του φύλλου σχεδίασης 2** δίνεται λεπτομέρεια Τομής Α - Α σε κλίμακα 1:100. Πόρτες - παράθυρα να χρησιμοποιήσετε αυτά που σας δίνονται στο **Σχήμα 4 του ίδιου φύλλου σχεδίασης**.

Να ολοκληρωθεί η σχεδίαση της Τομής Α-Α στο σχήμα 5 και όπως φαίνεται στην κάτωψη κατοικίας του **ΠΑΡΑΡΤΗΜΑΤΟΣ**.



ΤΟΜΗ Α-Α ΚΑΤΟΙΚΙΑΣ ΤΟΥ ΠΑΡΑΡΤΗΜΑΤΟΣ
κλίμακα 1:100



ΤΥΠΙΚΗ ΤΟΜΗ