

ΥΠΟΥΡΓΕΙΟ ΠΑΙΔΕΙΑΣ, ΑΘΛΗΤΙΣΜΟΥ ΚΑΙ ΝΕΟΛΑΙΑΣ
ΔΙΕΥΘΥΝΣΗ ΜΕΣΗΣ ΓΕΝΙΚΗΣ ΕΚΠΑΙΔΕΥΣΗΣ
ΔΙΕΥΘΥΝΣΗ ΜΕΣΗΣ ΤΕΧΝΙΚΗΣ ΚΑΙ ΕΠΑΓΓΕΛΜΑΤΙΚΗΣ ΕΚΠΑΙΔΕΥΣΗΣ
ΚΑΙ ΚΑΤΑΡΤΙΣΗΣ

ΕΝΙΑΙΑ ΓΡΑΠΤΗ ΑΞΙΟΛΟΓΗΣΗ Β' ΤΕΤΡΑΜΗΝΟΥ 20 22 - 20 23

Β' ΤΑΞΗΣ ΛΥΚΕΙΟΥ

ΣΕΙΡΑ Α'

ΗΜΕΡΟΜΗΝΙΑ : Πέμπτη, 18 Μαΐου 2023

ΕΞΕΤΑΖΟΜΕΝΟ ΜΑΘΗΜΑ: ΑΡΧΙΤΕΚΤΟΝΙΚΟ - ΤΕΧΝΙΚΟ ΣΧΕΔΙΟ

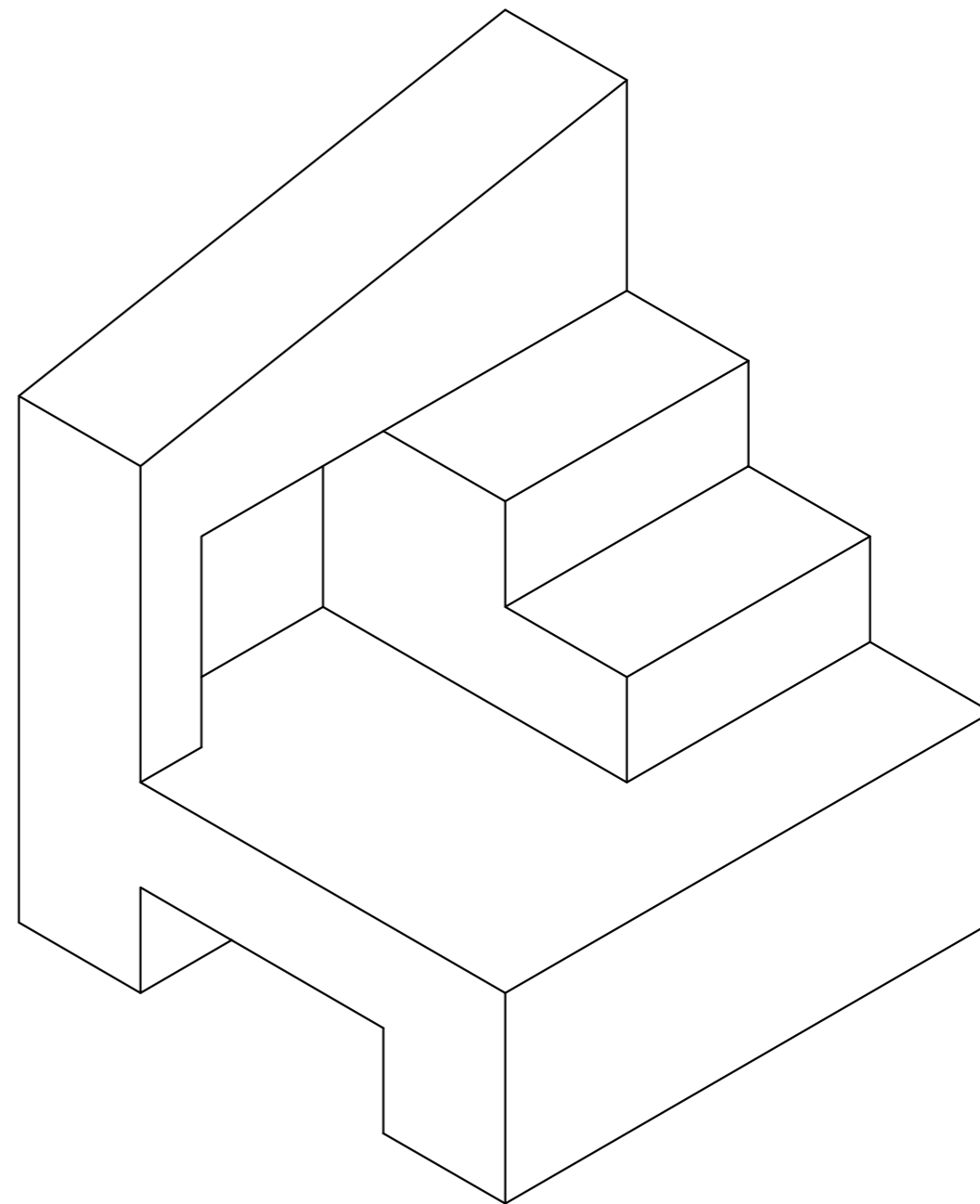
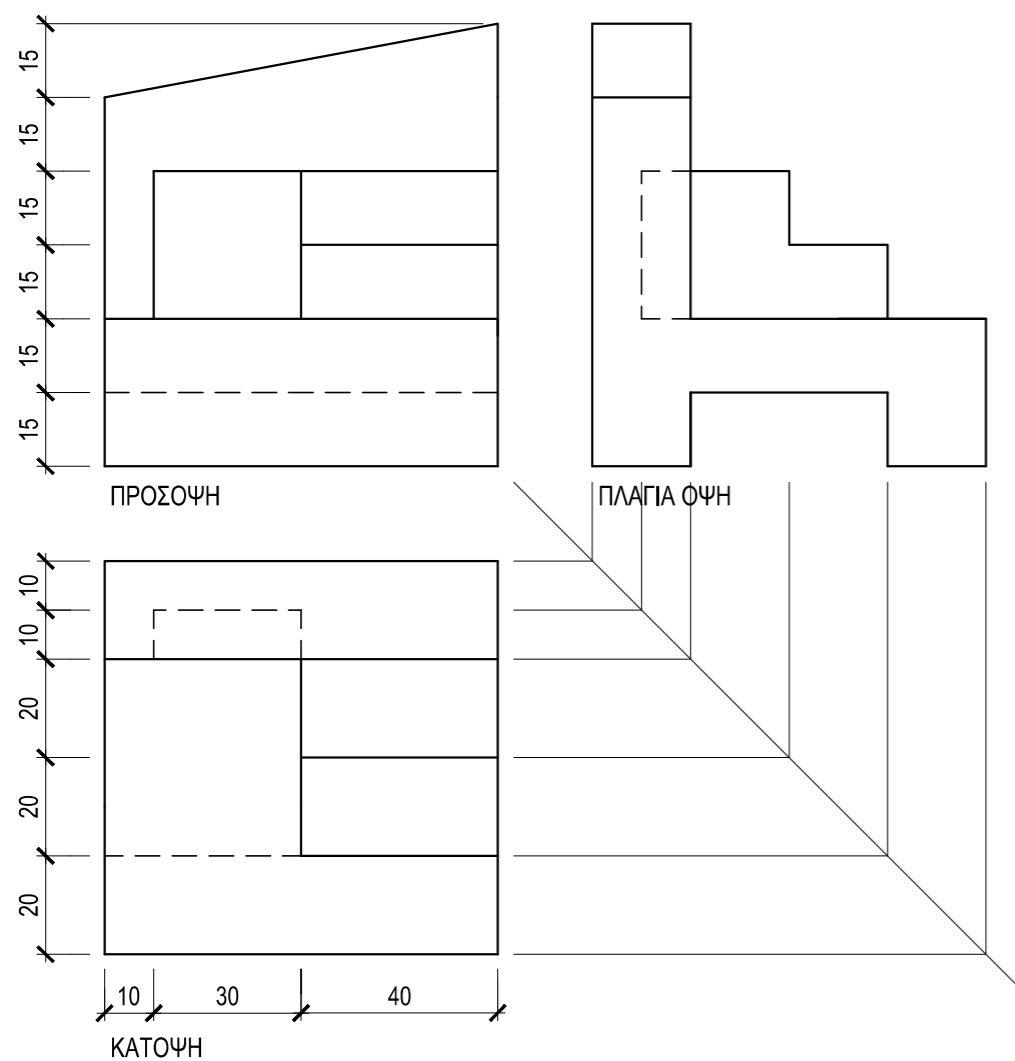
ΚΩΔΙΚΟΣ ΜΑΘΗΜΑΤΟΣ : Β023

ΛΥΣΕΙΣ

ΑΣΚΗΣΗ 1

Δίνεται η ορθογραφική προβολή στερεού (εκτός κλίμακας).
 Να σχεδιάσετε την ισομετρική προβολή του στερεού σε κλίμακα **1:1**,
 με την πρόσοψη στο δεξιό ισομετρικό άξονα.

Σημείωση: Οι διαστάσεις δίνονται σε **χιλιοστόμετρα (mm)**.

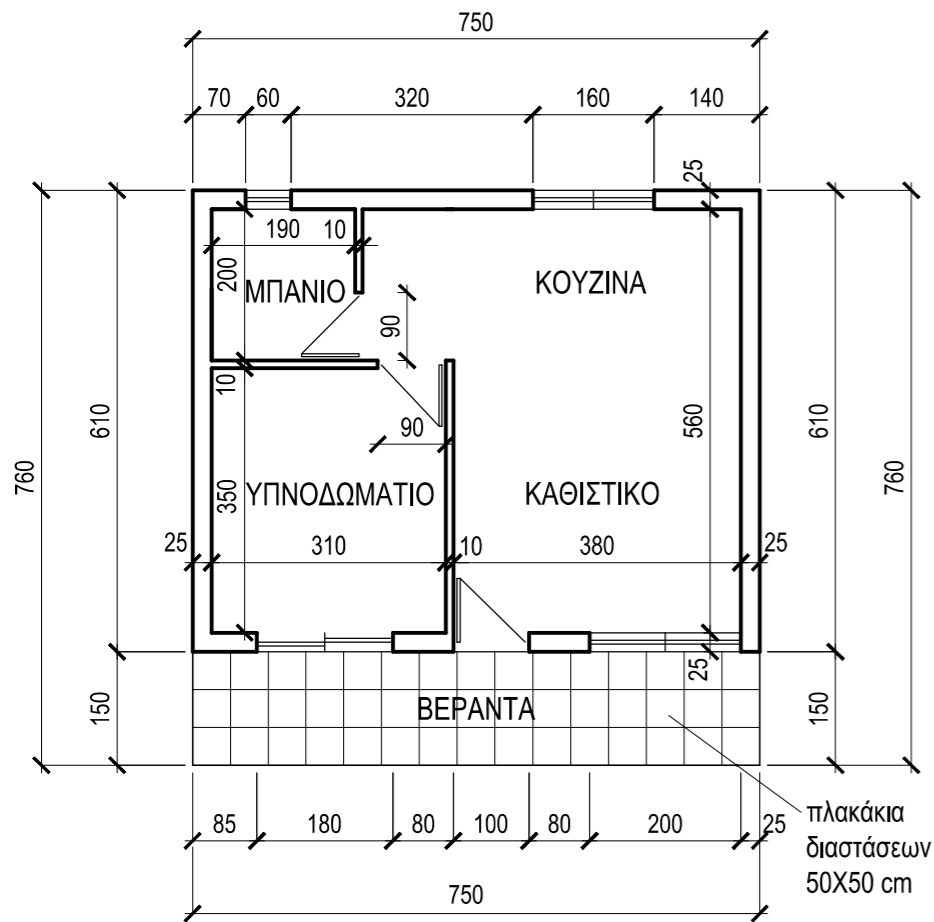


ΑΣΚΗΣΗ 2

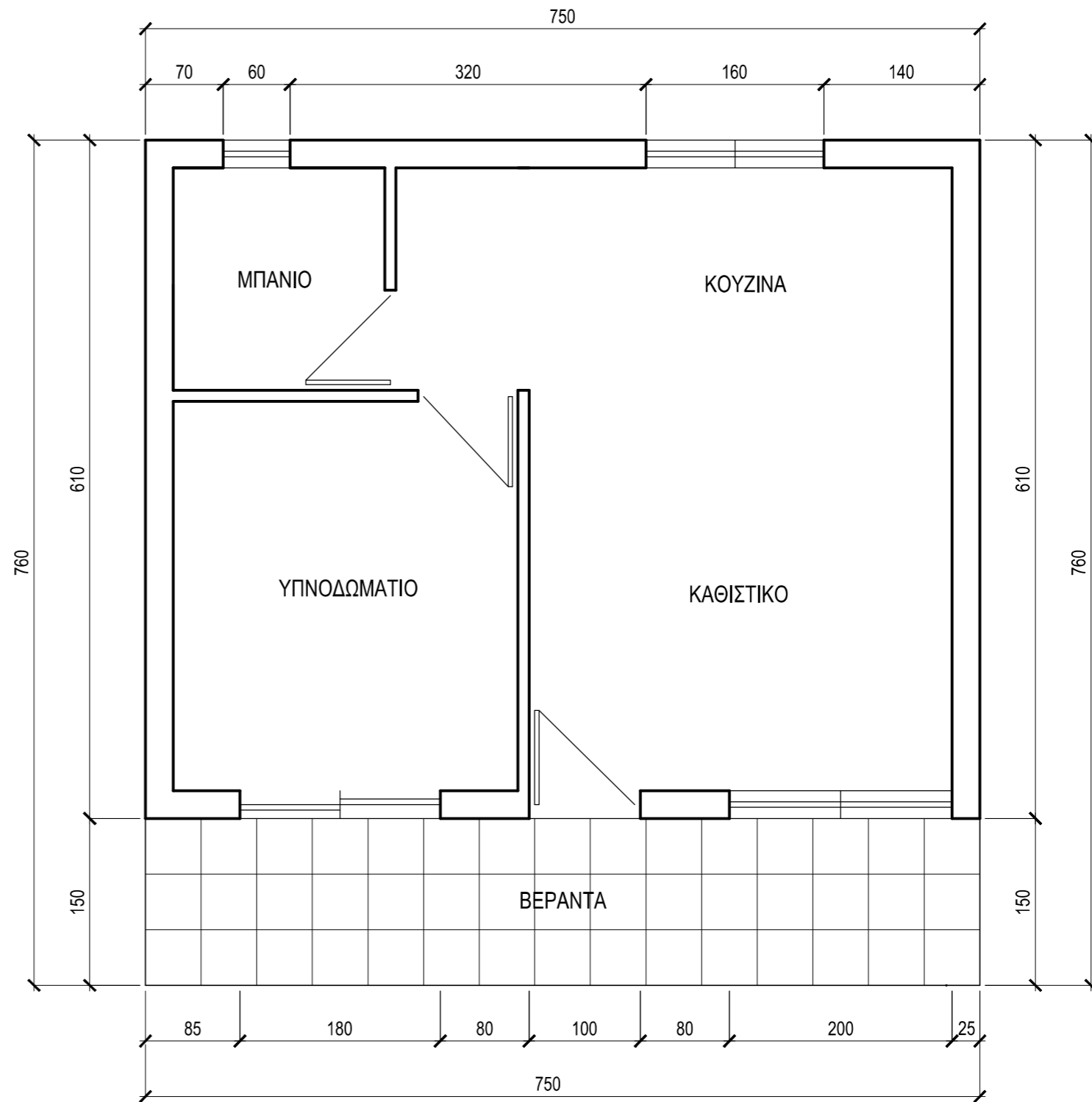
Δίνεται η κάτοψη μικρής κατοικίας σε κλίμακα 1:100.

- α) Να σχεδιάσετε την κάτοψη σε κλίμακα **1:50**.
- β) Να αναγράψετε **μόνο** τις εξωτερικές διαστάσεις.
- γ) Να αναγράψετε τον τίτλο (ΚΑΤΟΨΗ ΚΛ. 1:50) και τις ονομασίες των χώρων (ΚΑΘΙΣΤΙΚΟ, ΚΟΥΖΙΝΑ, ΥΠΝΟΔΩΜΑΤΙΟ, ΜΠΑΝΙΟ, ΒΕΡΑΝΤΑ).

Σημείωση: Οι διαστάσεις δίνονται σε εκατοστόμετρα (cm).



ΚΑΤΟΨΗ ΚΛ. 1 : 100



ΚΑΤΟΨΗ ΚΛ. 1 : 50