

ΥΠΟΥΡΓΕΙΟ ΠΑΙΔΕΙΑΣ, ΠΟΛΙΤΙΣΜΟΥ, ΑΘΛΗΤΙΣΜΟΥ ΚΑΙ ΝΕΟΛΑΙΑΣ
ΔΙΕΥΘΥΝΣΗ ΜΕΣΗΣ ΤΕΧΝΙΚΗΣ ΚΑΙ ΕΠΑΓΓΕΛΜΑΤΙΚΗΣ ΕΚΠΑΙΔΕΥΣΗΣ
ΚΑΙ ΚΑΤΑΡΤΙΣΗΣ

ΕΝΙΑΙΑ ΓΡΑΠΤΗ ΑΞΙΟΛΟΓΗΣΗ Α' ΤΕΤΡΑΜΗΝΟΥ 2022 - 2023

Β' ΤΑΞΗΣ ΤΕΣΕΚ

ΣΕΙΡΑ Α'

ΗΜΕΡΟΜΗΝΙΑ : Δευτέρα, 23 Ιανουαρίου 2023

ΕΞΕΤΑΖΟΜΕΝΟ ΜΑΘΗΜΑ : Γραφικές Τέχνες ΙΙ

ΚΩΔΙΚΟΣ ΜΑΘΗΜΑΤΟΣ : eg201

ΣΥΝΟΛΙΚΗ ΔΙΑΡΚΕΙΑ ΓΡΑΠΤΗΣ ΕΞΕΤΑΣΗΣ: 90' λεπτά

ΤΟ ΕΞΕΤΑΣΤΙΚΟ ΔΟΚΙΜΙΟ ΑΠΟΤΕΛΕΙΤΑΙ ΑΠΟ ΕΝΤΕΚΑ (11) ΣΕΛΙΔΕΣ

ΤΑ ΜΕΡΗ ΤΟΥ ΕΞΕΤΑΣΤΙΚΟΥ ΔΟΚΙΜΙΟΥ ΕΙΝΑΙ ΔΥΟ (Α' ΚΑΙ Β')

Ο/Η εξεταζόμενος/η θα εφοδιαστεί με τα παρακάτω:

- Ένα (1) έντυπο Α4 (χαρτονάκι)
- Το **ΕΓΧΡΩΜΟ** εξεταστικό δοκίμιο μεγέθους Α4
- Δύο (2) διαφανή φύλλα σχεδίασης (ριζόχαρτα) μεγέθους Α4

ΟΔΗΓΙΕΣ (για τους εξεταζομένους)

1. Στο έντυπο Α4 (χαρτονάκι) να συμπληρώσετε όλα τα κενά με τα στοιχεία που ζητούνται. Στο τέλος της εξέτασης το έντυπο Α4 (χαρτονάκι) θα επισυναφθεί στο εξεταστικό δοκίμιο από τον επιτηρητή.
2. **Να απαντήσετε ΟΛΑ τα ερωτήματα και να εκτελέσετε ΟΛΕΣ τις σχεδιαστικές ασκήσεις στο εξεταστικό δοκίμιο.**
3. Οι συνολικές μονάδες του εξεταστικού δοκιμίου είναι 100.
4. Ο αριθμός των μονάδων για κάθε ερώτηση/σχεδιαστική άσκηση παρουσιάζεται στο τέλος της ερώτησης/σχεδιαστικής άσκησης ή του υποερωτήματος σε παρένθεση.
5. Να μη γράψετε πουθενά στις απαντήσεις σας το όνομά σας.
6. Να απαντήσετε σε όλα τα θέματα **μόνο με πένα χρώματος μπλε ανεξίτηλης μελάνης**. Στις σχεδιαστικές ασκήσεις να χρησιμοποιήσετε το υλικό με βάση τις οδηγίες που δίνονται.
7. Απαγορεύεται η χρήση διορθωτικού υγρού και διορθωτικής ταινίας.
8. Τα διαφανή φύλλα σχεδίασης (ριζόχαρτα) μπορούν να χρησιμοποιηθούν ως βοηθητικό μέσο και δεν επιστρέφονται.

ΣΑΣ ΕΥΧΟΜΑΣΤΕ ΚΑΛΗ ΕΠΙΤΥΧΙΑ

ΜΕΡΟΣ Α΄

(ΜΟΝΑΔΕΣ 40)

Αποτελείται από οκτώ (8) ερωτήσεις.
Να απαντήσετε και στις οκτώ (8) ερωτήσεις.

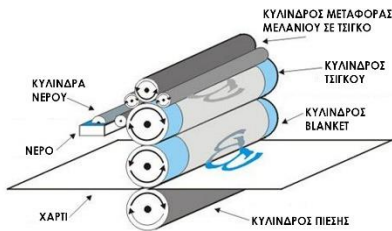
ΕΡΩΤΗΣΗ 1

(μονάδες 6)

Να επιλέξετε από τον παρακάτω κατάλογο και να γράψετε κάτω από την κάθε εικόνα, τον όρο ή την έννοια που αντιπροσωπεύει:

ΠΡΟΣΟΧΗ: Τέσσερις (4) από τις λέξεις είναι λανθασμένες.


Διαφημιστικό Φυλλάδιο, Αφίσα, Δισέλιδη καταχώριση (Σαλόι), Τρίπτυχο έντυπο, Σημεία κοπής (crop marks), Χρωματικό μοντέλο τετραχρωμίας, Επιπεδοτυπία (offset), , Πλέγμα, Ξάκρισμα (bleed), Κατάλογος Παντόνε (Pantone)



α. _____

β. _____

γ. _____



δ. _____

ε. _____

στ. _____

ΕΡΩΤΗΣΗ 2

(μονάδες 4)

Να ονομάσετε τα αριθμημένα μέρη στο παρακάτω διαφημιστικό έντυπο.



α. _____

γ. _____

β. _____

δ. _____

ΕΡΩΤΗΣΗ 3

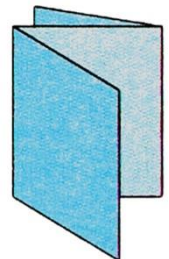

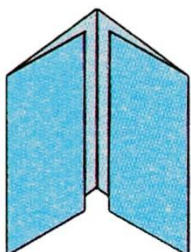
(μονάδες 4)

Δίνονται οι παρακάτω τρόποι δίπλωσης ενός πολύπτυχου α, β, γ και δ.

Να γράψετε κάτω από το κάθε πολύπτυχο, τον τρόπο δίπλωσής του, επιλέγοντας από τις λέξεις στον κατάλογο που ακολουθεί.

ΠΡΟΣΟΧΗ: Τρεις (3) από τις λέξεις/φράσεις είναι λανθασμένες. Κάθε εικόνα αντιστοιχεί με μία μόνο επιλογή.

Δίπλωση πόρτας εσωτερική, Δίπλωση τρίπτυχου εσωτερική, Απλή δίπλωση δίπτυχου, Δίπλωση οκτασέλιδου, Παράλληλη δίπλωση, Δίπλωση τρίπτυχου εξωτερική, Δίπλωση πόρτας απλή



α. _____

β. _____

γ. _____

δ. _____

ΕΡΩΤΗΣΗ 4

(μονάδες 2)

Να κυκλώσετε την καταλληλότερη διαφημιστική καταχώριση με κριτήριο την ορθή ιεράρχηση κειμένου.



α.



β.



γ.

ΕΡΩΤΗΣΗ 5

(μονάδες 8)

Να βάλετε σε κύκλο την ορθή απάντηση.

Για κάθε ερώτηση υπάρχει μόνο μία (1) ορθή απάντηση.

- α. Το σύστημα χρωμάτων τετραχρωμίας είναι:
- το χρωματικό μοντέλο CMYK (κυανό, ματζέντα, κίτρινο, μαύρο)
 - το χρωματικό μοντέλο κόκκινο, πράσινο, μπλε (RGB)
 - τα επίπεδα χρώματα
 - όλα τα ορατά στο μάτι χρώματα
- β. Η μέθοδος εκτύπωσης που πρόκειται να χρησιμοποιηθεί για την εκτύπωση μίας πολύ μικρής ποσότητας διαφημιστικών εντύπων για μία εταιρεία είναι η:
- μεταξοτυπία
 - βαθυτυπία
 - επιπεδοτυπία (offset)
 - ψηφιακή
- γ. Η μέθοδος εκτύπωσης με υψηλό κόστος που χρησιμοποιείται στην εκτύπωση χαρτονομισμάτων είναι η:
- φλεξογραφία
 - βαθυτυπία
 - μεταξοτυπία
 - επιπεδοτυπία (offset)
- δ. Η μέθοδος εκτύπωσης της οποίας τα στοιχεία που πρόκειται να εκτυπωθούν βρίσκονται σχετικά πιο ψηλά από τα στοιχεία που δεν θα εκτυπωθούν είναι η:
- μεταξοτυπία
 - επιπεδοτυπία (offset)
 - υψιτυπία (letterpress)
 - φλεξογραφία

ΕΡΩΤΗΣΗ 6

(μονάδες 4)

Να αντιστοιχίσετε κάθε πρόταση της ΣΤΗΛΗΣ Α με ένα μόνο στοιχείο της ΣΤΗΛΗΣ Β. Να σημειώσετε τις απαντήσεις σας στον ΠΙΝΑΚΑ ΑΝΤΙΣΤΟΙΧΙΣΗΣ

ΠΡΟΣΟΧΗ: Τρία (3) από τα στοιχεία της ΣΤΗΛΗΣ Β είναι λανθασμένα.

ΣΤΗΛΗ Α	
1	Περιλαμβάνει μεγάλο όγκο πληροφοριακού υλικού με μορφή κειμένου και εικόνων ή μόνο κειμένου και μπορεί να διπλωθεί ανάλογα με τον αριθμό των σελίδων που έχει.
2	Η δίπλωση αυτή επιτυγχάνεται όταν το κάθε δίπλωμα γίνεται παράλληλα ως προς το αμέσως προηγούμενό του. Το πρώτο δίπλωμα γίνεται παράλληλα προς τη μεγάλη πλευρά του τυπωμένου φύλλου.
3	Λευκός, κενός χώρος που αφήνουμε γύρω από το τυπωμένο κείμενο κάθε σελίδας.
4	Βοηθητικές νοητές κάθετες και οριζόντιες γραμμές που βοηθούν τον γραφίστα να εντάξει κείμενα σε στήλες και του επιτρέπουν να τοποθετήσει φωτογραφικό υλικό.

ΣΤΗΛΗ Β	
α.	Διαφημιστικό Έντυπο
β.	Αφίσα
γ.	Παράλληλη δίπλωση
δ.	Περιθώρια
ε.	Εφημερίδα
στ.	Κάθετη δίπλωση
ζ.	Πλέγμα

ΠΙΝΑΚΑΣ ΑΝΤΙΣΤΟΙΧΙΣΗΣ			
1. _____ _____	2. _____ _____	3. _____ _____	4. _____ _____

ΕΡΩΤΗΣΗ 7

(μονάδες 5)

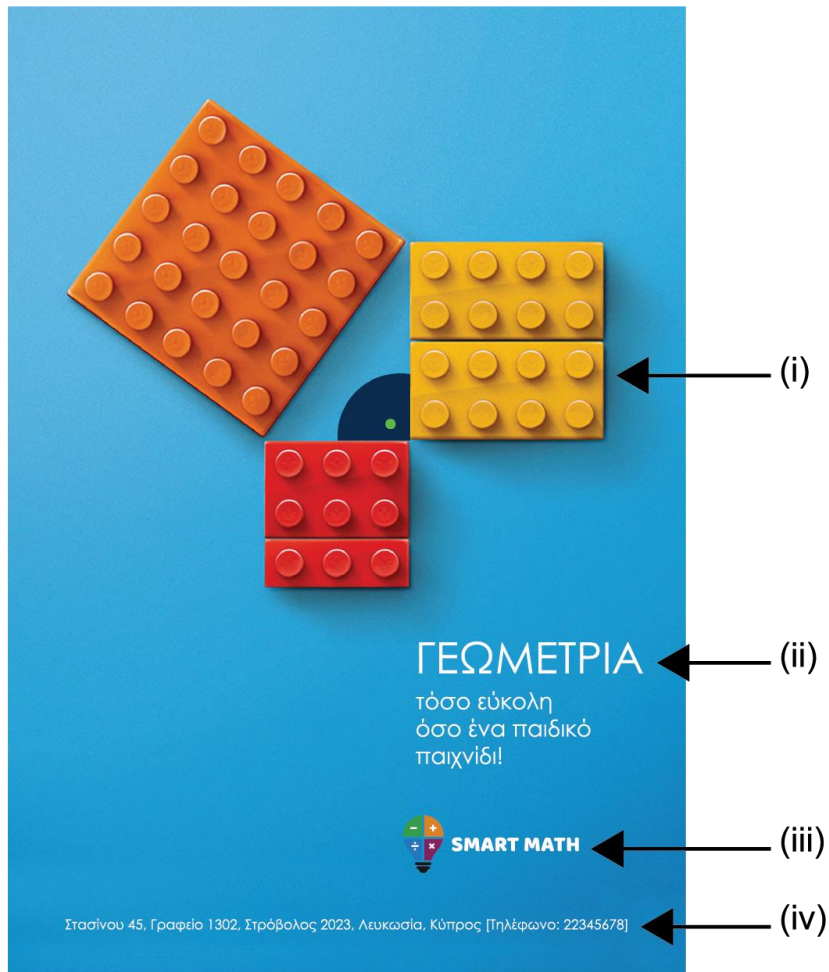
Να γράψετε τις πέντε (5) λειτουργίες του διαφημιστικού εντύπου ως επικοινωνιακό εργαλείο.

1. _____
2. _____
3. _____
4. _____
5. _____

ΕΡΩΤΗΣΗ 8

(μονάδες 7)

Δίνεται η παρακάτω αφίσα. Να απαντήσετε στις παρακάτω ερωτήσεις:



α. Να ονομάσετε τα αριθμημένα μέρη που συνθέτουν την παραπάνω αφίσα. (μονάδες 4)

- (i) _____
- (ii) _____
- (iii) _____
- (iv) _____

β. Να γράψετε τον χαρακτηρισμό που περιγράφει την ισορροπία της αφίσας. (μονάδες 2)

γ. Να υπογραμμίσετε την κατηγορία στην οποία ανήκει η παραπάνω αφίσα. (μονάδα 1)

Πολιτική


Προϊοντική/Καταναλωτική

Πολιτιστική/Κοινωνική

**ΤΕΛΟΣ ΜΕΡΟΥΣ Α΄
ΑΚΟΛΟΥΘΕΙ ΤΟ ΜΕΡΟΣ Β΄**

ΜΕΡΟΣ Β΄**(ΜΟΝΑΔΕΣ 60)****Αποτελείται από δύο (2) σχεδιαστικές ασκήσεις.****Να εκτελέσετε και τις δύο (2) σχεδιαστικές ασκήσεις.****ΑΣΚΗΣΗ 9****(μονάδες 20)****Να σχεδιάσετε σε μορφή προσχεδίου, τη διάταξη των στοιχείων ενός φυλλαδίου εντός του ΠΛΑΙΣΙΟΥ 1, το οποίο να περιλαμβάνει τα ακόλουθα:****Δίστηλο πλέγμα με μεσοδιάστημα, δειγματικό τίτλο, δειγματικό κείμενο, δειγματικό πλαίσιο μίας (1) φωτογραφίας και περιθώρια (αριστερά, δεξιά, πάνω και κάτω).****Να χρησιμοποιήσετε μολύβι και μαύρο πένακι.****Κριτήρια Αξιολόγησης:**

- Εκτέλεση 6 μονάδες
 - Σωστή οργάνωση της σελίδας 10 μονάδες
 - Ολοκλήρωση της σχεδίασης όλων των ζητούμενων 4 μονάδες
- Σύνολο 20 μονάδες

**ΠΛΑΙΣΙΟ 1**

ΑΣΚΗΣΗ 10

(μονάδες 40)

Να σχεδιάσετε μία έγχρωμη πρόταση για την αφίσα της περιβαλλοντικής οργάνωσης «ΑΓΡΙΑ ΦΥΣΗ» με τίτλο «Φύτεψε ένα δέντρο» εντός του ΠΛΑΙΣΙΟΥ 2 που δίνεται στη σελίδα 9.

Να χρησιμοποιήσετε χρωματιστά μολύβια και μαύρο πενάκι.

Δίνονται:

- Ο ΤΙΤΛΟΣ: Φύτεψε ένα δέντρο (σελίδα 10)
- ΤΟ ΛΟΓΟΤΥΠΟ: ΑΓΡΙΑ ΦΥΣΗ (σελίδα 10)
- ΕΙΚΑΣΤΙΚΑ ΣΤΟΙΧΕΙΑ - ΕΙΚΟΝΕΣ (σελίδα 10)


Σχεδιαστικές απαιτήσεις:

- Η έγχρωμη σύνθεση να περιλαμβάνει τα στοιχεία που σας δίνονται, καθώς και εικονογράφηση.
- Να ιεραρχήσετε ορθά τον τίτλο, το λογότυπο και τα εικαστικά στοιχεία.
- Μπορείτε να αξιοποιήσετε τα εικαστικά στοιχεία που σας δίνονται με αποτύπωση (αντιγραφή), επανάληψη και αυξομείωση στο μέγεθος και στη θέση που επιθυμείτε.
- Μπορείτε, εάν θέλετε, να σχεδιάσετε δικές σας εικόνες και σχήματα σχετικά με το θέμα.
- Το διαφανές φύλλο σχεδίασης (ριζόχαρτο) να χρησιμοποιηθεί ως βοηθητικό μέσο και δεν θα τύχει αξιολόγησης.

Η κοπή και η επικόλληση των στοιχείων δεν επιτρέπεται.

Κριτήρια Αξιολόγησης:

- | | |
|--|-------------------|
| • Ποιότητα και ακρίβεια σχεδίασης | 5 μονάδες |
| • Εικονογράφηση - ύφος και χρώμα | 10 μονάδες |
| • Πληρότητα - ολοκλήρωση της σχεδίασης όλων των ζητούμενων | 15 μονάδες |
| • Σύνθεση - διάταξη στοιχείων | <u>10 μονάδες</u> |
| | Σύνολο 40 μονάδες |



ΠΛΑΙΣΙΟ 2

ΤΙΤΛΟΣ:

ΦΥΤΕΨΕ ΕΝΑ ΔΕΝΤΡΟ Φύτεψε ένα δέντρο ΦΥΤΕΨΕ ΕΝΑ ΔΕΝΤΡΟ

ΛΟΓΟΤΥΠΟ:



ΕΙΚΑΣΤΙΚΑ ΣΤΟΙΧΕΙΑ – ΕΙΚΟΝΕΣ:



ΠΡΟΧΕΙΡΟ

Αυτή η σελίδα δεν αξιολογείται.

ΠΡΟΧΕΙΡΟ

ΤΕΛΟΣ ΕΞΕΤΑΣΤΙΚΟΥ ΔΟΚΙΜΙΟΥ