

ΥΠΟΥΡΓΕΙΟ ΠΑΙΔΕΙΑΣ, ΑΘΛΗΤΙΣΜΟΥ ΚΑΙ ΝΕΟΛΑΙΑΣ
ΔΙΕΥΘΥΝΣΗ ΜΕΣΗΣ ΤΕΧΝΙΚΗΣ ΚΑΙ ΕΠΑΓΓΕΛΜΑΤΙΚΗΣ
ΕΚΠΑΙΔΕΥΣΗΣ ΚΑΙ ΚΑΤΑΡΤΙΣΗΣ

ΕΝΙΑΙΑ ΓΡΑΠΤΗ ΑΞΙΟΛΟΓΗΣΗ Α' ΤΕΤΡΑΜΗΝΟΥ 2022 - 2023

Β' ΤΑΞΗΣ ΤΕΣΕΚ

ΣΕΙΡΑ Α'

ΠΡΑΚΤΙΚΗ ΚΑΤΕΥΘΥΝΣΗ

ΗΜΕΡΟΜΗΝΙΑ: Τετάρτη, 25 Ιανουαρίου 2023

ΩΡΑ ΕΞΕΤΑΣΗΣ: 10:30 - 12:00

ΕΞΕΤΑΖΟΜΕΝΟ ΜΑΘΗΜΑ: ΣΧΕΔΙΑΣΤΙΚΕΣ ΕΦΑΡΜΟΓΕΣ ΙΙ (ΠΚ)

ΚΩΔΙΚΟΣ ΜΑΘΗΜΑΤΟΣ: ed202

ΣΥΝΟΛΙΚΗ ΔΙΑΡΚΕΙΑ ΓΡΑΠΤΗΣ ΕΞΕΤΑΣΗΣ: 90' λεπτά

ΤΟ ΕΞΕΤΑΣΤΙΚΟ ΔΟΚΙΜΙΟ ΑΠΟΤΕΛΕΙΤΑΙ ΑΠΟ ΤΡΕΙΣ (3) ΣΕΛΙΔΕΣ ΜΕΓΕΘΟΥΣ Α3

Ο/Η εξεταζόμενος/η να εφοδιαστεί με τα πιο κάτω:

- Το εξώφυλλο χαρτονάκι
- Το εξεταστικό δοκίμιο
- Όργανα σχεδίασης (τρίγωνο, ρίγα και ταυ)

ΟΔΗΓΙΕΣ:

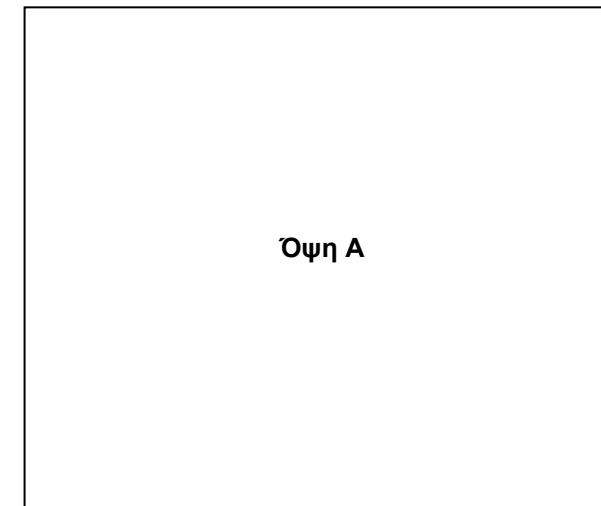
1. Να συμπληρώσετε τα στοιχεία σας με **μπλε μελάνι μόνο** στο εξώφυλλο που σας έχει δοθεί. Να μη γράψετε πουθενά το όνομά σας ή οποιαδήποτε άλλα στοιχεία που να δηλώνουν την ταυτότητά σας σε άλλο μέρος του εξεταστικού δοκιμίου.
2. Να εκτελέσετε **όλες** τις σχεδιαστικές ασκήσεις στον ενδεικνυόμενο χώρο στο εξεταστικό δοκίμιο.
3. Η **άσκηση 1** να εκτελεστεί με μολύβι.
4. Η **άσκηση 2** να εκτελεστεί με χρωματιστά μολύβια ή/και με πενάκια/μαρκαδόρους.
5. Τα υλικά και όργανα σχεδίασης που επιτρέπεται να χρησιμοποιηθούν είναι: σεντ μολυβιών, χρωματιστά μολύβια, μαύρα και έγχρωμα πενάκια/μαρκαδόροι, σβηστήρι, ξύστρα, σεντ τρίγωνο, ρίγα, ταυ και κολλητική ταινία.
6. Δεν επιτρέπεται η χρήση διορθωτικού υγρού ή/και διορθωτικής ταινίας.

ΣΑΣ ΕΥΧΟΜΑΣΤΕ ΚΑΘΕ ΕΠΙΤΥΧΙΑ

1. Δίνονται η **Γραμμή του Ορίζοντα**, το **Σημείο Φυγής (Σ.Φ.)**, μια (1) **Όψη Τετραγώνου (Όψη Α)** και μια (1) **Όψη Ορθογωνίου (Όψη Β)**.

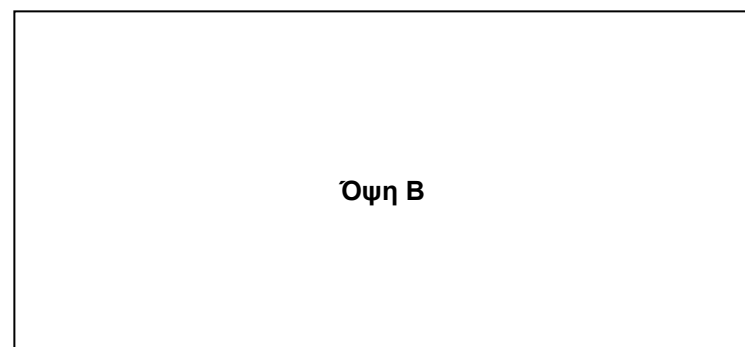
Με βάση το Σημείο Φυγής, να σχεδιάσετε με μολύβι, ένα (1) γραμμικό προοπτικό τετραγώνου (Όψη Α) και ένα (1) γραμμικό προοπτικό ορθογωνίου (Όψη Β).

(40 μονάδες)



Γραμμή του Ορίζοντα ↓

Σ.Φ.



Κριτήρια αξιολόγησης:

- Ορθή προοπτική σχεδίαση τετραγώνου (20 μονάδες)
- Ορθή προοπτική σχεδίαση ορθογωνίου (20 μονάδες)


(Σύνολο: **40 μονάδες**)

2. Στην **ΕΙΚΟΝΑ 1**, δίνεται η φωτογραφία ενός ξύλινου σκαμπό και σας ζητείται να το σχεδιάσετε μέσα στο **ΠΛΑΙΣΙΟ 1** δίπλα.
Να το αποδώσετε με **χρώμα** έτσι ώστε να αναδεικνύεται η **υφή** και το **υλικό** όπως και οι **τονικές διαβαθμίσεις**, λαμβάνοντας υπόψη το φως και τον χώρο.

(60 μονάδες)



ΕΙΚΟΝΑ 1



ΠΛΑΙΣΙΟ 1

Κριτήρια αξιολόγησης:

- Ορθότητα και ακρίβεια σχεδίασης (20 μονάδες)
- Απόδοση υλικού, υφής και χρώματος (20 μονάδες)
- Τονική διαβάθμιση - Φωτοσκίαση - Απόδοση του όγκου (10 μονάδες)
- Καθαρότητα και αισθητική του σχεδίου (5 μονάδες)
- Οργάνωση σχεδιαστικής επιφάνειας - Τοποθέτηση στο πλαίσιο (5 μονάδες)

(Σύνολο: **60 μονάδες**)

ΤΕΛΟΣ ΕΞΕΤΑΣΤΙΚΟΥ ΔΟΚΙΜΙΟΥ