

ΥΠΟΥΡΓΕΙΟ ΠΑΙΔΕΙΑΣ, ΑΘΛΗΤΙΣΜΟΥ ΚΑΙ ΝΕΟΛΑΙΑΣ
ΔΙΕΥΘΥΝΣΗ ΜΕΣΗΣ ΤΕΧΝΙΚΗΣ ΕΠΑΓΓΕΛΜΑΤΙΚΗΣ ΕΚΠΑΙΔΕΥΣΗΣ
ΚΑΙ ΚΑΤΑΡΤΙΣΗΣ

ΕΝΙΑΙΑ ΓΡΑΠΤΗ ΑΞΙΟΛΟΓΗΣΗ Α' ΤΕΤΡΑΜΗΝΟΥ 2022 - 2023

Β' ΤΑΞΗΣ ΤΕΣΕΚ

ΣΕΙΡΑ Α'

ΠΡΑΚΤΙΚΗ ΚΑΤΕΥΘΥΝΣΗ

ΗΜΕΡΟΜΗΝΙΑ: Δευτέρα, 23 Ιανουαρίου 2023

ΕΞΕΤΑΖΟΜΕΝΟ ΜΑΘΗΜΑ: ΣΧΕΔΙΑΣΜΟΣ ΕΣΩΤΕΡΙΚΟΥ ΧΩΡΟΥ II (ΠΚ)

ΚΩΔΙΚΟΣ ΜΑΘΗΜΑΤΟΣ: ed201

ΣΥΝΟΛΙΚΗ ΔΙΑΡΚΕΙΑ ΓΡΑΠΤΗΣ ΕΞΕΤΑΣΗΣ: 90' λεπτά

ΤΟ ΕΞΕΤΑΣΤΙΚΟ ΔΟΚΙΜΙΟ ΑΠΟΤΕΛΕΙΤΑΙ ΑΠΟ ΤΕΣΣΕΡΕΙΣ (4) ΣΕΛΙΔΕΣ Α3
ΚΑΙ ΔΥΟ (2) ΜΕΡΗ (Α' ΚΑΙ Β')

Ο/Η εξεταζόμενος/η να εφοδιαστεί με τα πιο κάτω:

- Το εξεταστικό δοκίμιο
- Το εξώφυλλο χαρτονάκι
- Όργανα σχεδίασης (κλιμακόμετρο, τρίγωνο και ταυ)

ΟΔΗΓΙΕΣ (για τους εξεταζόμενους)

1. Να συμπληρώσετε τα στοιχεία σας με **μπλε μελάνι μόνο** στο εξώφυλλο χαρτονάκι που σας έχει δοθεί. Να μη γράψετε πουθενά το όνομά σας ή οποιαδήποτε άλλα στοιχεία που να δηλώνουν την ταυτότητά σας σε άλλο μέρος του εξεταστικού δοκιμίου.
2. Να απαντήσετε **ΟΛΑ** τα ερωτήματα **πάνω** στο εξεταστικό δοκίμιο.
3. Οι **ερωτήσεις 1, 2, 3, 4, 5 και 6 του ΜΕΡΟΥΣ Α'** να απαντηθούν στον ενδεικνυόμενο χώρο. Να απαντήσετε μόνο με μπλε πένα που δεν σβήνεται.
4. Η σχεδιαστική εργασία της **ερώτησης 7 του ΜΕΡΟΥΣ Β'** να εκτελεστεί στον ενδεικνυόμενο χώρο. Να χρησιμοποιήσετε μολύβι για τη σχεδιαστική εργασία.
5. Απαγορεύεται η χρήση διορθωτικού υγρού ή/και διορθωτικής ταινίας.

ΣΑΣ ΕΥΧΟΜΑΣΤΕ ΚΑΘΕ ΕΠΙΤΥΧΙΑ

ΜΕΡΟΣ Α': (40 μονάδες)

1. Να κατονομάσετε **τρία (3) λειτουργικά στοιχεία** που χρησιμοποιούνται στη διακόσμηση ενός υπνοδωματίου. (3 μονάδες)

α.

β.

γ.

2. Να κατονομάσετε **τρία (3) συμπληρωματικά στοιχεία** που χρησιμοποιούνται στη διακόσμηση ενός καθιστικού. (3 μονάδες)

α.

β.

γ.

3. Στον **ΠΙΝΑΚΑ 1** που ακολουθεί, να κατονομάσετε **δύο (2) βασικά είδη υγιεινής** και **δύο (2) αξεσουάρ μπάνιου** στην ανάλογη στήλη. (6 μονάδες)

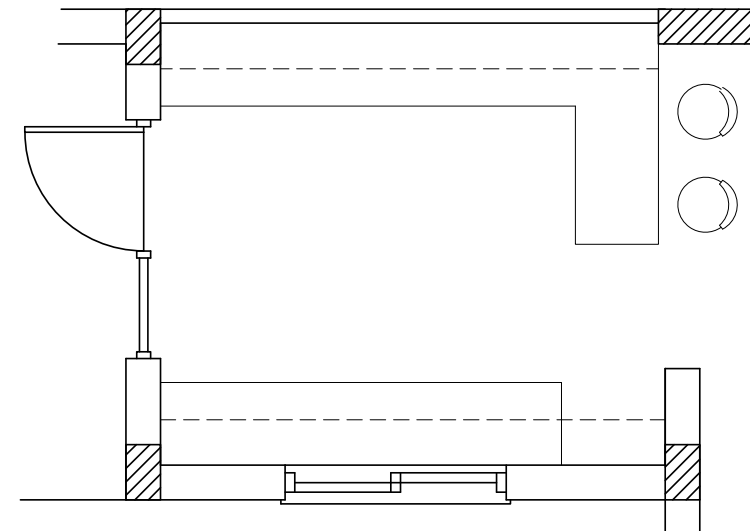
ΠΙΝΑΚΑΣ 1

	ΒΑΣΙΚΑ ΕΙΔΗ ΥΓΙΕΙΝΗΣ	ΑΞΕΣΟΥΑΡ ΜΠΑΝΙΟΥ
α.		
β.		

4. Στο **ΣΧΗΜΑ 1** που ακολουθεί, δίνεται η κάτοψη μιας κουζίνας στην οποία φαίνονται μόνο οι πάγκοι. Να σχεδιάσετε με ελεύθερο χέρι τα **τρία (3) βασικά κέντρα εργασίας** με βάση το εργονομικό τρίγωνο και **να τα κατονομάσετε** πάνω στο σχέδιο. (6 μονάδες)

(6 μονάδες)

ΣΧΗΜΑ 1



ΚΑΤΟΨΗ ΚΟΥΖΙΝΑΣ

5. Αφού μελετήσετε τις **τρεις (3) σχηματικές διατάξεις** κουζινών (α, β, γ) στις πιο κάτω φωτογραφίες, να καταγράψετε στον κενό χώρο δίπλα από κάθε φωτογραφία τον τύπο της κάθε σχηματικής διάταξης. (6 μονάδες)




α.

.....



β.

.....



γ.

.....

6. Στον **ΠΙΝΑΚΑ 2** που ακολουθεί, να προσδιορίσετε αν το περιεχόμενο των δηλώσεων είναι **ΣΩΣΤΟ** ή **ΛΑΘΟΣ**, βάζοντας \checkmark στην αντίστοιχη στήλη.

(16 μονάδες)

ΠΙΝΑΚΑΣ 2

	ΔΗΛΩΣΗ	ΣΩΣΤΟ	ΛΑΘΟΣ
α	Τα μαξιλαράκια και τα φυτά σε ένα καθιστικό ανήκουν στα λειτουργικά στοιχεία.		
β	Όλα τα αντικείμενα σε ένα χώρο διαδραματίζουν το ρόλο τους και επηρεάζουν το τελικό αποτέλεσμα της διακόσμησης.		
γ	Τα ανοιχτόχρωμα χρώματα κάνουν τον χώρο να φαίνεται μεγαλύτερος και πιο βαθύς από ότι στην πραγματικότητα.		
δ	Ένα κατάλληλο υλικό για τη κατασκευή των ειδών υγιεινής είναι το M.D.F.		
ε	Στην κατηγορία των εντοιχισμένων επίπλων, ανήκουν έπιπλα όπως καναπέδες, τραπεζάκια και μπουφέδες.		
ζ	Λειτουργικά στοιχεία είναι τα διακοσμητικά αντικείμενα τα οποία συμπληρώνουν τη διακόσμηση σε ένα χώρο.		
η	Ένα κατάλληλο υλικό για την επιφάνεια του πάγκου σε μια κουζίνα είναι το ανοξειδωτο ασάλι.		
θ	Το χρώμα είναι καθοριστικός παράγοντας στη διακόσμηση ενός εσωτερικού χώρου και έχει τη δύναμη να διαμορφώσει εντυπώσεις και αισθήματα.		

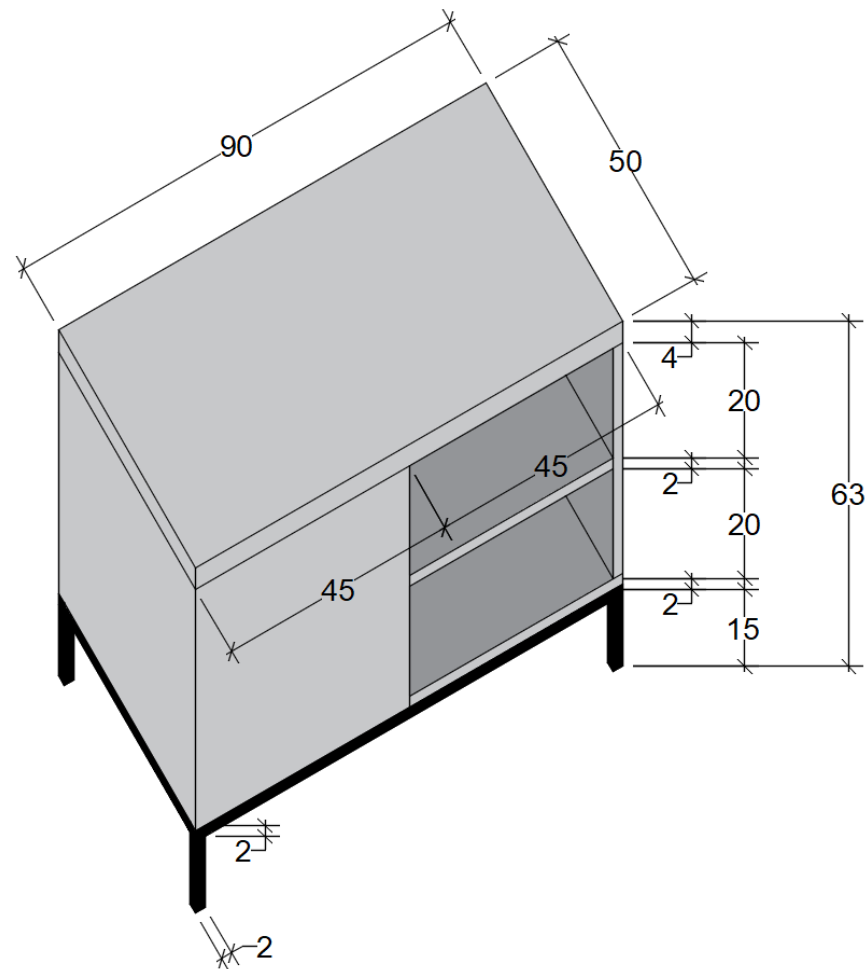
ΜΕΡΟΣ Β': (60 μονάδες)

7. Στο **ΣΧΗΜΑ 2**, πιο κάτω, δίνεται σχέδιο επίπλου τηλεόρασης. Σας ζητείται:

- α. Να σχεδιάσετε την **κάτοψη** και τη **πρόσοψη** του επίπλου με όργανα σχεδίασης σε **κλίμακα 1:10**, στον άδειο χώρο της διπλανής σελίδας.
β. Να τοποθετήσετε στο σχέδιο σας **πέντε (5) βασικές διαστάσεις**.

(60 μονάδες)

ΣΧΗΜΑ 2



ΕΠΙΠΛΟ ΤΗΛΕΟΡΑΣΗΣ

Κριτήρια αξιολόγησης:

- Ορθή τοποθέτηση σχεδίου στο φύλλο σχεδίασης (10 μονάδες)
- Ορθότητα και ακρίβεια σχεδίασης (30 μονάδες)
- Πάχη γραμμών, γράμματα, αριθμοί (10 μονάδες)
- Καθαρότητα σχεδίου (10 μονάδες)

(Σύνολο: 60 μονάδες)

ΤΕΛΟΣ ΕΞΕΤΑΣΤΙΚΟΥ ΔΟΚΙΜΙΟΥ