

ΥΠΟΥΡΓΕΙΟ ΠΑΙΔΕΙΑΣ, ΑΘΛΗΤΙΣΜΟΥ ΚΑΙ ΝΕΟΛΑΙΑΣ
ΔΙΕΥΘΥΝΣΗ ΜΕΣΗΣ ΤΕΧΝΙΚΗΣ ΕΠΑΓΓΕΛΜΑΤΙΚΗΣ ΕΚΠΑΙΔΕΥΣΗΣ
ΚΑΙ ΚΑΤΑΡΤΙΣΗΣ

ΕΝΙΑΙΑ ΓΡΑΠΤΗ ΑΞΙΟΛΟΓΗΣΗ Α' ΤΕΤΡΑΜΗΝΟΥ 2022 - 2023

Β' ΤΑΞΗΣ ΤΕΣΕΚ

ΣΕΙΡΑ Α'

ΠΡΑΚΤΙΚΗ ΚΑΤΕΥΘΥΝΣΗ

ΗΜΕΡΟΜΗΝΙΑ: Δευτέρα, 23 Ιανουαρίου 2023

ΕΞΕΤΑΖΟΜΕΝΟ ΜΑΘΗΜΑ: ΣΧΕΔΙΑΣΜΟΣ ΕΣΩΤΕΡΙΚΟΥ ΧΩΡΟΥ ΙΙ (ΠΚ)

ΚΩΔΙΚΟΣ ΜΑΘΗΜΑΤΟΣ: ed201

ΛΥΣΕΙΣ

ΜΕΡΟΣ Α': (40 μονάδες)

1. Να κατονομάσετε **τρία (3) λειτουργικά στοιχεία** που χρησιμοποιούνται στη διακόσμηση ενός υπνοδωματίου. (3 μονάδες)

- α. **Κρεβάτι**
- β. **Κομοδίνο, συρταριέρα**
- γ. **Τουαλέτα, Ερμάρια ρούχων**

2. Να κατονομάσετε **τρία (3) συμπληρωματικά στοιχεία** που χρησιμοποιούνται στη διακόσμηση ενός καθιστικού. (3 μονάδες)

- α. **Χαλί, μαξιλαράκια**
- β. **Φυτά, λουλούδια, βάζο**
- γ. **Πίνακες ζωγραφικής, κηροπήγια, κεριά, κ.α.**

3. Στον **ΠΙΝΑΚΑ 1** που ακολουθεί, να κατονομάσετε **δύο (2) βασικά είδη υγιεινής** και **δύο (2) αξεσουάρ μπάνιου** στην ανάλογη στήλη. (6 μονάδες)

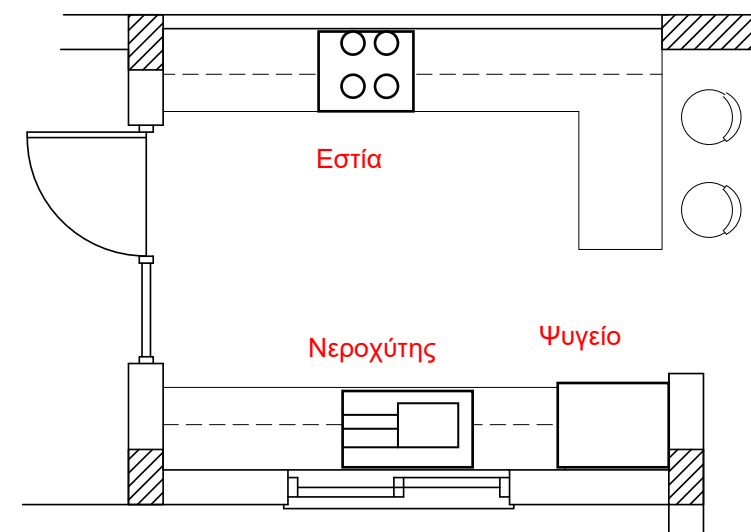
ΠΙΝΑΚΑΣ 1

	ΒΑΣΙΚΑ ΕΙΔΗ ΥΓΙΕΙΝΗΣ	ΑΞΕΣΟΥΑΡ ΜΠΑΝΙΟΥ
α.	Μπανιέρα, ντουζιέρα	Πετσετοθήκη, χαλάκι μπάνιου
β.	Τουαλέτα, νιπτήρας	Καθρέφτης, καλάθι αχρήστων

4. Στο **ΣΧΗΜΑ 1** που ακολουθεί, δίνεται η κάτοψη μιας κουζίνας στην οποία φαίνονται μόνο οι πάγκοι. Να σχεδιάσετε με ελεύθερο χέρι τα **τρία (3) βασικά κέντρα εργασίας** με βάση το εργονομικό τρίγωνο και **να τα κατονομάσετε** πάνω στο σχέδιο. (6 μονάδες)

(6 μονάδες)

ΣΧΗΜΑ 1




ΚΑΤΟΨΗ ΚΟΥΖΙΝΑΣ

5. Αφού μελετήσετε τις **τρεις (3) σχηματικές διατάξεις** κουζινών (α, β, γ) στις πιο κάτω φωτογραφίες, να καταγράψετε στον κενό χώρο δίπλα από κάθε φωτογραφία τον τύπο της κάθε σχηματικής διάταξης. (6 μονάδες)




α.

Διάταξη σε Σχήμα Γ



β.

Διάταξη σε Σχήμα Π



γ.

Παράλληλη διάταξη ή διάδρομος

6. Στον **ΠΙΝΑΚΑ 2** που ακολουθεί, να προσδιορίσετε αν το περιεχόμενο των δηλώσεων είναι **ΣΩΣΤΟ** ή **ΛΑΘΟΣ**, βάζοντας \checkmark στην αντίστοιχη στήλη.

(16 μονάδες)

ΠΙΝΑΚΑΣ 2

	ΔΗΛΩΣΗ	ΣΩΣΤΟ	ΛΑΘΟΣ
α	Τα μαξιλαράκια και τα φυτά σε ένα καθιστικό ανήκουν στα λειτουργικά στοιχεία.		\checkmark
β	Όλα τα αντικείμενα σε ένα χώρο διαδραματίζουν το ρόλο τους και επηρεάζουν το τελικό αποτέλεσμα της διακόσμησης.	\checkmark	
γ	Τα ανοιχτόχρωμα χρώματα κάνουν τον χώρο να φαίνεται μεγαλύτερος και πιο βαθύς από ότι στην πραγματικότητα.	\checkmark	
δ	Ένα κατάλληλο υλικό για τη κατασκευή των ειδών υγιεινής είναι το M.D.F.		\checkmark
ε	Στην κατηγορία των εντοιχισμένων επίπλων, ανήκουν έπιπλα όπως καναπέδες, τραπεζάκια και μπουφέδες.		\checkmark
ζ	Λειτουργικά στοιχεία είναι τα διακοσμητικά αντικείμενα τα οποία συμπληρώνουν τη διακόσμηση σε ένα χώρο.		\checkmark
η	Ένα κατάλληλο υλικό για την επιφάνεια του πάγκου σε μια κουζίνα είναι το ανοξείδωτο ασάλι.	\checkmark	
θ	Το χρώμα είναι καθοριστικός παράγοντας στη διακόσμηση ενός εσωτερικού χώρου και έχει τη δύναμη να διαμορφώσει εντυπώσεις και αισθήματα.	\checkmark	

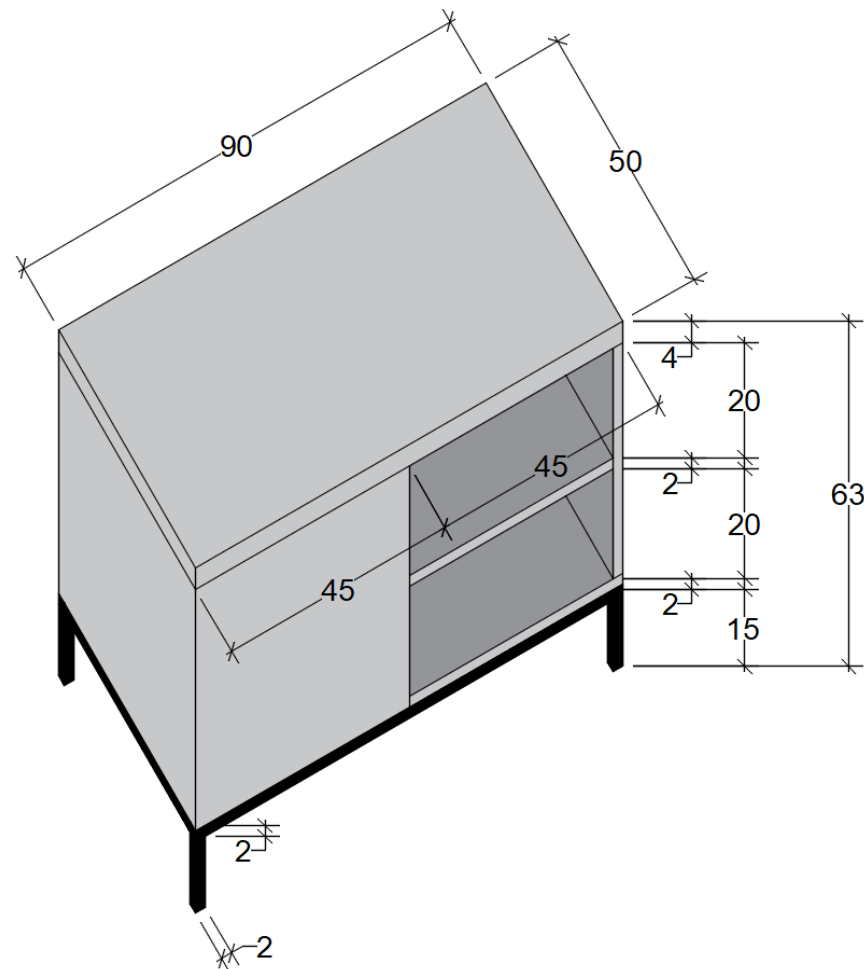
ΜΕΡΟΣ Β': (60 μονάδες)

7. Στο **ΣΧΗΜΑ 2**, πιο κάτω, δίνεται σχέδιο επίπλου τηλεόρασης. Σας ζητείται:

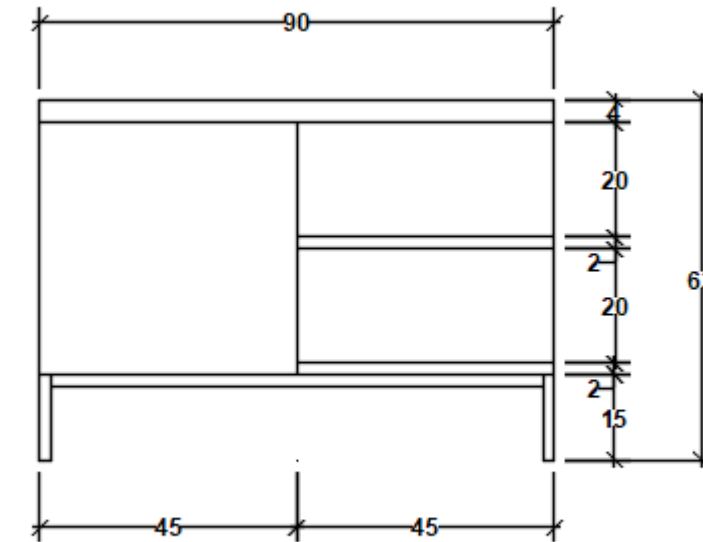
- α. Να σχεδιάσετε την **κάτοψη** και την **πρόσοψη** του επίπλου με όργανα σχεδίασης σε **κλίμακα 1:10**, στον άδειο χώρο της διπλανής σελίδας.
β. Να τοποθετήσετε στο σχέδιό σας **πέντε (5) βασικές διαστάσεις**.

(60 μονάδες)

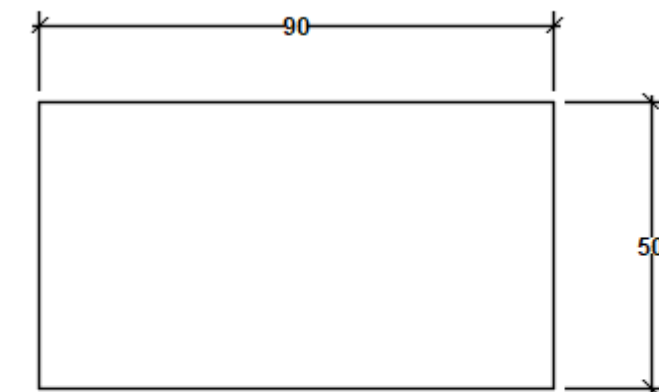
ΣΧΗΜΑ 2



ΕΠΙΠΛΟ ΤΗΛΕΟΡΑΣΗΣ



ΠΡΟΣΟΨΗ



ΚΑΤΟΨΗ

Κριτήρια αξιολόγησης:

- Ορθή τοποθέτηση σχεδίου στο φύλλο σχεδίασης (10 μονάδες)
- Ορθότητα και ακρίβεια σχεδίασης (30 μονάδες)
- Πάχη γραμμών, γράμματα, αριθμοί (10 μονάδες)
- Καθαρότητα σχεδίου (10 μονάδες)

(Σύνολο: 60 μονάδες)

ΤΕΛΟΣ ΕΞΕΤΑΣΤΙΚΟΥ ΔΟΚΙΜΙΟΥ