

**ΥΠΟΥΡΓΕΙΟ ΠΑΙΔΕΙΑΣ, ΑΘΛΗΤΙΣΜΟΥ ΚΑΙ ΝΕΟΛΑΙΑΣ
ΔΙΕΥΘΥΝΣΗ ΜΕΣΗΣ ΤΕΧΝΙΚΗΣ ΚΑΙ ΕΠΑΓΓΕΛΜΑΤΙΚΗΣ ΕΚΠΑΙΔΕΥΣΗΣ
ΚΑΙ ΚΑΤΑΡΤΙΣΗΣ**

ΕΝΙΑΙΑ ΓΡΑΠΤΗ ΑΞΙΟΛΟΓΗΣΗ Α' ΤΕΤΡΑΜΗΝΟΥ 20 22 - 20 23

**Β' ΤΑΞΗΣ ΤΕΣΕΚ
ΣΕΙΡΑ Α'**

ΠΡΑΚΤΙΚΗ ΚΑΤΕΥΘΥΝΣΗ

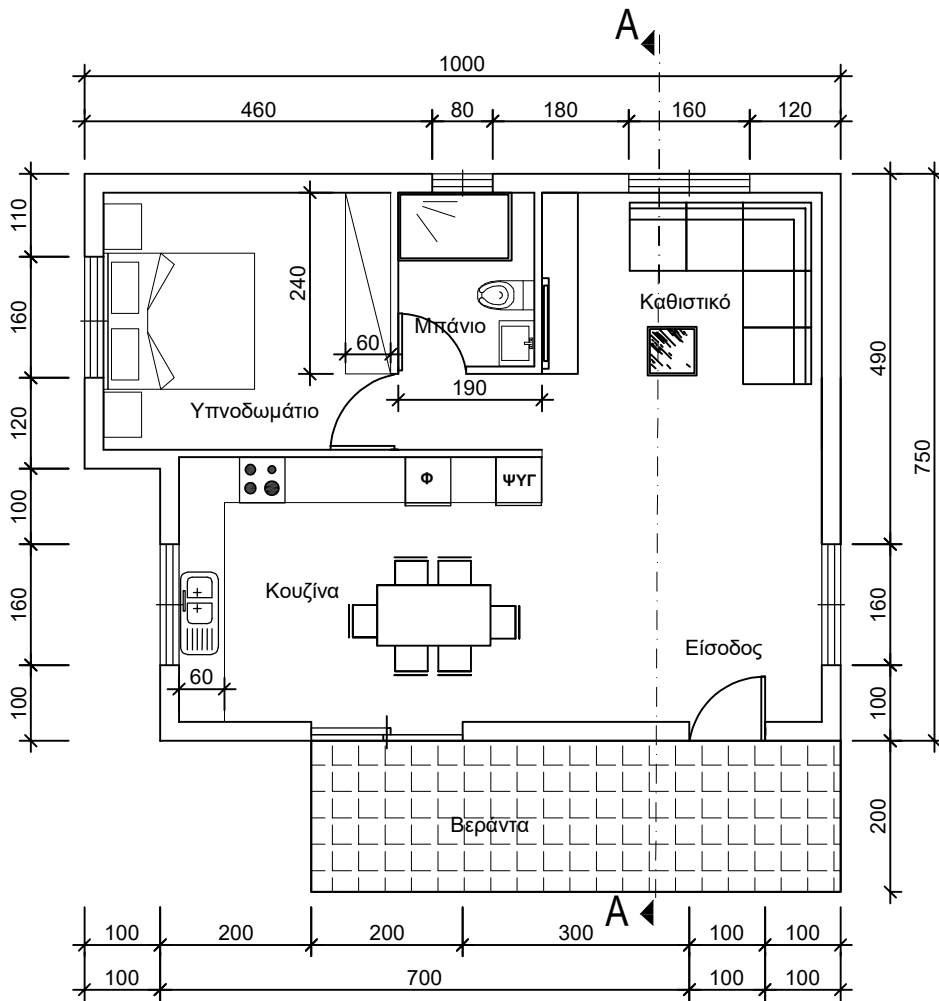
ΗΜΕΡΟΜΗΝΙΑ : Δευτέρα, 23 Ιανουαρίου 2023

ΕΞΕΤΑΖΟΜΕΝΟ ΜΑΘΗΜΑ: Σχεδίαση με Ηλεκτρονικό Υπολογιστή

ΚΩΔΙΚΟΣ ΜΑΘΗΜΑΤΟΣ : ds201

ΛΥΣΕΙΣ

ΠΑΡΑΡΤΗΜΑ



ΚΑΤΟΨΗ ΙΣΟΓΕΙΟΥ

ΚΛΙΜΑΚΑ: 1:100

ΦΥΛΛΟ ΣΧΕΔΙΑΣΗΣ 1 - ΜΕΡΟΣ Α΄

Στο **ΠΑΡΑΡΤΗΜΑ** δίνεται η κάτοψη κατοικίας.

Στο **Σχήμα 1** δίνεται μέρος της κάτοψη κατοικίας του **ΠΑΡΑΡΤΗΜΑΤΟΣ**.

Όλα τα σχέδια είναι σε κλίμακα 1:100

ΑΣΚΗΣΗ 1 (20 μονάδες)

Στο **Σχήμα 1** να σχεδιάσετε όλες τις εσωτερικές τοιχοποιίες.

ΑΣΚΗΣΗ 2 (20 μονάδες)

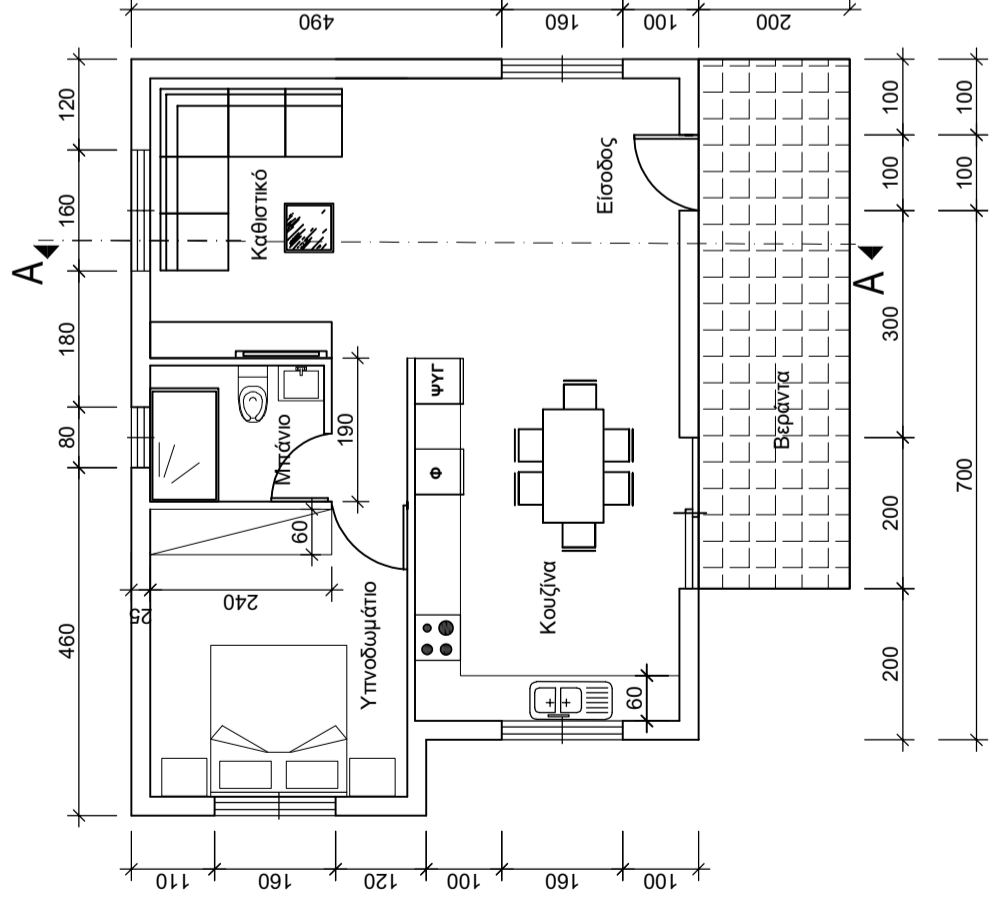
Στο **Σχήμα 1** να σχεδιάσετε όλα τα παράθυρα και να κατονομάσετε όλους τους χώρους.

ΑΣΚΗΣΗ 3 (20 μονάδες)

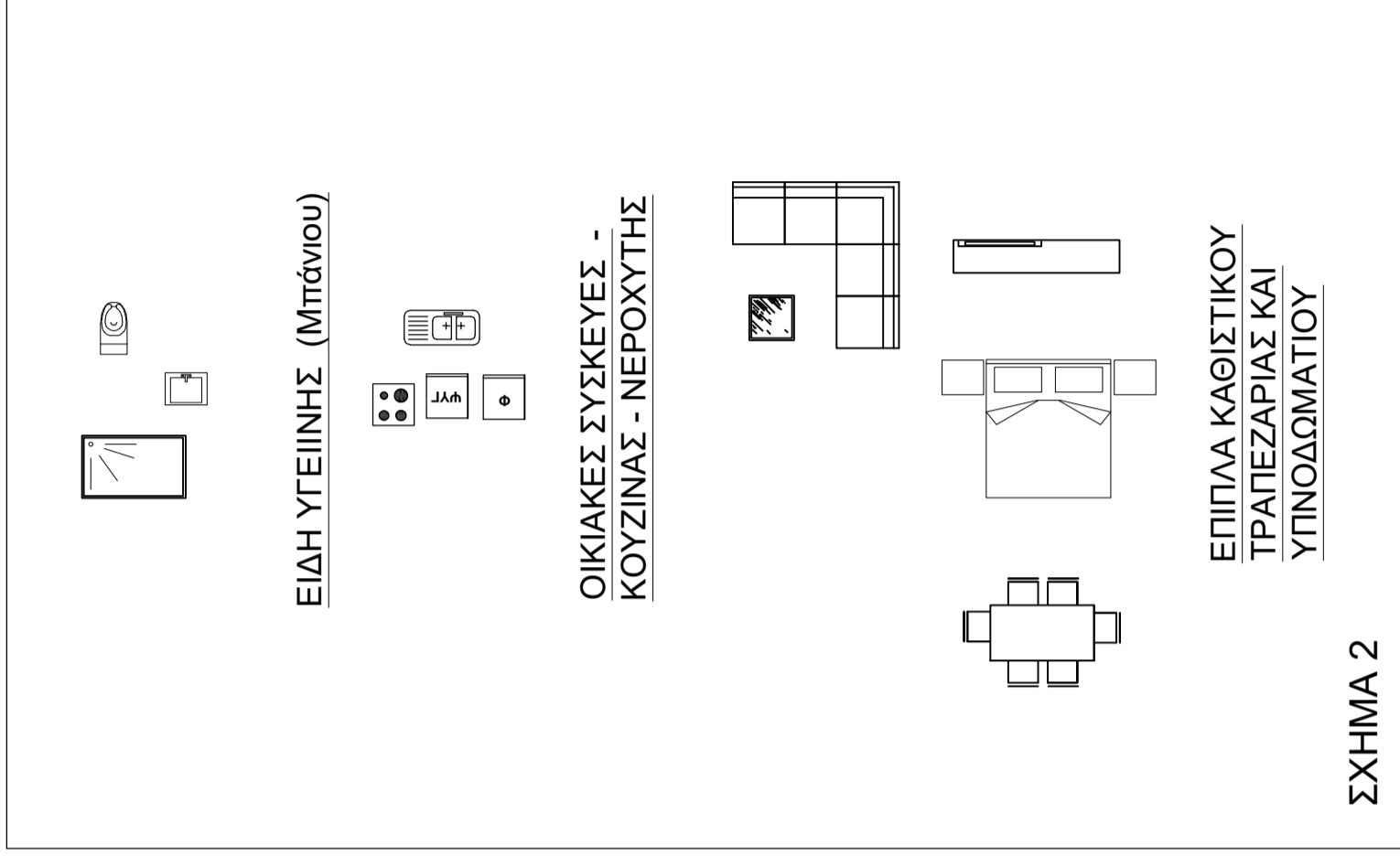
Στο **Σχήμα 1**:

α) να σχεδιάσετε τους πιάγκους κουζίνας και το ερμάρι του υπνοδωματίου.

β) να τοποθετήσετε στη σωστή θέση τα είδη υγιεινής, τις οικιακές συσκευές τον νεροχύτη και την επίπλωση που σας δίνονται στο **Σχήμα 2**.



ΣΧΗΜΑ 1
ΚΑΤΟΨΗ ΙΣΟΓΕΙΟΥ
κλίμακα 1:100

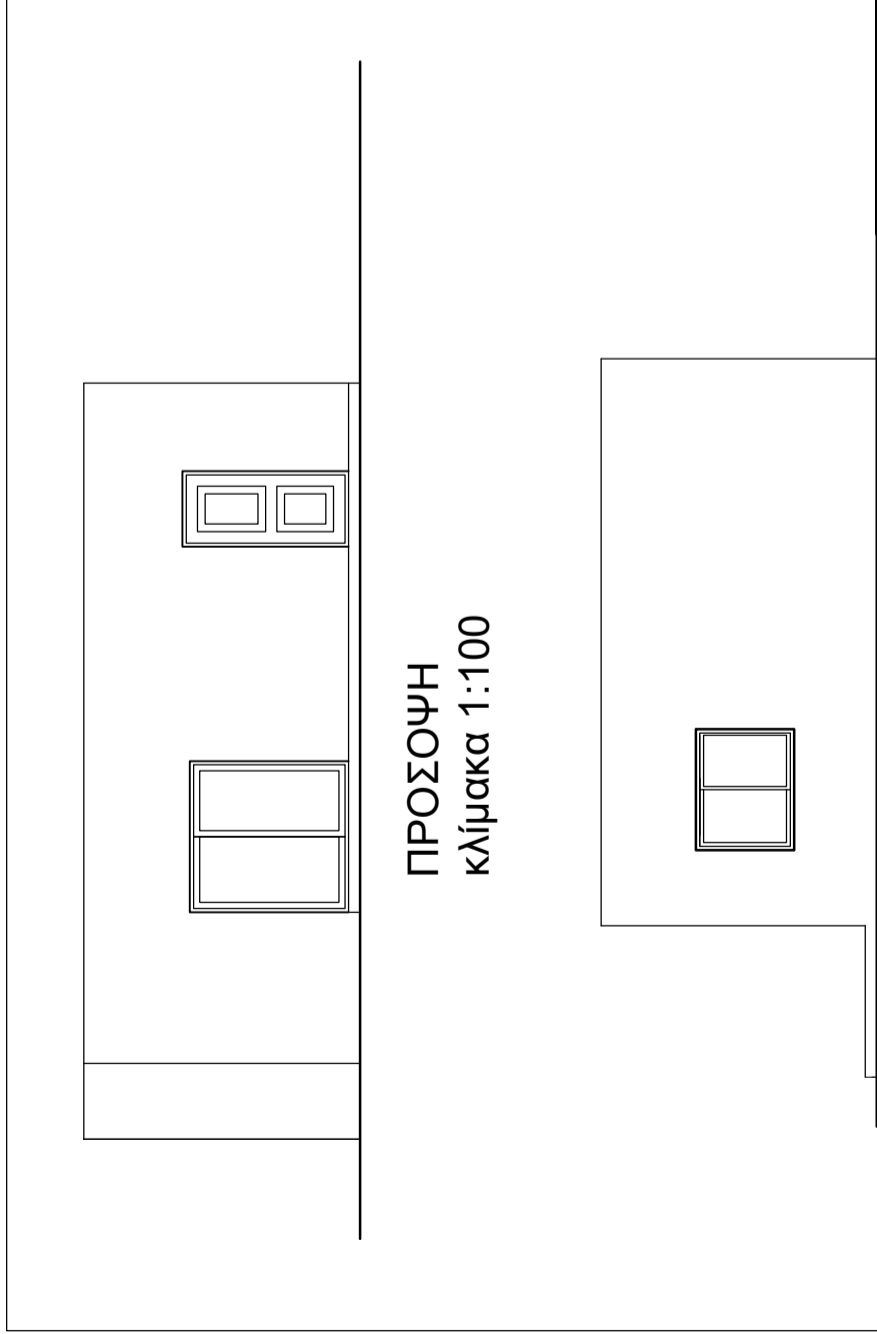


ΦΥΛΛΟ ΣΧΕΔΙΑΣΗΣ 2 - ΜΕΡΟΣ Β΄

Όλα τα σχέδια είναι σε κλίμακα 1:100

ΑΣΚΗΣΗ 4 (30 μονάδες)

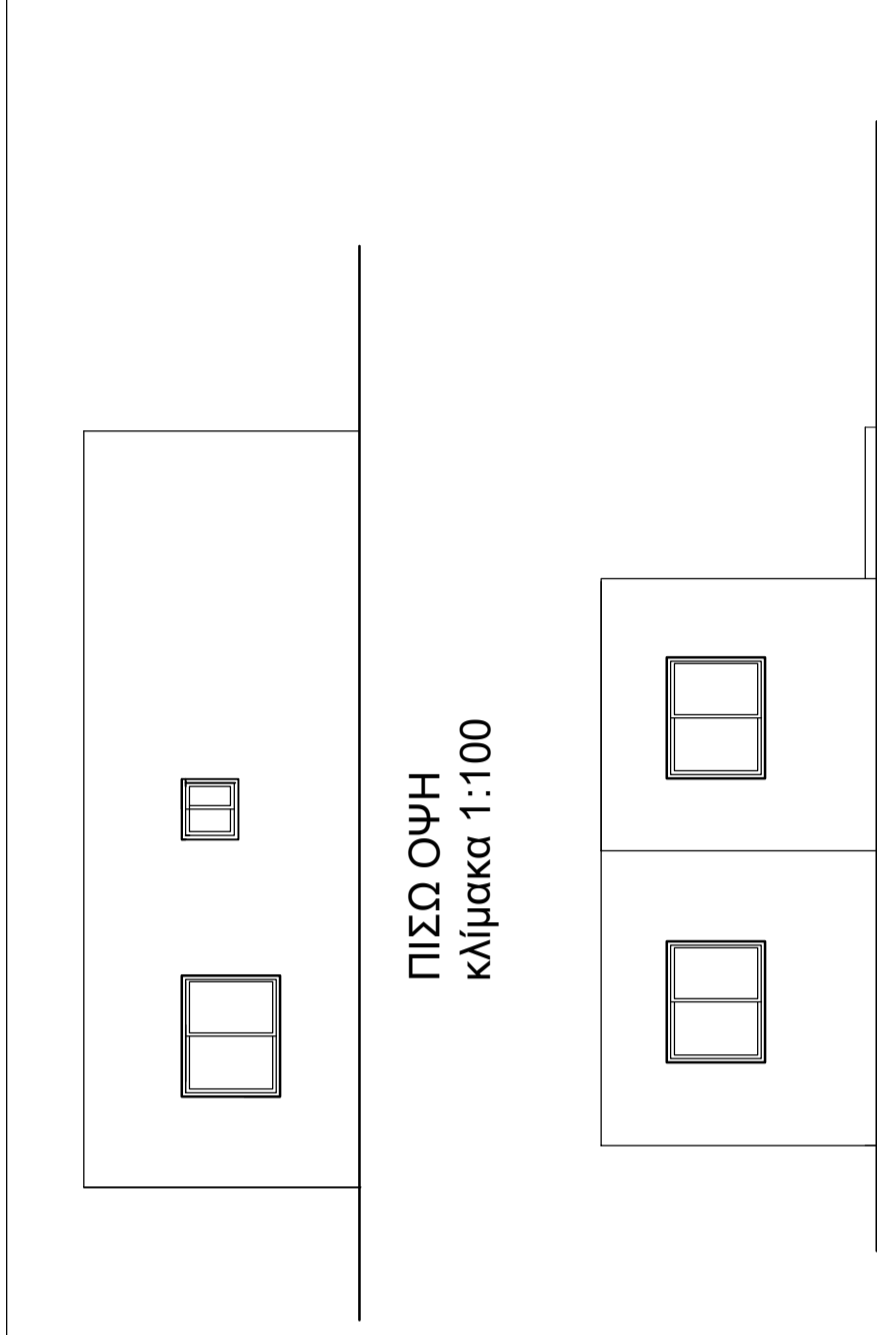
Να συμπληρώσετε σε κλίμακα 1:100 όλες τις όψεις του σχήματος 3 σύμφωνα με το σχέδιο της κάτοψης του παραρτήματος και της Τομής Α-Α του Σχήματος 4.
Πόρτες - παράθυρα να χρησιμοποιήσετε αυτά που σας δίνονται στο Σχήμα 5.



ΠΡΟΣΟΨΗ
κλίμακα 1:100

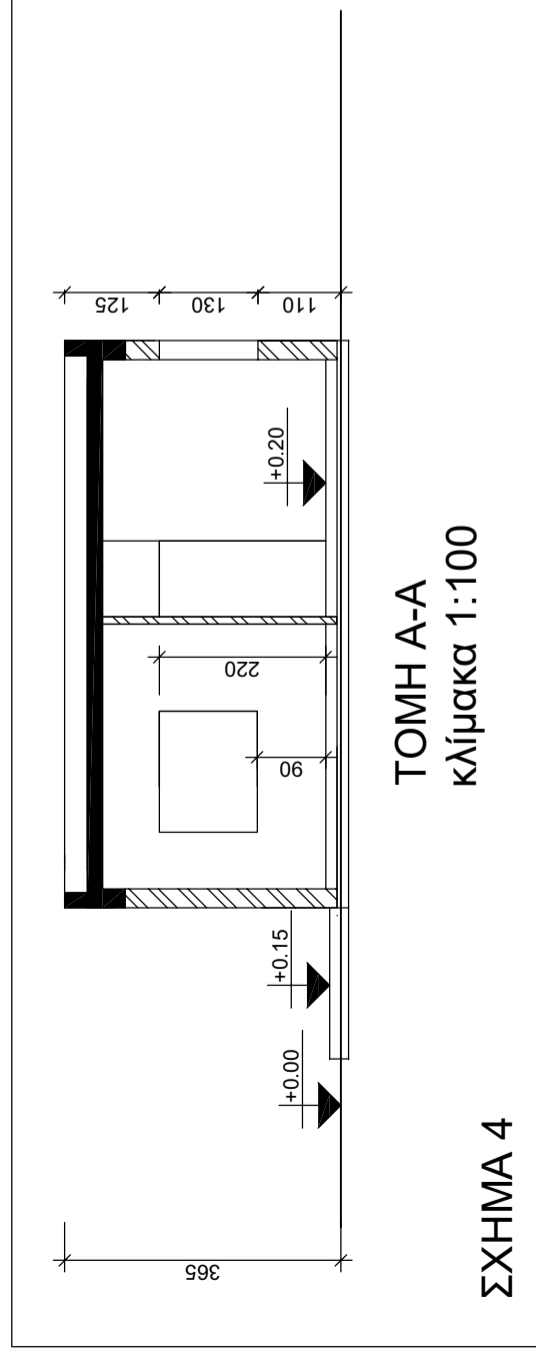
ΠΛΑΓΙΑ ΟΨΗ
κλίμακα 1:100

ΣΧΗΜΑ 3



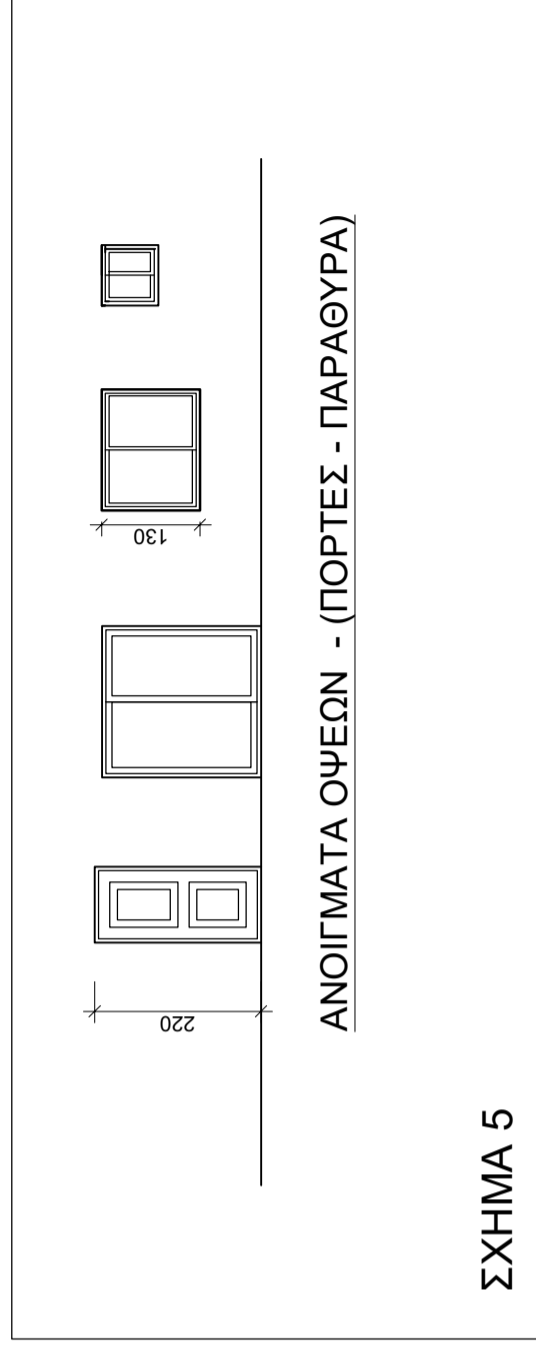
ΠΙΣΩ ΟΨΗ
κλίμακα 1:100

ΠΛΑΓΙΑ ΟΨΗ
κλίμακα 1:100



ΤΟΜΗ Α-Α
κλίμακα 1:100

ΣΧΗΜΑ 4



ΑΝΟΙΓΜΑΤΑ ΟΨΕΩΝ - (ΠΟΡΤΕΣ - ΠΑΡΑΘΥΡΑ)

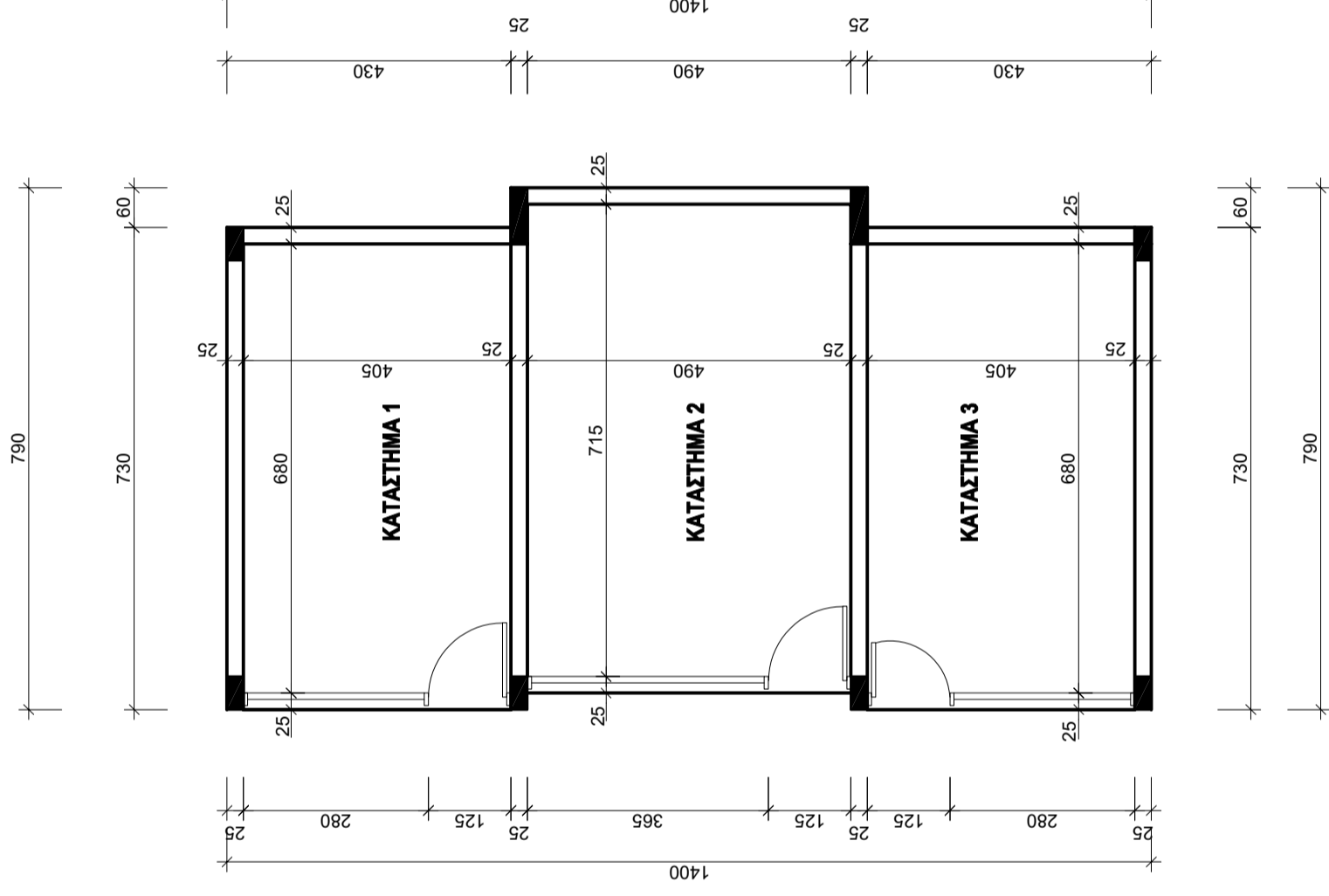
ΣΧΗΜΑ 5

ΦΥΛΛΟ ΣΧΕΔΙΑΣΗΣ 3 - ΜΕΡΟΣ Β΄

ΑΣΚΗΣΗ 5 (10 μονάδες)

Στο Σχήμα 6 δίνεται η κάτοψη ισόγειου συγκροτήματος καταστημάτων σε κλίμακα 1:100.

Να τοποθετήσετε τις εξωτερικές διαστάσεις.



ΣΧΗΜΑ 6
ΚΑΤΟΨΗ ΙΣΟΓΕΙΟΥ ΣΥΓΚΡΟΤΗΜΑΤΟΣ ΚΑΤΑΣΤΗΜΑΤΩΝ
κλίμακα 1:100