

Αρ. Ταυτότητας: Κωδ. Υποψ.:
ΕΠΩΝΥΜΟ:
ΟΝΟΜΑ: ΟΝΟΜΑ ΠΑΤΕΡΑ:
Σχολείο: Τμήμα:
(Μόνο για τελειόφοιτους)
Εξεταστικό Κέντρο:

**ΥΠΟΥΡΓΕΙΟ ΠΑΙΔΕΙΑΣ, ΑΘΛΗΤΙΣΜΟΥ
ΚΑΙ ΝΕΟΛΑΙΑΣ
ΔΙΕΥΘΥΝΣΗ ΑΝΩΤΕΡΗΣ ΕΚΠΑΙΔΕΥΣΗΣ
ΥΠΗΡΕΣΙΑ ΕΞΕΤΑΣΕΩΝ
ΠΑΓΚΥΠΡΙΕΣ ΕΞΕΤΑΣΕΙΣ ΠΡΟΣΒΑΣΗΣ 2023**

Μάθημα: ΣΧΕΔΙΑΣΜΟΣ ΚΑΙ ΤΕΧΝΟΛΟΓΙΑ (39)

**Ημερομηνία και ώρα εξέτασης: Τρίτη, 20 Ιουνίου 2023
08:00 – 11:00**

ΣΕΛΙΔΕΣ ΣΥΜΠΛΗΡΩΣΗΣ ΚΥΚΛΩΜΑΤΩΝ, ΔΙΑΓΡΑΜΜΑΤΩΝ ΚΑΙ ΣΧΕΔΙΩΝ

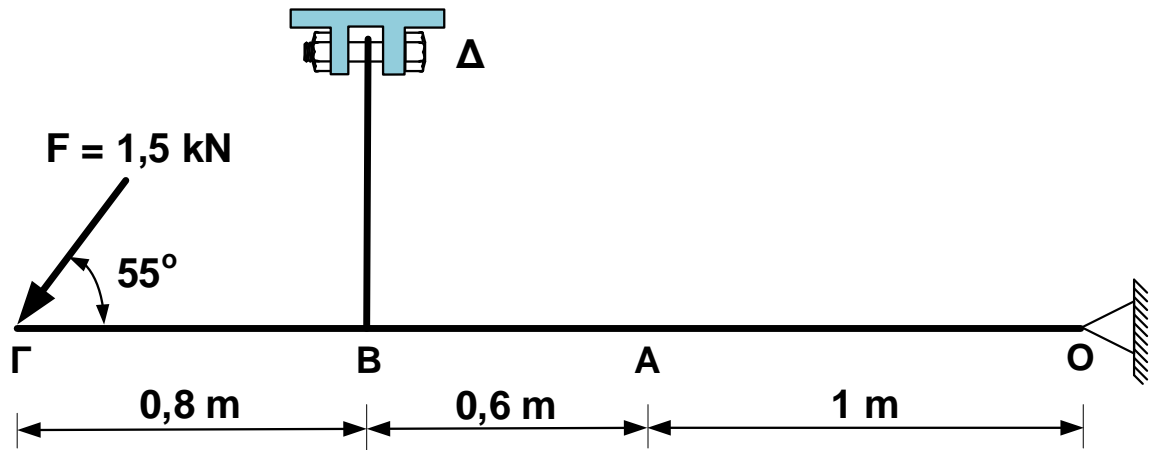
Το μέρος αυτό αποτελείται από **έξι (6) σελίδες** συμπεριλαμβανομένης και της παρούσας.

Οι σελίδες θα πρέπει να τοποθετηθούν πίσω από το μπροστινό εξώφυλλο του τετραδίου απαντήσεων και μετά να προσδεθούν με ειδικό κορδονάκι, ώστε εξωτερικά να αποτελούν ένα τετράδιο απαντήσεων.

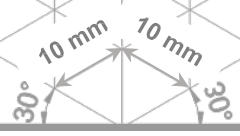

Οι σελίδες αυτές θα χρησιμοποιηθούν **ΜΟΝΟ** για τη συμπλήρωση των πιο κάτω:

- Από το **ΜΕΡΟΣ Β΄**, το σχεδιάγραμμα του **Θέματος 8(β)**.
- Από το **ΜΕΡΟΣ Γ΄**, το σχέδιο του **Θέματος 12**.
- Από το **ΜΕΡΟΣ Γ΄**, το κύκλωμα του **Θέματος 13(β)**.
- Από το **ΜΕΡΟΣ Γ΄**, το κύκλωμα του **Θέματος 14 (γ)**.
- Από το **ΜΕΡΟΣ Γ΄**, το κύκλωμα του **Θέματος 15(α)**.

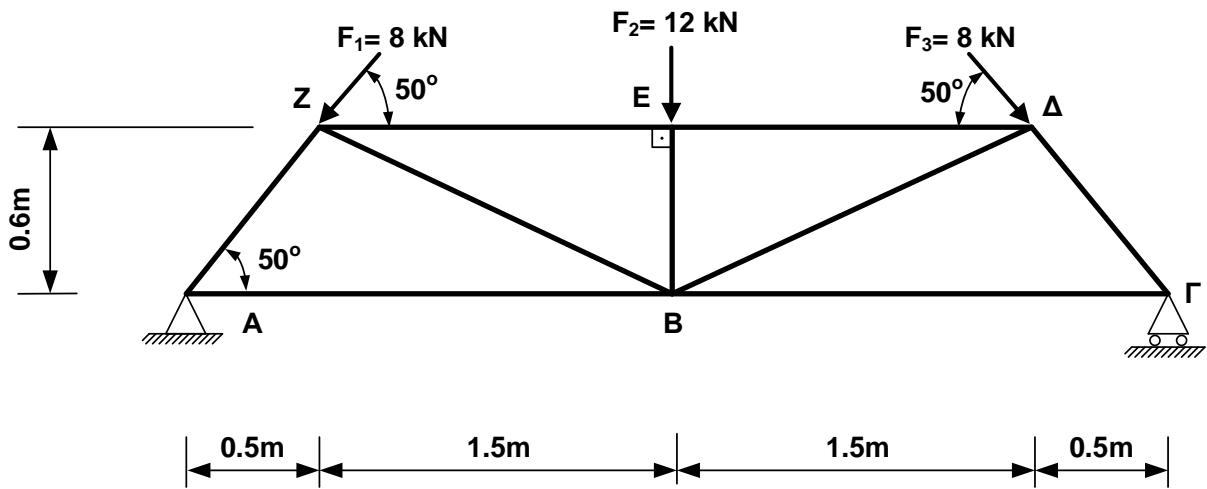
ΜΕΡΟΣ Β΄: ΘΕΜΑ 8(β)



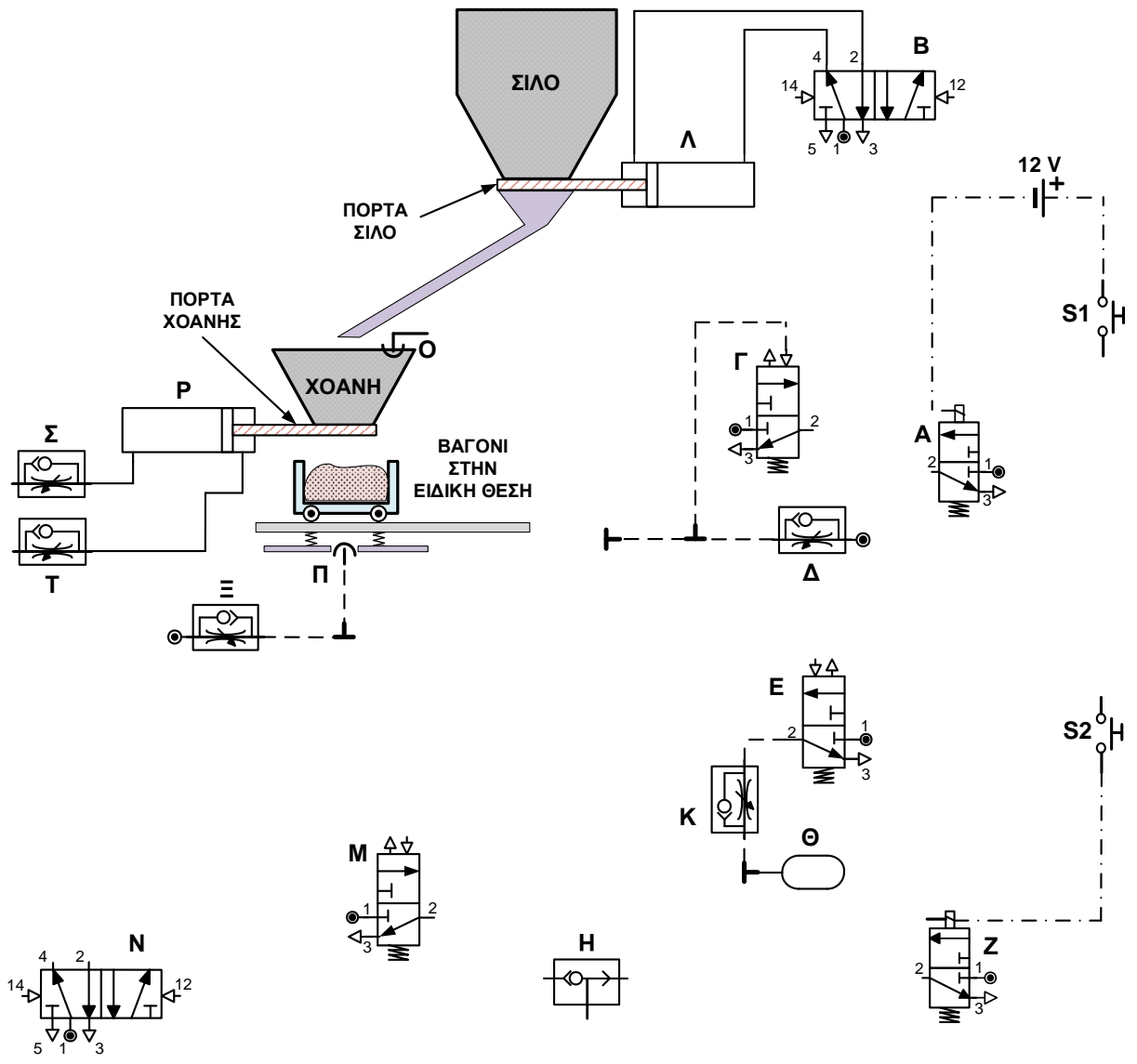
ΜΕΡΟΣ Γ': ΘΕΜΑ 12



ΜΕΡΟΣ Γ': ΘΕΜΑ 13(β)



ΜΕΡΟΣ Γ': ΘΕΜΑ 14(γ)



ΜΕΡΟΣ Γ': ΘΕΜΑ 15(α)

