

ΥΠΟΥΡΓΕΙΟ ΠΑΙΔΕΙΑΣ, ΑΘΛΗΤΙΣΜΟΥ
ΚΑΙ ΝΕΟΛΑΙΑΣ
ΔΙΕΥΘΥΝΣΗ ΑΝΩΤΕΡΗΣ ΕΚΠΑΙΔΕΥΣΗΣ
ΥΠΗΡΕΣΙΑ ΕΞΕΤΑΣΕΩΝ

ΠΑΓΚΥΠΡΙΕΣ ΕΞΕΤΑΣΕΙΣ ΠΡΟΣΒΑΣΗΣ 2023

ΜΑΘΗΜΑ : **ΑΡΧΙΤΕΚΤΟΝΙΚΟ ΣΧΕΔΙΟ Τ.Σ. (ΘΚ) (26)**
ΗΜΕΡΟΜΗΝΙΑ : **ΤΡΙΤΗ 13 ΙΟΥΝΙΟΥ 2023**
ΩΡΑ : **8:00 – 10:30**

Το εξεταστικό δοκίμιο αποτελείται από δύο (2) σελίδες Α4 (οδηγίες και παράρτημα 1) και τέσσερα (4) φύλλα σχεδίασης Α3.

Ο κάθε εξεταζόμενος και η κάθε εξεταζόμενη να εφοδιαστεί με τα πιο κάτω:

- Το εξεταστικό δοκίμιο
- Ένα έντυπο Α4 (χαρτονάκι) στο οποίο, αφού συμπληρώσουν τα στοιχεία τους, να επισυναφθούν και τα τέσσερα φύλλα σχεδίασης Α3.

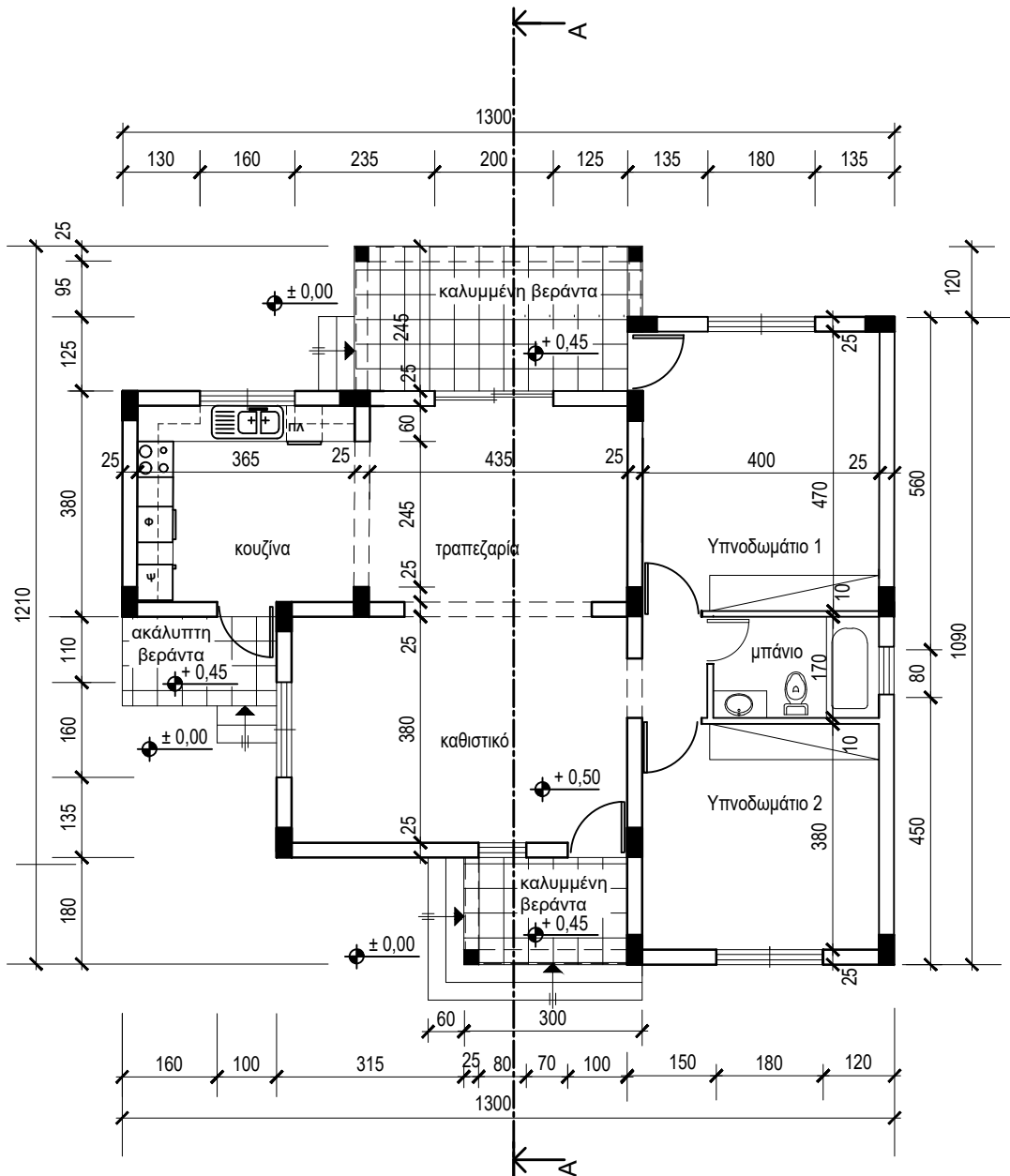
ΟΔΗΓΙΕΣ

Το δοκίμιο αποτελείται από δύο Μέρη, Α΄ και Β΄.

Να λύσετε όλες τις ασκήσεις στα τέσσερα φύλλα σχεδίασης Α3.

1. Να συμπληρώσετε τα στοιχεία σας **με μελάνι** στο έντυπο Α4 και στα τέσσερα φύλλα σχεδίασης.
2. Να προσέξετε τη διάταξη των σχεδίων στο κάθε φύλλο σχεδίασης.
3. Να προσέξετε τη γραμμογραφία, τα γράμματα, τους αριθμούς και τους συμβολισμούς.
4. Να προσέξετε την όλη εμφάνιση και την καθαρότητα των σχεδίων σας.
5. Οι βοηθητικές γραμμές να παραμείνουν στα σχέδια.
6. Διαστάσεις που δεν αναφέρονται, να υπολογιστούν σε συνάρτηση με τις δοσμένες διαστάσεις.
7. Επιτρέπεται η χρήση κλιμακόμετρου και στένσιλ επίπλων.
8. Επιτρέπεται η χρήση μη προγραμματιζόμενης υπολογιστικής μηχανής.

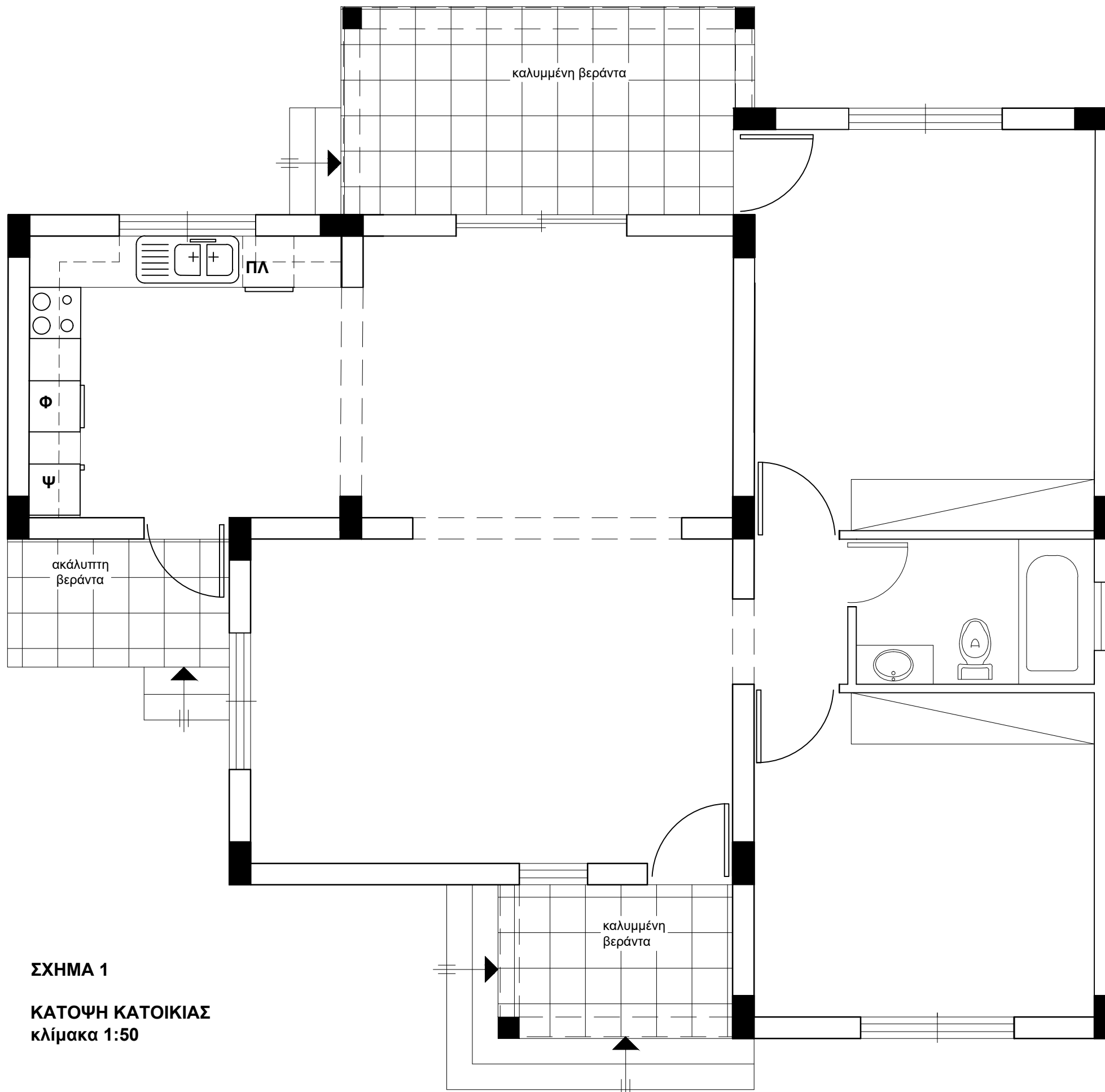
ΠΑΡΑΡΤΗΜΑ 1



ΚΑΤΩΦΗ
κλίμακα 1:100

ΠΡΟΣΟΦΗ
(ΑΝΑΤΟΛΙΚΗ ΟΨΗ)

ΕΠΩΝΥΜΟ :
 ΟΝΟΜΑ :
 ΚΩΔΙΚΟΣ ΥΠΟΨΗΦΙΟΥ :



ΣΧΗΜΑ 1
ΚΑΤΟΨΗ ΚΑΤΟΙΚΙΑΣ
κλίμακα 1:50

Στο **ΣΧΗΜΑ 1** δίνεται η κάτοψη της κατοικίας του Παραρτήματος 1 σε κλίμακα 1:50, χωρίς διαστάσεις.

ΑΣΚΗΣΗ 1 (10 μονάδες)

Να σχεδιάσετε την ηλεκτρολογική εγκατάσταση στο χώρο της κουζίνας, σύμφωνα με τη διαρρύθμιση των ηλεκτρικών συσκευών, χρησιμοποιώντας τα ηλεκτρολογικά σύμβολα που δίνονται στον ΠΙΝΑΚΑ 1.

Η ηλεκτρολογική εγκατάσταση να περιλαμβάνει τα πιο κάτω:

- ένα φωτιστικό οροφής ελεγχόμενο από διακόπτες αλέ-ρετούρ
- έξι ρευματοδότες
- σημείο τηλεφώνου/ίντερνετ
- ένα φωτιστικό τοίχου, στη βεράντα της κουζίνας ελεγχόμενο από απλό διακόπτη.

ΑΣΚΗΣΗ 2 (8 μονάδες)

Να διαρρυθμίσετε κατά τρόπο λειτουργικό και με βάση τα εργονομικά μεγέθη, το χώρο της τραπεζαρίας, σχεδιάζοντας την επίπλωση.

Η επίπλωση να περιλαμβάνει τα πιο κάτω:

- ένα τραπέζι 180X80 cm
- οκτώ καρέκλες τραπεζαρίας
- ένα έπιπλο μπουφέ 150X50 cm.

ΑΣΚΗΣΗ 3 (7 μονάδες)

Να διαρρυθμίσετε κατά τρόπο λειτουργικό και με βάση τα εργονομικά μεγέθη, το χώρο του υπνοδωματίου 2, σχεδιάζοντας την επίπλωση.

Η επίπλωση να περιλαμβάνει τα πιο κάτω:

- ένα κρεβάτι 100X200 cm
- ένα κομοδίνο 50X50 cm
- ένα έπιπλο γραφείου 100X60 cm με καρέκλα
- μια πολυθρόνα.

ΠΙΝΑΚΑΣ 1 - ΗΛΕΚΤΡΟΛΟΓΙΚΑ ΣΥΜΒΟΛΑ

	διακόπτης αλέ-ρετούρ		τηλεόραση
	διακόπτης απλός		τηλέφωνο/ίντερνετ
	φωτιστικό οροφής		συρματώσεις
	φωτιστικό τοίχου		ρευματοδότης

ΦΥΛΛΟ ΣΧΕΔΙΑΣΗΣ 2 - ΜΕΡΟΣ Α'

ΑΣΚΗΣΗ 4 (25 μονάδες)

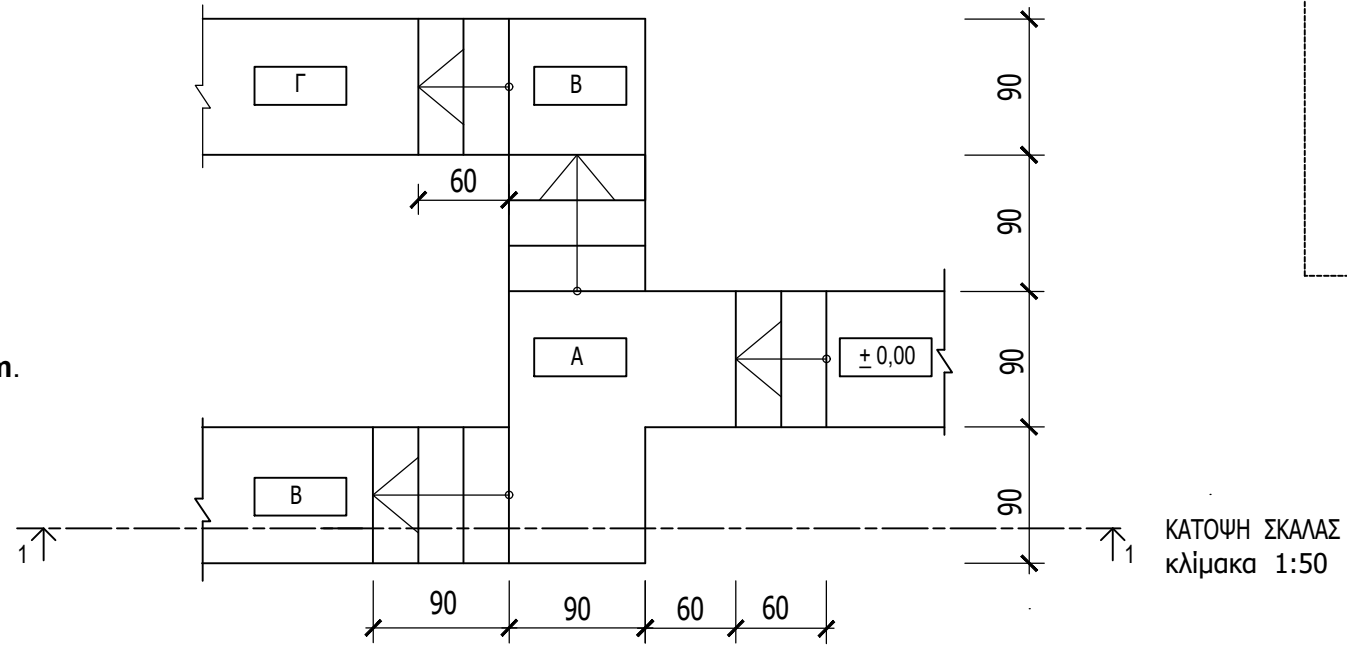
Δίνεται η κάτοψη σκάλας (κλίμακας) σε κλίμακα 1:50.

1. Να σχεδιάσετε, στο **φύλλο σχεδίασης 2**, σε κλίμακα **1:20** την **τομή 1-1** της σκάλας (κλίμακας).
2. Να υπολογίσετε τα υψόμετρα Α, Β και Γ στα πλατύσκαλα και να αναγράψετε **όλα τα υψόμετρα** στην τομή.
3. Να αναγράψετε τον τίτλο και την κλίμακα του σχεδίου.

Σημειώσεις :

- Το πλάτος (πάτημα) των βαθμίδων της σκάλας είναι **30 cm**.
- Το ύψος των βαθμίδων είναι **18 cm**
- Η σκάλα είναι κατασκευασμένη από οπλισμένο σκυρόδεμα και το πάχος της πλάκας της είναι **15 cm**.

Να μη σχεδιαστεί η κάτοψη της σκάλας.



ΕΠΩΝΥΜΟ :

ΟΝΟΜΑ :

ΚΩΔΙΚΟΣ ΥΠΟΨΗΦΙΟΥ :

ΑΣΚΗΣΗ 5 (20 μονάδες)

Στο Παράρτημα 1, δίνεται η κάτοψη κατοικίας σε κλίμακα 1:100.

- Να σχεδιάσετε σε κλίμακα **1:50**, την **πρόσοψη (Ανατολική όψη)** της κατοικίας, λαμβάνοντας υπόψη όλες τις πληροφορίες που δίνονται στις σημειώσεις και στο τμήμα της τυπικής τομής.
- Να αναγράψετε τον τίτλο και την κλίμακα του σχεδίου.

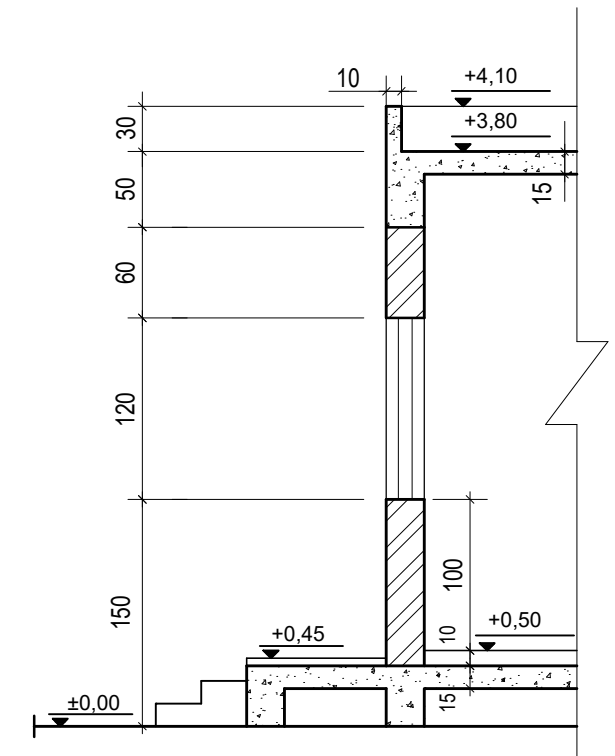
Σημειώσεις :

- Οι διαστάσεις δίνονται σε **εκατοστόμετρα (cm)** και τα υψόμετρα σε **μέτρα (m)**. Όπου δεν αναγράφονται οι διαστάσεις να υπολογιστούν σε συνάρτηση με τις δοσμένες διαστάσεις.
- Το ύψος της πάνω πλευράς των ανοιγμάτων των θυρών και των παραθύρων (ανώφλι) είναι **220 cm** από το δάπεδο του εσωτερικού χώρου της κατοικίας.
- Το ύψος του κάτω μέρους των παραθύρων (ποδιά) είναι 100 cm από το δάπεδο του εσωτερικού χώρου της κατοικίας, **εκτός από εκείνο της κουζίνας που είναι 120 cm από το δάπεδο.**

ΕΠΩΝΥΜΟ :

ΟΝΟΜΑ :

ΚΩΔΙΚΟΣ ΥΠΟΨΗΦΙΟΥ :



ΤΥΠΙΚΗ ΤΟΜΗ
Κλίμακα 1:50

ΑΣΚΗΣΗ 6 (30 μονάδες)

Στο Παράρτημα 1, δίνεται η κάτοψη κατοικίας σε κλίμακα 1:100.

- Να σχεδιάσετε σε κλίμακα **1:50**, την **τομή Α - Α** της κατοικίας, λαμβάνοντας υπόψη όλες τις πληροφορίες που δίνονται στις σημειώσεις και στο τμήμα της τυπικής τομής.
- Να αναγράψετε τα απαραίτητα υψόμετρα (υψόμετρο εδάφους, δαπέδου βεράντας, δαπέδου εσωτερικού χώρου, πάνω μέρος πλάκας οροφής και στηθαίου οροφής).
- Να αναγράψετε τον τίτλο και την κλίμακα του σχεδίου.
- Να μην σχεδιάσετε τους πάγκους της κουζίνας.

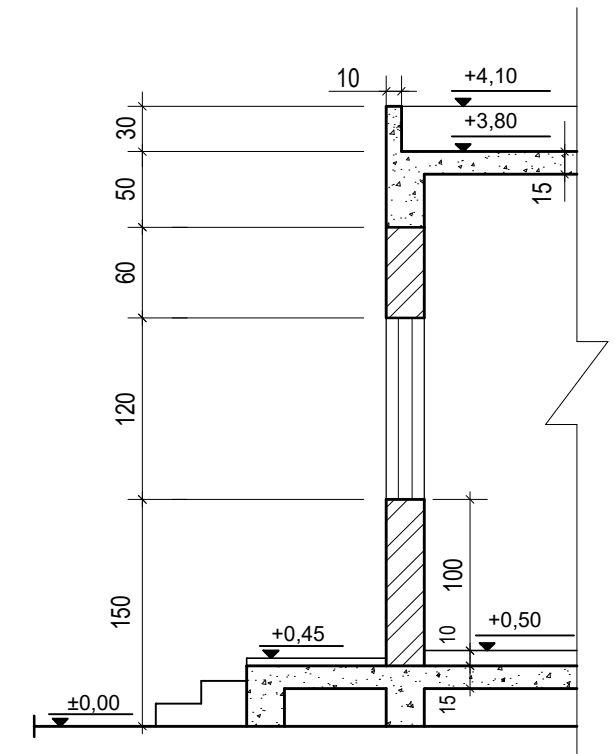
Σημειώσεις :

- Οι διαστάσεις δίνονται σε **εκατοστόμετρα (cm)** και τα υψόμετρα σε **μέτρα (m)**. Όπου δεν αναγράφονται οι διαστάσεις να υπολογιστούν σε συνάρτηση με τις δοσμένες διαστάσεις.
- Το ύψος της πάνω πλευράς των ανοιγμάτων των θυρών και των παραθύρων (ανώφλι) είναι **220 cm** από το δάπεδο του εσωτερικού χώρου της κατοικίας.
- Το ύψος του κάτω μέρους των παραθύρων (ποδιά) είναι 100 cm από το δάπεδο του εσωτερικού χώρου της κατοικίας, **εκτός από εκείνο της κουζίνας που είναι 120 cm από το δάπεδο.**

ΕΠΩΝΥΜΟ :

ΟΝΟΜΑ :

ΚΩΔΙΚΟΣ ΥΠΟΨΗΦΙΟΥ :



ΤΥΠΙΚΗ ΤΟΜΗ
Κλίμακα 1:50