

ΥΠΟΥΡΓΕΙΟ ΠΑΙΔΕΙΑΣ, ΠΟΛΙΤΙΣΜΟΥ, ΑΘΛΗΤΙΣΜΟΥ ΚΑΙ ΝΕΟΛΑΙΑΣ
ΔΙΕΥΘΥΝΣΗ ΜΕΣΗΣ ΓΕΝΙΚΗΣ ΕΚΠΑΙΔΕΥΣΗΣ
ΔΙΕΥΘΥΝΣΗ ΜΕΣΗΣ ΤΕΧΝΙΚΗΣ ΚΑΙ ΕΠΑΓΓΕΛΜΑΤΙΚΗΣ ΕΚΠΑΙΔΕΥΣΗΣ
ΚΑΙ ΚΑΤΑΡΤΙΣΗΣ

ΕΝΙΑΙΑ ΓΡΑΠΤΗ ΑΞΙΟΛΟΓΗΣΗ Α΄ ΤΕΤΡΑΜΗΝΟΥ 2021-2022

Γ΄ ΤΑΞΗΣ ΛΥΚΕΙΟΥ

ΣΕΙΡΑ Α΄

ΗΜΕΡΟΜΗΝΙΑ: ΤΡΙΤΗ 25 ΙΑΝΟΥΑΡΙΟΥ 2022

ΕΞΕΤΑΖΟΜΕΝΟ ΜΑΘΗΜΑ: ΓΡΑΦΙΣΤΙΚΕΣ ΕΦΑΡΜΟΓΕΣ Γ΄ ΛΥΚΕΙΟΥ

ΚΩΔΙΚΟΣ ΜΑΘΗΜΑΤΟΣ: Γ067

ΣΥΝΟΛΙΚΗ ΔΙΑΡΚΕΙΑ ΓΡΑΠΤΗΣ ΕΞΕΤΑΣΗΣ
ΓΡΑΦΙΣΤΙΚΩΝ ΕΦΑΡΜΟΓΩΝ: 90 λεπτά

ΤΟ ΕΞΕΤΑΣΤΙΚΟ ΔΟΚΙΜΙΟ ΑΠΟΤΕΛΕΙΤΑΙ ΑΠΟ ΕΝΝΕΑ (9) ΣΕΛΙΔΕΣ
ΤΑ ΜΕΡΗ ΤΟΥ ΕΞΕΤΑΣΤΙΚΟΥ ΔΟΚΙΜΙΟΥ ΕΙΝΑΙ ΔΥΟ (Α΄ ΚΑΙ Β΄)

ΟΔΗΓΙΕΣ (για τους εξεταζομένους)

1. Στο έντυπο Α4 (χαρτονάκι) να συμπληρώσετε όλα τα κενά με τα στοιχεία που ζητούνται. Στο τέλος της εξέτασης το έντυπο Α4 (χαρτονάκι) θα επισυναφθεί στο εξεταστικό δοκίμιο από τον επιτηρητή.
2. **Να απαντήσετε ΟΛΑ τα ερωτήματα και να εκτελέσετε ΟΛΕΣ τις σχεδιαστικές ασκήσεις πάνω στο εξεταστικό δοκίμιο.**
3. Οι συνολικές μονάδες του εξεταστικού δοκιμίου είναι 100.
4. Ο αριθμός των μονάδων για κάθε ερώτηση/σχεδιαστική άσκηση, παρουσιάζεται στο τέλος της ερώτησης/σχεδιαστικής άσκησης ή του υποερωτήματος, σε παρένθεση.
5. Να μη γράψετε πουθενά το όνομά σας στο εξεταστικό δοκίμιο, εκτός του καθορισμένου χώρου στο χαρτονάκι που σας έχει δοθεί.
6. Να απαντήσετε σε όλα τα θέματα μόνο με μπλε πένα ανεξίτηλης μελάνης. Στις σχεδιαστικές ασκήσεις να χρησιμοποιήσετε το υλικό με βάση τις οδηγίες που δίνονται.
7. Απαγορεύεται η χρήση διορθωτικού υγρού και διορθωτικής ταινίας.
8. Το διαφανές φύλλο σχεδίασης (ριζόχαρτο) που σας δόθηκε να χρησιμοποιηθεί ως βοηθητικό μέσο και δεν επιστρέφεται.

ΣΑΣ ΕΥΧΟΜΑΣΤΕ ΚΑΛΗ ΕΠΙΤΥΧΙΑ

ΜΕΡΟΣ Α΄**(ΜΟΝΑΔΕΣ 40)****Αποτελείται από οκτώ (8) ερωτήσεις.****Να απαντήσετε και στις οκτώ (8) ερωτήσεις.****ΕΡΩΤΗΣΗ 1****(μονάδες 3)****Να υπογραμμίσετε τη σωστή απάντηση.****α. Ποια γραμμή από τις πιο κάτω συμβολίζει σταθερότητα:**

- i. η ευθεία οριζόντια
- ii. η διαγώνια
- iii. η καμπύλη
- iv. η τεθλασμένη

(μονάδα 1)**β. Ποια γραμμή από τις πιο κάτω συμβολίζει έκρηξη:**

- i. η ευθεία οριζόντια
- ii. η διαγώνια
- iii. η καμπύλη
- iv. η τεθλασμένη

(μονάδα 1)**γ. Ποια γραμμή από τις πιο κάτω συμβολίζει ροή:**

- i. η ευθεία οριζόντια
- ii. η διαγώνια
- iii. η καμπύλη
- iv. η τεθλασμένη

(μονάδα 1)**ΕΡΩΤΗΣΗ 2****(μονάδες 6)****Να συμπληρώσετε τα κενά στις παρακάτω προτάσεις:****α. Το αντίθετο χρώμα του μπλε είναι το****β. Το αντίθετο χρώμα του κόκκινου είναι το****γ. Το αντίθετο χρώμα του κίτρινου είναι το****δ. Ένα θερμό χρώμα είναι το****ε. Ένα ψυχρό χρώμα είναι το****στ. Μία από τις τρεις ιδιότητες των χρωμάτων είναι**

ΕΡΩΤΗΣΗ 3

(μονάδες 3)

Σας δίνονται τα παρακάτω συστήματα γραφής.

Να αναγνωρίσετε τη γραφή επιλέγοντας από τις παρακάτω λέξεις.

Να σημειώσετε τις απαντήσεις σας στον κενό χώρο.

Κινεζική γραφή, Αιγυπτιακή Ιερογλυφική γραφή, Σουμερική Σφηνοειδής γραφή



α.



β.






γ.

ΕΡΩΤΗΣΗ 4

(μονάδες 6)

Να τοποθετήσετε σε σειρά τα παρακάτω αλφάβητα σύμφωνα με τη χρονική περίοδο εξέλιξής τους αρχίζοντας από το αρχαιότερο.

Λατινικό αλφάβητο, Ελληνικό αλφάβητο, Φοινικικό αλφάβητο

1.	
2.	
3.	

ΕΡΩΤΗΣΗ 5

(μονάδες 4)

Να αναγνωρίσετε την κατηγορία γραμματοσειράς στην οποία ανήκουν τα πιο κάτω γράμματα, επιλέγοντας από τις ακόλουθες λέξεις:

Με προεξοχές, Χωρίς προεξοχές, Καλλιγραφικά, Χειρόγραφα

Να σημειώσετε τις απαντήσεις σας στον κενό χώρο.



α.



β.



γ.



δ.

ΕΡΩΤΗΣΗ 6


(μονάδες 6)

Να δώσετε τον κατάλληλο χαρακτηρισμό για τον τύπο των παρακάτω τυπογραφικών στοιχείων, επιλέγοντας από τις ακόλουθες λέξεις.

Να σημειώσετε τις απαντήσεις σας στον κενό χώρο.

ΠΡΟΣΟΧΗ: Δύο από τις λέξεις είναι λανθασμένες.

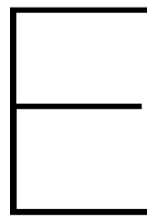
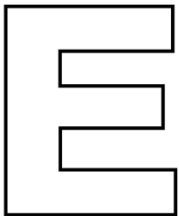
Λευκά, Μαύρα, Κυρτά, Περιγραμμισμένα, Σκιασμένα, Ανισοπαχή, Στενά, Καλλιγραφικά



α.

β.

γ.



δ.

ε.

στ.

ΕΡΩΤΗΣΗ 7

(μονάδες 6)

Να αναγνωρίσετε τα χαρακτηριστικά των τυπογραφικών στοιχείων στη λέξη *Typography* επιλέγοντας από τις παρακάτω λέξεις.

Να σημειώσετε τις απαντήσεις σας στον κενό χώρο.

ΠΡΟΣΟΧΗ: Δύο από τις λέξεις είναι λανθασμένες.

Ύψος-κ, Γραμμή κεφαλαίων, Ανιούσα κοντυλιά, Ύψος κεφαλαίων, Ακρεμόνας/προεξοχή, Γραμμή βάσης, Γραμμή-κ, Κατιούσα κοντυλιά



α.

β.

γ.

δ.

ε.

στ.


ΕΡΩΤΗΣΗ 8

(μονάδες 6)

Να παρατηρήσετε τα παρακάτω λογότυπα και να γράψετε την κατηγορία στην οποία ανήκει το κάθε ένα.



α.



β.



γ.



δ.



ε.



στ.

ΤΕΛΟΣ ΜΕΡΟΥΣ Α΄
ΑΚΟΛΟΥΘΕΙ ΤΟ ΜΕΡΟΣ Β΄

ΜΕΡΟΣ Β΄

(ΜΟΝΑΔΕΣ 60)

Αποτελείται από δύο (2) ασκήσεις.

Να εκτελέσετε και τις δύο (2) ασκήσεις.

ΑΣΚΗΣΗ 9

(μονάδες 15)

Να επιλέξετε ένα από τα τυπογραφικά στοιχεία που σας δίνονται παρακάτω και να σχεδιάσετε εντός του **Πλαισίου 1**, εκείνο που ανήκει στην κατηγορία «Με προεξοχές/ακρεμόνες/πατούρες».

Σχεδιαστικές απαιτήσεις:

Για την αποτύπωση (αντιγραφή) του τυπογραφικού στοιχείου να χρησιμοποιήσετε μολύβι και διαφανές φύλλο σχεδίασης (ριζόχαρτο).

Να μαυρίσετε το τυπογραφικό στοιχείο με μαύρο πένακι.


Κριτήρια Αξιολόγησης:

1. Σωστή επιλογή τυπογραφικού στοιχείου μονάδες 5
2. Ποιότητα εκτέλεσης μονάδες 10

ΣΥΝΟΛΟ 15



Πλαίσιο 1



ΑΣΚΗΣΗ 10

(μονάδες 45)

Να σχεδιάσετε μια έγχρωμη πρόταση για το λογότυπο του νέου ανθοπωλείου της γειτονιάς «**ΛΟΥΛΟΥΔΙ**». Τα λουλούδια είναι ένας υπέροχος τρόπος για να εκφράσουμε στους άλλους τα συναισθήματά μας.

Σας δίνονται:

- Η **ΕΠΩΝΥΜΙΑ** του ανθοπωλείου «**ΛΟΥΛΟΥΔΙ**» (σελίδα 8)
- **ΕΙΚΟΝΕΣ** (σελίδα 8)

Μπορείτε, εάν θέλετε, να χρησιμοποιήσετε δικές σας εικόνες/σχήματα σχετικά με το θέμα.

Σχεδιαστικές απαιτήσεις:

Το λογότυπο να αποτελείται από την επωνυμία «**ΛΟΥΛΟΥΔΙ**» και το σήμα/σύμβολο που θα σχεδιάσετε.

Να χρησιμοποιήσετε δύο (2) χρώματα.

Τα στοιχεία μπορείτε να τα αξιοποιήσετε με αποτύπωση (αντιγραφή) στο μέγεθος και θέση που επιθυμείτε.

Το διαφανές φύλλο σχεδίασης (ριζόχαρτο) το οποίο σας δόθηκε να χρησιμοποιηθεί ως βοηθητικό μέσο και δεν θα τύχει αξιολόγησης.

Η κοπή και η επικόλληση των στοιχείων δεν επιτρέπεται.

Κριτήρια Αξιολόγησης:

1. Επωνυμία μονάδες 10
2. Σχεδιασμός σήματος/συμβόλου μονάδες 20
3. Ορθή χρήση χρωμάτων μονάδες 5
4. Ποιότητα εκτέλεσης μονάδες 10

ΣΥΝΟΛΟ 45

ΕΓΧΡΩΜΗ ΠΡΟΤΑΣΗ ΛΟΓΟΤΥΠΟΥ

ΕΠΩΝΥΜΙΑ


λουλούδι
λουλούδι

Λουλούδι
Λουλούδι

λουλούδι
λουλούδι

λουλούδι
λουλούδι

ΕΙΚΟΝΕΣ



ΤΕΛΟΣ ΕΞΕΤΑΣΤΙΚΟΥ ΔΟΚΙΜΟΥ

ΠΡΟΧΕΙΡΟ

Αυτή η σελίδα δεν αξιολογείται

ΠΡΟΧΕΙΡΟ