

ΥΠΟΥΡΓΕΙΟ ΠΑΙΔΕΙΑΣ, ΠΟΛΙΤΙΣΜΟΥ, ΑΘΛΗΤΙΣΜΟΥ
ΚΑΙ ΝΕΟΛΑΙΑΣ
ΔΙΕΥΘΥΝΣΗ ΑΝΩΤΕΡΗΣ ΕΚΠΑΙΔΕΥΣΗΣ
ΥΠΗΡΕΣΙΑ ΕΞΕΤΑΣΕΩΝ

ΠΑΓΚΥΠΡΙΕΣ ΕΞΕΤΑΣΕΙΣ ΠΡΟΣΒΑΣΗΣ 2022

Μάθημα: ΕΛΕΥΘΕΡΟ - ΠΡΟΟΠΤΙΚΟ ΣΧΕΔΙΟ (22)

Ημερομηνία και ώρα εξέτασης: Τρίτη 28 Ιουνίου 2022

8:00 – 11:30

ΤΟ ΕΞΕΤΑΣΤΙΚΟ ΔΟΚΙΜΙΟ ΑΠΟΤΕΛΕΙΤΑΙ ΑΠΟ ΠΕΝΤΕ (5) ΣΕΛΙΔΕΣ Α4 ΚΑΙ
ΠΕΡΙΛΑΜΒΑΝΕΙ ΔΥΟ (2) ΑΣΚΗΣΕΙΣ ΣΕ ΦΥΛΛΑ ΣΧΕΔΙΑΣΗΣ Α3

ΟΔΗΓΙΕΣ

1. Να συμπληρώσετε τα στοιχεία σας με μελάνι στο έντυπο εξώφυλλο Α4 καθώς και στα δύο φύλλα σχεδίασης μεγέθους Α3.
2. Να λύσετε και τις δύο ασκήσεις (Μέρος Α και Μέρος Β) με τη σειρά που επιθυμείτε, την κάθε μία στο αντίστοιχο φύλλο σχεδίασης μεγέθους Α3.
3. Οι λύσεις των ασκήσεων να σχεδιαστούν στην ίδια όψη του φύλλου σχεδίασης, όπου θα αναγράφονται και τα στοιχεία σας.
4. Να παραδώσετε ταυτόχρονα το έντυπο εξώφυλλο Α4 και τα δύο φύλλα σχεδίασης, είτε λύσετε όλα τα θέματα είτε όχι.
5. *Με ευθύνη των επιτηρητών, στην παρουσία του μαθητή που παραδίδει, να γίνουν τα ακόλουθα:*
 - I. Το εξώφυλλο να επικαλύπτει τα δύο (2) φύλλα σχεδίασης και όλα μαζί να συνδεθούν με συρραπτικό.*
 - II. Στο τέλος, να επικολληθούν οι τρεις (3) αυτοκόλλητες ετικέτες για επικάλυψη των στοιχείων του εξεταζόμενου.*

ΜΕΡΟΣ Α: ΠΡΟΟΠΤΙΚΟ ΣΧΕΔΙΟ

Δίνονται:

α) η όψη Α' και η όψη Β' μικρής οικοδομής, που αποτελείται από το ισόγειο και όροφο. Επίσης δίνονται η κάτοψη ισογείου και η κάτοψη ορόφου (σελ.4).

β) η κάτοψη ισογείου της οικοδομής, τοποθετημένη υπό κλίση 45° ως προς τη γραμμή εδάφους, με διαστάσεις. Το σημείο Α της κάτοψης εφάπτεται της γραμμής εδάφους. Στο σημείο Ο' φαίνεται η θέση παρατηρητή, που απέχει από τον πίνακα προβολής (γραμμή εδάφους) 19 μέτρα, δηλ. ο οπτικός άξονας Ο'Κ = 19 μέτρα (σελ. 5).

γ) η κάτοψη ισογείου, σχεδιασμένη στο φύλλο σχεδίασης Α3, όπου θα κάνετε το σχέδιό σας. (Το τελικό σας σχέδιο επιτρέπεται να την επικαλύψει).

(δ) Οι αναγραφόμενες διαστάσεις δίνονται σε μέτρα.

(ε) Κλίμακα σχεδίασης 1: 100

Ζητούνται:

I. Να σχεδιαστεί το προοπτικό της οικοδομής.

Ύψος παρατήρησης: 1.80 μέτρα.

Κριτήρια αξιολόγησης

- Ορθή διαδικασία σχεδίασης(προβολές, σημεία τομής, σημεία φυγής)
- Ορθή σχεδίαση προοπτικής απεικόνισης της δεδομένης οικοδομής.

(Μονάδες 24)

II. Να σχεδιάσετε τουλάχιστον τρία (3) διαφορετικά, επιπλέον αρχιτεκτονικά/ οικοδομικά στοιχεία της δικής σας επιλογής στο προοπτικό της πιο πάνω οικοδομής, όπως ανοίγματα (π.χ. πόρτα-παράθυρο), στέγαστρο, καπνοδόχο, προεξοχή, προέκταση (π.χ. δωμάτιο, όροφο, γκαράζ ή άλλους χώρους), τοιχοποιία (π.χ. επίχρισμα, διακοσμητική λιθοδομή), πλακόστρωτο, διάδρομο, πισίνα, ανθώνες κ.α., ώστε να εμπλουτιστεί αισθητικά και λειτουργικά η οικοδομή και ο περιβάλλον χώρος με τα δικά σας δημιουργικά στοιχεία. Στον περιβάλλοντα χώρο να προσθέσετε επίσης, τουλάχιστον δύο δέντρα ύψους 5 μέτρων, τοποθετημένα το καθένα σε διαφορετική απόσταση από τον παρατηρητή Ο'.

Κριτήρια αξιολόγησης

- Ορθή προοπτική απόδοση των τριών (3) ζητούμενων αρχιτεκτονικών/ οικοδομικών στοιχείων.
- Ορθή τοποθέτηση και ορθή προοπτική σχεδίαση των δέντρων.
- Δημιουργικότητα.

(Μονάδες 21)

III. Να αποδώσετε τη σύνθεση χρησιμοποιώντας χρώματα και υλικά της επιλογής σας (χρωματιστά μολύβια, νερομπογιά, μολύβια ακουαρέλας κ.α.).

Να αποδώσετε τη φωτοσκίαση στο κτήριο και στον περιβάλλοντα χώρο, με κατεύθυνση φωτός δικής σας επιλογής.

Κριτήρια αξιολόγησης

- Ορθή χρωματική απόδοση και φωτοσκίαση της τελικής οικοδομής.
- Ορθή χρωματική απόδοση και φωτοσκίαση του περιβάλλοντα χώρου και των στοιχείων του.

(Μονάδες 15)

ΤΕΛΟΣ ΜΕΡΟΥΣ Α΄

ΑΚΟΛΟΥΘΕΙ ΤΟ ΜΕΡΟΣ Β΄

ΜΕΡΟΣ Β: ΕΛΕΥΘΕΡΟ ΣΧΕΔΙΟ

Δίνεται μια Νεκρή Φύση, αποτελούμενη από τρία (3) αντικείμενα.

IV. Να σχεδιάσετε με ελεύθερο χέρι όλα τα αντικείμενα και το φόντο τους, όπως φαίνονται εκ του φυσικού.

Μπορείτε να χρησιμοποιήσετε μολύβια από HB μέχρι 6B.

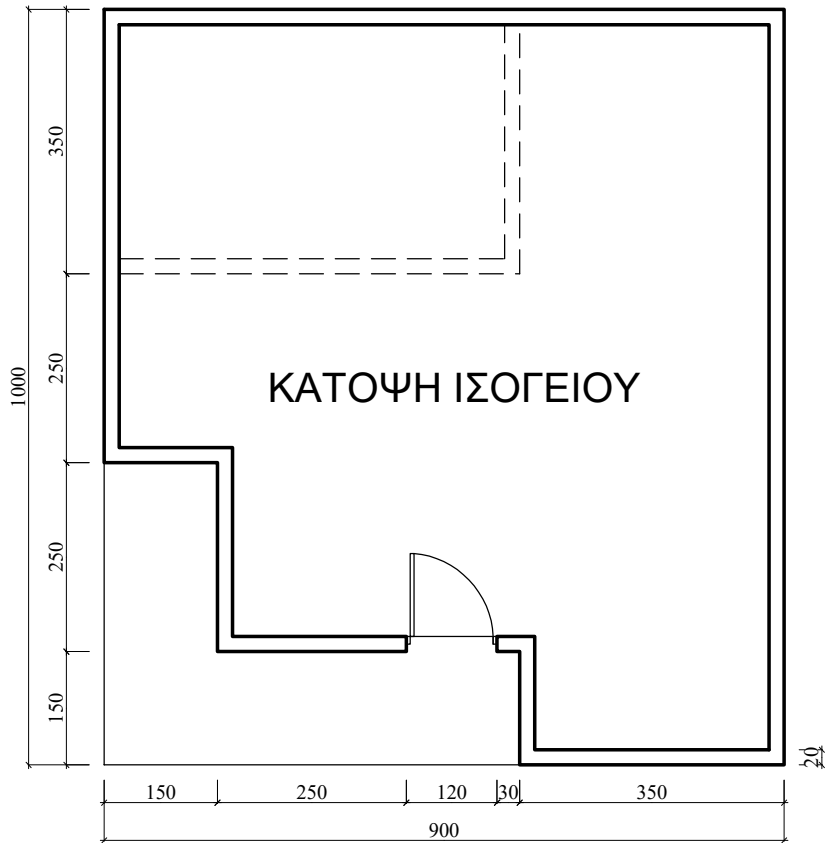
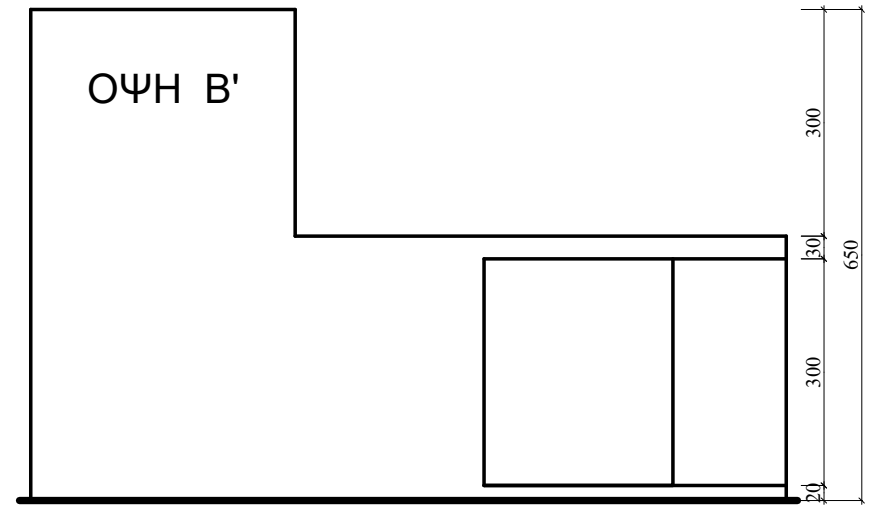
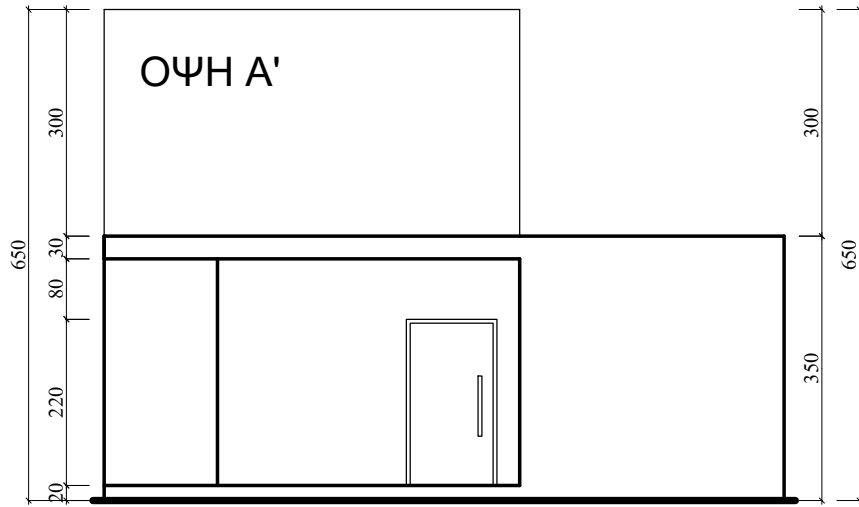
Το χαρτί σχεδίασης δυνατόν να τοποθετηθεί οριζόντια ή κάθετα.

Κριτήρια αξιολόγησης

- Ορθή τοποθέτηση της σύνθεσης στο σχεδιαστικό χώρο.
- Ορθή σχεδίαση και αναλογίες των αντικειμένων.
- Ορθή τονική διαβάθμιση – φωτοσκίαση – απόδοση του όγκου.
- Ορθή απόδοση του φόντου και του βάθους / χώρου.

(Μονάδες 40)

ΤΕΛΟΣ ΕΞΕΤΑΣΤΙΚΟΥ ΔΟΚΙΜΙΟΥ



ΑΣΚΗΣΗ Α'

ΚΛ 1:100

