

ΥΠΟΥΡΓΕΙΟ ΠΑΙΔΕΙΑΣ ΚΑΙ ΠΟΛΙΤΙΣΜΟΥ
ΔΙΕΥΘΥΝΣΗ ΑΝΩΤΕΡΗΣ ΚΑΙ ΑΝΩΤΑΤΗΣ ΕΚΠΑΙΔΕΥΣΗΣ
ΥΠΗΡΕΣΙΑ ΕΞΕΤΑΣΕΩΝ
ΠΑΓΚΥΠΡΙΕΣ ΕΞΕΤΑΣΕΙΣ 2013

Μάθημα: ΓΡΑΦΙΚΕΣ ΤΕΧΝΕΣ

Ημερομηνία και ώρα εξέτασης: Δευτέρα, 10 Ιουνίου, 2013

07:30-10:30

Διάρκεια εξέτασης: Τρεις (3) ώρες

ΤΟ ΕΞΕΤΑΣΤΙΚΟ ΔΟΚΙΜΙΟ ΑΠΟΤΕΛΕΙΤΑΙ ΑΠΟ 6 ΣΕΛΙΔΕΣ ΚΑΙ ΤΟ ΠΑΡΑΡΤΗΜΑ

Ο/Η κάθε εξεταζόμενος/η θα πάρει τα πιο κάτω:

- Ένα έντυπο Α4 (χαρτονάκι) το οποίο θα πρέπει να συμπληρωθεί από τον/την εξεταζόμενο/η με τα στοιχεία του/της
- Το εξεταστικό δοκίμιο Α3 (6 σελίδες)
- Το παράρτημα
- Ένα διαφανές φύλλο σχεδίασης (ρυζόχαρτο) μεγέθους Α4

ΟΔΗΓΙΕΣ:

- 1. Να απαντήσετε σε όλες τις ερωτήσεις και να κάνετε όλες τις εργασίες στο εξεταστικό δοκίμιο.**
- 2. Να προσέξετε την ποιότητα της εργασίας σας.**

Το παράρτημα δεν επιστρέφεται

1

Να αντιστοιχίσετε τα πιο κάτω σήματα / λογότυπα με τον ανάλογο χαρακτηρισμό.

1. Εγκλωβισμός



2. Δύναμη



3. Ομορφιά



4. Στόχος



5. Προστασία παιδιού



6. Περιβαλλοντική συνείδηση



7. Υγιεινή διατροφή



8. Συνεργασία



(μονάδες 8)

2


Εταιρεία παραγωγής αναψυκτικών προωθεί το νέο της προϊόν, το οποίο εμπλουτισμένο με βιταμίνες και μέταλλα προσφέρει ενέργεια και ευεξία. Το αναψυκτικό θα συσκευαστεί στο μεταλλικό δοχείο που φαίνεται δίπλα.

Να δημιουργήσετε στην επιφάνεια της συσκευασίας μια **έγχρωμη, πρωτότυπη, ανεικονική (μη ρεαλιστική)** σύνθεση χωρίς οποιαδήποτε τυπογραφικά στοιχεία.

Η σύνθεσή σας πρέπει να έχει **ρυθμό και κίνηση**, μεταδίδοντας έτσι ένα συναίσθημα ενέργειας και ζωντάνιας.

Να χρησιμοποιήσετε **ένα από τα βασικά / κύρια χρώματα δικής σας επιλογής, το συμπληρωματικό / αντίθετο του και το μαύρο.**

Τα χρώματα στη σύνθεση πρέπει να έχουν **τονικές διαβαθμίσεις.**



(μονάδες 26)

3

Να παρατηρήσετε την αφίσα στο **Παράρτημα** και να απαντήσετε τις ακόλουθες ερωτήσεις.

A. Να υπογραμμίσετε τη σωστή κατηγορία στην οποία ανήκει η αφίσα: **(μονάδα 1)**

κοινωνική πολιτική καταναλωτική

B. Πως προβάλλεται ο σκοπός του συνδέσμου μέσα από τη σύνθεση της αφίσας; **(μονάδες 2)**

.....

.....

.....

Γ. Τι είδους ισορροπία έχει η σύνθεση της αφίσας; **(μονάδα 1)**

.....

Δ. Να αναφέρετε: **(μονάδες 3)**

• Σε ποια κατηγορία χρωμάτων ανήκει το μπλε χρώμα των τυπογραφικών στοιχείων του σλόγκαν.

.....

• Το αρκουδάκι έχει χρώμα κίτρινο. Ποιο είναι το αντίθετο / συμπληρωματικό του χρώμα.

.....

• Σε ποια κατηγορία χρωμάτων ανήκουν το μοβ (λιλά) και το πράσινο που βρίσκονται στους κύβους.

.....

E. Να υπογραμμίσετε δύο (2) από τις πιο κάτω λέξεις που περιγράφουν τη γραμματοσειρά που χρησιμοποιήθηκε στο σλόγκαν της αφίσας: **(μονάδες 2)**

κεφαλαία τετραγωνισμένα χειρόγραφα κυρτά χοντρά

Στ. Να υπογραμμίσετε μια (1) από τις πιο κάτω λέξεις που ισχυεί για τη σύνθεση της αφίσας: **(μονάδα 1)**

βάθος κίνηση μοτίβο

(σύνολο μονάδων 10)

4

Να δημιουργήσετε το λογότυπο του Μουσείου Φυσικής Ιστορίας **“ΑΙΩΝΕΣ”**.

Το μουσείο περιλαμβάνει όλα όσα γνωρίζουν οι επιστήμονες μέχρι σήμερα για τη ζωή των δεινοσαύρων.

Να σχεδιάσετε ένα **μαυρόασπρο λογότυπο** του πιο πάνω μουσείου, χρησιμοποιώντας **μαύρο πενάκι ή μαρκαδοράκι ή χρωματιστό μαύρο μολύβι** στο πρώτο ορθογώνιο που φαίνεται πιο κάτω.

Στο δεύτερο ορθογώνιο να σχεδιάσετε το λογότυπό σας **έγχρωμο**, χρησιμοποιώντας **μέχρι και τρία (3) χρώματα**. Σε περίπτωση που χρησιμοποιήσετε μαύρο χρώμα, αυτό θα θεωρηθεί ένα από τα τρία (3) χρώματα.

Το έγχρωμο λογότυπο μπορεί να αποτελεί εξέλιξη του μαυρόασπρου ή να είναι το ίδιο.

Τα λογότυπα πρέπει να περιλαμβάνουν και την ονομασία του μουσείου “ΑΙΩΝΕΣ”.



Μαυρόασπρο λογότυπο

(μονάδες 14)



Έγχρωμο λογότυπο

(μονάδες 6)

(σύνολο μονάδων 20)

Να δημιουργήσετε μια γιγαντοαφίσα εξωτερικού χώρου, η οποία θα προβάλλει το Μουσείο Φυσικής Ιστορίας. Το μουσείο αποτελεί πηγή γνώσης για τη φυσική επιστήμη σε όλο τον κόσμο με σπάνιες συλλογές **δεινοσαύρων**.

Να σχεδιάσετε στην επιφάνεια της γιγαντοαφίσας μια **έγχρωμη, εικονογραφημένη σύνθεση** που να περιλαμβάνει τη φράση (slogan) **“Ταξίδι στο Παρελθόν”**.

Μπορείτε να δημιουργήσετε δική σας γραμματοσειρά ή να αξιοποιήσετε τα τυπογραφικά στοιχεία που δίνονται στη σελίδα πέντε (5) με αποτύπωση (αντιγραφή), στο μέγεθος και στη θέση που επιθυμείτε.

Δεν επιτρέπεται η κοπή και η επικόλλησή τους.

Οι φωτογραφίες στη σελίδα πέντε (5) δίνονται μόνο ως βοηθήματα και μπορούν να αξιοποιηθούν με απλοποίηση / σχηματοποίηση.


Δεν επιτρέπεται η κοπή και η επικόλλησή τους.

Να προηγηθούν δύο (2) έγχρωμα προσχέδια της γιγαντοαφίσας.

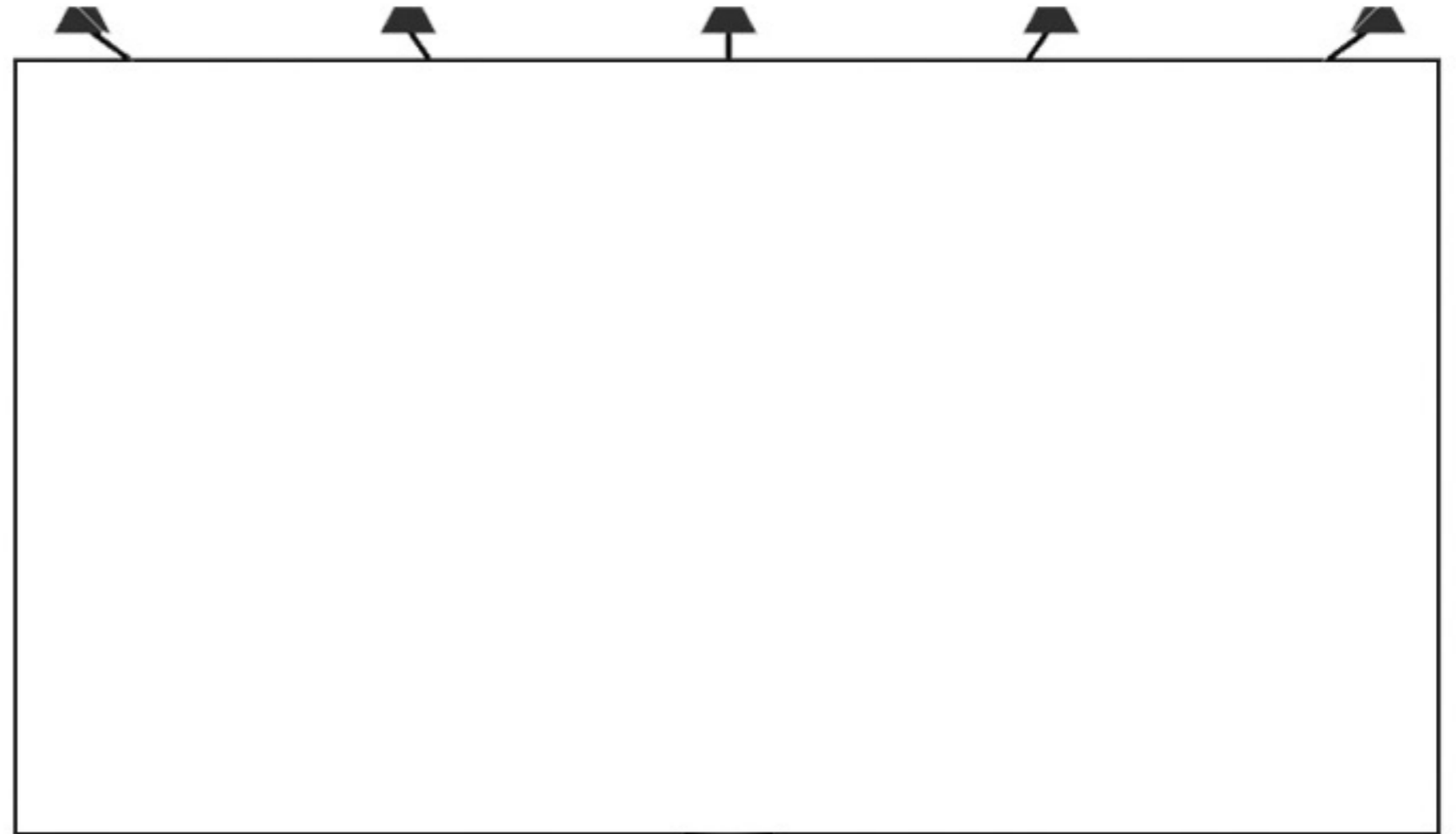
Η τελική σας πρόταση θα πρέπει να αποτελεί εξέλιξη των προσχεδίων.

ΠΡΟΣΧΕΔΙΑ ΓΙΓΑΝΤΟΑΦΙΣΑΣ

(μονάδες 8)






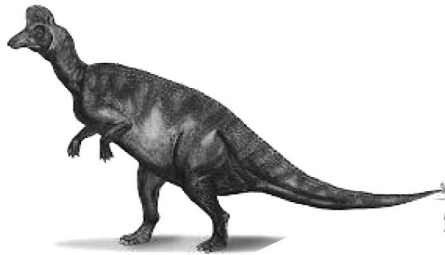


ΤΕΛΙΚΗ ΠΡΟΤΑΣΗ



(μονάδες 28)





Ταξίδι στο Παρελθόν
 ταξίδι στο παρελθόν
 Ταξίδι στο Παρελθόν
 ΤΑΞΙΔΙ ΣΤΟ ΠΑΡΕΛΘΟΝ
 Ταξίδι στο Παρελθόν
**ΤΑΞΙΔΙ ΣΤΟ
 ΠΑΡΕΛΘΟΝ**
 ΤΑΞΙΔΙ ΣΤΟ ΠΑΡΕΛΘΟΝ
 ΤΑΞΙΔΙ ΣΤΟ
 ΠΑΡΕΛΘΟΝ

ΠΡΟΧΕΙΡΟ

ΑΥΤΗ Η ΣΕΛΙΔΑ ΔΕΝ ΑΞΙΟΛΟΓΕΙΤΑΙ

ΠΡΟΧΕΙΡΟ

σας χρειάζομαι

