

ΥΠΟΥΡΓΕΙΟ ΠΑΙΔΕΙΑΣ, ΠΟΛΙΤΙΣΜΟΥ, ΑΘΛΗΤΙΣΜΟΥ ΚΑΙ ΝΕΟΛΑΙΑΣ
ΔΙΕΥΘΥΝΣΗ ΜΕΣΗΣ ΤΕΧΝΙΚΗΣ ΚΑΙ ΕΠΑΓΓΕΛΜΑΤΙΚΗΣ
ΕΚΠΑΙΔΕΥΣΗΣ ΚΑΙ ΚΑΤΑΡΤΙΣΗΣ

ΕΝΙΑΙΑ ΓΡΑΠΤΗ ΑΞΙΟΛΟΓΗΣΗ ΤΕΤΡΑΜΗΝΩΝ 2020 - 2021

Β' ΤΑΞΗΣ

ΗΜΕΡΟΜΗΝΙΑ: Τέταρτη, 9 Ιουνίου 2021

ΩΡΑ ΕΞΕΤΑΣΗΣ: 11:30 - 13:00

ΕΞΕΤΑΖΟΜΕΝΟ ΜΑΘΗΜΑ: ΣΧΕΔΙΑΣΜΟΣ ΕΣΩΤΕΡΙΚΟΥ ΧΩΡΟΥ II (ΘΚ)
(ΣΕΙΡΑ Α')

ΚΩΔΙΚΟΣ ΜΑΘΗΜΑΤΟΣ: thed201

ΣΥΝΟΛΙΚΗ ΔΙΑΡΚΕΙΑ ΓΡΑΠΤΗΣ ΕΞΕΤΑΣΗΣ: 90 λεπτά

ΤΟ ΕΞΕΤΑΣΤΙΚΟ ΔΟΚΙΜΙΟ ΑΠΟΤΕΛΕΙΤΑΙ ΑΠΟ ΤΕΣΣΕΡΕΙΣ (4) ΣΕΛΙΔΕΣ Α3

Ο/Η εξεταζόμενος/η να εφοδιαστεί με τα πιο κάτω:

- Το εξεταστικό δοκίμιο
- Το εξώφυλλο για στοιχεία των μαθητών
- Όργανα σχεδίασης (κλιμακόμετρο, τρίγωνο και ταφ)

ΟΔΗΓΙΕΣ:

1. Να συμπληρώσετε τα στοιχεία σας με μπλε μελάνι μόνο στο εξώφυλλο που σας έχει δοθεί. Να μη γράψετε πουθενά το όνομά σας ή οποιαδήποτε άλλα στοιχεία που να δηλώνουν την ταυτότητά σας σε άλλο μέρος του εξεταστικού δοκιμίου.
2. Οι ερωτήσεις του **ΜΕΡΟΥΣ Α'** να απαντηθούν στον ενδεικνυόμενο χώρο. Να απαντήσετε μόνο με **μπλε μελάνι που δεν σβήνεται**.
3. Για τη σχεδιαστική εργασία της ερώτησης 6 του **ΜΕΡΟΥΣ Β'** να χρησιμοποιήσετε **μολύβι** και να εκτελεστεί στον ενδεικνυόμενο χώρο.
4. Δεν επιτρέπεται η χρήση διορθωτικού υγρού ή διορθωτικής ταινίας.
5. Δεν επιτρέπεται η χρήση στένσιλ επίπλων.

ΣΑΣ ΕΥΧΟΜΑΣΤΕ ΚΑΛΗ ΕΠΙΤΥΧΙΑ

ΜΕΡΟΣ Α': (40 μονάδες)

1. Στον **Πίνακα 1** που ακολουθεί, να κατονομάσετε **τέσσερα (4) λειτουργικά και τέσσερα (4) διακοσμητικά στοιχεία** που χρησιμοποιούνται στη διακόσμηση ενός **καθιστικού**.
(8 μονάδες)

Πίνακας 1

Λειτουργικά στοιχεία	Διακοσμητικά στοιχεία
1	1
2	2
3	3
4	4

2. Στον **Πίνακα 2** που ακολουθεί, να προσδιορίσετε αν το περιεχόμενο των προτάσεων είναι **ΟΡΘΟ** ή **ΛΑΘΟΣ**, βάζοντας ✓ στην αντίστοιχη στήλη.
(8 μονάδες)

Πίνακας 2

α/α		ΟΡΘΟ	ΛΑΘΟΣ
α	Η διαβίωση των ανθρώπων μπορεί να καταστεί δυνατή χωρίς τα λειτουργικά στοιχεία και ο χώρος να είναι λειτουργικός.		
β	Κοινόχρηστοι χώροι σε μια κατοικία είναι αυτοί που χρησιμοποιούνται από όλη την οικογένεια ή/και φιλοξενούμενους.		
γ	Δύο από τα χαρακτηριστικά στοιχεία που πρέπει να πληρούν τα είδη υγιεινής είναι να είναι απλά στην εγκατάσταση και να απορροφούν νερό.		
δ	Ο τεχνητός φωτισμός είναι σημαντικός παράγοντας της λειτουργικότητας και της αισθητικής ενός εσωτερικού χώρου.		

3. Να αναφέρετε **τέσσερεις (4) λόγους** για τους οποίους οι μελετητές εσωτερικών χώρων προτείνουν την κατασκευή ψευδοροφών.
(8 μονάδες)

α.....

.....

.....

.....

β.....

.....

.....

.....

γ.....

.....

.....

.....

δ.....

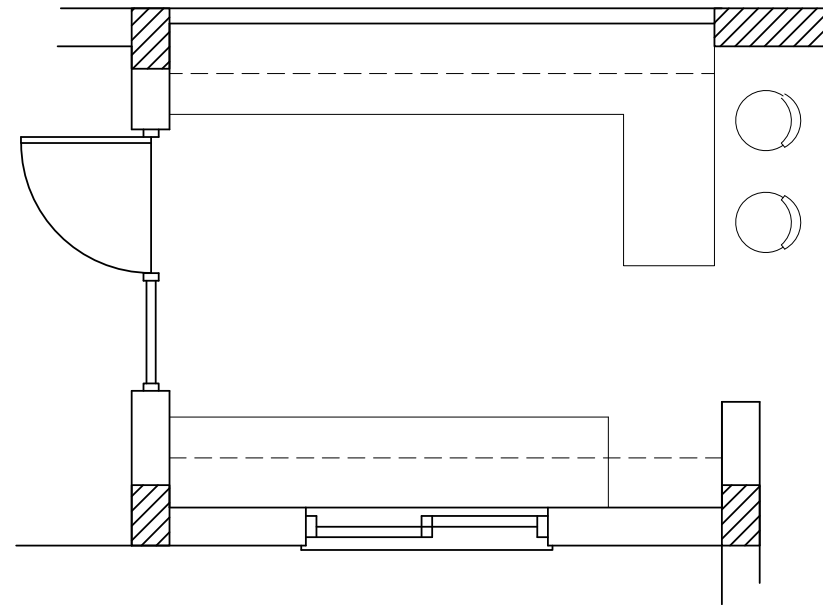
.....

.....

.....

4. Στο πιο κάτω **ΣΧΕΔΙΟ 1**, δίνεται η κάτοψη μιας κουζίνας όπου φαίνονται μόνο οι πάγκοι. Να σχεδιάσετε με ελεύθερο χέρι τα τρία (3) βασικά κέντρα εργασίας και να τα κατονομάσετε πάνω στο σχέδιο.

(6 μονάδες)




ΚΑΤΟΨΗ ΚΟΥΖΙΝΑΣ
ΚΛΙΜΑΚΑ 1:25

ΣΧΕΔΙΟ 1

5. Να κατονομάσετε τα είδη των φωτιστικών που φαίνονται στο **ΣΧΕΔΙΟ 2** πιο κάτω.

(10 μονάδες)



ΣΧΕΔΙΟ 2

α

β

γ

δ

ε

ΜΕΡΟΣ Β': (60 μονάδες)

6. Στο **ΣΧΕΔΙΟ 3**, στα δεξιά, δίνεται η κάτοψη ενός ενιαίου χώρου καθιστικού-τραπεζαρίας σε κλίμακα 1:50.

Στη διαρρύθμιση του χώρου φαίνεται μόνο η επίπλωση της τραπεζαρίας.

Σας ζητούνται τα ακόλουθα:

α) Χρησιμοποιώντας όργανα σχεδίασης, να σχεδιάσετε **μια λειτουργική διάταξη όλων των στοιχείων μόνο του καθιστικού** στη δοθείσα κάτοψη.

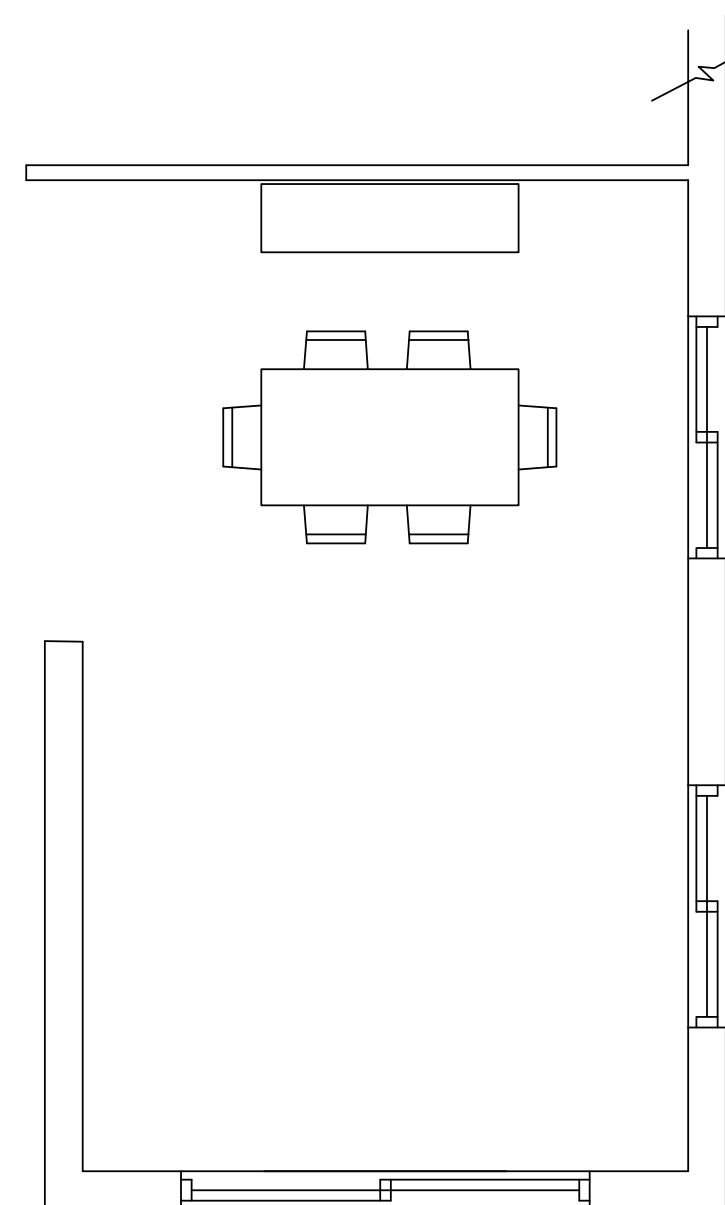
Η σχεδίαση θα πρέπει να περιλαμβάνει τα ακόλουθα: **έπιπλα καθιστικού, έπιπλο τηλεόρασης, δάπεδο και συμπληρωματικά στοιχεία όπως φωτιστικά, φυτά, κτλ.**

β) Να αποδώσετε με χρώμα όλα τα στοιχεία που προτείνετε για τα έπιπλα, το δάπεδο και τα συμπληρωματικά στοιχεία **στο χώρο του καθιστικού μόνο.**

Κριτήρια αξιολόγησης:

- Ορθότητα και ακρίβεια σχεδίασης (30 μονάδες)
- Λειτουργική λύση και δημιουργικότητα (10 μονάδες)
- Πάχη και ποιότητα γραμμών, καθαρότητα (10 μονάδες)
- Απόδοση χρωμάτων και φωτοσκιάσεων (10 μονάδες)

(Σύνολο: **60 μονάδες**)



ΚΑΤΟΨΗ ΚΑΘΙΣΤΙΚΟΥ-ΤΡΑΠΕΖΑΡΙΑΣ
ΚΛΙΜΑΚΑ 1:50

ΣΧΕΔΙΟ 3

ΤΕΛΟΣ ΕΞΕΤΑΣΤΙΚΟΥ ΔΟΚΙΜΙΟΥ