

ΥΠΟΥΡΓΕΙΟ ΠΑΙΔΕΙΑΣ, ΠΟΛΙΤΙΣΜΟΥ, ΑΘΛΗΤΙΣΜΟΥ ΚΑΙ ΝΕΟΛΑΙΑΣ
ΔΙΕΥΘΥΝΣΗ ΜΕΣΗΣ ΤΕΧΝΙΚΗΣ ΚΑΙ ΕΠΑΓΓΕΛΜΑΤΙΚΗΣ ΕΚΠΑΙΔΕΥΣΗΣ
ΚΑΙ ΚΑΤΑΡΤΙΣΗΣ

ΕΝΙΑΙΑ ΓΡΑΠΤΗ ΑΞΙΟΛΟΓΗΣΗ ΤΕΤΡΑΜΗΝΩΝ

20 20 - 20 21

Β' ΤΑΞΗΣ ΤΕΣΕΚ

ΣΕΙΡΑ Α'

ΗΜΕΡΟΜΗΝΙΑ : Τετάρτη, 9 Ιουνίου 2021

ΕΞΕΤΑΖΟΜΕΝΟ ΜΑΘΗΜΑ: ΤΕΧΝΟΛΟΓΙΑ ΚΟΜΜΩΤΙΚΗΣ

ΚΩΔΙΚΟΣ ΜΑΘΗΜΑΤΟΣ : κκ201

ΣΥΝΟΛΙΚΗ ΔΙΑΡΚΕΙΑ ΓΡΑΠΤΗΣ ΕΞΕΤΑΣΗΣ: 90 λεπτά

ΤΟ ΕΞΕΤΑΣΤΙΚΟ ΔΟΚΙΜΙΟ ΑΠΟΤΕΛΕΙΤΑΙ ΑΠΟ ΟΚΤΩ (8) ΣΕΛΙΔΕΣ

ΟΔΗΓΙΕΣ (για τους εξεταζόμενους)

1. Να απαντήσετε **ΟΛΑ** τα ερωτήματα πάνω στο εξεταστικό δοκίμιο.
2. Το δοκίμιο αποτελείται από τρία μέρη (Α', Β' και Γ').
3. Να μη γράψετε πουθενά το όνομά σας στο εξεταστικό δοκίμιο εκτός του καθορισμένου χώρου στο χαρτονάκι που σας έχει δοθεί.
4. Να απαντήσετε σε όλα τα θέματα μόνο με πένα χρώματος μπλε ανεξίτηλης μελάνης.
5. Απαγορεύεται η χρήση διορθωτικού υγρού και διορθωτικής ταινίας.

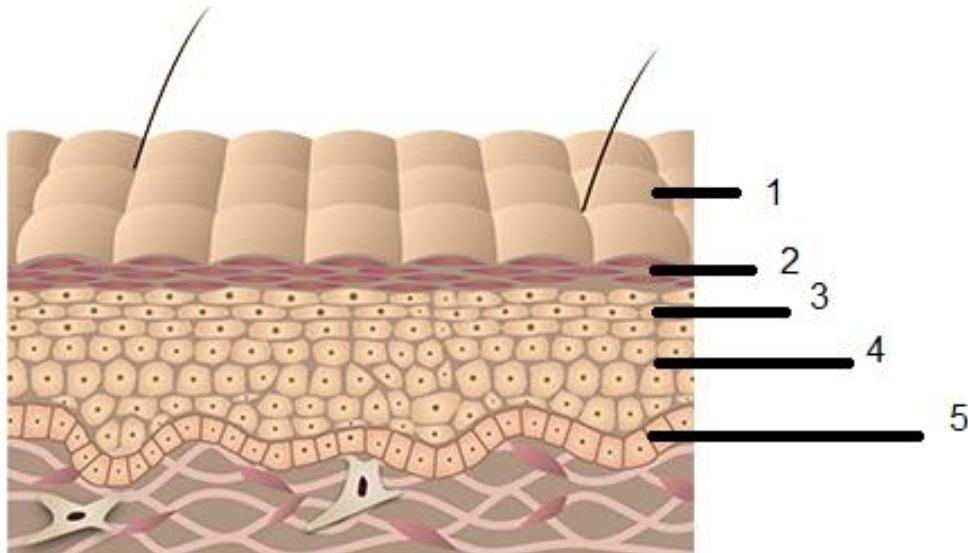
ΣΑΣ ΕΥΧΟΜΑΣΤΕ ΚΑΛΗ ΕΠΙΤΥΧΙΑ

ΜΕΡΟΣ Α΄: Το μέρος Α αποτελείται από δέκα (10) ερωτήσεις. Κάθε ορθή απάντηση βαθμολογείται με τέσσερις (4) μονάδες.

1. Να αναφέρετε τέσσερις (4) δυνατότητες που έχουν **οι σύγχρονες ταμειακές μηχανές** στα κομμωτήρια.

.....
.....
.....
.....
.....

2. Να κατονομάσετε τις τέσσερις (4) από τις πέντε (5) **στιβάδες/στρώματα** της επιδερμίδας που φαίνονται στην πιο κάτω εικόνα.



1.
2.
3.
4.
5.

3. Να αναφέρετε τέσσερις (4) **μεθόδους/τρόπους πληρωμής** στο κομμωτήριο.

.....
.....

.....
.....
4. Να κατονομάσετε τέσσερα (4) υλικά που είναι απαραίτητα να υπάρχουν στο κουτί των πρώτων βοηθειών στο κομμωτήριο.

.....
.....
.....
.....

5. Να αναφέρετε τέσσερις (4) πιθανές αιτίες πτώσεων /γλιστρήματος σε ένα κομμωτήριο.


.....
.....
.....
.....

6. Ποιο κάτω σας δίνεται ένα δείγμα επιταγής:

Να συμπληρώσετε τέσσερα (4) από τα ποιο κάτω στοιχεία :

- όνομα του εκδότη ,πελάτη
- Την υπογραφή του εκδότη ,πελάτη επιταγής
- Το όνομα του δικαιούχου η επωνυμία κομμωτηρίου
- Την ημερομηνία
- Το χρηματικό ποσό να είναι γραμμένο ολογράφως και αριθμητικά

Προσοχή: Να μη γίνει αναφορά σε προσωπικά στοιχεία.

 BANK	3729
Πληρώστε σε διαταγή	Ημερομηνία: _____
_____	€ <input type="text"/>
_____	Ευρώ
Όνομα εκδότη	Υπογραφή _____
_____	_____
0000 1 2 3 4 5 6 000	0000 0 1 2 3

7. Να εξηγήσετε τον όρο **καταγραφή/απογραφή αποθεμάτων** και σε ποιο χρονικό διάστημα πραγματοποιείται.

.....
.....
.....
.....
.....
.....

8. Να αναφέρετε τέσσερις (4) διαδικασίες **χειρισμού αποθεμάτων** στο κομμωτήριο.

.....
.....
.....
.....
.....

9. Να αναφέρετε τέσσερις (4) τρόπους με τους οποίους ελέγχουμε την **γνησιότητα των χαρτονομισμάτων**.

.....
.....
.....
.....

10. Στον ανθρώπινο οργανισμό υπάρχουν οι ιδρωτοποιοί αδένες, που διακρίνονται στους **ενδοκρινείς** και **αποκρινείς** αδένες. Όσον αφορά τους **ενδοκρινείς αδένες** να αναφέρετε:

α) σε ποιες περιοχές του σώματος βρίσκονται;

.....
.....

β) ποια είναι η βασική λειτουργία τους;

.....
.....

ΜΕΡΟΣ Β΄: Το μέρος Β αποτελείται από πέντε (5) ερωτήσεις.

Κάθε ορθή απάντηση βαθμολογείται με οκτώ (8) μονάδες

11. Να κυκλώσετε το **Σωστό** για κάθε σωστή και το **Λάθος** για κάθε λάθος απάντηση b στον πιο κάτω πίνακα.

(α)	Η λιπαρότητα στο τριχωτό της κεφαλής οφείλεται στην υπερπαραγωγή σμήγματος των σμηγματογόνων αδένων	Σωστό	Λάθος
(β)	Ο σταφυλόκοκκος είναι ασθένεια της τρίχας που δημιουργεί απώλεια του χρώματος στα μαλλιά	Σωστό	Λάθος
(γ)	Η τριχοπτίλωση (ψαλίδα) είναι μεταδοτική ασθένεια της τρίχας	Σωστό	Λάθος
(δ)	Η τρίχα αποτελείται από την πρωτεΐνη που ονομάζεται κερατίνη	Σωστό	Λάθος
(ε)	Η ηλεκτροπληξία μπορεί να προκαλέσει εκκαύματα ελαφρά ή βαριά, αλλά να φέρει και θανατηφόρα αποτελέσματα	Σωστό	Λάθος
(στ)	Για την καταπολέμηση της ψείρας, συστήνεται να ακολουθούμε θεραπευτική αγωγή στο κομμωτήριο	Σωστό	Λάθος
(ζ)	Το κουτί των Πρώτων Βοηθειών πρέπει να φυλάγεται σε ασφαλές και κλειδωμένο μέρος	Σωστό	Λάθος
(η)	Η μελανίνη καθορίζει το σχήμα της τρίχας	Σωστό	Λάθος

12. Με την κωδικοποίηση προϊόντων, κάθε προϊόν αποκτά μία μοναδική **ταυτότητα**
Να αναφέρετε τέσσερις (4) **πληροφορίες** που μας δίνει η κωδικοποίηση προϊόντων.

.....

.....

.....

.....

.....

.....
.....
.....

13. Να καταγράψετε οκτώ (8) αρμοδιότητες/**καθήκοντα** ενός ταμιά κομμωτηρίου.

.....
.....
.....
.....
.....
.....
.....
.....
.....
.....

14. Κατά την **παραλαβή μίας παραγγελίας εμπορευμάτων** στο κομμωτήριο πρέπει να γίνουν κάποιες διαδικασίες. Να αναφέρετε:

(α) το έντυπο που πρέπει να συνοδεύει το δελτίο παραγγελίας κατά την παραλαβή εμπορευμάτων και ποιες διαδικασίες πρέπει να γίνουν.

.....
.....
.....
.....
.....
.....

(β) τέσσερις (4) επιλογές που θα έχετε σε περίπτωση που διαπιστώσετε ότι παραλάβατε ελαττωματικό εμπόρευμα (π.χ. χαλασμένο ηλεκτρικό πιστολάκι).

.....
.....
.....
.....
.....

.....
.....

15. Να αναφέρετε τέσσερις(4) δυνατότητες που δίνει στον κομμωτή η κωδικοποίηση των προϊόντων κομμωτηρίου.

.....
.....
.....
.....
.....
.....
.....
.....

**ΜΕΡΟΣ Γ΄: Το μέρος Γ αποτελείται από δυο (2) ερωτήσεις.
Κάθε ορθή απάντηση βαθμολογείται με δέκα (10) μονάδες.**

16. Να αναφέρετε:

(α) Πέντε (5) αιτίες που προκαλούν άγχος στο χώρο εργασίας ενός κομμωτηρίου.

.....
.....
.....
.....
.....
.....
.....

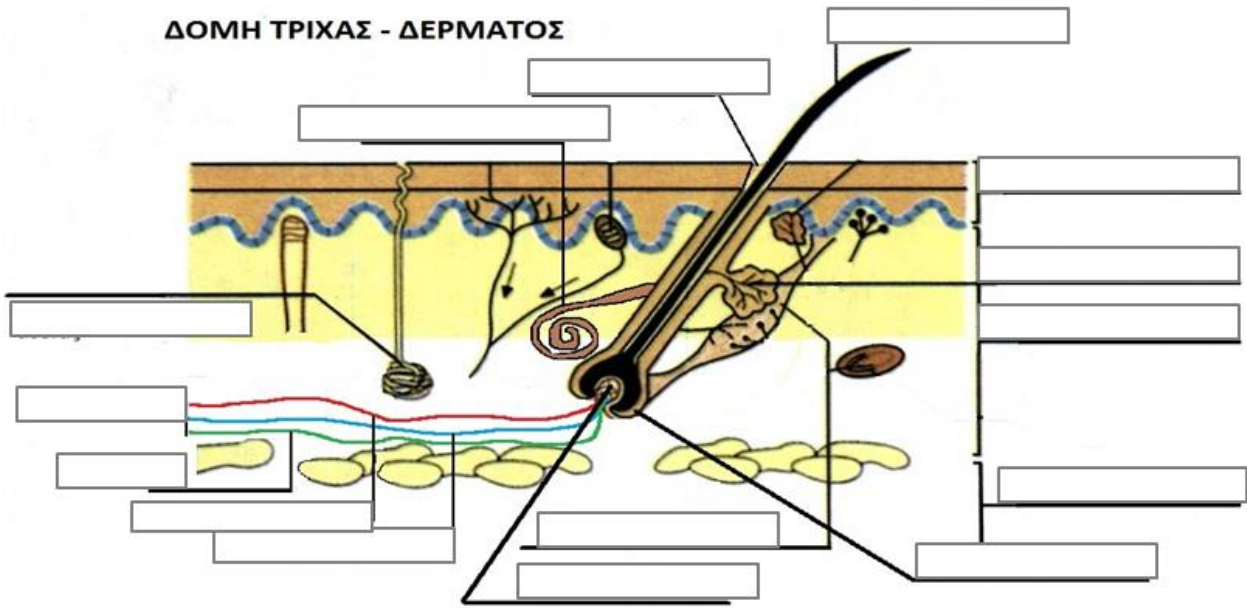
(β) Πέντε (5) συνέπειες του άγχους.

.....
.....
.....
.....
.....

.....
.....
.....

17. Στην πιο κάτω εικόνα παρουσιάζεται η δομή της τρίχας και του δέρματος.
Να κατονομάσετε **δέκα (10)** από τα δεκαπέντε (15) στοιχεία που φαίνονται πιο κάτω:

Στέλεχος τρίχας, θύλακας τρίχας, φλέβα, ορθοτήρας μυς, βολβός τρίχας, επιδερμίδα, αποκρινείς ιδρωτοποιός αδένες, σμηγματογόνος αδένες, χόριο ή κυρίως δέρμα, υποδόριος ή λιπώδης ιστός, εκκρινείς ιδρωτοποιός αδένες, αιμοφόρα αγγεία, αρτηρία, λέμφος, Θηλή ή μήτρα τρίχας.



-----ΤΕΛΟΣ ΕΞΕΤΑΣΤΙΚΟΥ ΔΟΚΙΜΙΟΥ -----