

ΥΠΟΥΡΓΕΙΟ ΠΑΙΔΕΙΑΣ, ΠΟΛΙΤΙΣΜΟΥ, ΑΘΛΗΤΙΣΜΟΥ ΚΑΙ ΝΕΟΛΑΙΑΣ
ΔΙΕΥΘΥΝΣΗ ΜΕΣΗΣ ΤΕΧΝΙΚΗΣ ΚΑΙ ΕΠΑΓΓΕΛΜΑΤΙΚΗΣ
ΕΚΠΑΙΔΕΥΣΗΣ ΚΑΙ ΚΑΤΑΡΤΙΣΗΣ

ΕΝΙΑΙΑ ΓΡΑΠΤΗ ΑΞΙΟΛΟΓΗΣΗ ΤΕΤΡΑΜΗΝΩΝ 2020 - 2021

Β' ΤΑΞΗΣ

ΗΜΕΡΟΜΗΝΙΑ: Τέταρτη, 9 Ιουνίου 2021

ΩΡΑ ΕΞΕΤΑΣΗΣ: 11:30 - 13:00

ΕΞΕΤΑΖΟΜΕΝΟ ΜΑΘΗΜΑ: ΣΧΕΔΙΑΣΜΟΣ ΕΣΩΤΕΡΙΚΟΥ ΧΩΡΟΥ II (ΠΚ)
(ΣΕΙΡΑ Α')

ΚΩΔΙΚΟΣ ΜΑΘΗΜΑΤΟΣ: ed201

ΣΥΝΟΛΙΚΗ ΔΙΑΡΚΕΙΑ ΓΡΑΠΤΗΣ ΕΞΕΤΑΣΗΣ: 90 λεπτά

ΤΟ ΕΞΕΤΑΣΤΙΚΟ ΔΟΚΙΜΙΟ ΑΠΟΤΕΛΕΙΤΑΙ ΑΠΟ ΤΕΣΣΕΡΕΙΣ (4) ΣΕΛΙΔΕΣ Α3

Ο/Η εξεταζόμενος/η να εφοδιαστεί με τα πιο κάτω:

- Το εξεταστικό δοκίμιο
- Το χαρτονάκι για τα στοιχεία των μαθητών
- Όργανα σχεδίασης (κλιμακόμετρο, τρίγωνα και ταφ)

ΟΔΗΓΙΕΣ:

1. Να συμπληρώσετε τα στοιχεία σας με μπλε μελάνι μόνο στο εξώφυλλο που σας έχει δοθεί. Να μη γράψετε πουθενά το όνομά σας ή οποιαδήποτε άλλα στοιχεία που να δηλώνουν την ταυτότητά σας σε άλλο μέρος του εξεταστικού δοκιμίου.
2. Οι ερωτήσεις του **ΜΕΡΟΥΣ Α'** να απαντηθούν στον ενδεικνυόμενο χώρο. Να απαντήσετε μόνο με **μπλε μελάνι που δεν σβήνεται**.
3. Για τη σχεδιαστική εργασία της ερώτησης **7** του **ΜΕΡΟΥΣ Β'** να χρησιμοποιήσετε **μολύβι** και να εκτελεστεί στον ενδεικνυόμενο χώρο.
4. Δεν επιτρέπεται η χρήση διορθωτικού υγρού ή διορθωτικής ταινίας.
5. Δεν επιτρέπεται η χρήση στένσιλ επίπλων.

ΣΑΣ ΕΥΧΟΜΑΣΤΕ ΚΑΛΗ ΕΠΙΤΥΧΙΑ

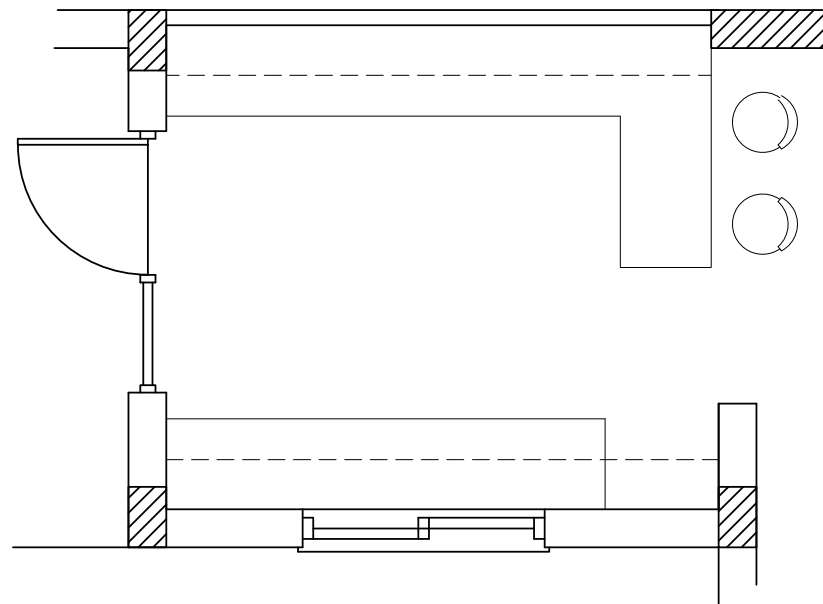
ΜΕΡΟΣ Α': (40 μονάδες)

1. Στον **Πίνακα 1** που ακολουθεί να κατονομάσετε **τρία (3) λειτουργικά και τρία (3) διακοσμητικά στοιχεία** που χρησιμοποιούνται στη διακόσμηση ενός υπνοδωματίου.
(6 μονάδες)

Πίνακας 1

Λειτουργικά στοιχεία	Διακοσμητικά στοιχεία
1	1
2	2
3	3

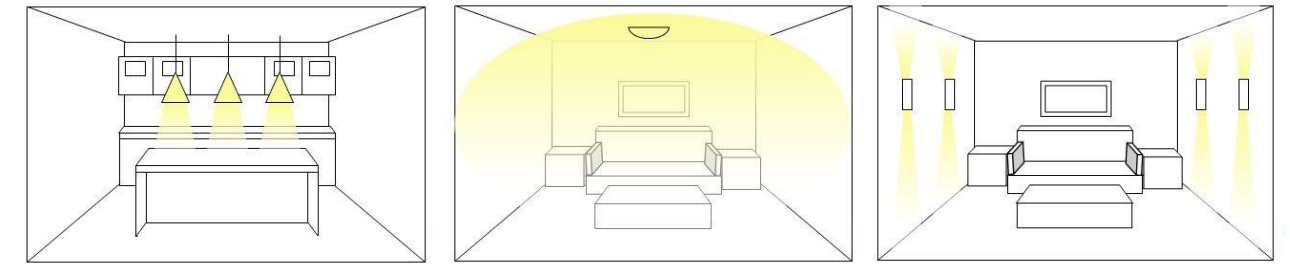
2. Στο **ΣΧΕΔΙΟ 1** που ακολουθεί, δίνεται η κάτοψη μιας κουζίνας στην οποία φαίνονται μόνο οι πάγκοι. Να σχεδιάσετε με ελεύθερο χέρι τα **τρία (3) βασικά κέντρα εργασίας** και να τα **κατονομάσετε** πάνω στο σχέδιο.
(6 μονάδες)



ΚΑΤΟΨΗ ΚΟΥΖΙΝΑΣ
ΚΛΙΜΑΚΑ 1:25

ΣΧΕΔΙΟ 1

3. Να κατονομάσετε στον ενδεικνυόμενο χώρο το **είδος του τεχνητού φωτισμού** που φαίνεται στο κάθε προοπτικό σχέδιο εσωτερικού χώρου.
(6 μονάδες)



α. β. γ.

4. Να αναφέρετε **τρεις (3) από τους βασικούς παράγοντες** που πρέπει να ληφθούν υπόψη στη μελέτη και στο σχεδιασμό μιας κουζίνας.
(6 μονάδες)

α.
.....
.....
.....
β.
.....
.....
.....
γ.
.....
.....
.....

5. Στον Πίνακα 2 που ακολουθεί, να προσδιορίσετε αν το περιεχόμενο των προτάσεων είναι **ΟΡΘΟ** ή **ΛΑΘΟΣ**, βάζοντας ✓ στην αντίστοιχη στήλη.

(8 μονάδες)

Πίνακας 2

α/α		ΟΡΘΟ	ΛΑΘΟΣ
α	Η διαβίωση των ανθρώπων μπορεί να καταστεί δυνατή χωρίς τα λειτουργικά στοιχεία και ο χώρος να είναι λειτουργικός.		
β	Με τη χρήση των ψευδορφών μπορούν να καλυφθούν κατασκευαστικές ατέλειες, καλώδια ή διασωληνώσεις.		
γ	Τα διακοσμητικά στοιχεία μπορούν να είναι στις ίδιες χρωματικές αποχρώσεις με την υπόλοιπη διακόσμηση ή μπορούν να είναι σε αντίθετους χρωματισμούς για αντίθεση.		
δ	Ο τεχνητός φωτισμός είναι ασήμαντος παράγοντας της λειτουργικότητας και αισθητικής ενός εσωτερικού χώρου.		

6. Να αναφέρετε **τέσσερα (4) υλικά κατασκευής** των ειδών υγιεινής.

(8 μονάδες)

α.

β.

γ.

δ.

ΜΕΡΟΣ Β': (60 μονάδες)

7. Στο **ΣΧΗΜΑ 2** στα δεξιά, δίνεται η κάτοψη ενός ενιαίου χώρου καθιστικού-τραπεζαρίας σε κλίμακα 1:50.

Στη διαρρύθμιση του χώρου φαίνεται μόνο η επίπλωση της τραπεζαρίας.

Σας ζητούνται τα ακόλουθα:

α) Χρησιμοποιώντας όργανα σχεδίασης, να σχεδιάσετε **μια λειτουργική διάταξη όλων των στοιχείων μόνο του καθιστικού** στη δοθείσα κάτοψη.

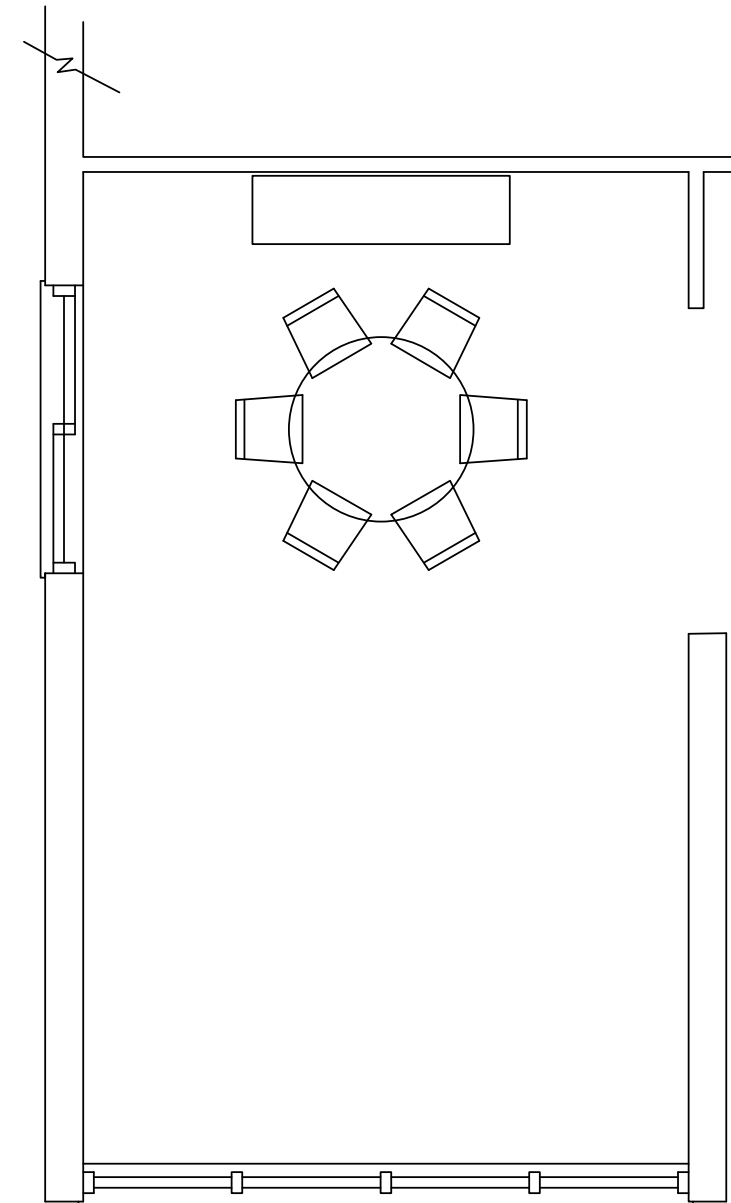
Η σχεδίαση θα πρέπει να περιλαμβάνει τα ακόλουθα: **έπιπλα καθιστικού, έπιπλο τηλεόρασης, δάπεδο και συμπληρωματικά στοιχεία όπως φωτιστικά, φυτά, κτλ.**

β) Να αποδώσετε με χρώμα όλα τα στοιχεία που προτείνετε για τα έπιπλα, το δάπεδο και τα συμπληρωματικά στοιχεία **στο χώρο του καθιστικού μόνο**.

Κριτήρια αξιολόγησης:

- Ορθότητα και ακρίβεια σχεδίασης (30 μονάδες)
- Λειτουργική λύση και δημιουργικότητα (10 μονάδες)
- Πάχη και ποιότητα γραμμών, καθαρότητα (10 μονάδες)
- Απόδοση χρωμάτων και φωτοσκιάσεων (10 μονάδες)

(Σύνολο: **60 μονάδες**)



ΚΑΤΟΨΗ ΚΑΘΙΣΤΙΚΟΥ-ΤΡΑΠΕΖΑΡΙΑΣ
ΚΛΙΜΑΚΑ 1:50

ΣΧΗΜΑ 2

ΤΕΛΟΣ ΕΞΕΤΑΣΤΙΚΟΥ ΔΟΚΙΜΙΟΥ