

**ΥΠΟΥΡΓΕΙΟ ΠΑΙΔΕΙΑΣ, ΠΟΛΙΤΙΣΜΟΥ, ΑΘΛΗΤΙΣΜΟΥ ΚΑΙ ΝΕΟΛΑΙΑΣ
ΔΙΕΥΘΥΝΣΗ ΜΕΣΗΣ ΤΕΧΝΙΚΗΣ ΚΑΙ ΕΠΑΓΓΕΛΜΑΤΙΚΗΣ ΕΚΠΑΙΔΕΥΣΗΣ
ΚΑΙ ΚΑΤΑΡΤΙΣΗΣ**

ΕΝΙΑΙΑ ΓΡΑΠΤΗ ΑΞΙΟΛΟΓΗΣΗ ΤΕΤΡΑΜΗΝΩΝ

20 20 - 20 21

Β' ΤΑΞΗΣ ΤΕΣΕΚ

ΣΕΙΡΑ Α'

ΗΜΕΡΟΜΗΝΙΑ : Πέμπτη, 3 Ιουνίου 2021

ΕΞΕΤΑΖΟΜΕΝΟ ΜΑΘΗΜΑ: ΤΕΧΝΟΛΟΓΙΑ ΥΛΙΚΩΝ ΚΟΜΜΩΤΙΚΗΣ

ΚΩΔΙΚΟΣ ΜΑΘΗΜΑΤΟΣ : κκ202

ΣΥΝΟΛΙΚΗ ΔΙΑΡΚΕΙΑ ΓΡΑΠΤΗΣ ΕΞΕΤΑΣΗΣ: 90 λεπτά

ΤΟ ΕΞΕΤΑΣΤΙΚΟ ΔΟΚΙΜΙΟ ΑΠΟΤΕΛΕΙΤΑΙ ΑΠΟ ΔΕΚΑ (10) ΣΕΛΙΔΕΣ

ΟΔΗΓΙΕΣ (για τους εξεταζόμενους)

- 1. Να απαντήσετε ΟΛΑ τα ερωτήματα πάνω στο εξεταστικό δοκίμιο.**
- 2. Το δοκίμιο αποτελείται από τρία μέρη (Α', Β' και Γ').**
- 3. Να μη γράψετε πουθενά το όνομά σας στο εξεταστικό δοκίμιο εκτός του καθορισμένου χώρου στο χαρτονάκι που σας έχει δοθεί.**
- 4. Να απαντήσετε σε όλα τα θέματα μόνο με πένα χρώματος μπλε ανεξίτηλης μελάνης.**
- 5. Απαγορεύεται η χρήση διορθωτικού υγρού και διορθωτικής ταινίας.**

ΣΑΣ ΕΥΧΟΜΑΣΤΕ ΚΑΛΗ ΕΠΙΤΥΧΙΑ

ΜΕΡΟΣ Α΄: Το μέρος Α αποτελείται από δέκα (10) ερωτήσεις.

Κάθε ορθή απάντηση βαθμολογείται με τέσσερις (4) μονάδες.

1. Να αναφέρετε τέσσερις (4) τύπους προσωρινών/παροδικών βαφών.

.....

.....

.....

.....

2. Να κυκλώσετε το Σωστό για κάθε σωστή και το Λάθος για κάθε λάθος απάντηση για τις προτάσεις στον πιο κάτω πίνακα.

(1)	Η λοσιόν της περμανάντ τοποθετείται σε στεγνά μαλλιά	Σωστό/ Λάθος
(2)	Κατά την περμανάντ η σταθεροποίηση εφαρμόζεται στα μαλλιά σε δύο φάσεις	Σωστό/ Λάθος
(3)	Μετά την σταθεροποίηση τα μαλλιά λούζονται κανονικά με σαμπουάν και μαλακτική κρέμα	Σωστό/ Λάθος
(4)	Η ψυχρή περμανάντ είναι η μέθοδος που χρησιμοποιείται πιο συχνά στα κομμωτήρια	Σωστό/ Λάθος
(5)	Ένα από τα βασικά συστατικά της λοσιόν περμανάντ είναι η αμμωνία	Σωστό/ Λάθος
(6)	Η πολύ έντονη αλλαγή φόρμας στην περμανάντ οφείλεται στο ότι το υγρό της περμανάντ ήταν πολύ ισχυρό/δυνατό	Σωστό/ Λάθος
(7)	Κατά το λούσιμο πριν την περμανάντ πρέπει να γίνει έντονο μασάζ στο τριχωτό της κεφαλής	Σωστό/ Λάθος
(8)	Η έμμεση διαβροχή γίνεται στο τέλος του τυλίγματος των μαλλιών στην περμανάντ	Σωστό/ Λάθος

3. Να αντιστοιχίσετε τους διάφορους τύπους βαφών που δίνονται στην στήλη Α με την διάρκεια που έχουν στα μαλλιά που αναγράφεται στην στήλη Β, συμπληρώνοντας τον πιο κάτω πίνακα.

ΣΤΗΛΗ Α	ΣΤΗΛΗ Β
Τύποι βαφών	Διάρκεια στα μαλλιά
(1) Προσωρινές/παροδικές	(α) Μέχρι τα μαλλιά να κοπούν
(2) Ημι - μόνιμες	(β) 6 – 8 λουσίματα (3-4 εβδομάδες)
(3) Ξανοικτικές	(δ) Μέχρι το επόμενο λούσιμο
(4) Μόνιμες	(δ) Μέχρι τα μαλλιά να κοπούν

ΣΤΗΛΗ Α	ΣΤΗΛΗ Β
(1)	
(2)	
(3)	
(4)	

4. Να αναφέρετε δύο (2) περιπτώσεις, που αναμιγνύεται το οξυζενέ/υπεροξειδίο υδρογόνου (H_2O_2) δύναμης 20 vol (βαθμών), με μόνιμη βαφή.

.....

.....

.....

.....

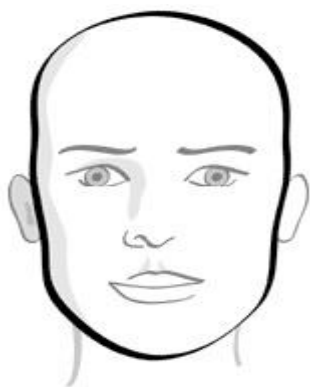
5. Να αναφέρετε γιατί είναι αναγκαία η χρήση ειδικού χαρτιού κατά το τύλιγμα της περμανάντ.

.....

.....

.....

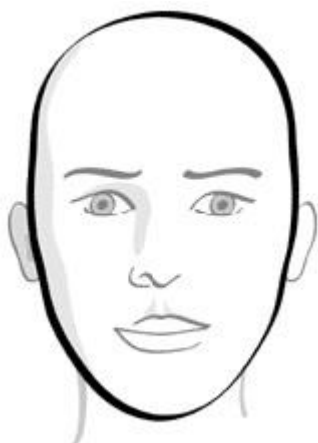
6. Να κατονομάσετε τα τέσσερα (4) σχήματα προσώπου που απεικονίζονται πιο κάτω.




(α).....



(β).....



(γ).....



(δ).....

7. Να αναφέρετε τέσσερα (4) προβλήματα που μπορεί να προκύψουν στα μαλλιά ή στο δέρμα της κεφαλής μετά την περμανάντ.

.....

.....

.....

.....

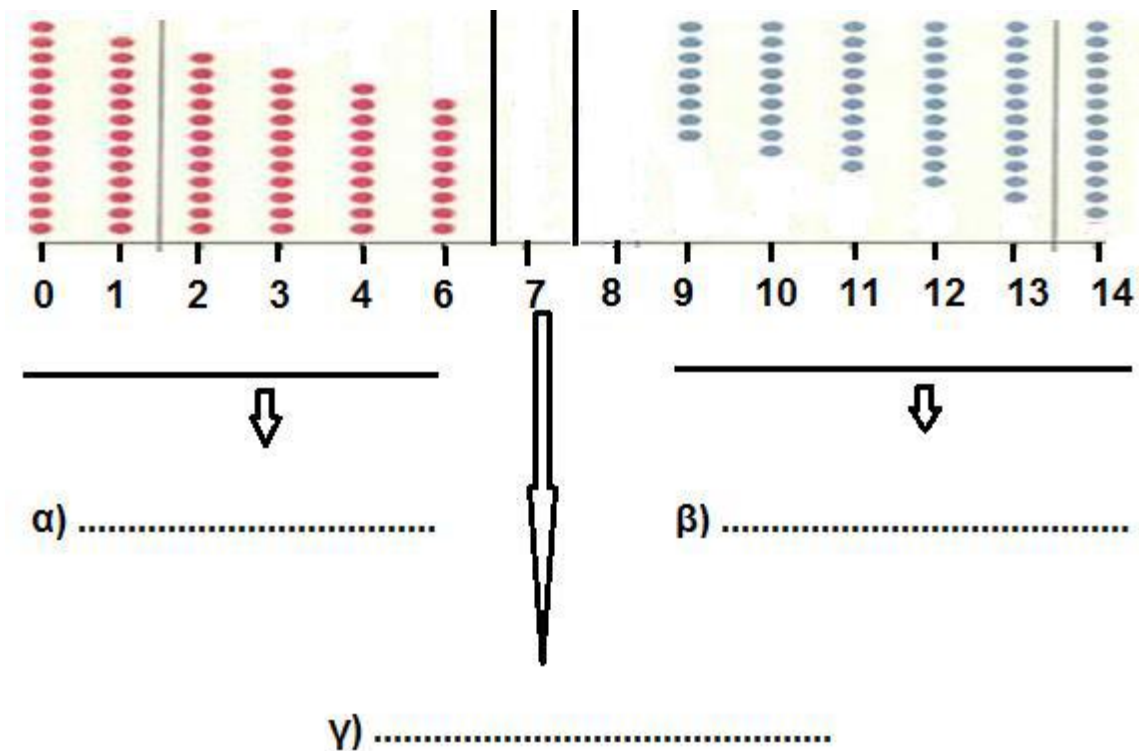
.....

.....

.....

8. Στην **εικόνα 1** δίνεται η κλίμακα του pH (πε-χα)
 Να συμπληρώσετε τα κενά στην πιο κάτω εικόνα και την πρόταση που ακολουθεί.

Εικόνα 1 κλίμακα του pH (πε-χα)



δ) Η τιμή του pH (πε-χα) ενός διαλύματος κομμωτικής μπορεί να μετρηθεί με το ειδικό

9. Να αντιστοιχίσετε τα πιο κάτω οξυζενέ/υπεροξειδίο του υδρογόνου (H_2O_2)

(α) 40 Vol (βαθμών)	3 %
(β) 20 Vol (βαθμών)	9 %
(γ) 10 Vol (βαθμών)	12 %
(δ) 30 Vol (βαθμών)	6%

10. Να αντιστοιχήσετε τους τύπους των μαλλιών που αναφέρονται στη στήλη Α με τη δύναμη της λοσιόν περμανάντ που θα χρησιμοποιήσετε και αναφέρονται στη στήλη Β, συμπληρώνοντας τον πιο κάτω πίνακα.

ΣΤΗΛΗ Α	ΣΤΗΛΗ Β
Τύπους μαλλιών	Λοσιόν περμανάντ
(1) χοντρά, υαλώδη μαλλιά	(α) Νο 1
(2) αποχρωματισμένα/ξανοιγμένα μαλλιά	(β) Νο 3
(3) κανονικά/φυσικά μαλλιά	(γ) Νο 2
(4) βαμμένα μαλλιά	(δ) Νο 0

ΣΤΗΛΗ Α	ΣΤΗΛΗ Β
(1)	
(2)	
(3)	
(4)	

ΜΕΡΟΣ Β΄: Το μέρος Β αποτελείται από πέντε (5) ερωτήσεις.

Κάθε ορθή απάντηση βαθμολογείται με οκτώ 8 μονάδες.

11. (α) Να αναφέρετε τα φυσικά χρώματα μαλλιών που συμβολίζουν οι πιο κάτω κωδικοί αριθμοί, στον χρωματοκατάλογο ενός κομμωτηρίου.

1.

2.

3.

4.

5.

6.

7.

8.

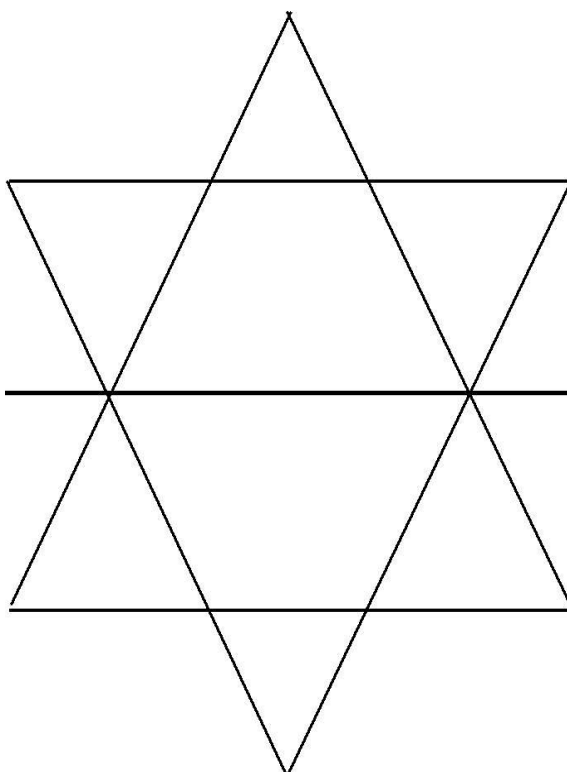
12. Στο **σχήμα 1** δίνονται τα Τρίγωνα της Χρωματομετρίας που χρησιμοποιούνται στην Κομμωτική. Να συμπληρώσετε:

(α) Τα βασικά και τα δευτερεύοντα χρώματα

(β) Τα ψυχρά και ζεστά χρώματα

Σχήμα 1

Τρίγωνα της Χρωματομετρίας



13. Κατά την διάρκεια χρήσης χημικών στα μαλλιά, να αναφέρετε:

(α) τέσσερα (4) προστατευτικά μέτρα που πρέπει να πάρει ο κομμωτής/ η κομμώτρια για την προστασία του πελάτη.

.....

.....

.....

.....
.....
.....
(β) τέσσερα (4) προστατευτικά μέτρα που πρέπει να πάρει ο κομμωτής/η κομμώτρια για την ατομική του/της προστασία.

.....
.....
.....
.....
.....
.....
.....
.....

14. Ένας πελάτης/μια πελάτισσα με κάποιο ποσοστό λευκών μαλλιών, επισκέπτεται το κομμωτήριο για βαφή.

Να περιγράψετε την διαδικασία υπολογισμού του ποσοστού (επί τοις 100%) των λευκών μαλλιών που έχει.

.....
.....
.....
.....
.....
.....
.....
.....
.....
.....
.....

15. Να αναφέρετε οκτώ (8) σημαντικές πληροφορίες που πρέπει να περιέχει η κάρτα του πελάτη/της πελάτισσας για βαφή.

.....
.....
.....

.....
.....
.....
.....
.....
.....
.....
.....

**ΜΕΡΟΣ Γ΄: Το μέρος Γ αποτελείται από δυο (2) ερωτήσεις.
Κάθε ορθή απάντηση βαθμολογείται με δέκα (10) μονάδες.**

16. (α) Να αναφέρετε δύο (2) περιπτώσεις που επιβάλλεται να εφαρμοστεί το τεστ/έλεγχος αλλεργίας δέρματος στο κομμωτήριο.

.....
.....
.....
.....
.....

(β) Να περιγράψετε την διαδικασία εφαρμογής του πιο πάνω τεστ/ελέγχου αλλεργίας δέρματος.

.....
.....
.....
.....
.....
.....
.....
.....
.....
.....
.....

17. Πιο κάτω δίνονται δέκα (10) βήματα πορείας κατά την εκτέλεση της περμανάντ. Να αριθμήσετε τα βήματα με τη σωστή σειρά από το 1 μέχρι το 10, στον πιο κάτω πίνακα.

- (α) Προστατεύουμε το δέρμα με μουσκεμένο βαμβάκι.
- (β) Ξεπλένουμε τα μαλλιά για πέντε (5) έως επτά (7) λεπτά.
- (γ) Τοποθετούμε αφροποιημένη σταθεροποίηση για πέντε (5) λεπτά.
- (δ) Λούζουμε τα μαλλιά με ουδέτερο σαμπουάν pH 7.
- (ε) Ελέγχουμε την πορεία διαμόρφωσης της μπούκλας κάθε πέντε (5) λεπτά (σχήμα S).
- (στ) Εφαρμόζουμε τη λοσιόν περμανάντ και τοποθετούμε το ειδικό καπελάκι.
- (ζ) Κάνουμε χωρίσματα σύμφωνα με το στυλ που θέλει η πελάτισσα και τυλίγουμε τα μαλλιά.
- (η) Σκουπίζουμε τα μαλλιά με πετσέτα και απορροφητικό χαρτί.
- (θ) Ξεπλένουμε καλά την σταθεροποίηση από τα μαλλιά και εφαρμόζουμε ειδική μαλακτική κρέμα για εξισορρόπηση του pH (πε-χα) της τρίχας.
- (ι) Αφαιρούμε τα ρολά και τοποθετούμε αφροποιημένη σταθεροποίηση στις άκρες των μαλλιών για άλλα πέντε (5) λεπτά.

	Σωστή σειρά
(1)	
(2)	
(3)	
(4)	
(5)	
(6)	
(7)	
(8)	
(9)	
(10)	

-----ΤΕΛΟΣ ΕΞΕΤΑΣΤΙΚΟΥ ΔΟΚΙΜΙΟΥ -----