

ΥΠΟΥΡΓΕΙΟ ΠΑΙΔΕΙΑΣ, ΠΟΛΙΤΙΣΜΟΥ, ΑΘΛΗΤΙΣΜΟΥ ΚΑΙ ΝΕΟΛΑΙΑΣ
ΔΙΕΥΘΥΝΣΗ ΜΕΣΗΣ ΤΕΧΝΙΚΗΣ ΚΑΙ ΕΠΑΓΓΕΛΜΑΤΙΚΗΣ ΕΚΠΑΙΔΕΥΣΗΣ
ΚΑΙ ΚΑΤΑΡΤΙΣΗΣ

ΕΝΙΑΙΑ ΓΡΑΠΤΗ ΑΞΙΟΛΟΓΗΣΗ ΤΕΤΡΑΜΗΝΩΝ 2020 – 2021

Β΄ ΤΑΞΗ

ΗΜΕΡΟΜΗΝΙΑ: Πέμπτη, 3 Ιουνίου, 2021

ΩΡΑ ΕΞΕΤΑΣΗΣ: 11:30 – 13:00

ΕΞΕΤΑΖΟΜΕΝΟ ΜΑΘΗΜΑ: ΣΧΕΔΙΑΣΤΙΚΕΣ ΕΦΑΡΜΟΓΕΣ ΙΙ

(Α΄ ΣΕΙΡΑ)

ΚΩΔΙΚΟΣ ΜΑΘΗΜΑΤΟΣ: ed202

ΣΥΝΟΛΙΚΗ ΔΙΑΡΚΕΙΑ ΓΡΑΠΤΗΣ ΕΞΕΤΑΣΗΣ: 90 ΛΕΠΤΑ

ΤΟ ΕΞΕΤΑΣΤΙΚΟ ΔΟΚΙΜΙΟ ΑΠΟΤΕΛΕΙΤΑΙ ΑΠΟ ΤΡΕΙΣ (3) ΣΕΛΙΔΕΣ Α3

ΠΙΘΑΝΕΣ ΛΥΣΕΙΣ

ΑΣΚΗΣΕΙΣ

1. Δίνονται **δύο (2) κύβοι** από διαφορετικά υλικά: α) ξυλεία και β) μάρμαρο.


Να αποδώσετε με χρώμα τα δύο (2) **Προοπτικά Γραμμικά Σχέδια α.1) και β.1)** στα δεξιά, έτσι ώστε να αναδεικνύονται η υφή και το χρώμα των συγκεκριμένων υλικών.




α) ξυλεία



β) μάρμαρο



α.1) ξυλεία



β.1) μάρμαρο

Κριτήρια αξιολόγησης:


- | | |
|---|---------|
| • Απόδοση υφής και χρώματος | 15 μον. |
| • Ορθή προοπτική απόδοση υλικών στον κύβο - απόδοση όγκου | 15 μον. |
| • Ζωντανή και εκφραστική απόδοση θέματος – πρωτοτυπία | 10 μον. |

Σύνολο 40 μονάδες

Προοπτικά Γραμμικά Σχέδια

2. Πιο κάτω δίνεται **Φωτογραφία Πολυθρόνας (ΣΧΗΜΑ 1)**. Να σχεδιάσετε το προοπτικό σχέδιο της πολυθρόνας με **ένα (1) Σημείο Φυγής (1 Σ.Φ)** στο **Πλαίσιο 1**, στα δεξιά. Ακολουθώντας να αποδώσετε τη φωτοσκίαση της πολυθρόνας με μολύβι έτσι ώστε να αναδεικνύεται ο όγκος.

ΣΧΗΜΑ 1



Κριτήρια αξιολόγησης

- | | |
|---|---------|
| • Ορθή προοπτική σχεδίαση | 30 μον. |
| • Απόδοση φωτοσκίασης – απόδοση όγκου | 20 μον. |
| • Ζωντανή και εκφραστική απόδοση θέματος – πρωτοτυπία | 10 μον. |

Σύνολο 60 μονάδες

Πλαίσιο 1

ΤΕΛΟΣ ΕΞΕΤΑΣΤΙΚΟΥ ΔΟΚΙΜΙΟΥ