

ΥΠΟΥΡΓΕΙΟ ΠΑΙΔΕΙΑΣ ΚΑΙ ΠΟΛΙΤΙΣΜΟΥ  
ΔΙΕΥΘΥΝΣΗ ΑΝΩΤΕΡΗΣ ΚΑΙ ΑΝΩΤΑΤΗΣ ΕΚΠΑΙΔΕΥΣΗΣ  
ΥΠΗΡΕΣΙΑ ΕΞΕΤΑΣΕΩΝ

ΠΑΓΚΥΠΡΙΕΣ ΕΞΕΤΑΣΕΙΣ 2007

**Μάθημα:** ΣΧΕΔΙΟ ΕΠΙΠΛΩΝ ΚΑΙ ΞΥΛΟΥΡΓΙΚΩΝ ΚΑΤΑΣΚΕΥΩΝ

**Ημερομηνία και ώρα εξέτασης:** Σάββατο, 2 Ιουνίου 2007, 11.00 π.μ.

Λ Υ Σ Ε Ι Σ

ΜΕΡΟΣ Α

Απάντηση 1

- (α) Οι μαθητές σκύβουν περισσότερο από το κανονικό με αποτέλεσμα να επιβαρύνεται η σπονδυλική στήλη.
- (β) Τα πόδια των μαθητών δεν χωρούν κάτω από το καπάκι του θρανίου.

Απάντηση 2

- (α) Μέθοδος και μορφή  
(β) Χρώμα και διακόσμηση  
(γ) Επεξεργασία επιφάνειας

Απάντηση 3

- Στερεότητα
- Αντοχή
- Εμφάνιση
- Ασφάλεια
- Κόστος

Απάντηση 4

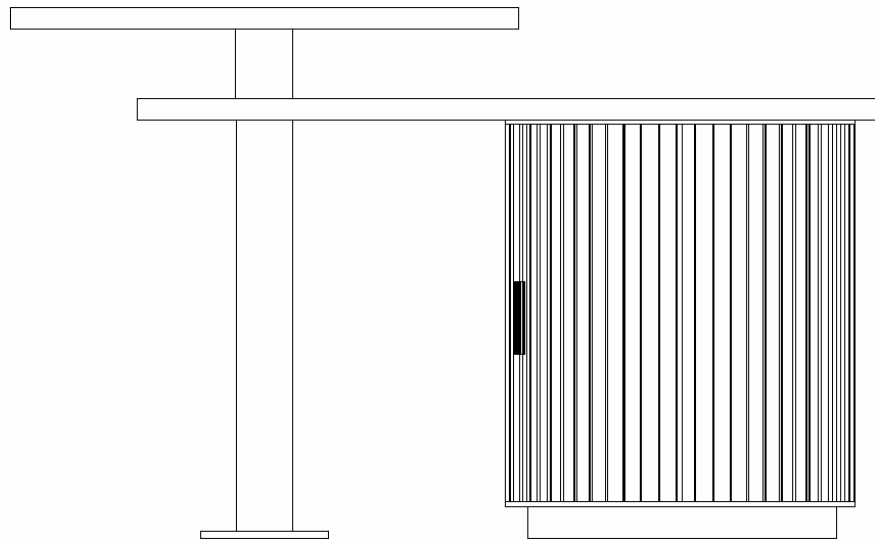
- 1) Ύψος ράχης: 850 mm περίπου
- 2) Βάθος καρέκλας: 400 mm περίπου
- 3) Ύψος καθίσματος: 450 mm περίπου
- 4) Άνοιγμα πλάτος καρέκλας: 450 mm περίπου

Απάντηση 5

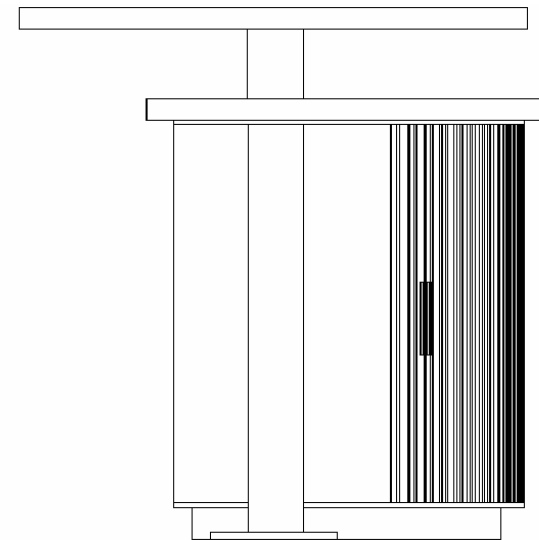
- α) Μοριόπλακα πάχους 18 mm επενδυμένη με καπλαμά δρυ 0,5 mm  
β) Πήχυ από ατόφια ξυλεία δρυ 18 mm x 15 mm  
γ) Η πήχυ είναι κολλημένη στις παρυφές της μοριόπλακας με κόλλα  
δ) Το καπάκι είναι στερεωμένο με το πλαϊνό με σύνδεση μπισκότου μεγέθους 18/4 mm

.../2...

**Απάντηση 6**

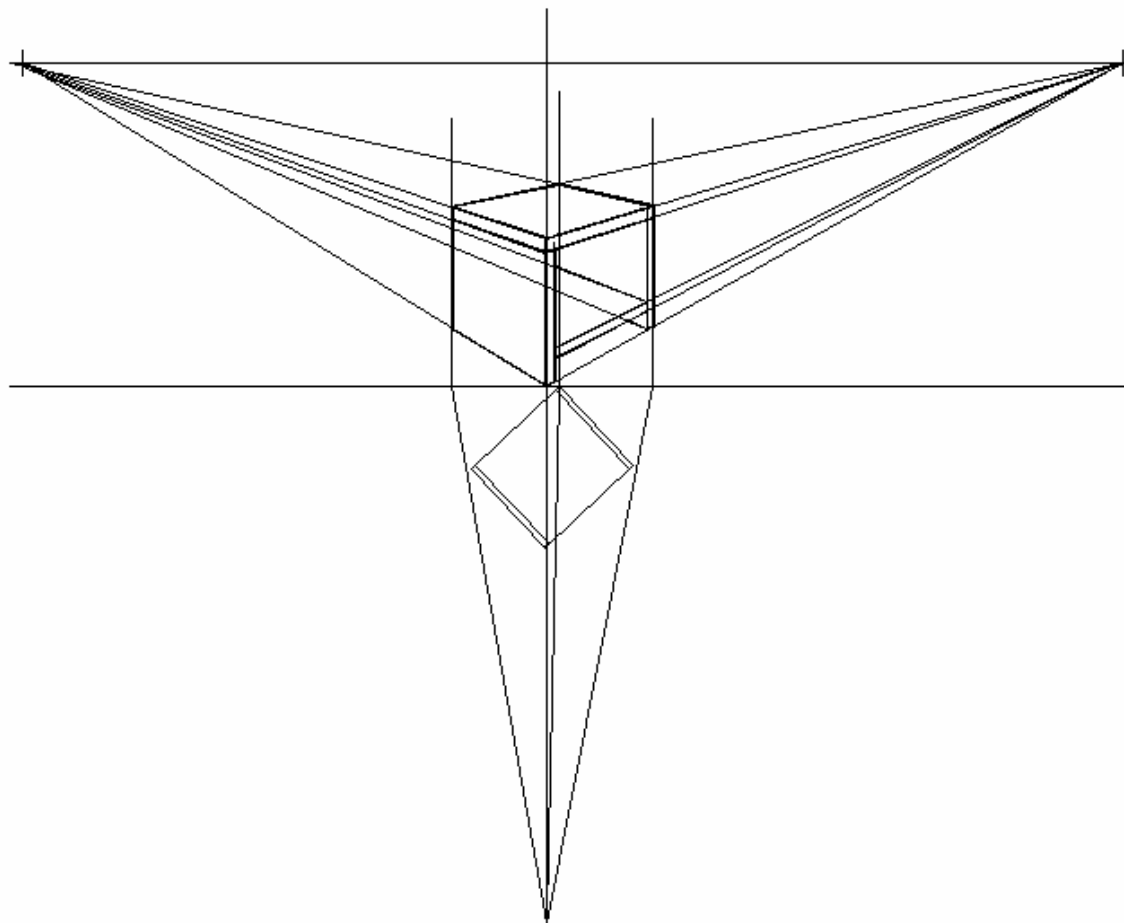


ΠΡΟΣΟΨΗ



ΠΛΑΓΙΑ ΟΨΗ

Απάντηση 7



**Απάντηση 8**

