

**ΥΠΟΥΡΓΕΙΟ ΠΑΙΔΕΙΑΣ, ΑΘΛΗΤΙΣΜΟΥ ΚΑΙ ΝΕΟΛΑΙΑΣ
ΔΙΕΥΘΥΝΣΗ ΜΕΣΗΣ ΤΕΧΝΙΚΗΣ ΚΑΙ ΕΠΑΓΓΕΛΜΑΤΙΚΗΣ ΕΚΠΑΙΔΕΥΣΗΣ
ΚΑΙ ΚΑΤΑΡΤΙΣΗΣ**

**ΕΝΙΑΙΕΣ ΤΕΛΙΚΕΣ ΠΡΟΑΓΩΓΙΚΕΣ ΚΑΙ
ΑΠΟΛΥΤΗΡΙΕΣ ΓΡΑΠΤΕΣ ΕΞΕΤΑΣΕΙΣ**

20 25 - 20 26

Α' ΤΑΞΗΣ ΤΕΣΕΚ

ΣΕΙΡΑ Α'

ΠΡΑΚΤΙΚΗ ΚΑΤΕΥΘΥΝΣΗ

ΗΜΕΡΟΜΗΝΙΑ : Παρασκευή, 22 Μαΐου 2026

ΕΞΕΤΑΖΟΜΕΝΟ ΜΑΘΗΜΑ : Γενικές Γνώσεις Τεχνολογίας Κομμωτικής

ΚΩΔΙΚΟΣ ΜΑΘΗΜΑΤΟΣ : kk102

ΣΥΝΟΛΙΚΗ ΔΙΑΡΚΕΙΑ ΓΡΑΠΤΗΣ ΕΞΕΤΑΣΗΣ: 90' λεπτά

ΤΟ ΕΞΕΤΑΣΤΙΚΟ ΔΟΚΙΜΙΟ ΑΠΟΤΕΛΕΙΤΑΙ ΑΠΟ ΔΕΚΑΤΡΕΙΣ (13) ΣΕΛΙΔΕΣ.

ΤΑ ΜΕΡΗ ΤΟΥ ΕΞΕΤΑΣΤΙΚΟΥ ΔΟΚΙΜΙΟΥ ΕΙΝΑΙ ΤΡΙΑ (Α', Β' ΚΑΙ Γ').

ΟΔΗΓΙΕΣ (για τους εξεταζόμενους)

1. Να απαντήσετε **ΟΛΑ** τα ερωτήματα πάνω στο εξεταστικό δοκίμιο.
2. Να μη γράψετε πουθενά το όνομά σας στο εξεταστικό δοκίμιο εκτός του καθορισμένου χώρου στο χαρτονάκι που σας έχει δοθεί.
3. Να απαντήσετε σε όλα τα θέματα μόνο με πένα χρώματος μπλε ανεξίτηλης μελάνης.
4. Απαγορεύεται η χρήση διορθωτικού υγρού και διορθωτικής ταινίας.

ΣΑΣ ΕΥΧΟΜΑΣΤΕ ΚΑΛΗ ΕΠΙΤΥΧΙΑ

ΟΔΗΓΙΕΣ (για την επιτροπή εξετάσεων)

1. Το εξεταστικό δοκίμιο να εκτυπωθεί και στις δύο όψεις.

ΤΟ ΕΞΕΤΑΣΤΙΚΟ ΔΟΚΙΜΙΟ ΝΑ ΕΚΤΥΠΩΘΕΙ: ΕΓΧΡΩΜΟ

ΜΕΡΟΣ Α΄: Περιλαμβάνει δέκα (10) ερωτήσεις και κάθε ερώτηση βαθμολογείται με τέσσερις (4) μονάδες. (Σύνολο μονάδων: 40)

1. (α) Να αναφέρετε τον αρχαίο πολιτισμό στον οποίο ανήκει καθεμία από τις γυναικείες μορφές που απεικονίζονται στις **Εικόνες 1 και 2**.

Εικόνα 1



Εικόνα 2



Εικόνα 1

Εικόνα 2

(β) Να περιγράψετε την εμφάνιση και την κόμμωση των γυναικείων μορφών που απεικονίζονται στις **Εικόνες 1 και 2**.

Εικόνα 1:

.....
.....
.....
.....
.....

Εικόνα 2:

.....
.....
.....
.....
.....

2. (α) Να υποδείξετε ποια από τις κομμώτριες που απεικονίζονται στις πιο κάτω **Εικόνες 3 και 4** είναι η σωστή επαγγελματίας, σημειώνοντας (✓) στο αντίστοιχο κουτί.

Εικόνα 3



Εικόνα 4



(β) Να τεκμηριώσετε την επιλογή σας, αναφέροντας τρεις (3) λόγους.

.....

.....

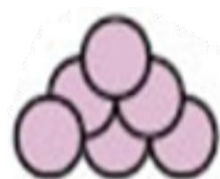


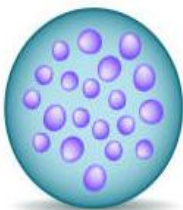
.....

.....

.....

.....

3. Να γράψετε κάτω από την κάθε **Εικόνα (α, β, γ και δ)**, το είδος του βακτηριδίου που απεικονίζει.



(α) (β) (γ) (δ)

4. Στον πιο κάτω **Πίνακα**, να σημειώσετε με (✓) τους τέσσερις (4) τύπους παθογόνων μικροβίων που μπορούν να αποτελέσουν αιτία μεταδοτικών λοιμώξεων στον χώρο κομμωτηρίου.

Τύποι μικροβίων	Επιλογή (✓)
(α) Βακτηρίδια	
(β) Αρώματα κομμωτηρίου	
(γ) Παράσιτα	
(δ) Χημικά καθαριστικά	
(ε) Ιοί	
(στ) Μύκητες	

5. Να αναφέρετε τέσσερα (4) προσόντα που πρέπει να διαθέτει ένας κομμωτής/μία κομμώτρια, ώστε να είναι σωστός επαγγελματίας.



.....

.....

.....

.....

.....

.....

.....

.....

6. (α) Να αναφέρετε τέσσερις (4) λειτουργίες που επιτελούν οι τρίχες στο ανθρώπινο σώμα.

.....

.....

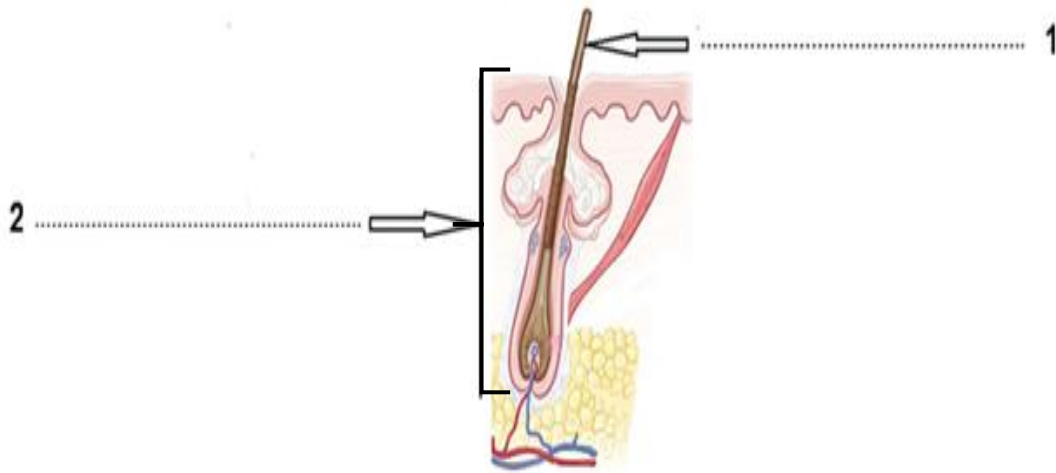
.....

.....

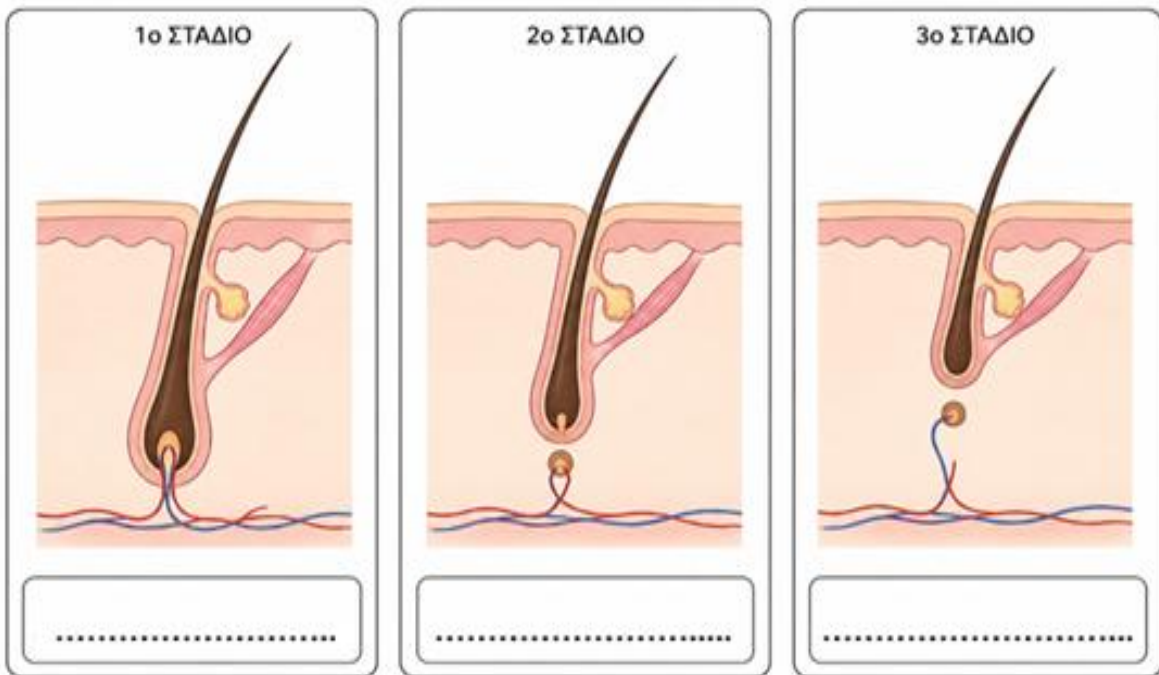
.....

.....

(β) Να κατονομάσετε τα δύο μέρη της τρίχας που απεικονίζονται στην πιο κάτω **Εικόνα**.



7. (α) Να γράψετε κάτω από κάθε **Εικόνα** το στάδιο ανάπτυξης της τρίχας που απεικονίζεται.



(β) Να αναφέρετε δύο (2) παράγοντες που επηρεάζουν την ανάπτυξη της τρίχας.

.....





.....

.....

.....

.....

8. Στη **Στήλη Β**, να σημειώσετε με (✓) τη σωστή ονομασία για καθεμία από τις συσκευές που απεικονίζονται στη **Στήλη Α**.

Στήλη Α	Στήλη Β
<p>(α)</p> 	<ul style="list-style-type: none"> <input type="checkbox"/> Υγρός απολυμαντήρας <input type="checkbox"/> Κλίβανος ξηρής θερμότητας <input type="checkbox"/> Συσκευή απολύμανσης ατμού <input type="checkbox"/> Συσκευή υπεριώδους ακτινοβολίας (UV)
<p>(β)</p> 	<ul style="list-style-type: none"> <input type="checkbox"/> Υγρός απολυμαντήρας <input type="checkbox"/> Κλίβανος ξηρής θερμότητας <input type="checkbox"/> Συσκευή απολύμανσης ατμού <input type="checkbox"/> Συσκευή υπεριώδους ακτινοβολίας (UV)
<p>(γ)</p> 	<ul style="list-style-type: none"> <input type="checkbox"/> Υγρός απολυμαντήρας <input type="checkbox"/> Κλίβανος ξηρής θερμότητας <input type="checkbox"/> Συσκευή απολύμανσης ατμού <input type="checkbox"/> Συσκευή υπεριώδους ακτινοβολίας (UV)
<p>(δ)</p> 	<ul style="list-style-type: none"> <input type="checkbox"/> Υγρός απολυμαντήρας <input type="checkbox"/> Κλίβανος ξηρής θερμότητας <input type="checkbox"/> Συσκευή απολύμανσης ατμού <input type="checkbox"/> Συσκευή υπεριώδους ακτινοβολίας (UV)

9. (α) Να συμπληρώσετε, στον χώρο που σας δίνεται κάτω από κάθε **Εικόνα**, το σχήμα των μαλλιών που απεικονίζεται, καθώς και τη γεωγραφική περιοχή στην οποία εμφανίζεται, με βάση το σχήμα τους.

Τύποι μαλλιών με βάση το σχήμα της τρίχας

ΕΙΚΟΝΑ Α



ΕΙΚΟΝΑ Β



ΕΙΚΟΝΑ Γ



Εικόνα Α:

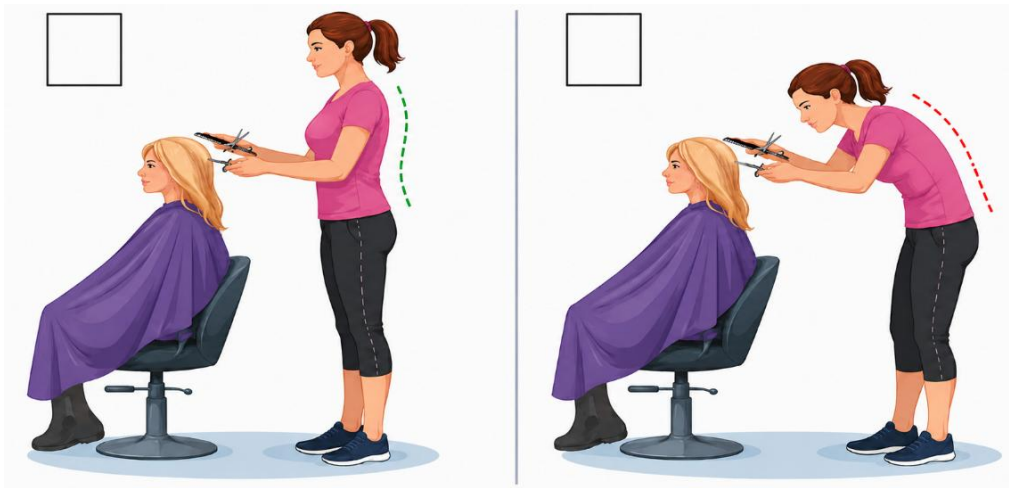
Εικόνα Β:

Εικόνα Γ:

(β) Να αναφέρετε τον παράγοντα που καθορίζει το σχήμα της τρίχας.

.....
.....

10. (α) Στις πιο κάτω **Εικόνες**, να επιλέξετε τη σωστή στάση σώματος της κομμώτριας κατά το κούρεμα των μαλλιών, σημειώνοντας (✓) στο σωστό κουτί και (X) στο λανθασμένο κουτί.



(β) Να κατονομάσετε την πάθηση/πρόβλημα της σπονδυλικής στήλης που απεικονίζεται στην πιο κάτω **Εικόνα**.



(γ) Να αναφέρετε δύο (2) αιτίες που προκαλούν την πιο πάνω πάθηση.

.....

.....

.....

.....

.....

.....

.....

.....

.....

ΜΕΡΟΣ Β΄: Περιλαμβάνει πέντε (5) ερωτήσεις και κάθε ερώτηση βαθμολογείται με οκτώ (8) μονάδες. (Σύνολο μονάδων: 40)

11. Να αναφέρετε τέσσερα (4) στάδια/βήματα της διαδικασίας καθαρισμού και αποστείρωσης των πιο κάτω εργαλείων μετά την ολοκλήρωση του κουρέματος, με σκοπό τη διασφάλιση της υγείας των πελατών.



(α) Καθαρισμός και αποστείρωση χτένας κουρέματος:

.....

.....

.....

.....

.....

.....

(β) Καθαρισμός και αποστείρωση ψαλιδιού:

.....

.....

.....

.....

.....

12. (α) Να αναγνωρίσετε και να γράψετε τον χώρο του κομμωτηρίου που απεικονίζεται σε καθεμιά από τις πιο κάτω **Εικόνες**.


Εικόνα 1



Εικόνα 2



Εικόνα 3



Εικόνα 4



Εικόνα 5



Εικόνα 1:

Εικόνα 2:

Εικόνα 3:

Εικόνα 4:

Εικόνα 5:

(β) Να δώσετε μια σύντομη περιγραφή του χώρου λουσίματος σε ένα κομμωτήριο, αναφέροντας τον εξοπλισμό που περιλαμβάνει.

.....

.....

.....

.....

.....

.....

.....

.....

.....

.....

13. Να κυκλώσετε το **Σωστό** για κάθε σωστή πρόταση και το **Λάθος** για κάθε λανθασμένη πρόταση στον πιο κάτω **Πίνακα**.

(α)	Η ανοσία είναι η ικανότητα του οργανισμού να καταστρέφει τα βακτήρια που έχουν εισβάλει σε αυτόν και έτσι να αντιστέκεται στις προσβολές τους.	Σωστό	Λάθος
(β)	Τα περισσότερα από τα βακτήρια δεν είναι παθογόνα (βλαβερά) για τον άνθρωπο, αλλά, αντίθετα, είναι χρήσιμα ή και απαραίτητα.	Σωστό	Λάθος
(γ)	Τα βακτήρια όταν φτάσουν στο μέγιστο μέγεθός τους, διαιρούνται σε δύο νέα κύτταρα.	Σωστό	Λάθος
(δ)	Τα βακτήρια είναι ορατά με γυμνό μάτι.	Σωστό	Λάθος
(ε)	Τα βακτήρια έχουν χαρακτηριστικά σχήματα που βοηθούν στην αναγνώρισή τους.	Σωστό	Λάθος
(στ)	Μια τοπική μόλυνση μπορεί να προκαλέσει κοκκίνισμα ή την εμφάνιση ενός σπυριού με πύον.	Σωστό	Λάθος
(ζ)	Τα παράσιτα είναι οργανισμοί που δεν ζουν εις βάρος άλλων οργανισμών.	Σωστό	Λάθος
(η)	Τα βακτήρια, οι μικροοργανισμοί και τα σπόρια τους καταστρέφονται με την απολύμανση.	Σωστό	Λάθος

14. Να συμπληρώσετε τα κενά στις προτάσεις που ακολουθούν, επιλέγοντας τις κατάλληλες λέξεις από την παρένθεση.

(αλογοουρά, υγιεινή, υγείας, πλένονται και απολυμαίνονται, καθαρά, αφαιρούνται, φυσικής κατάστασης, καθαρή)

- Η σωστή προσωπική αποτελεί βασική προϋπόθεση για την προστασία της και της ασφάλειας των πελατών.
- Τα χέρια του επαγγελματία πρέπει να πλένονται και να πριν και μετά από κάθε εξυπηρέτηση πελάτη/πελάτισσας.
- Τα μαλλιά πρέπει να είναι πιασμένα σε ή να είναι επιμελώς περιποιημένα.
- Τα νύχια της επαγγελματία κομμώτριας πρέπει να είναι και κοντά.
- Τα μεγάλα κοσμήματα στα χέρια πρέπει να κατά την εκτέλεση της εργασίας.
- Η τακτική άσκηση, ο επαρκής ύπνος και η ξεκούραση συμβάλλουν στη διατήρηση της καλής κατάστασης.
- Η στολή του επαγγελματία οφείλει να είναι πάντοτε και κατάλληλη για τον χώρο εργασίας.

15. Να κατονομάσετε οκτώ (8) αντικείμενα που πρέπει να υπάρχουν στο γραφείο του κομμωτηρίου, στο χώρο υποδοχής.

.....

.....

.....

.....

.....

.....

.....

.....

.....

.....

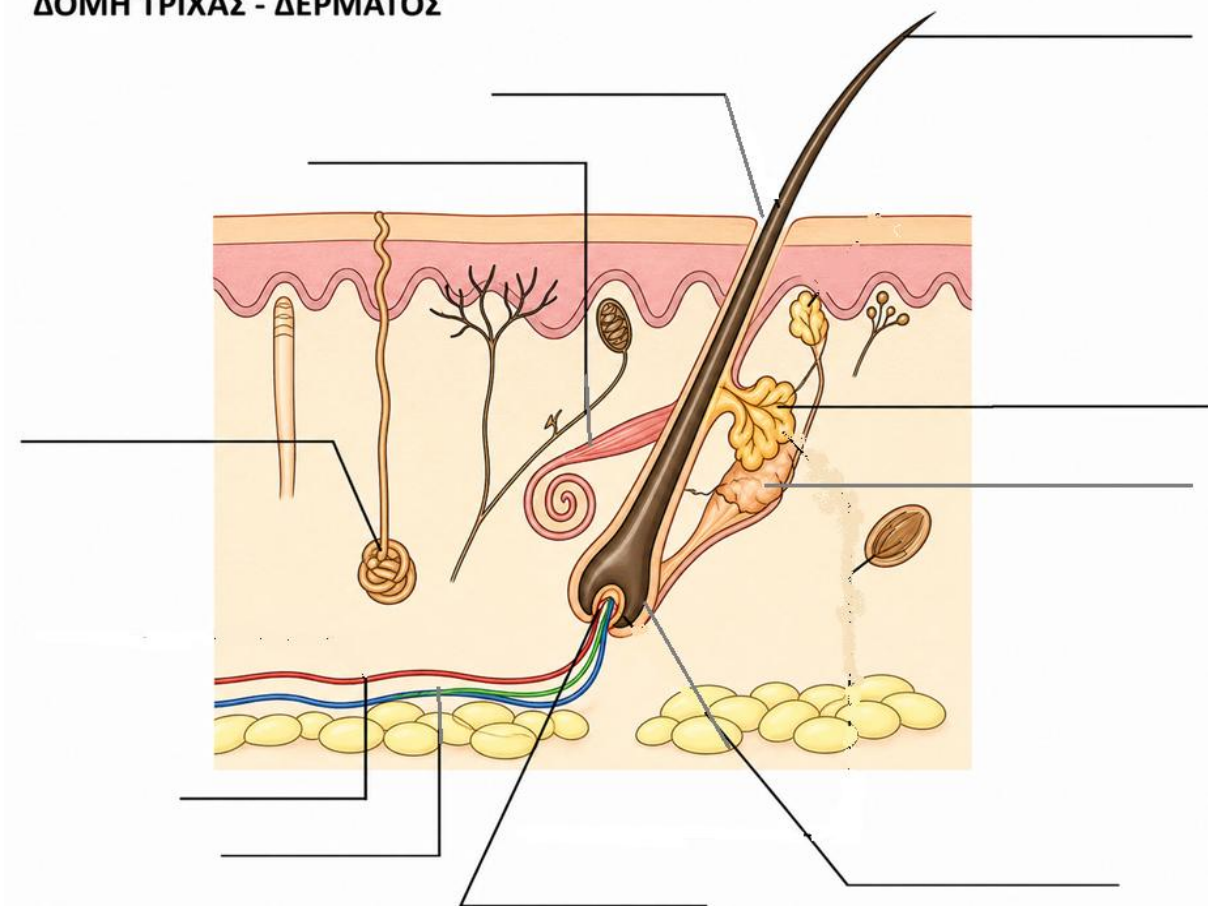
ΜΕΡΟΣ Γ΄: Περιλαμβάνει δύο (2) ερωτήσεις και κάθε ερώτηση βαθμολογείται με δέκα (10) μονάδες. (Σύνολο μονάδων: 20)

16. Να συμπληρώσετε τα δέκα (10) κενά της παρακάτω εικόνας, επιλέγοντας τις σωστές λέξεις/φράσεις από αυτές που δίνονται πιο κάτω.

Προσοχή: Περισσεύουν τέσσερις (4) λέξεις/φράσεις.

στέλεχος τρίχας, θύλακας τρίχας, φλέβα, ανορθωτήρας μυς, βολβός τρίχας, λέμφος, αποκρινής ιδρωτοποιός αδένας, σμηγματογόνος αδένας, αιμοφόρα αγγεία, αρτηρία, εκκρινής ιδρωτοποιός αδένας, αρτηρία, θηλή τρίχας, μήτρα τρίχας

ΔΟΜΗ ΤΡΙΧΑΣ - ΔΕΡΜΑΤΟΣ



17. (α) Να αναφέρετε δύο (2) βασικές λειτουργίες του σμηγματογόνου αδένος στην τρίχα.

.....

.....

.....

.....

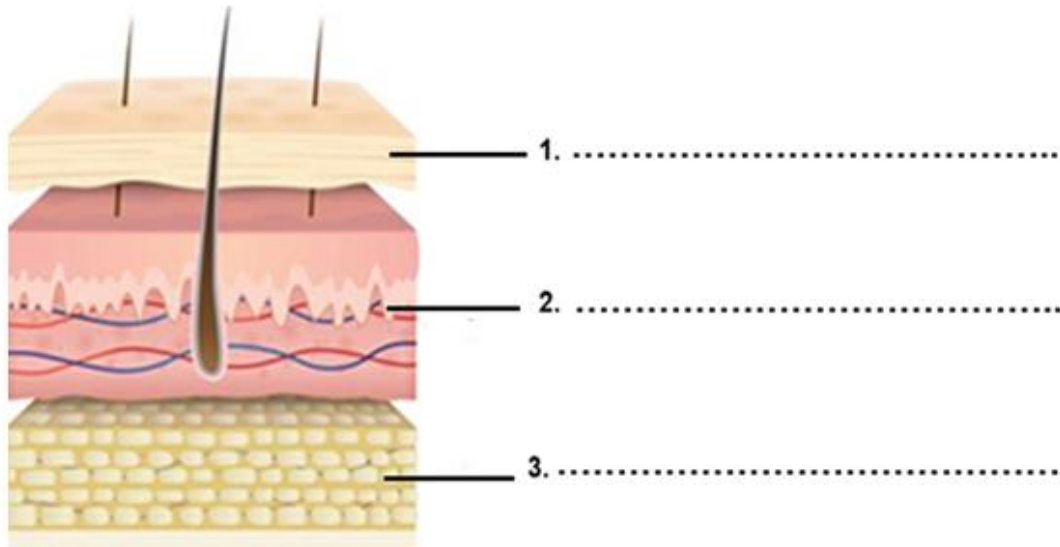
(β) Να αναφέρετε δύο (2) παράγοντες που επηρεάζουν την παραγωγή σμήγματος.

.....

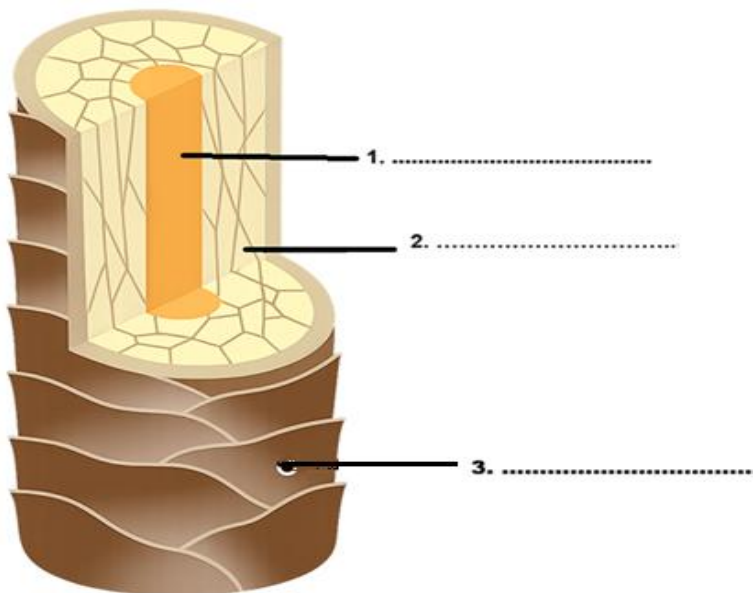
.....

.....

(γ) Να κατονομάσετε τα τρία (3) στρώματα του δέρματος που απεικονίζονται στην πιο κάτω εικόνα.



(δ) Να κατονομάσετε τα τρία (3) στρώματα της τρίχας που απεικονίζονται στην πιο κάτω εικόνα.



.....ΤΕΛΟΣ ΕΞΕΤΑΣΤΙΚΟΥ ΔΟΚΙΜΙΟΥ.....