

**ΥΠΟΥΡΓΕΙΟ ΠΑΙΔΕΙΑΣ, ΑΘΛΗΤΙΣΜΟΥ  
ΚΑΙ ΝΕΟΛΑΙΑΣ  
ΔΙΕΥΘΥΝΣΗ ΑΝΩΤΕΡΗΣ ΕΚΠΑΙΔΕΥΣΗΣ  
ΥΠΗΡΕΣΙΑ ΕΞΕΤΑΣΕΩΝ**

**ΠΑΓΚΥΠΡΙΕΣ ΕΞΕΤΑΣΕΙΣ ΠΡΟΣΒΑΣΗΣ 2026**

**ΜΑΘΗΜΑ : ΑΡΧΙΤΕΚΤΟΝΙΚΟ - ΤΕΧΝΙΚΟ ΣΧΕΔΙΟ (23)**

**ΗΜΕΡΟΜΗΝΙΑ : ΠΕΜΠΤΗ, 25 ΙΟΥΝΙΟΥ 2026**

**ΩΡΑ : 8:00 – 11:00**

**Το εξεταστικό δοκίμιο αποτελείται από τρεις (3) σελίδες A4 και πέντε (5) φύλλα σχεδίασης A3.**

Ο κάθε εξεταζόμενος και η κάθε εξεταζόμενη να εφοδιαστεί με τα πιο κάτω:

- Το εξεταστικό δοκίμιο
- Ένα έντυπο χαρτονάκι A4 στο οποίο, αφού συμπληρώσουν τα στοιχεία τους, να επισυναφθούν και τα πέντε (5) φύλλα σχεδίασης A3.

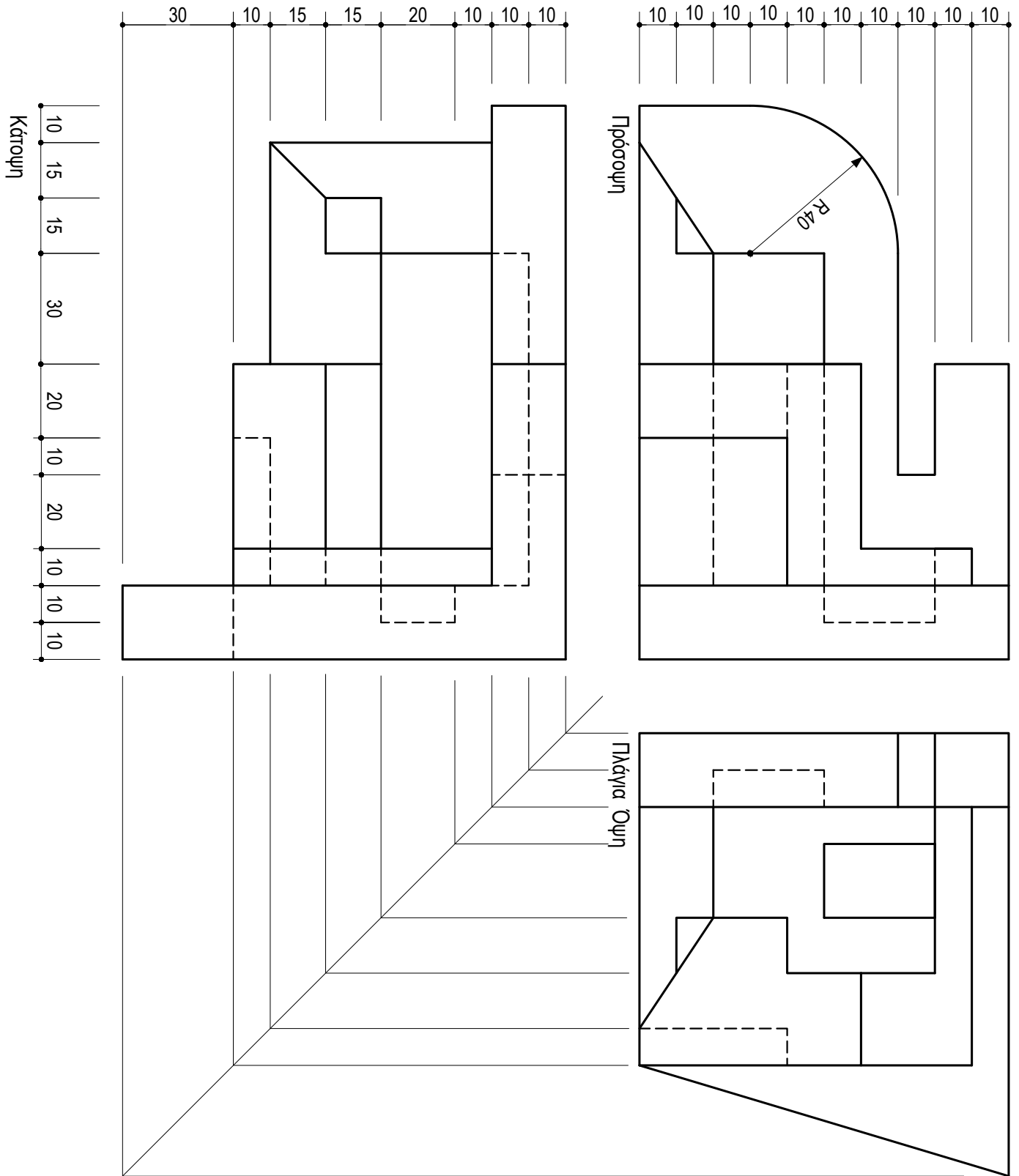
**ΟΔΗΓΙΕΣ**

**Το εξεταστικό δοκίμιο περιλαμβάνει δύο (2) μέρη, Α' και Β'.**

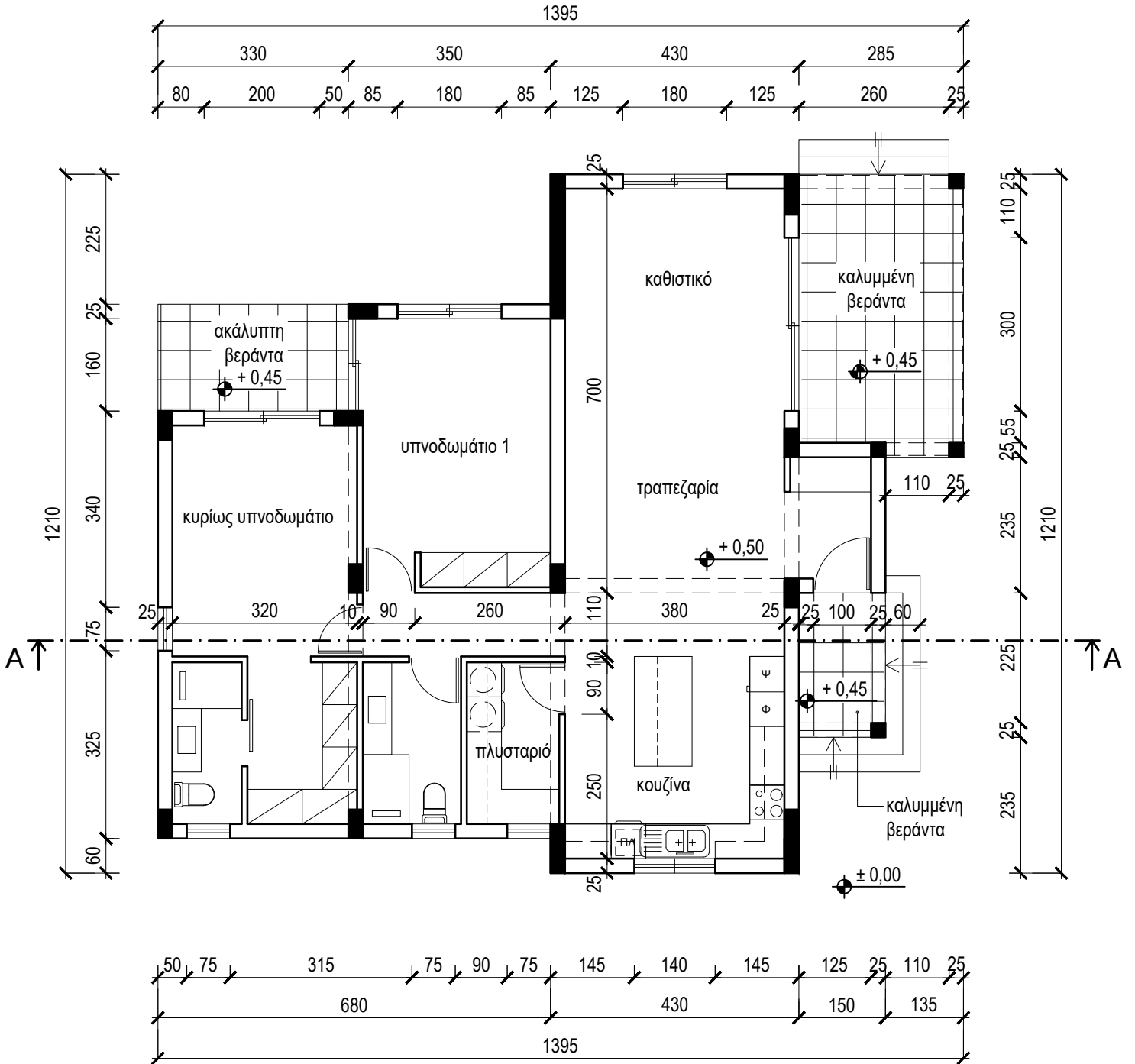
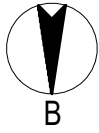
**Να λύσετε όλες τις ασκήσεις στα πέντε φύλλα σχεδίασης A3.**

1. Να συμπληρώσετε τα στοιχεία σας με μπλε μελάνι στο έντυπο A4 και στα πέντε (5) φύλλα σχεδίασης.
2. Να προσέξετε τη διάταξη των σχεδίων στο κάθε φύλλο σχεδίασης.
3. Να προσέξετε τη γραμμογραφία, τα γράμματα, τους αριθμούς και τους συμβολισμούς.
4. Να προσέξετε την όλη εμφάνιση και την καθαρότητα των σχεδίων σας.
5. Οι βοηθητικές γραμμές να παραμείνουν στα σχέδια.
6. Διαστάσεις που δεν αναφέρονται, να υπολογιστούν σε συνάρτηση με τις δοσμένες διαστάσεις.
7. Επιτρέπεται η χρήση κλιμακόμετρου.
8. Επιτρέπεται η χρήση μη προγραμματιζόμενης υπολογιστικής μηχανής.

ΠΑΡΑΡΤΗΜΑ 1



ΠΑΡΑΡΤΗΜΑ 2



ΚΑΤΟΨΗ  
κλίμακα 1:100

**ΑΣΚΗΣΗ 1(α) (15 μονάδες)**

Εξαγωνική πυραμίδα με πλευρά βάσης **30 mm** και ύψος **80 mm**, τέμνεται από επίπεδο τομής **XX'**. Το επίπεδο τομής σχηματίζει γωνία **45°** με το οριζόντιο επίπεδο, όπως φαίνεται στο σχήμα.

Να σχεδιάσετε σε κλίμακα **1:1**, την πρόσοψη, την κάτοψη, την πλάγια όψη και την πραγματική τομή της τεμνόμενης εξαγωνικής πυραμίδας. Τα τεμνόμενα επίπεδα (τομές) να γραμμοσκιαστούν και να αναγραφούν οι τίτλοι (πρόσοψη, κάτοψη, πλάγια όψη και πραγματική τομή).

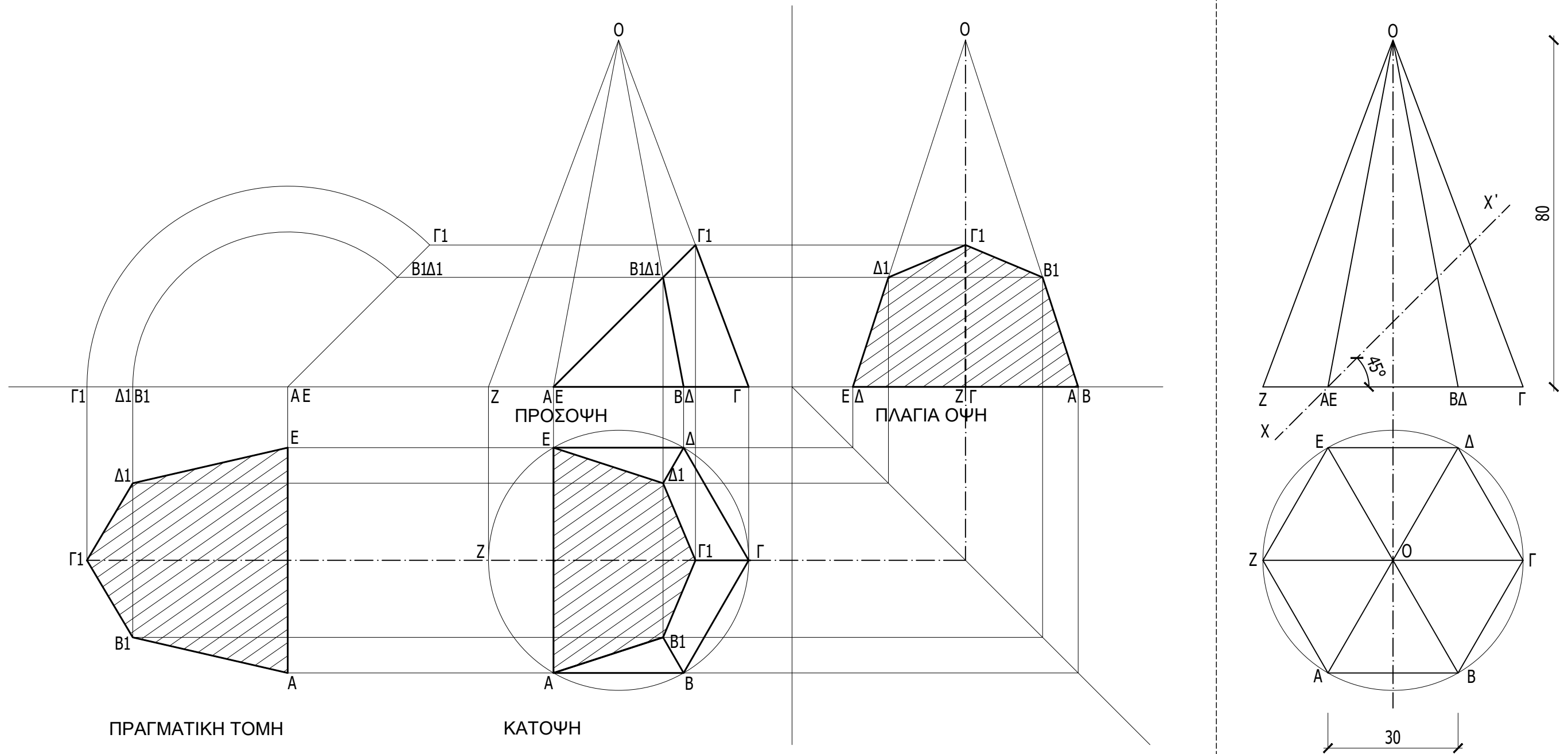
**Σημείωση:**

- Συστήνεται να αναγράφονται τα απαραίτητα γράμματα.

ΕΠΩΝΥΜΟ : .....

ΟΝΟΜΑ : .....

ΚΩΔΙΚΟΣ ΕΞΕΤΑΖΟΜΕΝΟΥ : .....



**ΑΣΚΗΣΗ 1(β) (10 μονάδες)**

Να σχεδιάσετε σε κλίμακα 1:1, το ανάπτυγμα της τεμνόμενης εξαγωνικής πυραμίδας. Το επίπεδο της πραγματικής τομής να γραμμοσκιαστεί και να αναγραφεί ο τίτλος (ανάπτυγμα).

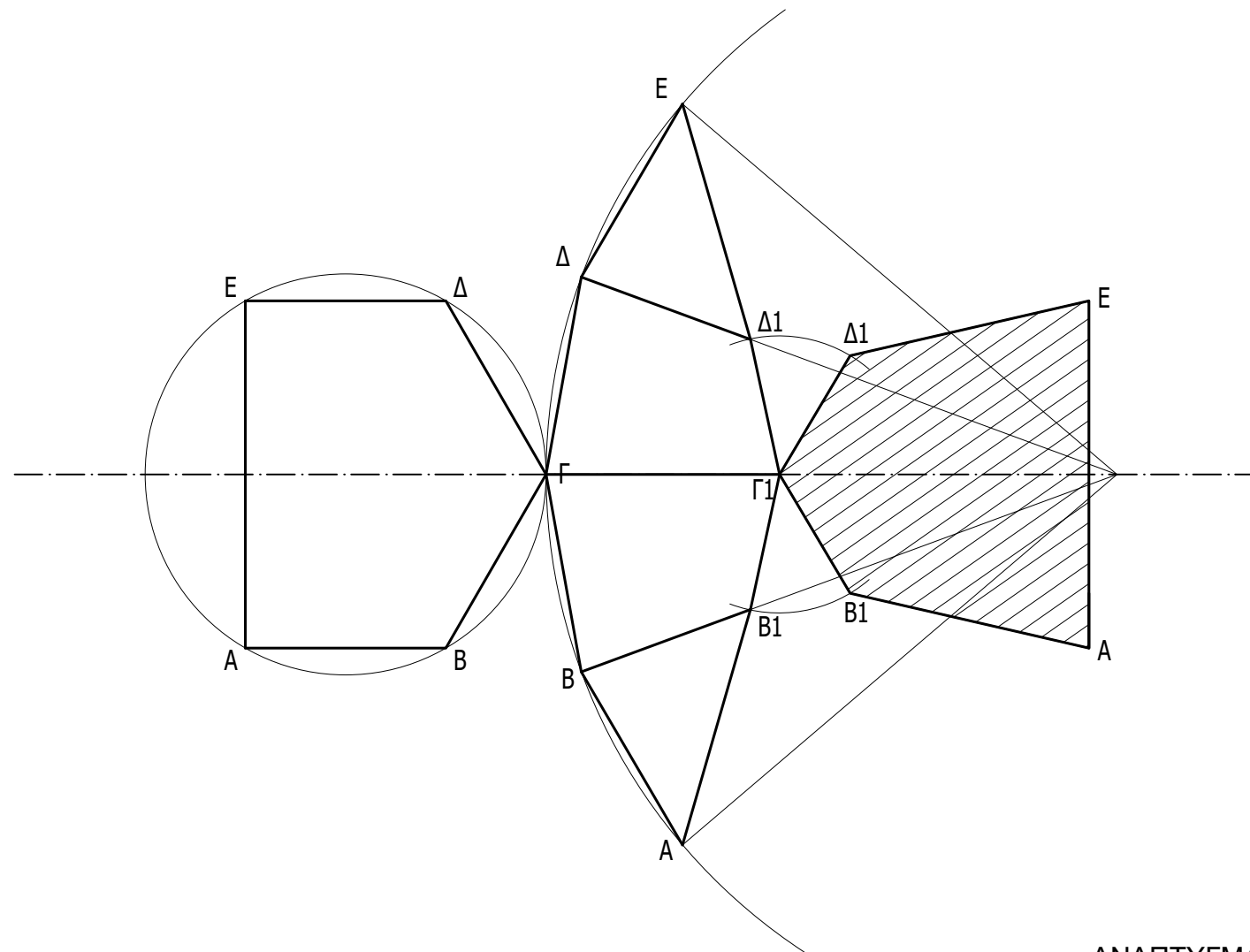
**Σημείωση:**

- Συστήνεται να αναγράφονται τα απαραίτητα γράμματα.

ΕΠΩΝΥΜΟ : .....

ΟΝΟΜΑ : .....

ΚΩΔΙΚΟΣ ΕΞΕΤΑΖΟΜΕΝΟΥ : .....



ΑΝΑΠΤΥΓΜΑ

**ΑΣΚΗΣΗ 2 (15 μονάδες)**

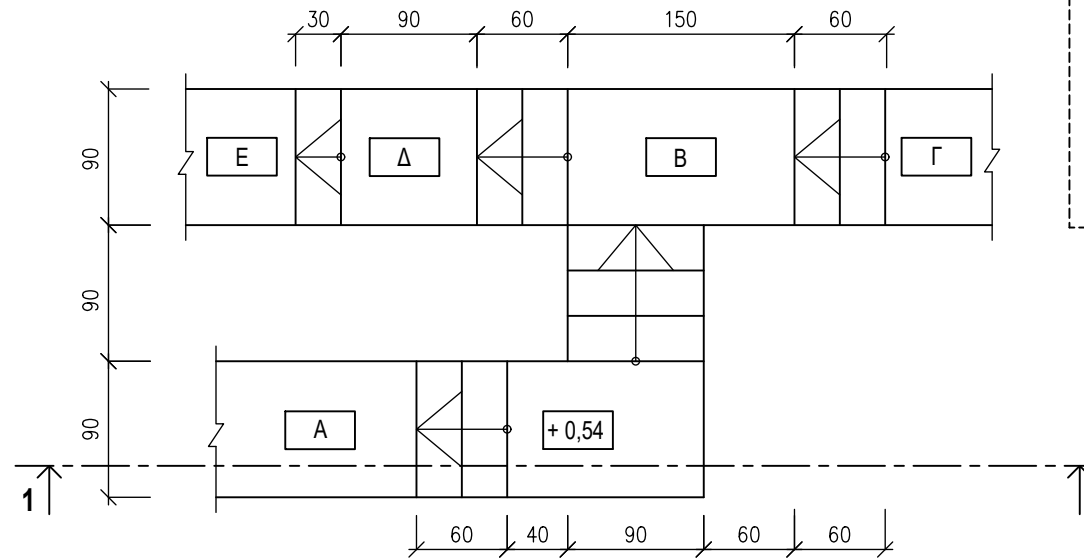
Δίνεται η κάτοψη σκάλας (κλίμακας) σε κλίμακα 1:50.

Να σχεδιάσετε σε κλίμακα **1:20**, την **τομή 1-1** της σκάλας (κλίμακας), αφού υπολογίσετε τα απαραίτητα υψόμετρα.

Το σχέδιο να περιλαμβάνει τα υψόμετρα Α, Β, Γ, Δ και Ε στα πλατύσκαλα, τον συμβολισμό του υλικού στο τεμνόμενο τμήμα, τον τίτλο και την κλίμακα.

**Σημειώσεις:**

- Το πάτημα των σκαλιών είναι **30 cm**.
- Το ύψος των σκαλιών είναι **18 cm**.
- Η σκάλα είναι κατασκευασμένη από οπλισμένο σκυρόδεμα και το πάχος της πλάκας της είναι **15 cm**.
- Οι διαστάσεις δίνονται σε **εκατοστόμετρα (cm)** και τα υψόμετρα σε **μέτρα (m)**.

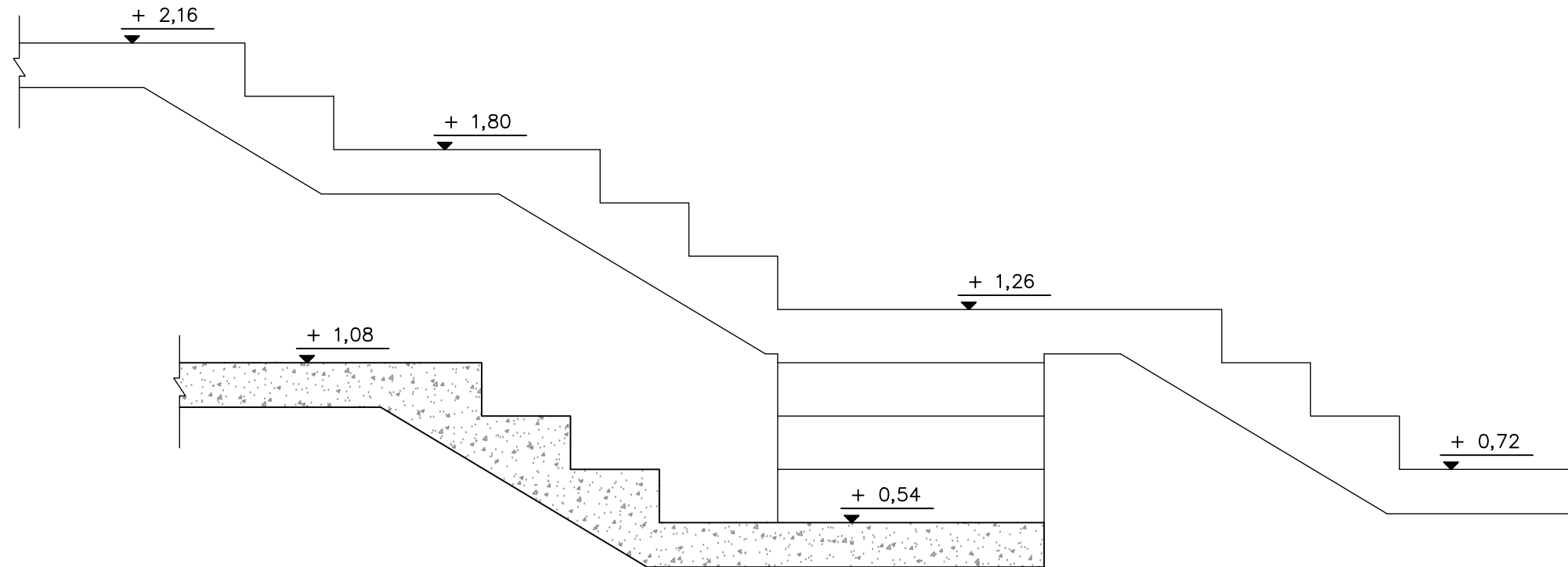


ΕΠΩΝΥΜΟ : .....

ΟΝΟΜΑ : .....

ΚΩΔΙΚΟΣ ΕΞΕΤΑΖΟΜΕΝΟΥ : .....

ΚΑΤΟΨΗ ΣΚΑΛΑΣ  
κλίμακα 1:50



ΤΟΜΗ 1-1 Κλίμακα 1:20

**ΑΣΚΗΣΗ 3 (30 μονάδες)**

Στο Παράρτημα 1, δίνεται η ορθογραφική προβολή στερεού **εκτός κλίμακας**.

Να σχεδιάσετε, σε κλίμακα **1:1**, την ισομετρική προβολή του στερεού, με την πρόσοψη στο δεξιό ισομετρικό άξονα.

Οι βοηθητικές γραμμές στη μέθοδο σχεδίασης του κύκλου να φαίνονται.

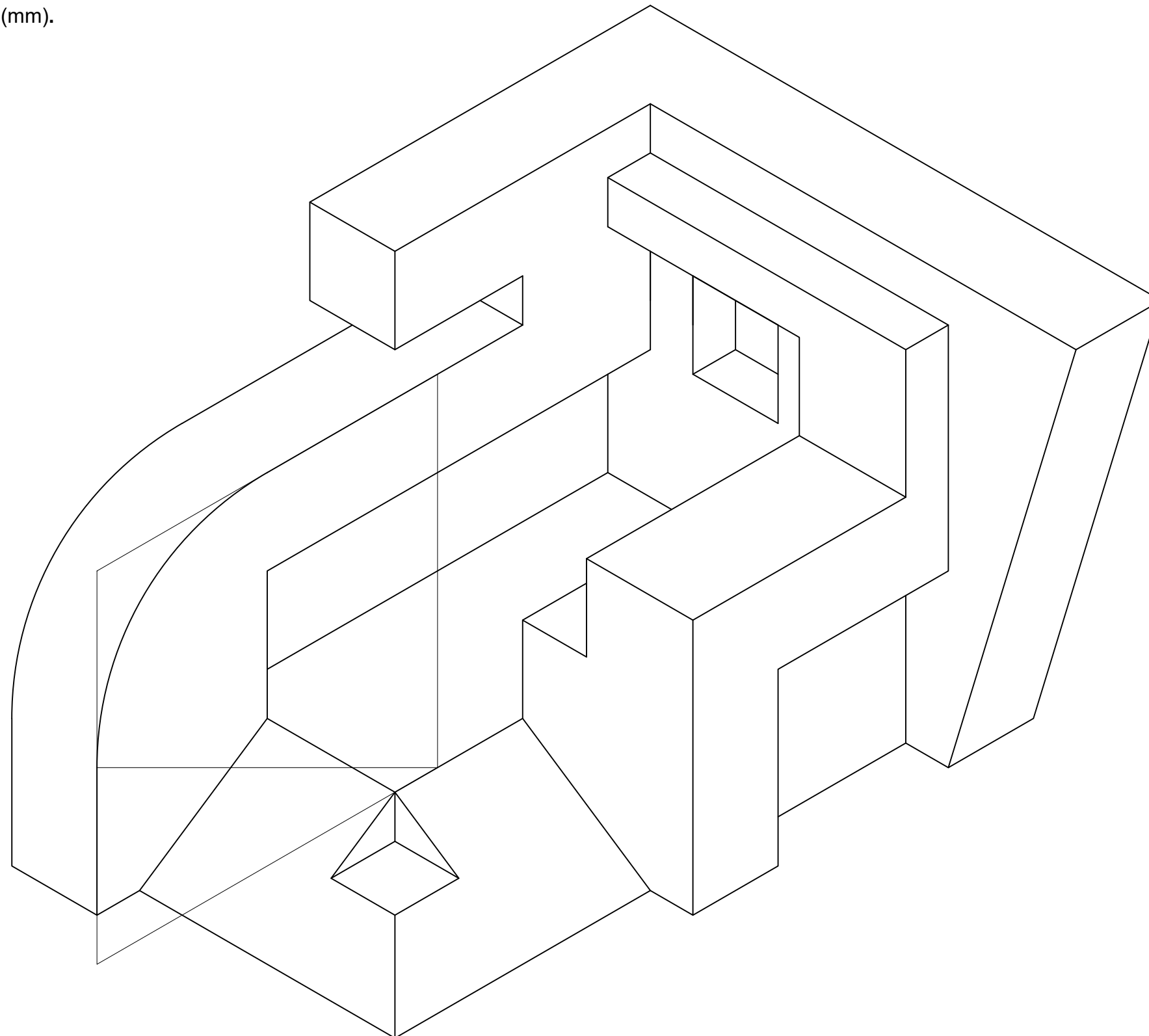
**Σημείωση:**

- Οι διαστάσεις δίνονται σε χιλιοστόμετρα (mm).

ΕΠΩΝΥΜΟ : .....

ΟΝΟΜΑ : .....

ΚΩΔΙΚΟΣ ΥΠΟΨΗΦΙΟΥ : .....



**ΑΣΚΗΣΗ 4 (30 μονάδες)**

Στο Παράρτημα 2, δίνεται η κάτοψη κατοικίας σε κλίμακα 1:100.

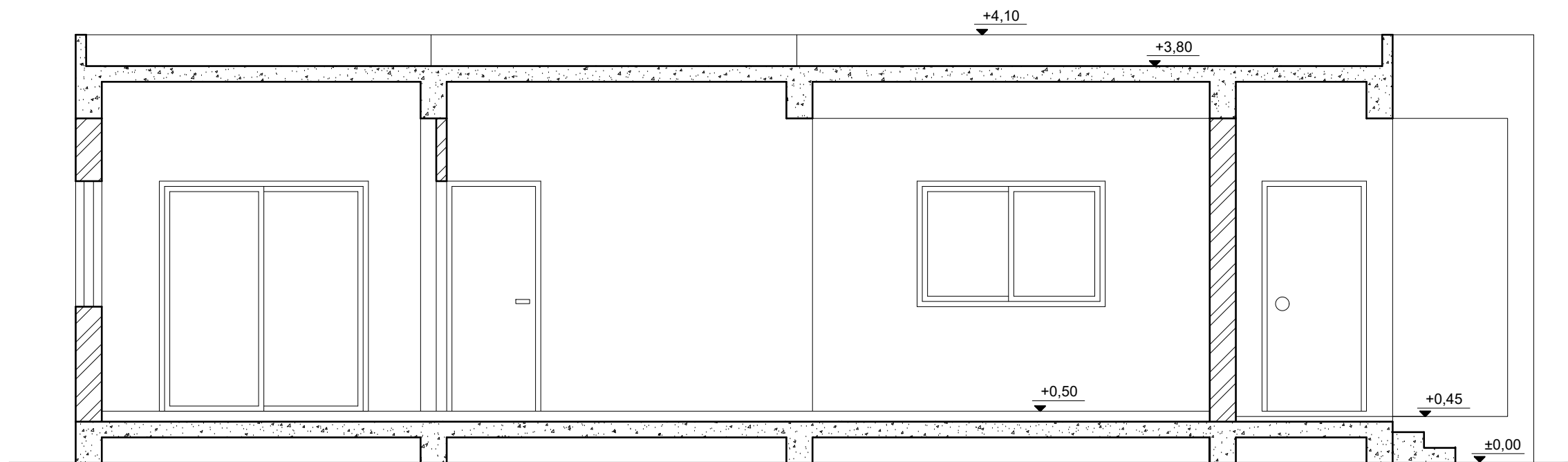
Να σχεδιάσετε σε κλίμακα **1:50**, την **τομή Α - Α** της κατοικίας, λαμβάνοντας υπόψη όλες τις πληροφορίες που δίνονται στις σημειώσεις και στο τμήμα της τυπικής τομής.

Το σχέδιο να περιλαμβάνει τα απαραίτητα υψόμετρα (υψόμετρο εδάφους, δαπέδου βεράντας, δαπέδου εσωτερικού χώρου, πάνω μέρους πλάκας οροφής και στηθαίου οροφής), τον τίτλο και την κλίμακα του σχεδίου.

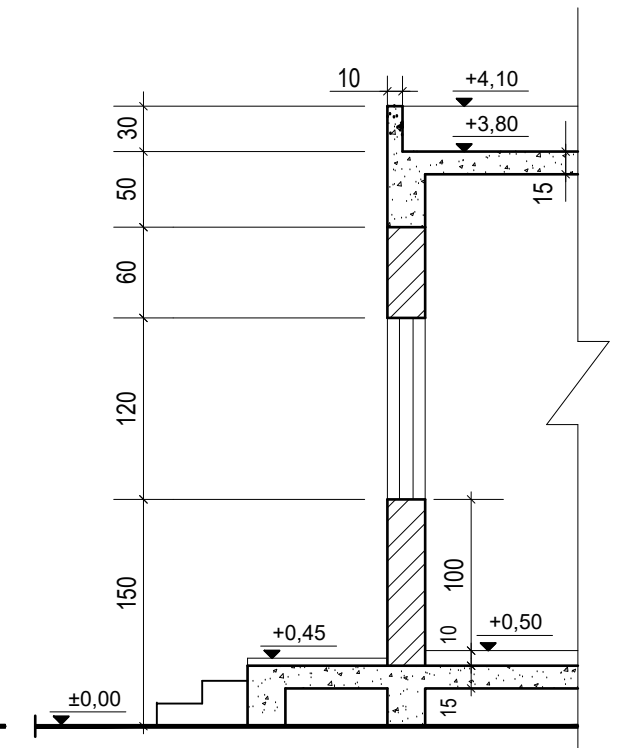
**Σημειώσεις :**

- Οι διαστάσεις δίνονται σε **εκατοστόμετρα (cm)** και τα υψόμετρα σε **μέτρα (m)**. Όπου δεν αναγράφονται οι διαστάσεις να υπολογιστούν σε συνάρτηση με τις δοσμένες διαστάσεις.
- Το ύψος της πάνω πλευράς των ανοιγμάτων των θυρών και των παραθύρων (ανώφλι) είναι **220 cm** από το δάπεδο του εσωτερικού χώρου της κατοικίας.
- Το ύψος του κάτω μέρους των παραθύρων (ποδιά) είναι **100 cm** από το δάπεδο του εσωτερικού χώρου της κατοικίας, εκτός από εκείνο της κουζίνας που είναι **120 cm** από το δάπεδο.

ΕΠΩΝΥΜΟ : .....  
 ΟΝΟΜΑ : .....  
 ΚΩΔΙΚΟΣ ΥΠΟΨΗΦΙΟΥ : .....



**ΤΟΜΗ Α - Α Κλίμακα 1:50**



**ΤΥΠΙΚΗ ΤΟΜΗ Κλίμακα 1:50**