

ΥΠΟΥΡΓΕΙΟ ΠΑΙΔΕΙΑΣ, ΑΘΛΗΤΙΣΜΟΥ ΚΑΙ ΝΕΟΛΑΙΑΣ  
ΔΙΕΥΘΥΝΣΗ ΜΕΣΗΣ ΤΕΧΝΙΚΗΣ ΚΑΙ ΕΠΑΓΓΕΛΜΑΤΙΚΗΣ ΕΚΠΑΙΔΕΥΣΗΣ  
ΚΑΙ ΚΑΤΑΡΤΙΣΗΣ

ΕΝΙΑΙΕΣ ΓΡΑΠΤΕΣ ΤΕΛΙΚΕΣ ΠΡΟΑΓΩΓΙΚΕΣ ΚΑΙ  
ΑΠΟΛΥΤΗΡΙΕΣ ΕΞΕΤΑΣΕΙΣ  
2023 – 2024

Γ' ΤΑΞΗΣ ΤΕΣΕΚ

ΣΕΙΡΑ Α'

ΘΕΩΡΗΤΙΚΗ ΚΑΤΕΥΘΥΝΣΗ

ΗΜΕΡΟΜΗΝΙΑ: Παρασκευή, 24 Μαΐου 2024

ΕΞΕΤΑΖΟΜΕΝΟ ΜΑΘΗΜΑ: ΣΧΕΔΙΑΣΤΙΚΕΣ ΕΦΑΡΜΟΓΕΣ ΙΙΙ (ΘΚ)

ΚΩΔΙΚΟΣ ΜΑΘΗΜΑΤΟΣ: thed302

ΣΥΝΟΛΙΚΗ ΔΙΑΡΚΕΙΑ ΓΡΑΠΤΗΣ ΕΞΕΤΑΣΗΣ: 90' λεπτά

ΤΟ ΕΞΕΤΑΣΤΙΚΟ ΔΟΚΙΜΙΟ ΑΠΟΤΕΛΕΙΤΑΙ ΑΠΟ  
ΤΡΕΙΣ (3) ΣΕΛΙΔΕΣ ΜΕΓΕΘΟΥΣ Α3

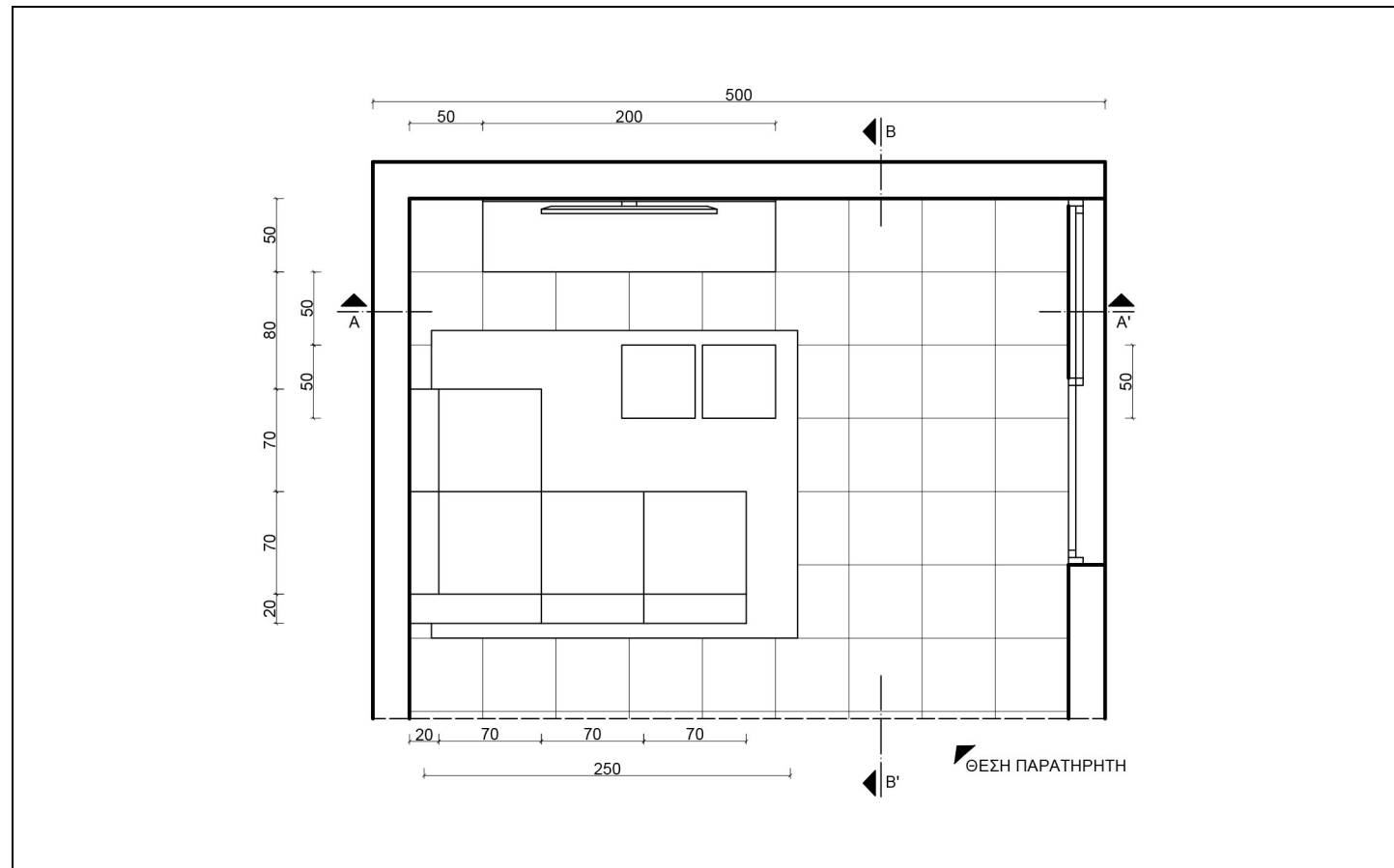
**ΛΥΣΕΙΣ**

1. Στο **ΠΛΑΙΣΙΟ 1** που ακολουθεί, δίνονται τμήμα **ΚΑΤΟΨΗ ΚΑΘΙΣΤΙΚΟΥ** και η **ΘΕΣΗ ΤΟΥ ΠΑΡΑΤΗΡΗΤΗ** σε κλίμακα 1:50. Στο **ΠΛΑΙΣΙΟ 2** στη διπλανή σελίδα, δίνονται οι **ΤΟΜΕΣ ΚΑΘΙΣΤΙΚΟΥ ΤΟΥ ΙΔΙΟΥ ΧΩΡΟΥ** (ΤΟΜΗ ΑΑ' και ΤΟΜΗ Β Β') επίσης σε κλίμακα 1:50.

Στη σελίδα που ακολουθεί (Σελίδα 3), οροθετείται το **ΥΨΟΣ ΤΗΣ ΓΩΝΙΑΣ ΤΟΥ ΚΑΘΙΣΤΙΚΟΥ**, σε κλίμακα 1:25 και τα **δύο (2) Σημεία Φυγής (Σ.Φ.1 και Σ.Φ.2)**.

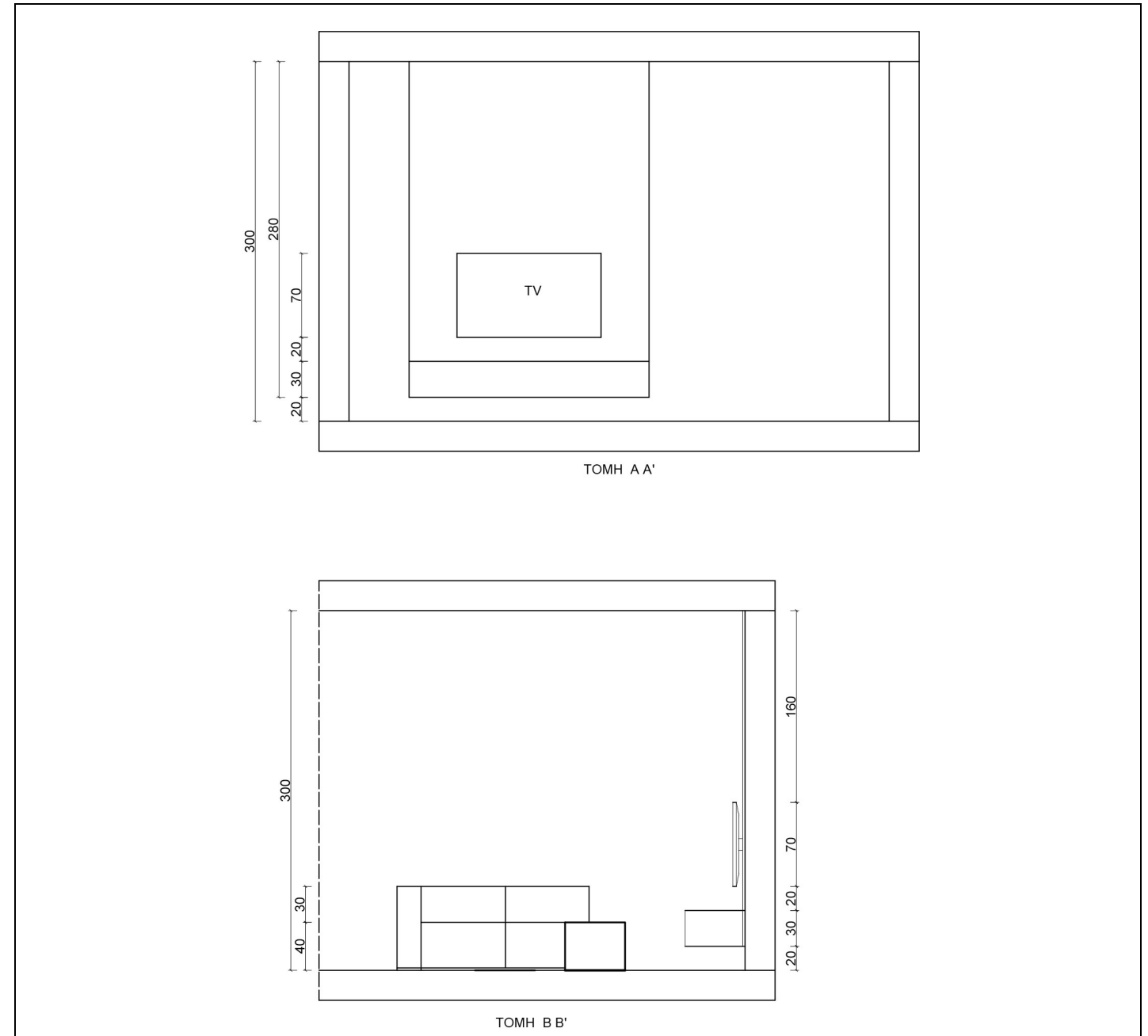
Ζητούνται τα ακόλουθα:

- α.** Να σχεδιάσετε το **προοπτικό σχέδιο του καθιστικού με δύο (2) Σημεία Φυγής (Σ.Φ.1 και Σ.Φ.2)**, λαμβάνοντας υπόψη τη θέση του παρατηρητή. Να σχεδιάσετε όλα τα **αρχιτεκτονικά στοιχεία, δάπεδο και τα έπιπλα**, όπως δίνονται στην κάτοψη και στις τομές.  
**β.** Να χρωματίσετε με υλικά δικής σας **επιλογής τον γωνιακό καναπέ, το διπλό βοηθητικό τραπέζι και το χαλί μόνο**, αποδίδοντας υλικά και όγκους.



**ΠΛΑΙΣΙΟ 1**

**ΚΑΤΟΨΗ ΚΑΘΙΣΤΙΚΟΥ**  
Κλίμακα 1:50




**ΠΛΑΙΣΙΟ 2**

**ΤΟΜΕΣ ΚΑΘΙΣΤΙΚΟΥ**, Κλίμακα 1:50

**Κριτήρια αξιολόγησης:**

Ορθός σχεδιασμός προοπτικού δύο (2) τοίχων	10 μονάδες
Ορθός σχεδιασμός προοπτικού γωνιακού καναπέ	20 μονάδες
Ορθός σχεδιασμός προοπτικού έπιπλου τηλεόρασης	20 μονάδες
Ορθός σχεδιασμός προοπτικού διπλού βοηθητικού τραπεζιού	10 μονάδες
Ορθός σχεδιασμός δαπέδου και χαλιού	10 μονάδες
Απόδοση χρώματος και σκίασης του γωνιακού καναπέ, βοηθητικού τραπεζιού και χαλιού	20 μονάδες
Καθαρότητα και αισθητική του σχεδίου	10 μονάδες

**Σύνολο 100 μονάδες**



ΤΕΛΟΣ ΕΞΕΤΑΣΤΙΚΟΥ ΔΟΚΙΜΙΟΥ