

ΥΠΟΥΡΓΕΙΟ ΠΑΙΔΕΙΑΣ, ΑΘΛΗΤΙΣΜΟΥ ΚΑΙ ΝΕΟΛΑΙΑΣ
ΔΙΕΥΘΥΝΣΗ ΜΕΣΗΣ ΤΕΧΝΙΚΗΣ ΚΑΙ ΕΠΑΓΓΕΛΜΑΤΙΚΗΣ ΕΚΠΑΙΔΕΥΣΗΣ
ΚΑΙ ΚΑΤΑΡΤΙΣΗΣ

ΕΝΙΑΙΕΣ ΓΡΑΠΤΕΣ ΤΕΛΙΚΕΣ ΠΡΟΑΓΩΓΙΚΕΣ ΚΑΙ
ΑΠΟΛΥΤΗΡΙΕΣ ΕΞΕΤΑΣΕΙΣ

20 23 - 20 24

Γ΄ ΤΑΞΗΣ ΤΕΣΕΚ

ΣΕΙΡΑ Α΄

ΘΕΩΡΗΤΙΚΗ ΚΑΤΕΥΘΥΝΣΗ

ΗΜΕΡΟΜΗΝΙΑ : Τετάρτη, 22 Μαΐου 2024

ΕΞΕΤΑΖΟΜΕΝΟ ΜΑΘΗΜΑ: ΑΙΣΘΗΤΙΚΗ ΠΡΟΣΩΠΟΥ

ΚΩΔΙΚΟΣ ΜΑΘΗΜΑΤΟΣ : thaa301

ΣΥΝΟΛΙΚΗ ΔΙΑΡΚΕΙΑ ΓΡΑΠΤΗΣ ΕΞΕΤΑΣΗΣ: 90΄ ΛΕΠΤΑ

ΤΟ ΕΞΕΤΑΣΤΙΚΟ ΔΟΚΙΜΙΟ ΑΠΟΤΕΛΕΙΤΑΙ ΑΠΟ ΕΝΤΕΚΑ (11) ΣΕΛΙΔΕΣ.

ΤΑ ΜΕΡΗ ΤΟΥ ΕΞΕΤΑΣΤΙΚΟΥ ΔΟΚΙΜΙΟΥ ΕΙΝΑΙ ΤΡΙΑ (Α΄, Β΄ ΚΑΙ Γ΄).

ΟΔΗΓΙΕΣ (για τους εξεταζόμενους)

1. Να απαντήσετε **ΟΛΑ** τα ερωτήματα πάνω στο εξεταστικό δοκίμιο.
2. Να μη γράψετε πουθενά το όνομα σας στο εξεταστικό δοκίμιο εκτός του καθορισμένου χώρου στο χαρτονάκι που σας έχει δοθεί.
3. Να απαντήσετε σε όλα τα θέματα μόνο με πένα χρώματος μπλε ανεξίτηλης μελάνης. Μολύβι επιτρέπεται, μόνο αν το ζητάει η εκφώνηση, και μόνο για σχήματα, πίνακες, διαγράμματα κλπ.
4. Απαγορεύεται η χρήση διορθωτικού υγρού και διορθωτικής ταινίας.

ΣΑΣ ΕΥΧΟΜΑΣΤΕ ΚΑΛΗ ΕΠΙΤΥΧΙΑ

ΟΔΗΓΙΕΣ (για την επιτροπή εξετάσεων)





13. Το εξεταστικό δοκίμιο να εκτυπωθεί και στις δύο όψεις.

ΤΟ ΕΞΕΤΑΣΤΙΚΟ ΔΟΚΙΜΙΟ ΝΑ ΕΚΤΥΠΩΘΕΙ: ΕΓΧΡΩΜΟ

ΜΕΡΟΣ Α: Αποτελείται από οχτώ (8) ερωτήσεις. Κάθε ορθή απάντηση βαθμολογείται με έξι (6) μονάδες.

1. Στον Πίνακα 1, δίπλα από κάθε εικόνα, να ονομάσετε τον τύπο δέρματος του προσώπου που απεικονίζεται.

Πίνακας 1

2. Να συμπληρώσετε τα κενά με τις λέξεις που σας δίνονται στην παρένθεση. (κολλαγόνες, όργανα, δομής, αγγεία, βασική, συνδετικό)

Το χόριο διαχωρίζεται από την επιδερμίδα με τη μεμβράνη. Περιλαμβάνει ιστό και συγκεκριμένακαι ελαστικές ίνες που είναι υπεύθυνες για τη διατήρηση τηςκαι της ελαστικότητας του δέρματος. Επιπλέον στο χόριο βρίσκονται τα που αιματώνουν το δέρμα και τα διάφορα αισθητήρια του δέρματος.

3. Στον Πίνακα 2, να σημειώσετε τρία (3) χαρακτηριστικά για τους πιο κάτω τύπους δέρματος.

Πίνακας 2

ΤΥΠΟΣ ΔΕΡΜΑΤΟΣ	ΧΑΡΑΚΤΗΡΙΣΤΙΚΑ
α) Ξηρό δέρμα	i. ii. iii.
β) Ακνεϊκό δέρμα	i. ii. iii.

4. α) Να αναφέρετε τους τέσσερις (4) παράγοντες που επηρεάζουν την ταχύτητα με την οποία τα μόρια των ουσιών διαχέονται στην επιδερμίδα.

- i.
 ii.
 iii.
 iv.

β) Να γράψετε δυο (2) γενικές αντενδείξεις για την εφαρμογή της μάσκας προσώπου.

- i.
- ii.

5. α) Να δώσετε τον ορισμό της απολέπισης.

.....
.....
.....
.....

β) Να γράψετε τα τρία στάδια εφαρμογής των πήλινγκ τριβής στο δέρμα.







- i.
- ii.
- iii.

6. Να επιλέξετε το **Σωστό** για κάθε σωστή πρόταση και το **Λάθος** για κάθε λανθασμένη πρόταση που σας δίνεται στον πιο κάτω πίνακα.

α)	Η φωτογήρανση οφείλεται στον ηλεκτρισμό.	Σωστό/Λάθος
β)	Με την απολέπιση μειώνεται το βάθος των ρυτίδων.	Σωστό/Λάθος
γ)	Η απολέπιση κάνει το δέρμα λείο και λαμπερό.	Σωστό/Λάθος
ε)	Οι κινήσεις εφαρμογής του πήλινγκ τριβής είναι οι πιέσεις.	Σωστό/Λάθος
στ)	Το γομώδες πήλινγκ, αφού απλωθεί στο πρόσωπο αφήνεται να στεγνώσει εντελώς.	Σωστό/Λάθος
ζ)	Οι υδατοδιαλυτές ουσίες δύσκολα διαπερνούν το δερματικό φραγμό.	Σωστό/Λάθος

7. Στον Πίνακα 3, δίπλα από κάθε εικόνα, να ονομάσετε τη συσκευή περιποίησης προσώπου που απεικονίζεται.

Πίνακας 3

	<p>.....</p>
	<p>.....</p>
	<p>.....</p>
	<p>.....</p>
	<p>.....</p>
	<p>.....</p>

8. Στον Πίνακα 4, να σημειώσετε τρεις (3) ενδείξεις και τρεις (3) αντενδείξεις της εφαρμογής των χημικών πήλινγκ στο δέρμα.

Πίνακας 4

Ενδείξεις	Αντενδείξεις
α)	α)
β)	β)
γ)	γ)

**ΤΕΛΟΣ ΜΕΡΟΥΣ Α΄
ΑΚΟΛΟΥΘΕΙ ΤΟ ΜΕΡΟΣ Β΄**

ΜΕΡΟΣ Β΄: Αποτελείται από τέσσερις (4) ερωτήσεις. Κάθε ορθή απάντηση βαθμολογείται με δέκα (10) μονάδες.

9. Να συμπληρώσετε τον πιο κάτω πίνακα για το **λιπαρό δέρμα** με τα ακόλουθα:

- α) Τρία (3) χαρακτηριστικά
- β) Τον στόχο περιποίησης
- γ) Τα τρία (3) καθαριστικά προϊόντα περιποίησης
- δ) Τα τρία (3) απολεπιστικά προϊόντα περιποίησης

ΛΙΠΑΡΟ ΔΕΡΜΑ	
α) Χαρακτηριστικά	i. ii. iii.
β) Στόχος περιποίησης
γ) Καθαριστικά προϊόντα	i. ii. iii.
δ) Απολεπιστικά προϊόντα (πήλινγκ)	i. ii. iii.

10. α) Να εξηγήσετε τί είναι η ιοντοφόρηση. (2 μον.)

.....
.....
.....
.....

β) Να γράψετε τις τέσσερις (4) αντιδράσεις που συμβαίνουν στον θετικό πόλο και τις τέσσερις (4) αντιδράσεις που συμβαίνουν στον αρνητικό πόλο κατά την εφαρμογή του γαλβανικού ρεύματος στο πρόσωπο. (8 μον.)

Θετικός πόλος	Αρνητικός πόλος
i.	i.
ii.	ii.
iii.	iii.
iv.	iv.

11. α) Οι πιο κάτω προτάσεις αποτελούν τα στάδια τοποθέτησης των υδροκολλοειδών μασκών στο πρόσωπο. Στον πίνακα που ακολουθεί να τοποθετήσετε τις προτάσεις αυτές στη σωστή σειρά.

- i. Το νερό ή η λοσιόν χρησιμοποιούνται για να καθαριστούν τυχόν υπολείμματα.
- ii. Το στρώμα τους πρέπει να είναι αρκετά λεπτό για να μην αργήσει να στεγνώσει αλλά όχι πάρα πολύ λεπτό για να αφαιρεθεί καλύτερα.
- iii. Απλώνονται γρήγορα και ομοιόμορφα.
- iv. Αφαιρούνται όταν έχουν στεγνώσει πάρα πολύ καλά για να μην κοπούν.
- v. Καλύπτεται όλος ο λαιμός και το πρόσωπο μέχρι τις ρίζες των μαλλιών, ενώ αποφεύγεται η περιοχή γύρω από τα βλέφαρα και τα χείλη.

	(1)	(2)	(3)	(4)	(5)
Στάδια τοποθέτησης					

β) Οι υδροκολλοειδείς μάσκες ονομάζονται αλλιώς και πλαστικές. Να γράψετε τις πέντε (5) ιδιότητες των μασκών αυτών.

- i.
- ii.
- iii.
- iv.
- v.

12. Η πιο κάτω εικόνα δείχνει έναν από τους τύπους δέρματος.

α) Να αναγνωρίσετε τον τύπο δέρματος που απεικονίζεται.

(2 μον.)



Τύπος δέρματος:

β) Να αναφέρετε τέσσερα (4) χαρακτηριστικά αυτού του τύπου δέρματος.

- i.
- ii.
- iii.
- iv.

γ) Να γράψετε τέσσερα (4) προϊόντα που χρησιμοποιούνται στην περιποίηση του πιο πάνω τύπου δέρματος.

- i.
- ii.
- iii.
- iv.

**ΤΕΛΟΣ ΜΕΡΟΥΣ Β΄
ΑΚΟΛΟΥΘΕΙ ΤΟ ΜΕΡΟΣ Γ΄**

ΜΕΡΟΣ Γ΄: Αποτελείται από μια (1) ερώτηση. Η ορθή απάντηση βαθμολογείται με δώδεκα (12) μονάδες.

13. α) Να δώσετε τον ορισμό και τον σκοπό της λέμφου. (2 μον.)

.....
.....
.....
.....

β) Να αναφέρετε πέντε (5) λεμφογάγγλια του προσώπου.

- i.
- ii.
- iii.
- iv.
- v.

γ) Να γράψετε πέντε (5) περιπτώσεις που θα αποφεύγατε τη θεραπεία λεμφικής παροχέτευσης στο πρόσωπο.

- i.
- ii.
- iii.
- iv.
- v.

