

ΥΠΟΥΡΓΕΙΟ ΠΑΙΔΕΙΑΣ, ΑΘΛΗΤΙΣΜΟΥ ΚΑΙ ΝΕΟΛΑΙΑΣ
ΔΙΕΥΘΥΝΣΗ ΜΕΣΗΣ ΤΕΧΝΙΚΗΣ ΚΑΙ ΕΠΑΓΓΕΛΜΑΤΙΚΗΣ ΕΚΠΑΙΔΕΥΣΗΣ
ΚΑΙ ΚΑΤΑΡΤΙΣΗΣ

ΕΝΙΑΙΕΣ ΓΡΑΠΤΕΣ ΤΕΛΙΚΕΣ ΠΡΟΑΓΩΓΙΚΕΣ ΚΑΙ
ΑΠΟΛΥΤΗΡΙΕΣ ΕΞΕΤΑΣΕΙΣ

20 23 - 20 24

Α' ΤΑΞΗΣ ΤΕΣΕΚ

ΣΕΙΡΑ Α'

ΘΕΩΡΗΤΙΚΗ ΚΑΤΕΥΘΥΝΣΗ

ΗΜΕΡΟΜΗΝΙΑ : Παρασκευή, 24 Μαΐου 2024

ΕΞΕΤΑΖΟΜΕΝΟ ΜΑΘΗΜΑ: ΑΙΣΘΗΤΙΚΗ ΑΚΡΩΝ

ΚΩΔΙΚΟΣ ΜΑΘΗΜΑΤΟΣ : thaa102

ΣΥΝΟΛΙΚΗ ΔΙΑΡΚΕΙΑ ΓΡΑΠΤΗΣ ΕΞΕΤΑΣΗΣ: 90' ΛΕΠΤΑ

ΤΟ ΕΞΕΤΑΣΤΙΚΟ ΔΟΚΙΜΙΟ ΑΠΟΤΕΛΕΙΤΑΙ ΑΠΟ ΕΝΝΕΑ (9) ΣΕΛΙΔΕΣ.

ΤΑ ΜΕΡΗ ΤΟΥ ΕΞΕΤΑΣΤΙΚΟΥ ΔΟΚΙΜΙΟΥ ΕΙΝΑΙ ΤΡΙΑ (Α', Β' ΚΑΙ Γ').

ΟΔΗΓΙΕΣ (για τους εξεταζόμενους)

1. Να απαντήσετε **ΟΛΑ** τα ερωτήματα πάνω στο εξεταστικό δοκίμιο.
2. Να μη γράψετε πουθενά το όνομα σας στο εξεταστικό δοκίμιο εκτός του καθορισμένου χώρου στο χαρτονάκι που σας έχει δοθεί.
3. Να απαντήσετε σε όλα τα θέματα μόνο με πένα χρώματος μπλε ανεξίτηλης μελάνης. Μολύβι επιτρέπεται, μόνο αν το ζητάει η εκφώνηση, και μόνο για σχήματα, πίνακες, διαγράμματα κλπ.
4. Απαγορεύεται η χρήση διορθωτικού υγρού και διορθωτικής ταινίας.
5. Επιτρέπεται η χρήση μη προγραμματιζόμενης υπολογιστικής μηχανής.

ΣΑΣ ΕΥΧΟΜΑΣΤΕ ΚΑΛΗ ΕΠΙΤΥΧΙΑ

ΟΔΗΓΙΕΣ (για την επιτροπή εξετάσεων)

1. Το εξεταστικό δοκίμιο να εκτυπωθεί και στις δύο όψεις.

ΤΟ ΕΞΕΤΑΣΤΙΚΟ ΔΟΚΙΜΙΟ ΝΑ ΕΚΤΥΠΩΘΕΙ: ΕΓΧΡΩΜΟ

ΜΕΡΟΣ Α': Αποτελείται από οκτώ (8) ερωτήσεις.

Κάθε ορθή απάντηση βαθμολογείται με έξι (6) μονάδες.

1. Στον Πίνακα 1, στη στήλη Α απεικονίζονται διάφοροι χώροι που πρέπει να παρέχει ένα εργαστήριο περιποίησης μανικιούρ – πεντικιούρ. Να ονομάσετε στη στήλη Β τους χώρους που απεικονίζονται.

Πίνακας 1

ΣΤΗΛΗ Α		ΣΤΗΛΗ Β
	
	
	
	
	
	

2. Να αναφέρετε **έξι (6)** εργαλεία του μανικιούρ που χρησιμοποιούνται για ένα άρτιο αποτέλεσμα στην περιποίηση νυχιών.

- i.
- ii.
- iii.
- iv.
- v.
- vi.

3. Να αναφέρετε **έξι (6)** καλλυντικά που χρησιμοποιούνται για την απλή περιποίηση των νυχιών.

- i.
- ii.
- iii.
- iv.
- v.
- vi.

4. (α) Να αναφέρετε, τα **τέσσερα (4)** σχήματα των νυχιών που συναντώνται στην περιποίηση άκρων.

- i.
- ii.
- iii.
- iv.

(β) Να γράψετε **δύο (2)** συνηθισμένα σχήματα δακτύλων των χεριών.

- i.
- ii.






5. Να γράψετε **έξι (6)** κατηγορίες στις οποίες διακρίνονται οι παθήσεις των νυχιών.

- i.
- ii.
- iii.
- iv.
- v.
- vi.

6. Στον **Πίνακα 2**, στη στήλη Α απεικονίζονται διάφορες δυσχρωμίες στα νύχια. Να ονομάσετε στη στήλη Β τις δυσχρωμίες που απεικονίζονται.

Πίνακας 2

ΣΤΗΛΗ Α	ΣΤΗΛΗ Β

7. (α) Να γράψετε τους **τέσσερις (4)** παράγοντες, που επηρεάζουν την ανάπτυξη των νυχιών.

- i.
- ii.
- iii.
- iv.

(β) Να ονομάσετε τα **δύο (2)** είδη στα οποία διακρίνονται οι κάλοι των ποδιών.

- i.
- ii.

8. Να αναφέρετε **έξι (6)** βασικά εξαρτήματα που χρησιμοποιούνται για την περιποίηση του μανικιούρ-πεντικιούρ.

- i.
- ii.
- iii.
- iv.
- v.
- vi.

ΤΕΛΟΣ ΜΕΡΟΥΣ Α΄
ΑΚΟΛΟΥΘΕΙ ΤΟ ΜΕΡΟΣ Β΄

ΜΕΡΟΣ Β΄: Αποτελείται από τέσσερις (4) ερωτήσεις.

Κάθε ορθή απάντηση βαθμολογείται με δέκα (10) μονάδες.

9. Να επιλέξετε το **Σωστό** για κάθε σωστή πρόταση και το **Λάθος** για κάθε λανθασμένη πρόταση που σας δίνεται στον **Πίνακα 3**.

Πίνακας 3

(α)	Τα στρογγυλά νύχια κάνουν το χέρι να φαίνεται πιο φαρδύ και πιο κοντό.	Σωστό/Λάθος
(β)	Σε λεπτά και μακριά δάκτυλα τα νύχια σχεδιάζονται κοντά για να μειωθεί το μήκος.	Σωστό/Λάθος
(γ)	Τα κοντά νύχια κάνουν τα δάκτυλα να φαίνονται πιο κοντά.	Σωστό/Λάθος
(δ)	Τα οβάλ νύχια κάνουν το χέρι να φαίνεται πιο κοντό και πιο φαρδύ.	Σωστό/Λάθος
(ε)	Τα μυτερά νύχια κάνουν το χέρι να φαίνεται πιο φαρδύ και πιο λεπτό.	Σωστό/Λάθος
(στ)	Τα μακριά νύχια κάνουν το χέρι να φαίνεται πιο μακρύ και τα δάκτυλα πιο φαρδιά.	Σωστό/Λάθος
(ζ)	Τα νύχια των ποδιών αυξάνονται 2-3 φορές πιο γρήγορα από τα νύχια των χεριών.	Σωστό/Λάθος
(η)	Σε φαρδιά δάκτυλα τα νύχια σχεδιάζονται μακριά με οβάλ ή μυτερές κορυφές για να φαίνεται πιο μακρύ και λεπτό το δάκτυλο.	Σωστό/Λάθος
(θ)	Η ατομική υγιεινή του πελάτη είναι απαραίτητη πριν την περιποίηση των άκρων.	Σωστό/Λάθος
(ι)	Το αναπλαστικό επωνυχίου χρησιμοποιείται στην αρχή του μανικιούρ.	Σωστό/Λάθος






10. Να συμπληρώσετε τα κενά στις πιο κάτω προτάσεις με τις λέξεις που σας δίνονται στην παρένθεση:

(πλάκα, κεράτινες, επωνύχιο, παρωνύχιο, απτικές, επιθηλιακή, μήτρα, αναδίπλωση, ονυχιαία, στρώμα).

- i. Τα νύχια είναι πλάκες που καλύπτουν ένα μέρος της τελευταίας φάλαγγας των δακτύλων χεριών και ποδιών.
- ii. Προστατεύουν και βοηθούν τα δάκτυλα στις τους κινήσεις.
- iii. Κάθε φάλαγγα, έχει παχιά επιφάνεια που πάνω της στηρίζεται η του νυχιού. Αυτή η επιθηλιακή επιφάνεια λέγεται του νυχιού.
- iv. Τα νύχια περιβάλλονται εξωτερικά από μια αύλακα η οποία σχηματίζεται από την της επιδερμίδας και λέγεται αύλακα. Η μέση της ονυχιαίας αύλακας ονομάζεται του νυχιού και σε αυτό το σημείο εκτελούνται οι διαδικασίες ανάπτυξής τους.
- v. Η ονυχιαία αύλακα χωρίζεται από το υπόλοιπο δέρμα των δακτύλων με μια πτυχή δέρματος που λέγεται
- vi. Το χείλος του παρωνυχιού καλύπτει το νύχι σαν λεπτός κεράτινος υμένας και λέγεται

11. (α) Στον **Πίνακα 4**, στη στήλη Α απεικονίζονται διάφορες παθήσεις στα νύχια. Να ονομάσετε στην στήλη Β τις παθήσεις που απεικονίζονται.

Πίνακας 4

ΣΤΗΛΗ Α	ΣΤΗΛΗ Β
	<p>.....</p>
	<p>.....</p>
	<p>.....</p>
	<p>.....</p>
	<p>.....</p>

(β) Στον **Πίνακα 5**, αναγράφονται οι δυσλειτουργίες των νυχιών και του δέρματος. Να σημειώσετε με √ τις πέντε (5) περιπτώσεις όπου δεν επιτρέπεται η απλή περιποίηση στα νύχια.

Πίνακας 5

	Δυσλειτουργίες νυχιών	Περιπτώσεις όπου δεν επιτρέπεται η απλή περιποίηση στα νύχια
(1)	Μούχλα	
(2)	Ονυχόπτωση	
(3)	Έρπης	
(4)	Παρωνυχία	
(5)	Ονυχία	
(6)	Μυκητιάσεις	
(7)	Ονύχωξη	
(8)	Δερματίτιδα ή έκζεμα	

12. (α) Να αναφέρετε **τέσσερις (4)** κανόνες τους οποίους πρέπει να ακολουθούμε για τη σωστή υγιεινή των ποδιών.

- i.
- ii.
- iii.
- iv.

(β) Οι πιο κάτω προτάσεις αποτελούν τα βασικά στάδια της απλής περιποίησης των νυχιών. Στον **Πίνακα 6** που ακολουθεί, να τοποθετήσετε τις προτάσεις αυτές στη σωστή σειρά.

- (α) μάλαξη
- (β) έλεγχος των νυχιών για τυχόν δυσλειτουργίες
- (γ) περιποίηση επωνυχιών (αφαιρετικό υγρό – λάδι επωνυχιών)
- (δ) σχεδιασμός μορφής νυχιών
- (ε) εφαρμογή βερνικιού νυχιών
- (στ) λείανση νυχιών

Πίνακας 6

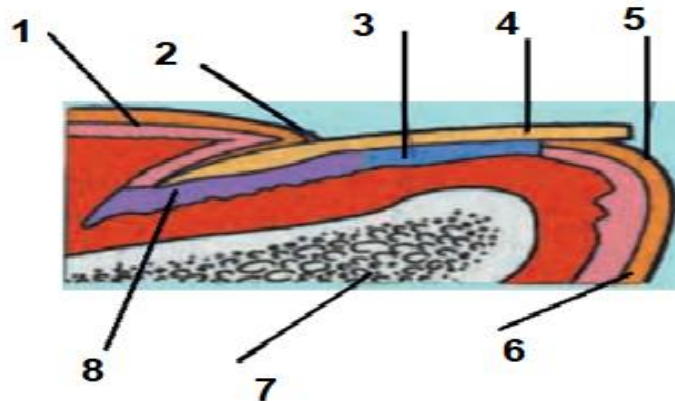
Στάδια περιποίησης	(1)	(2)	(3)	(4)	(5)	(6)

**ΤΕΛΟΣ ΜΕΡΟΥΣ Β΄
ΑΚΟΛΟΥΘΕΙ ΤΟ ΜΕΡΟΣ Γ΄**

ΜΕΡΟΣ Γ΄: Αποτελείται από μια (1) ερώτηση.

Η ορθή απάντηση βαθμολογείται με δώδεκα (12) μονάδες.

13. (α) Να ονομάσετε στον **Πίνακα 7**, τα αριθμημένα σημεία που απεικονίζονται στο πιο κάτω σχήμα με τις λέξεις που σας δίνονται στην παρένθεση:
(επιδερμίδα, νύχι, μήτρα του νυχιού, επωνύχιο, υπονύχιο, στρώμα του νυχιού, επιδερμίδα, ονυχοφόρος φάλαγγα).



Πίνακας 7

(1)
(2)
(3)
(4)
(5)
(6)
(7)
(8)

- (β) Να αναφέρετε **τέσσερις (4)** τρόπους, που χρησιμοποιούνται στην απλή περιποίηση νυχιών των χεριών (μανικιούρ).

- i.
ii.
iii.
iv.

.....
.....
.....
.....

Dotted lines for writing or calculation.

ΤΕΛΟΣ ΕΞΕΤΑΣΤΙΚΟΥ ΔΟΚΙΜΙΟΥ