

ΥΠΟΥΡΓΕΙΟ ΠΑΙΔΕΙΑΣ, ΑΘΛΗΤΙΣΜΟΥ ΚΑΙ ΝΕΟΛΑΙΑΣ
ΔΙΕΥΘΥΝΣΗ ΜΕΣΗΣ ΤΕΧΝΙΚΗΣ ΚΑΙ ΕΠΑΓΓΕΛΜΑΤΙΚΗΣ ΕΚΠΑΙΔΕΥΣΗΣ
ΚΑΙ ΚΑΤΑΡΤΙΣΗΣ

ΕΝΙΑΙΕΣ ΓΡΑΠΤΕΣ ΤΕΛΙΚΕΣ ΠΡΟΑΓΩΓΙΚΕΣ ΚΑΙ
ΑΠΟΛΥΤΗΡΙΕΣ ΕΞΕΤΑΣΕΙΣ

20 23 - 20 24

Α' ΤΑΞΗΣ ΤΕΣΕΚ

ΣΕΙΡΑ Α'

ΠΡΑΚΤΙΚΗ ΚΑΤΕΥΘΥΝΣΗ

ΗΜΕΡΟΜΗΝΙΑ : Τετάρτη, 15 Μαΐου 2024

ΕΞΕΤΑΖΟΜΕΝΟ ΜΑΘΗΜΑ : Τεχνολογία Υλικών Κομμωτικής

ΚΩΔΙΚΟΣ ΜΑΘΗΜΑΤΟΣ : kk 101

ΣΥΝΟΛΙΚΗ ΔΙΑΡΚΕΙΑ ΓΡΑΠΤΗΣ ΕΞΕΤΑΣΗΣ: 90 λεπτά

ΤΟ ΕΞΕΤΑΣΤΙΚΟ ΔΟΚΙΜΙΟ ΑΠΟΤΕΛΕΙΤΑΙ ΑΠΟ ΕΝΤΕΚΑ (11) ΣΕΛΙΔΕΣ.

ΤΑ ΜΕΡΗ ΤΟΥ ΕΞΕΤΑΣΤΙΚΟΥ ΔΟΚΙΜΙΟΥ ΕΙΝΑΙ ΤΡΙΑ (Α', Β' ΚΑΙ Γ')

ΟΔΗΓΙΕΣ (για τους εξεταζόμενους)

1. Να απαντήσετε **ΟΛΑ** τα ερωτήματα πάνω στο εξεταστικό δοκίμιο.
2. Να μην γράψετε πουθενά το όνομά σας στο εξεταστικό δοκίμιο εκτός του καθορισμένου χώρου στο χαρτονάκι που σας έχει δοθεί.
3. Να απαντήσετε σε όλα τα θέματα μόνο με πένα χρώματος μπλε ανεξίτηλης μελάνης.
4. Απαγορεύεται η χρήση διορθωτικού υγρού και διορθωτικής ταινίας.

ΣΑΣ ΕΥΧΟΜΑΣΤΕ ΚΑΛΗ ΕΠΙΤΥΧΙΑ

1. **ΟΔΗΓΙΕΣ** (για την επιτροπή εξετάσεων)

Το εξεταστικό δοκίμιο να εκτυπωθεί και στις δύο όψεις.





ΤΟ ΕΞΕΤΑΣΤΙΚΟ ΔΟΚΙΜΙΟ ΝΑ ΕΚΤΥΠΩΘΕΙ: ΕΓΧΡΩΜΟ

ΜΕΡΟΣ Α΄: Αποτελείται από δέκα (10) ερωτήσεις. Κάθε ορθή απάντηση βαθμολογείται με τέσσερις (4) μονάδες. Σύνολο μονάδων: σαράντα (40)

1. Στον Πίνακα1, που σας δίνεται πιο κάτω, απεικονίζονται διάφορες ηλεκτρικές συσκευές που χρησιμοποιούνται στο κομμωτήριο.





Να κατονομάσετε δίπλα από την κάθε εικόνα την ηλεκτρική συσκευή που απεικονίζεται.

Πίνακας 1

<p>(α)</p> 	<p>.....</p>
<p>(β)</p> 	<p>.....</p>
<p>(γ)</p> 	<p>.....</p>
<p>(δ)</p> 	<p>.....</p>

2. Στον Πίνακα 2, στη στήλη Α, απεικονίζονται τέσσερις (4) χτένες που χρησιμοποιούνται στο κομμωτήριο.
 Να αναφέρετε στη στήλη Β, μία (1) χρήση της κάθε χτένας.

Πίνακας 2

Στήλη Α	Στήλη Β
Χτένες	Χρήση
(α) 
(β) 
(γ) 
(δ) 

3. Να κατονομάσετε τέσσερα (4) είδη σαμπουάν που χρησιμοποιείτε στο κομμωτήριο.

.....
.....
.....
.....

4. Να αναφέρετε τέσσερα (4) είδη προσωρινών (παροδικών) βαφών που κυκλοφορούν στο εμπόριο:

(α).....

(β)

(γ)

(δ)

5. Να αναφέρετε τους δύο (2) λόγους για τους οποίους , ο άνθρωπος με την εμφάνισή του στη γη έδινε ιδιαίτερη σημασία στο να χρωματίζει το δέρμα και τα μαλλιά του.

(α)

(β)

6. Να αναφέρετε τέσσερις (4) υπηρεσίες που προσφέρονται στο κομμωτήριο.

.....
.....
.....
.....





7. Να συμπληρώσετε τα κενά στην πιο κάτω παράγραφο, επιλέγοντας τις κατάλληλες λέξεις που σας δίνονται στην παρένθεση:

(δομή, λίπος , σταθερότητα , νερό)

Η τρίχα αποτελείται από μια πρωτεΐνη που ονομάζεται κερατίνη που αποτελείται από και Η κερατίνη είναι το σημαντικότερο συστατικό των μαλλιών, επειδή τους προσδίδει , ελαστικότητα, και

8. Στον Πίνακα 3, στη στήλη Α, απεικονίζονται διάφορα στυλ χτενίσματος. Να γράψετε στη στήλη Β, δύο (2) προϊόντα που χρησιμοποιήθηκαν για τα χτενίσματα που απεικονίζονται στη στήλη Α.

Πίνακας 3

ΣΤΗΛΗ Α	ΣΤΗΛΗ Β
<p>(α)</p> 	<p>.....</p> <p>.....</p>
<p>(β)</p> 	<p>.....</p> <p>.....</p>
<p>(γ)</p> 	<p>.....</p> <p>.....</p>
<p>(δ)</p> 	<p>.....</p> <p>.....</p>

9. Να γράψετε:

Τέσσερα (4) αναλώσιμα **προϊόντα** που χρησιμοποιούνται στο κομμωτήριο.

.....

.....

.....

.....

10. Να γράψετε:

Τέσσερα (4) αναλώσιμα **εφόδια** που χρησιμοποιούνται στο κομμωτήριο.

.....
.....
.....
.....

ΜΕΡΟΣ Β΄: Αποτελείται από πέντε (5) ερωτήσεις. Κάθε ορθή απάντηση βαθμολογείται με οκτώ (8) μονάδες. (Σύνολο μονάδων: 40)

11. Να αναφέρετε τέσσερις (4) λόγους για τους οποίους επισκέπτεται η πελάτισσα/ο πελάτης το κομμωτήριο για βαφή.

.....
.....
.....
.....
.....
.....

12. Να γράψετε:

(α) Έξι (6) κανόνες ασφάλειας που πρέπει να ακολουθείτε όταν χρησιμοποιείτε ηλεκτρικό πιστολάκι κατά την διάρκεια που χτενίζετε.

.....
.....
.....
.....
.....
.....
.....
.....

(β) Δύο (2) τρόπους συντήρησης για ένα ηλεκτρικό πιστολάκι μαλλιών.

.....
.....
.....
.....
.....

13. Στον Πίνακα 4, στη Στήλη Α, δίδονται τα οχτώ (8) βήματα που πρέπει να ακολουθήσετε για το τύλιγμα των μαλλιών με ρόλεϊ στο κομμωτήριο.
 Να αριθμήσετε στη Στήλη Β, τα βήματα με τη σωστή σειρά που θα ακολουθήσετε από το ένα (1) μέχρι το οχτώ (8).

Πίνακας 4

	ΣΤΗΛΗ Α	ΣΤΗΛΗ Β
(α)	Λούζουμε τα μαλλιά τα ξεμπερδεύουμε και τα χτενίζουμε.	
(β)	Όταν ολοκληρώσουμε το τύλιγμα, ελέγχουμε τα τσιμπιδάκια να μην ακουμπούν στο μέτωπο ή στους κροτάφους. Τα διορθώνουμε για να αποφύγουμε τυχόν σημάδια στο δέρμα της πελάτισσας.	
(γ)	Κάνουμε συζήτηση και διαβούλευση με την πελάτισσα για το αποτέλεσμα που θα έχει το τύλιγμα.	
(δ)	Αρχίζουμε με τα βασικά χωρίσματα αφού πρώτα βάλουμε αφρό η λοσιόν χτενίσματος.	
(ε)	Τοποθετούμε τις άκρες της τούφας στη μέση του ρόλεϊ και τυλίγουμε χρησιμοποιώντας τα δύο μας χέρια πάνω στα άκρα των μαλλιών, δημιουργώντας ορθή γωνία μεταξύ της τούφας και του δέρματος.	
(στ)	Τοποθετούμε φιλέ και προστατευτικά αυτιών.	
(ζ)	Χτενίζουμε χωριστά την κάθε τούφα. Είναι σημαντικό, το μέγεθος των ρόλεϊ να είναι ομοιόμορφο και να συμβαδίζει με το μήκος των μαλλιών.	
(η)	Βάζουμε την πελάτισσα να στεγνώσει στο στεγνωτήρα μαλλιών.	

14. Να αναφέρετε τέσσερις (4) πληροφορίες που πρέπει να περιλαμβάνει μια κάρτα πελάτη/πελάτισσας για βαφή.

.....

.....

.....

.....

.....

.....

15. Στον Πίνακα 5, να κυκλώσετε το **Σωστό** για κάθε σωστή πρόταση και το **Λάθος** για κάθε λανθασμένη πρόταση.

Πίνακας 5

(α)	Σύνθετες βαφές είναι ο συνδυασμός των μεταλλικών και των φυτικών βαφών	Σωστό/ Λάθος
(β)	Η προσωρινή βαφή, έχει διάρκεια στα μαλλιά πέντε (5) με έξι (6) λουσίματα	Σωστό/ Λάθος
(γ)	Η ημι-μόνιμη βαφή, έχει διάρκεια στα μαλλιά έξι (6) με οχτώ (8) λουσίματα	Σωστό/ Λάθος
(δ)	Πριν από τη χρήση ηλεκτρικού σιδέρου μαλλιών πρέπει να γίνεται έλεγχος της θερμοκρασίας του πάνω σε χαρτί	Σωστό/ Λάθος
(ε)	Το βαπέρ χρησιμοποιείται για να στεγνώσουμε τα μαλλιά στα οποία έχει προηγηθεί τύλιγμα σε ρολά	Σωστό/ Λάθος
(στ)	Κατά το στέγνωμα των μαλλιών με το πιστολάκι, τα στεγνά μαλλιά τεντώνονται με τη βούρτσα και διαστέλλονται περισσότερο	Σωστό/ Λάθος
(ζ)	Τα μαλλιά που έχουν υποστεί ξάνοιγμα είναι εύπλαστα ιδιαίτερα σε υγρή μορφή	Σωστό/ Λάθος
(η)	Η διεύθυνση ανάπτυξης της τρίχας καθορίζεται από τη θέση του θύλακα της τρίχας έξω στο δέρμα	Σωστό/ Λάθος

ΜΕΡΟΣ Γ΄: Αποτελείται από δύο (2) ερωτήσεις . Κάθε ορθή απάντηση βαθμολογείται με δέκα (10) μονάδες. (Σύνολο μονάδων:20)

16. Σε κάθε υποερώτημα από το (α) – (ι) να κυκλώσετε τη σωστή απάντηση.

(α) Η μαλακτική κρέμα στα μαλλιά:

- (I) κάνει τα μαλλιά ευκολοχτένιστα
- (II) βελτιώνει τη δομή της τρίχας
- (III) κλείνει τα λέπια της τρίχας
- (IV) όλα τα πιο πάνω

- (β) Η αλλαγή της φόρμας στα μαλλιά και η διάρκεια της κόμμωσης που δημιουργούμε επηρεάζονται από τους ακόλουθους παράγοντες:
- (I) την ελαστικότητα
 - (II) την πλαστικότητα
 - (III) την διασταλτικότητα
 - (IV) όλα τα πιο πάνω
- (γ) Η λιπαρότητα των μαλλιών οφείλεται κυρίως:
- (I) στη θερμοκρασία του περιβάλλοντος
 - (II) στο συχνό βάψιμο
 - (III) στην υπερβολική έκκριση ιδρώτα
 - (IV) στην υπερβολική παραγωγή σμήγματος
- (δ) Τα μαλλιά μετά τη χρήση των σύνθετων βαφών φαίνονται:
- (I) θαμπά
 - (II) φωτεινά
 - (III) υγιή
 - (IV) κανένα από τα πιο πάνω
- (ε) Η διαβούλευση με τον πελάτη/ την πελάτισσα γίνεται:
- (I) κατά τη διευθέτηση του ραντεβού
 - (II) πριν από κάθε υπηρεσία
 - (III) κατά τη διάρκεια της υπηρεσίας
 - (IV) μετά από κάθε υπηρεσία
- (στ) Ο έλεγχος της θερμοκρασίας του νερού στην υπηρεσία του σαμπουάν εφαρμόζεται:
- (I) στην παλάμη του χεριού
 - (II) στα δάκτυλα του χεριού
 - (III) στο εσωτερικό μέρος του καρπού
 - (IV) στο κεφάλι της πελάτισσας
- (ζ) Με το ηλεκτρικό σίδερο με ίσιες στενές λάμες μπορούμε να πετύχουμε στα μαλλιά:
- (I) μόνο ίσιωμα
 - (II) μόνο μπούκλες
 - (III) μπούκλες και ίσιωμα
 - (IV) αλλαγή χρώματος

- (η) Το μασάζ κατά το λούσιμο ενεργεί:
- (I) καταπραϋντικά
 - (II) χαλαρωτικά
 - (III) βελτιώνει την κυκλοφορία του αίματος
 - (IV) όλα τα πιο πάνω
- (θ) Τυλίγοντας τα μαλλιά με ρολά μας δίνουν:
- (I) όγκο στα μαλλιά
 - (II) διάρκεια στο χτένισμα
 - (III) σιγουριά για το τελικό αποτέλεσμα
 - (IV) όλα τα πιο πάνω
- (ι) Οι μόνιμες βαφές έχουν διάρκεια στα μαλλιά:
- (I) μέχρι το επόμενο λούσιμο
 - (II) μέχρι να κοπούν
 - (III) δώδεκα (12) με είκοσι (20) λουσίματα
 - (IV) όλα τα πιο πάνω

17. Στον Πίνακα 6, στη Στήλη Α, δίδονται δέκα (10) βήματα της πορείας λουσίματος των μαλλιών.
 Να αριθμήσετε στη Στήλη Β, τα βήματα με τη σωστή σειρά που θα ακολουθήσετε από το ένα (1) μέχρι το δέκα (10).

Πίνακας 6

ΣΤΗΛΗ Α	ΣΤΗΛΗ Β
(α) Κάνουμε εκτίμηση της κατάστασης των μαλλιών και του δέρματος του κεφαλιού.	
(β) Ξεπλένουμε καλά το σαμπουάν με άφθονο νερό.	
(γ) Ελέγχουμε τη θερμοκρασία του νερού στο εσωτερικό μέρος του καρπού και ρυθμίζουμε τη θερμοκρασία του νερού.	
(δ) Βρέχουμε όλα τα μαλλιά προσεχτικά, κατανέμουμε το σαμπουάν ομοιόμορφα και κάνουμε μασάζ στο κεφάλι. Ξεπλένουμε καλά και επαναλαμβάνουμε ακόμα μια φορά το λούσιμο με σαμπουάν.	

(ε) Προετοιμάζουμε τον πελάτη με αδιάβροχο μαντό και πετσέτα.	
(στ) Οδηγούμε τον πελάτη στον λουτήρα και ελέγχουμε αν κάθεται αναπαυτικά.	
(ζ) Αφαιρούμε το περιττό νερό και τοποθετούμε μαλακτική κρέμα στα μήκη και στις άκριες των μαλλιών.	
(η) Ξεμπερδεύουμε καλά τα μαλλιά με μια χτένα με αραιά δόντια ή με βούρτσα αέρος.	
(θ) Ξεπλένουμε τη μαλακτική κρέμα καλά, σκουπίζουμε τα μαλλιά με μια πετσέτα και τα χτενίζουμε.	
(ι) Πλένουμε και αποστειρώνουμε τα χέρια μας, φοράμε ειδικά γάντια μιας χρήσης για το λούσιμο.	

ΤΕΛΟΣ ΕΞΕΤΑΣΤΙΚΟΥ ΔΟΚΙΜΙΟΥ