

ΥΠΟΥΡΓΕΙΟ ΠΑΙΔΕΙΑΣ, ΑΘΛΗΤΙΣΜΟΥ ΚΑΙ ΝΕΟΛΑΙΑΣ
ΔΙΕΥΘΥΝΣΗ ΜΕΣΗΣ ΤΕΧΝΙΚΗΣ ΚΑΙ ΕΠΑΓΓΕΛΜΑΤΙΚΗΣ ΕΚΠΑΙΔΕΥΣΗΣ
ΚΑΙ ΚΑΤΑΡΤΙΣΗΣ

ΕΝΙΑΙΕΣ ΓΡΑΠΤΕΣ ΤΕΛΙΚΕΣ ΠΡΟΑΓΩΓΙΚΕΣ ΚΑΙ
ΑΠΟΛΥΤΗΡΙΕΣ ΕΞΕΤΑΣΕΙΣ

Γ' ΤΑΞΗΣ ΤΕΣΕΚ

ΣΕΙΡΑ Α'

ΠΡΑΚΤΙΚΗ ΚΑΤΕΥΘΥΝΣΗ

ΗΜΕΡΟΜΗΝΙΑ: Παρασκευή, 24 Μαΐου 2024

ΕΞΕΤΑΖΟΜΕΝΟ ΜΑΘΗΜΑ: ΣΧΕΔΙΑΣΤΙΚΕΣ ΕΦΑΡΜΟΓΕΣ ΙΙΙ (ΠΚ)

ΚΩΔΙΚΟΣ ΜΑΘΗΜΑΤΟΣ: ed302

ΣΥΝΟΛΙΚΗ ΔΙΑΡΚΕΙΑ ΓΡΑΠΤΗΣ ΕΞΕΤΑΣΗΣ: 90' λεπτά

ΤΟ ΕΞΕΤΑΣΤΙΚΟ ΔΟΚΙΜΙΟ ΑΠΟΤΕΛΕΙΤΑΙ ΑΠΟ
ΤΡΕΙΣ (3) ΣΕΛΙΔΕΣ ΜΕΓΕΘΟΥΣ Α3

Ο/Η εξεταζόμενος/η να εφοδιαστεί με τα πιο κάτω:

- Το εξώφυλλο χαρτονάκι για τα στοιχεία του/της
- Το εξεταστικό δοκίμιο
- Όργανα σχεδίασης (τρίγωνο, ρίγα και ταυ)

ΟΔΗΓΙΕΣ:

1. Να συμπληρώσετε τα στοιχεία σας με **μπλε μελάνι** μόνο στο εξώφυλλο χαρτονάκι που σας έχει δοθεί. Να μη γράψετε πουθενά το όνομά σας ή οποιαδήποτε άλλα στοιχεία που να δηλώνουν την ταυτότητά σας σε άλλο μέρος του εξεταστικού δοκιμίου.
2. Να εκτελέσετε τη σχεδιαστική άσκηση στον ενδεικνυόμενο χώρο πάνω στο εξεταστικό δοκίμιο.
3. Η **άσκηση** να εκτελεστεί με μολύβι, πενάκια και χρωματιστά μολύβια.
4. Τα υλικά και όργανα σχεδίασης που επιτρέπεται να χρησιμοποιηθούν είναι: σετ μολυβιών, χρωματιστά μολύβια, μαύρα και έγχρωμα πενάκια/μαρκαδόροι, σβηστήρι, ξύστρα, σετ τρίγωνο, ρίγα, ταυ και κολλητική ταινία.
5. Δεν επιτρέπεται η χρήση διορθωτικού υγρού ή/και διορθωτικής ταινίας.

ΣΑΣ ΕΥΧΟΜΑΣΤΕ ΚΑΘΕ ΕΠΙΤΥΧΙΑ


1. Στο **ΠΛΑΙΣΙΟ 1** που ακολουθεί, δίνονται τμήμα **ΚΑΤΟΨΗΣ ΚΑΘΙΣΤΙΚΟΥ** και η **ΘΕΣΗ ΤΟΥ ΠΑΡΑΤΗΡΗΤΗ** σε κλίμακα 1:50. Στο **ΠΛΑΙΣΙΟ 2** στη διπλανή σελίδα, δίνονται οι **ΟΨΕΙΣ ΤΩΝ ΤΟΙΧΩΝ ΤΟΥ ΙΔΙΟΥ ΚΑΘΙΣΤΙΚΟΥ (ΟΨΗ Α και ΟΨΗ Β)**, επίσης σε κλίμακα 1:50.

Στη σελίδα που ακολουθεί (**Σελίδα 3**), δίνεται το **ΥΨΟΣ ΤΗΣ ΓΩΝΙΑΣ ΤΩΝ ΔΥΟ (2) ΤΟΙΧΩΝ Α και Β**, η **ΓΡΑΜΜΗ ΤΟΥ ΟΡΙΖΟΝΤΑ (Γ.Ο.)** και τα δύο (2) **Σημεία Φυγής (Σ.Φ.1 και Σ.Φ.2)**.


Ζητούνται τα ακόλουθα:

α. Να σχεδιάσετε το **προοπτικό σχέδιο του καθιστικού με δύο (2) Σημεία Φυγής (Σ.Φ.1 και Σ.Φ.2)**, λαμβάνοντας υπόψη τη θέση του παρατηρητή. Να σχεδιάσετε όλα τα **αρχιτεκτονικά στοιχεία** και τα **έπιπλα** όπως δίνονται στην κάτοψη και στις όψεις.

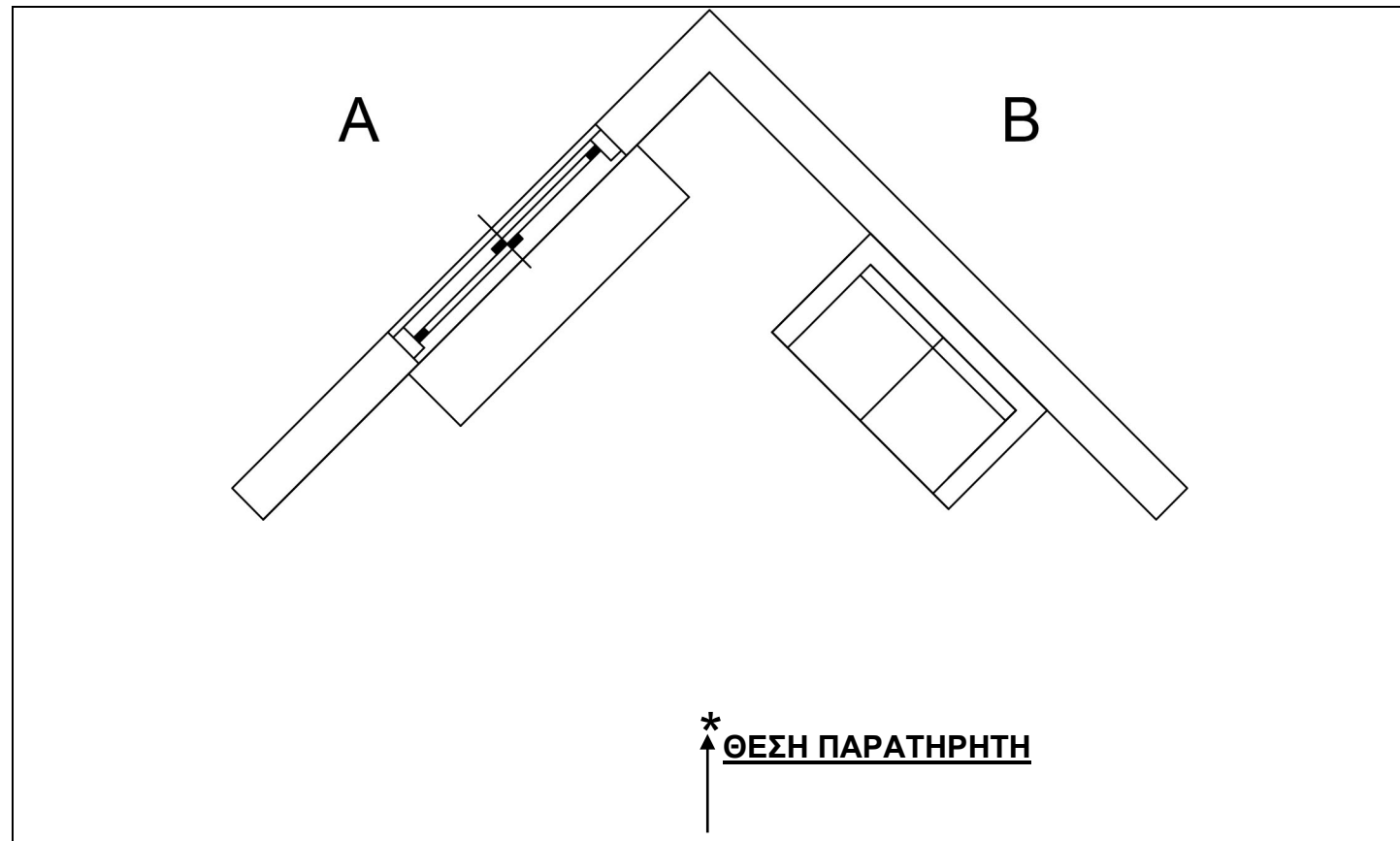
β. Να χρωματίσετε **τον καναπέ και τη συρταριέρα μόνο**, αποδίδοντας τις υφές των πιο κάτω υλικών αντίστοιχα.



Υφή συρταριέρας

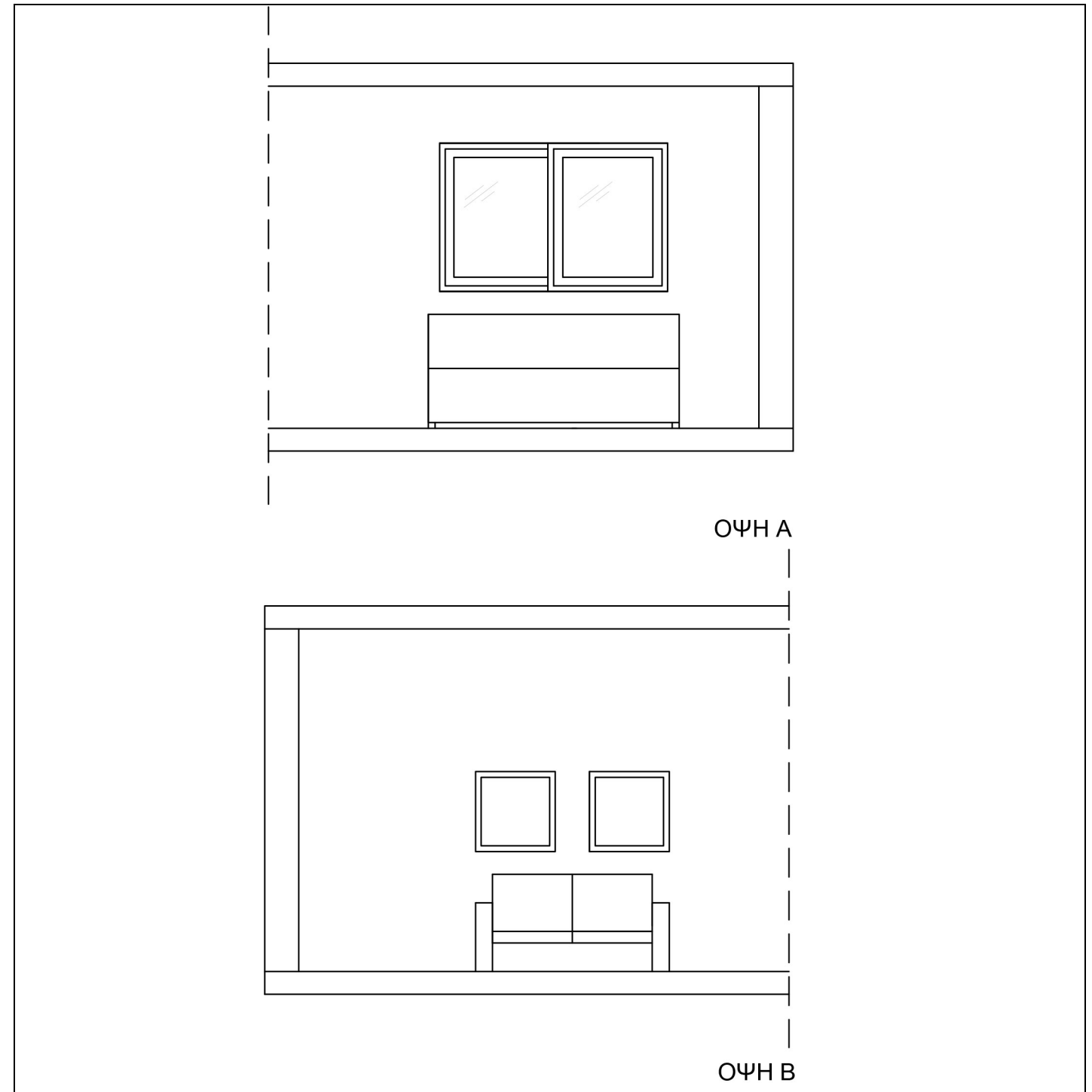


Χρώμα και υφή καναπέ



ΠΛΑΙΣΙΟ 1

ΚΑΤΟΨΗ ΚΑΘΙΣΤΙΚΟΥ
Κλίμακα 1:50



ΠΛΑΙΣΙΟ 2

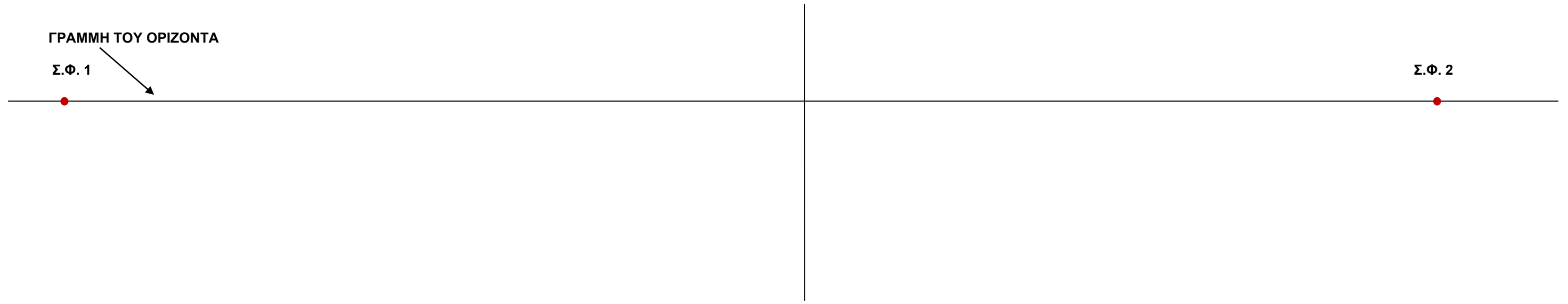
ΟΨΕΙΣ ΤΟΙΧΩΝ ΚΑΘΙΣΤΙΚΟΥ, Κλίμακα 1:50

Κριτήρια αξιολόγησης:

Ορθός σχεδιασμός προοπτικού δύο (2) τοίχων	10 μονάδες
Ορθός σχεδιασμός προοπτικού παραθύρου	10 μονάδες
Ορθός σχεδιασμός προοπτικού καναπέ	20 μονάδες
Ορθός σχεδιασμός προοπτικού συρταριέρας	10 μονάδες
Ορθός σχεδιασμός πινάκων πάνω από τον καναπέ	10 μονάδες
Ορθές αναλογίες αρχιτεκτονικών στοιχείων και επίπλων	10 μονάδες
Απόδοση χρώματος, υφής και όγκου/σκίασης καναπέ και συρταριέρας	20 μονάδες
Καθαρότητα και αισθητική του σχεδίου	10 μονάδες

Σύνολο 100 μονάδες

ΥΨΟΣ ΓΩΝΙΑΣ ΔΥΟ ΤΟΙΧΩΝ ΚΑΘΙΣΤΙΚΟΥ



ΤΕΛΟΣ ΕΞΕΤΑΣΤΙΚΟΥ ΔΟΚΙΜΙΟΥ