

ΥΠΟΥΡΓΕΙΟ ΠΑΙΔΕΙΑΣ, ΑΘΛΗΤΙΣΜΟΥ ΚΑΙ ΝΕΟΛΑΙΑΣ
ΔΙΕΥΘΥΝΣΗ ΜΕΣΗΣ ΤΕΧΝΙΚΗΣ ΚΑΙ ΕΠΑΓΓΕΛΜΑΤΙΚΗΣ ΕΚΠΑΙΔΕΥΣΗΣ
ΚΑΙ ΚΑΤΑΡΤΙΣΗΣ

ΕΝΙΑΙΕΣ ΓΡΑΠΤΕΣ ΤΕΛΙΚΕΣ ΠΡΟΑΓΩΓΙΚΕΣ ΚΑΙ
ΑΠΟΛΥΤΗΡΙΕΣ ΕΞΕΤΑΣΕΙΣ

20 23 - 20 24

Γ΄ ΤΑΞΗΣ ΤΕΣΕΚ

ΣΕΙΡΑ Α'

ΠΡΑΚΤΙΚΗ ΚΑΤΕΥΘΥΝΣΗ

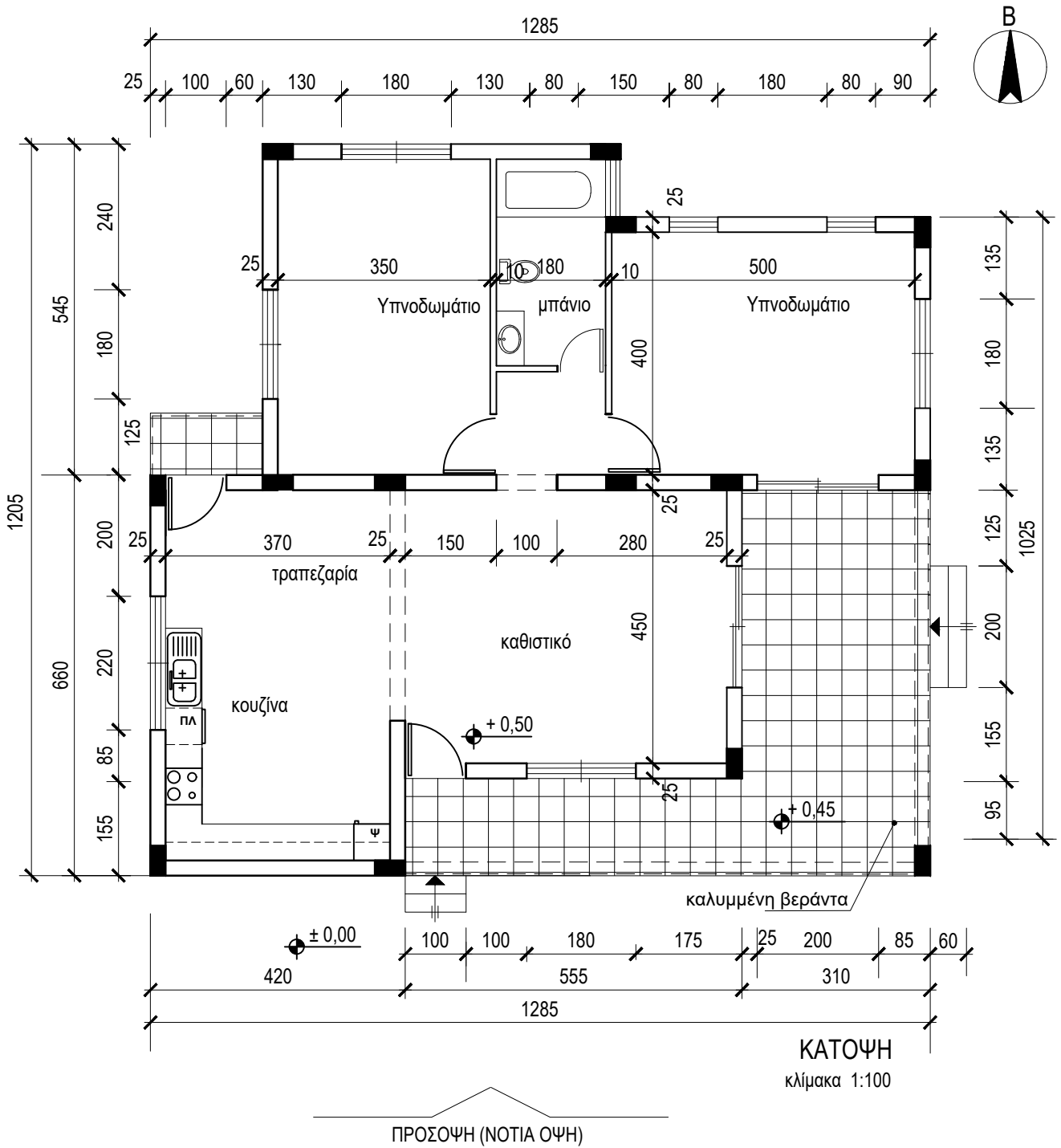
ΗΜΕΡΟΜΗΝΙΑ : Παρασκευή, 24 Μαΐου 2024

ΕΞΕΤΑΖΟΜΕΝΟ ΜΑΘΗΜΑ: ΑΡΧΙΤΕΚΤΟΝΙΚΟ ΣΧΕΔΙΟ

ΚΩΔΙΚΟΣ ΜΑΘΗΜΑΤΟΣ : ds302

ΛΥΣΕΙΣ

ΠΑΡΑΡΤΗΜΑ 1



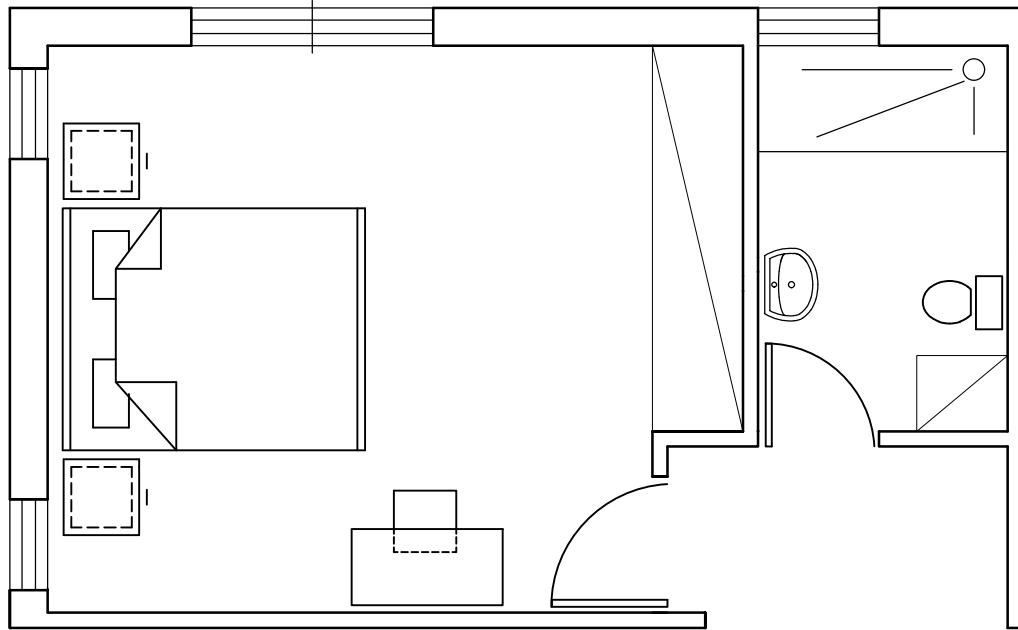
ΑΣΚΗΣΗ 2 (10 μονάδες)

Στο ΣΧΗΜΑ 1 δίνεται η κάτοψη υπνοδωματίου σε κλίμακα 1:50, χωρίς διαστάσεις.

Να διαρρυθμίσετε κατά τρόπο λειτουργικό και με βάση τα εργονομικά μεγέθη, το χώρο του υπνοδωματίου, σχεδιάζοντας την επίπλωση.

Η επίπλωση να περιλαμβάνει τα πιο κάτω:

- ένα διπλό κρεβάτι 160x200 cm
- δύο κομοδίνα 50x50 cm
- ένα έπιπλο τουαλέτας 50x100 cm με σκαμπό .



ΣΧΗΜΑ 1

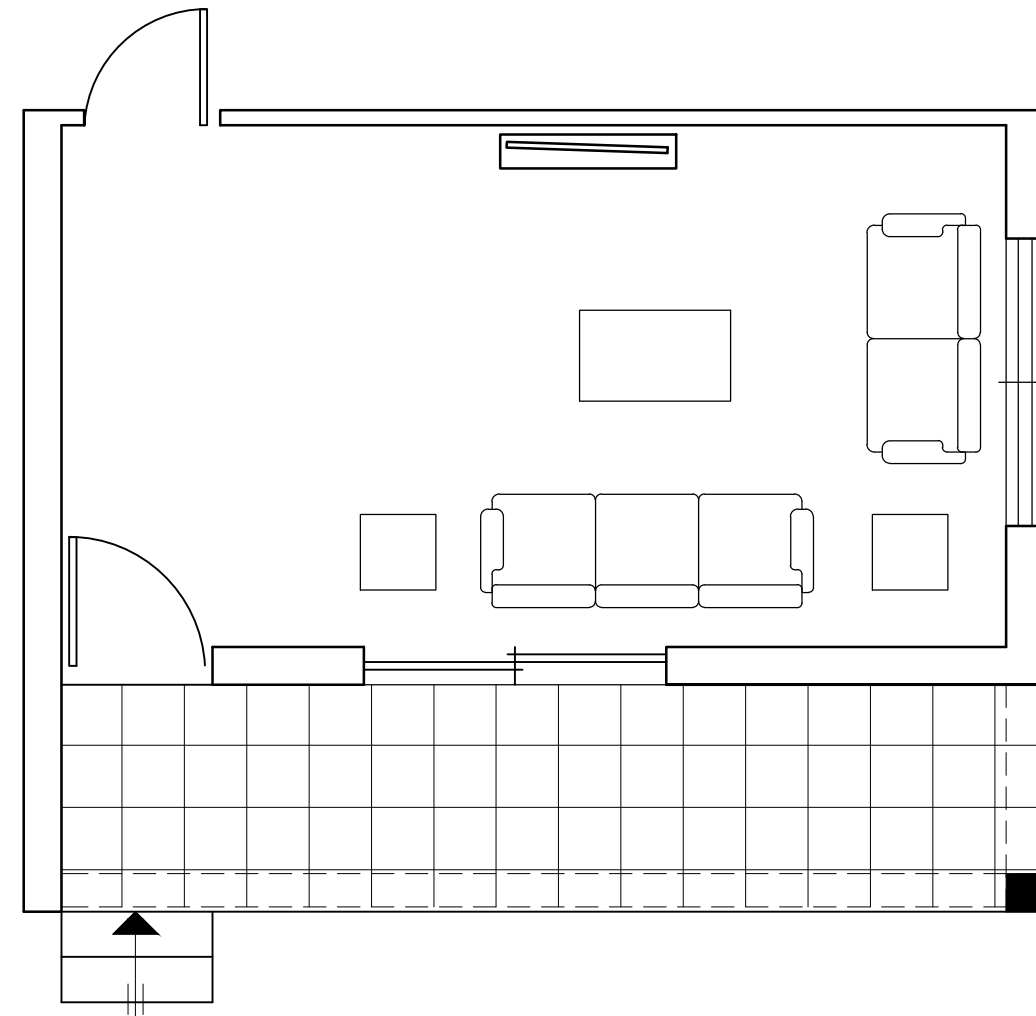
ΑΣΚΗΣΗ 2 (10 μονάδες)

Στο ΣΧΗΜΑ 2 δίνεται η κάτοψη καθιστικού σε κλίμακα 1:50, χωρίς διαστάσεις.

Να διαρρυθμίσετε κατά τρόπο λειτουργικό και με βάση τα εργονομικά μεγέθη, το χώρο του καθιστικού, σχεδιάζοντας την επίπλωση.

Η επίπλωση να περιλαμβάνει τα πιο κάτω:

- έναν τριθέσιο καναπέ
- ένα διθέσιο καναπέ
- δύο πλαϊνά τραπέζια 60x60 cm
- ένα κεντρικό τραπέζι 100x60 cm
- ένα έπιπλο τηλεόρασης.



ΣΧΗΜΑ 2

ΑΣΚΗΣΗ 3 (35 μονάδες)

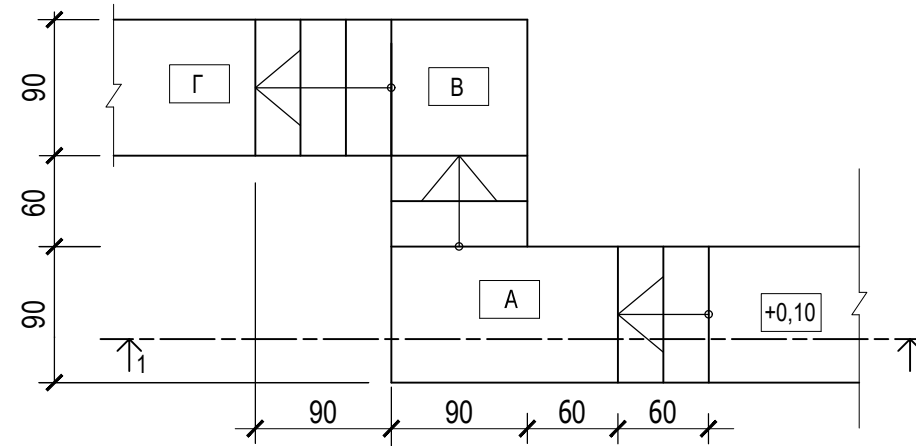
Δίνεται η κάτοψη σκάλας (κλίμακας) σε κλίμακα 1:50.

- α) Να σχεδιάσετε, σε κλίμακα 1:20 την **τομή 1-1** της σκάλας (κλίμακας).
β) Να υπολογίσετε τα υψόμετρα Α, Β και Γ στα πλατύσκαλα και να αναγράψετε **όλα τα υψόμετρα** στην τομή.
γ) Να αναγράψετε τον τίτλο και την κλίμακα του σχεδίου.

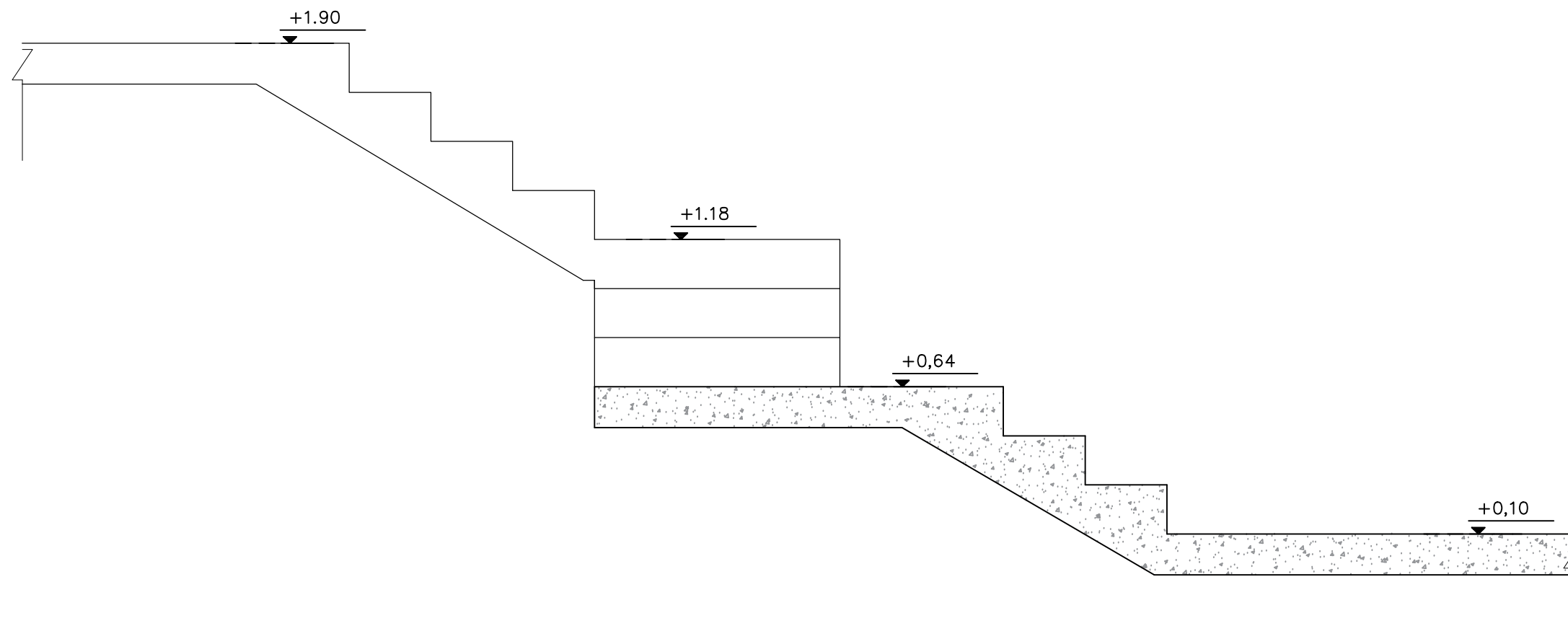
Σημειώσεις :

- Το πλάτος (πάτημα) των βαθμίδων της σκάλας είναι 30 cm.
- Το ύψος της βαθμίδας είναι 18 cm.
- Η σκάλα είναι κατασκευασμένη από οπλισμένο σκυρόδεμα και το πάχος της πλάκας της είναι 15 cm.

Να μη σχεδιαστεί η κάτοψη της σκάλας.



ΚΑΤΟΨΗ ΣΚΑΛΑΣ
κλίμακα 1:50



ΤΟΜΗ 1 - 1 Κλίμακα 1:20

ΑΣΚΗΣΗ 1

Στο Παράρτημα 1, δίνεται η κάτοψη κατοικίας σε κλίμακα 1:100.

α) Να σχεδιάσετε σε κλίμακα 1:50, την πρόσοψη (Νότια Όψη) της κατοικίας, λαμβάνοντας υπόψη όλες τις πληροφορίες που δίνονται στις σημειώσεις και στο τμήμα της τυπικής τομής.

β) Να αναγράψετε τον τίτλο και την κλίμακα του σχεδίου.

Σημειώσεις :

- Οι διαστάσεις δίνονται σε εκατοστόμετρα (cm) και τα υψόμετρα σε μέτρα (m). Όπου δεν αναγράφονται οι διαστάσεις να υπολογιστούν σε συνάρτηση με τις δοσμένες διαστάσεις.
- Το ύψος της πάνω πλευράς των ανοιγμάτων των θυρών και των παραθύρων (ανώφλι) είναι 220 cm από το δάπεδο του εσωτερικού χώρου της κατοικίας.
- Το ύψος του κάτω μέρους των παραθύρων (ποδιά) είναι 100 cm από το δάπεδο του εσωτερικού χώρου της κατοικίας, εκτός από εκείνο της κουζίνας που είναι 120 cm από το δάπεδο.

