

ΥΠΟΥΡΓΕΙΟ ΠΑΙΔΕΙΑΣ, ΑΘΛΗΤΙΣΜΟΥ
ΚΑΙ ΝΕΟΛΑΙΑΣ
ΔΙΕΥΘΥΝΣΗ ΑΝΩΤΕΡΗΣ ΕΚΠΑΙΔΕΥΣΗΣ
ΥΠΗΡΕΣΙΑ ΕΞΕΤΑΣΕΩΝ

ΠΑΓΚΥΠΡΙΕΣ ΕΞΕΤΑΣΕΙΣ ΠΡΟΣΒΑΣΗΣ 2024

ΜΑΘΗΜΑ : ΑΙΣΘΗΤΙΚΗ ΠΡΟΣΩΠΟΥ (418)

ΗΜΕΡΟΜΗΝΙΑ : ΤΕΤΑΡΤΗ, 26 ΙΟΥΝΙΟΥ 2024

ΩΡΑ ΕΞΕΤΑΣΗΣ : 8:00 – 10:30

ΤΟ ΕΞΕΤΑΣΤΙΚΟ ΔΟΚΙΜΙΟ ΑΠΟΤΕΛΕΙΤΑΙ ΑΠΟ ΔΕΚΑΤΡΕΙΣ (13) ΣΕΛΙΔΕΣ
ΚΑΙ ΠΕΡΙΛΑΜΒΑΝΕΙ ΤΡΙΑ (3) ΜΕΡΗ (Α΄, Β΄ ΚΑΙ Γ΄).

ΟΔΗΓΙΕΣ:

1. Να απαντήσετε σε **ΟΛΕΣ** τις ερωτήσεις.
2. **Όλες οι ερωτήσεις να απαντηθούν στο εξεταστικό δοκίμιο.** Σε περίπτωση που θα χρειαστεί περισσότερος χώρος για τις απαντήσεις, μπορεί να χρησιμοποιηθεί η σελίδα 13.
3. **Δεν** επιτρέπεται η χρήση διορθωτικού υγρού ή άλλου διορθωτικού υλικού.
4. Να γράφετε μόνο με **μπλε μελάνι**.
5. Η **σελίδα 14** που δίνεται μετά το τέλος του εξεταστικού δοκιμίου, να χρησιμοποιηθεί **μόνο για πρόχειρο** και δεν θα ληφθεί υπόψη στη βαθμολόγηση.

ΜΕΡΟΣ Α΄: Αποτελείται από δώδεκα (12) ερωτήσεις.
Κάθε ερώτηση βαθμολογείται με τέσσερις (4) μονάδες.

1. Στον **Πίνακα 1**, δίπλα από κάθε εικόνα, να ονομάσετε τα μηχανήματα αισθητικής που απεικονίζονται.

Πίνακας 1



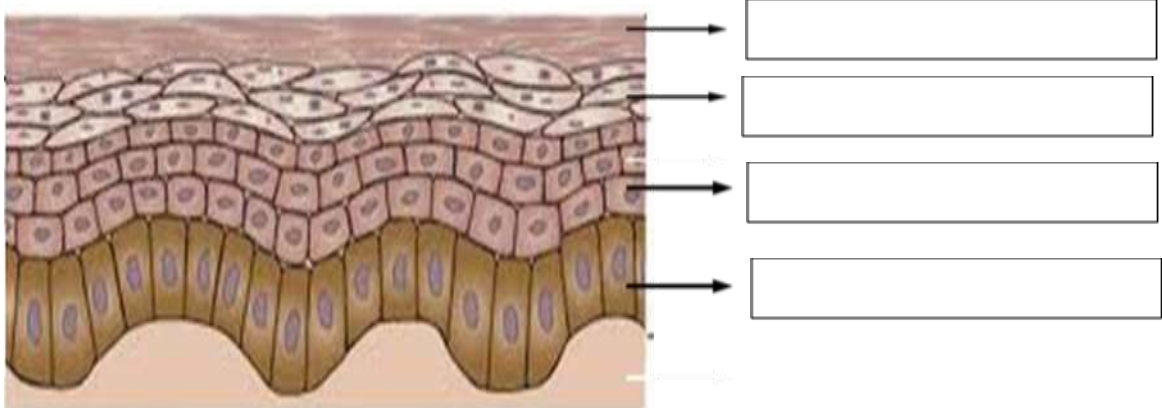



2. Οι αντενδείξεις στις μάσκες προσώπου ταξινομούνται σε **Γενικές** και **Ειδικές**. Στον **Πίνακα 2**, να κυκλώσετε την ορθή απάντηση στις αντενδείξεις που σας δίνονται.

Πίνακας 2

Έγκαυμα β' και γ' βαθμού	Γενική/ Ειδική
Ευρυαγγείες	Γενική/ Ειδική
Έντονη τριχοφυΐα	Γενική/ Ειδική
Φλεγμονές και μολύνσεις	Γενική/ Ειδική

3. Να ονομάσετε τις στιβάδες της επιδερμίδας που φαίνονται στην πιο κάτω εικόνα.



4. α) Να γράψετε τι περιέχουν οι αντιηλιακές κρέμες προσώπου, **επιπρόσθετα** από τις άλλες κρέμες προσώπου.

.....

.....

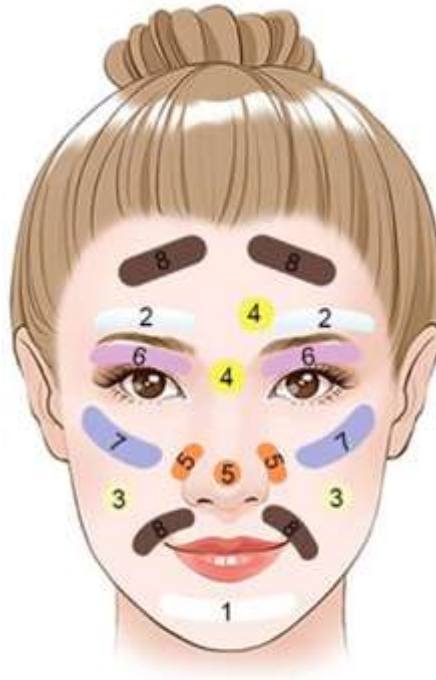
.....

- β) Να γράψετε **δύο (2)** λόγους για τους οποίους ενδείκνυται η χρήση των αντιηλιακών κρεμών προσώπου.

i.

ii.

5. Η πιο κάτω εικόνα δείχνει το πρόσωπο κάτω από τη λάμπα του Γουντ (wood). Στον **Πίνακα 3**, δίπλα από κάθε αριθμό-χρωματισμό, να συμπληρώσετε τα χαρακτηριστικά του δέρματος με τις λέξεις που σας δίνονται στην παρένθεση. (λιπαρότητα, ανοικτοί φαγέσωρες, δυσχρωμίες, αφυδάτωση)



Πίνακας 3

Χρωματισμοί	Χαρακτηριστικά δέρματος
Κίτρινο - πορτοκαλί (4)	
Έντονο πορτοκαλί (5)	
Έντονο μωβ (6)	
Καφέ- μαύρο (8)	

6. Να κυκλώσετε τη σωστή απάντηση στις πιο κάτω προτάσεις.

α) Η κύρια λειτουργία του λεμφικού συστήματος στο πρόσωπο είναι:

- i. Μεταφορά οξυγόνου στα κύτταρα του προσώπου
- ii. Απομάκρυνση των τοξινών και των άχρηστων ουσιών
- iii. Παραγωγή σμήγματος
- iv. Ρύθμιση της θερμοκρασίας του προσώπου

β) Οι κύριοι λεμφαδένες του προσώπου βρίσκονται:

- i. Στα ζυγωματικά
- ii. Κάτω από το πηγούνι και γύρω από τη γνάθο
- iii. Στη ρινική κοιλότητα
- iv. Στο μέτωπο

γ) Η κατάλληλη κατεύθυνση για την εκτέλεση λεμφικού μασάζ στο πρόσωπο είναι:

- i. Από πάνω προς τα κάτω
- ii. Από τα αυτιά προς τη μύτη
- iii. Από το κέντρο του προσώπου προς τα έξω και προς τα κάτω
- iv. Από το πηγούνι προς το μέτωπο

δ) Η λέμφος είναι:

- i. Ορώδες διαυγές υγρό
- ii. Ορώδες υπόλευκο υγρό
- iii. Κιτρινωπό υγρό
- iv. Παχύρευστο διαυγές υγρό

7. (α) Να ονομάσετε τον τύπο δέρματος που απεικονίζεται στην πιο κάτω εικόνα.
(μονάδες 1)





Τύπος δέρματος:.....

(β) Να αναφέρετε **τρία (3)** χαρακτηριστικά του πιο πάνω τύπου δέρματος.
(μονάδες 3)

- i.
- ii.
- iii.

8. Στον **Πίνακα 4**, δίπλα από κάθε εικόνα, να σημειώσετε την **ονομασία** των συσκευών διάγνωσης δέρματος του προσώπου και **μία (1) χρήση** τους.

Πίνακας 4

Συσκευές	Ονομασία	Χρήση
	<p>.....</p> <p>.....</p>	<p>.....</p> <p>.....</p> <p>.....</p>
	<p>.....</p> <p>.....</p>	<p>.....</p> <p>.....</p> <p>.....</p>

9. Να αναφέρετε τις **τέσσερις (4)** ενδείξεις για την χρήση του γαλβανικού ρεύματος στο πρόσωπο.

- i.
- ii.
- iii.
- iv.

10. Στον **Πίνακα 5**, να γράψετε **ένα (1)** κατάλληλο απολεπιστικό προϊόν (πήλινγκ) για τους παρακάτω τύπους δέρματος.

Πίνακας 5

Τύποι δέρματος	Απολεπιστικό προϊόν
Ξηρό δέρμα	
Ακνεϊκό δέρμα	
Λιπαρό δέρμα	
Ωριμο δέρμα	

11. Να γράψετε τα **τέσσερα (4)** αποτελέσματα που προκαλεί στο πρόσωπο η παθητική εκγύμναση των μυών με τη χρήση φαραδικού ρεύματος.

- i.
- ii.
- iii.
- iv.

12. Στον **Πίνακα 6**, στη στήλη Α, αναφέρονται δύο κατηγορίες των στοιχείων που καταγράφονται στην κάρτα ιστορικού του πελάτη/της πελάτισσας. Στη στήλη Β, να γράψετε **δύο (2)** επιμέρους στοιχεία που αναγράφονται στην κάθε κατηγορία.

Πίνακας 6

ΣΤΗΛΗ Α	ΣΤΗΛΗ Β
Προσωπικά στοιχεία του πελάτη	i. ii.
Ιατρικό ιστορικό	i. ii.

**ΤΕΛΟΣ ΜΕΡΟΥΣ Α΄
ΑΚΟΛΟΥΘΕΙ ΤΟ ΜΕΡΟΣ Β΄**

ΜΕΡΟΣ Β΄: Αποτελείται από (4) ερωτήσεις.

Κάθε ερώτηση βαθμολογείται με οκτώ (8) μονάδες.

13. Στον **Πίνακα 7α**, να αντιστοιχίσετε τα χαρακτηριστικά των τύπων δέρματος που βρίσκονται στη στήλη Α, με τους τύπους δέρματος που βρίσκονται στη στήλη Β, συμπληρώνοντας τον **Πίνακα 7β**. Αντιστοιχούν **δύο (2)** τύποι δέρματος για κάθε χαρακτηριστικό.

Πίνακας 7α

ΣΤΗΛΗ Α	ΣΤΗΛΗ Β
i. Διογκωμένοι πόροι	Α) Λιπαρό δέρμα
ii. Έλλειψη νερού	Β) Ώριμο δέρμα
iii. Έλλειψη σμήγματος	Γ) Ξηρό δέρμα
iv. Πληθώρα βλαβών	Δ) Αφυδατωμένο δέρμα
v. Έντονη σμηγματόρροια	Ε) Ακνεϊκό δέρμα
vi. Συχνή αφυδάτωση	
vii. Ευρυαγγείες	
viii. Λεπτή επιδερμίδα	

Πίνακας 7β

ΣΤΗΛΗ Α	ΣΤΗΛΗ Β
i.	
ii.	
iii.	
iv.	
v.	
vi.	
vii.	
viii.	

14. Οι μάσκες προσώπου, σύμφωνα με τις πρώτες ύλες που περιέχουν, ταξινομούνται σε κατηγορίες. **Στον πίνακα 8**, δίπλα από κάθε εικόνα, να ονομάσετε την κατηγορία της μάσκας και **δύο (2)** ιδιότητες για την κάθε μια.

Πίνακας 8

Μάσκες προσώπου	Κατηγορία	Ιδιότητες
	<p>.....</p>	<p>i.</p> <p>ii.</p>
	<p>.....</p>	<p>i.</p> <p>ii.</p>
	<p>.....</p>	<p>i.</p> <p>ii.</p>
	<p>.....</p>	<p>i.</p> <p>ii.</p>

15. Να αναφέρετε **οκτώ (8)** περιπτώσεις (αντενδείξεις) που θα αποφεύγατε τη χρήση του φαραδικού ρεύματος στο πρόσωπο.

- i.
- ii.
- iii.
- iv.
- v.
- vi.
- vii.
- viii.

16. α) Να γράψετε τη δράση των υψίσυχνων μηχανημάτων αισθητικής προσώπου. (μονάδες 2)

.....
.....
.....

β) Να εξηγήσετε πώς γίνεται η άμεση και πώς η έμμεση εφαρμογή των υψίσυχνων στο πρόσωπο. (μονάδες 6)

Άμεση εφαρμογή:.....
.....
.....

Έμμεση εφαρμογή:.....
.....
.....

**ΤΕΛΟΣ ΜΕΡΟΥΣ Β΄
ΑΚΟΛΟΥΘΕΙ ΤΟ ΜΕΡΟΣ Γ΄**

**ΜΕΡΟΣ Γ': Αποτελείται από δύο (2) ερωτήσεις.
Κάθε ερώτηση βαθμολογείται με δέκα (10) μονάδες.**

17. Στην πιο κάτω εικόνα παρουσιάζεται η εφαρμογή του χημικού πήλινγκ στο πρόσωπο. Να απαντήσετε στα ακόλουθα:



α) Να γράψετε τη σύσταση του χημικού πήλινγκ. (μονάδες 1)

.....

β) Να εξηγήσετε τη διαδικασία εφαρμογής του χημικού πήλινγκ στο πρόσωπο. (μονάδες 2)

.....
.....
.....
.....

γ) Να γράψετε **τέσσερις (4)** αντενδείξεις εφαρμογής του χημικού πήλινγκ στο πρόσωπο. (μονάδες 4)

- i.
- ii.
- iii.
- iv.

δ) Να αναφέρετε **τρία (3)** ευεργετικά αποτελέσματα εφαρμογής του χημικού πηλινκ στο πρόσωπο. (μονάδες 3)

- i.
- ii.
- iii.

18. α) Να γράψετε **πέντε (5)** οφέλη της λεμφικής παροχέτευσης στο πρόσωπο. (μονάδες 5)

- i.
- ii.
- iii.
- iv.
- v.

β) Να εξηγήσετε για ποιο λόγο η λεμφική παροχέτευση δεν συστήνεται να εφαρμόζεται σε άτομα με χαμηλό ανοσοποιητικό σύστημα. (μονάδες 3)

.....

.....

.....

.....

.....

γ) Να αναφέρετε **δύο (2)** περιπτώσεις στις οποίες συστήνεται η λεμφική παροχέτευση προσώπου. (μονάδες 2)

- i.
- ii.

