

ΥΠΟΥΡΓΕΙΟ ΠΑΙΔΕΙΑΣ, ΑΘΛΗΤΙΣΜΟΥ
ΚΑΙ ΝΕΟΛΑΙΑΣ
ΔΙΕΥΘΥΝΣΗ ΑΝΩΤΕΡΗΣ ΕΚΠΑΙΔΕΥΣΗΣ
ΥΠΗΡΕΣΙΑ ΕΞΕΤΑΣΕΩΝ

ΠΑΓΚΥΠΡΙΕΣ ΕΞΕΤΑΣΕΙΣ ΠΡΟΣΒΑΣΗΣ 2024

ΜΑΘΗΜΑ : ΑΡΧΙΤΕΚΤΟΝΙΚΟ ΣΧΕΔΙΟ (502)

ΗΜΕΡΟΜΗΝΙΑ : ΠΑΡΑΣΚΕΥΗ, 21 ΙΟΥΝΙΟΥ 2024

ΩΡΑ : 8:00 – 10:30

Το εξεταστικό δοκίμιο αποτελείται από δύο (2) σελίδες Α4 και τέσσερα (4) φύλλα σχεδίασης Α3.

Ο κάθε εξεταζόμενος και η κάθε εξεταζόμενη να εφοδιαστεί με τα πιο κάτω:

- Το εξεταστικό δοκίμιο
- Ένα έντυπο χαρτονάκι Α4 στο οποίο, αφού συμπληρώσουν τα στοιχεία τους, να επισυναφθούν και τα τέσσερα (4) φύλλα σχεδίασης Α3.

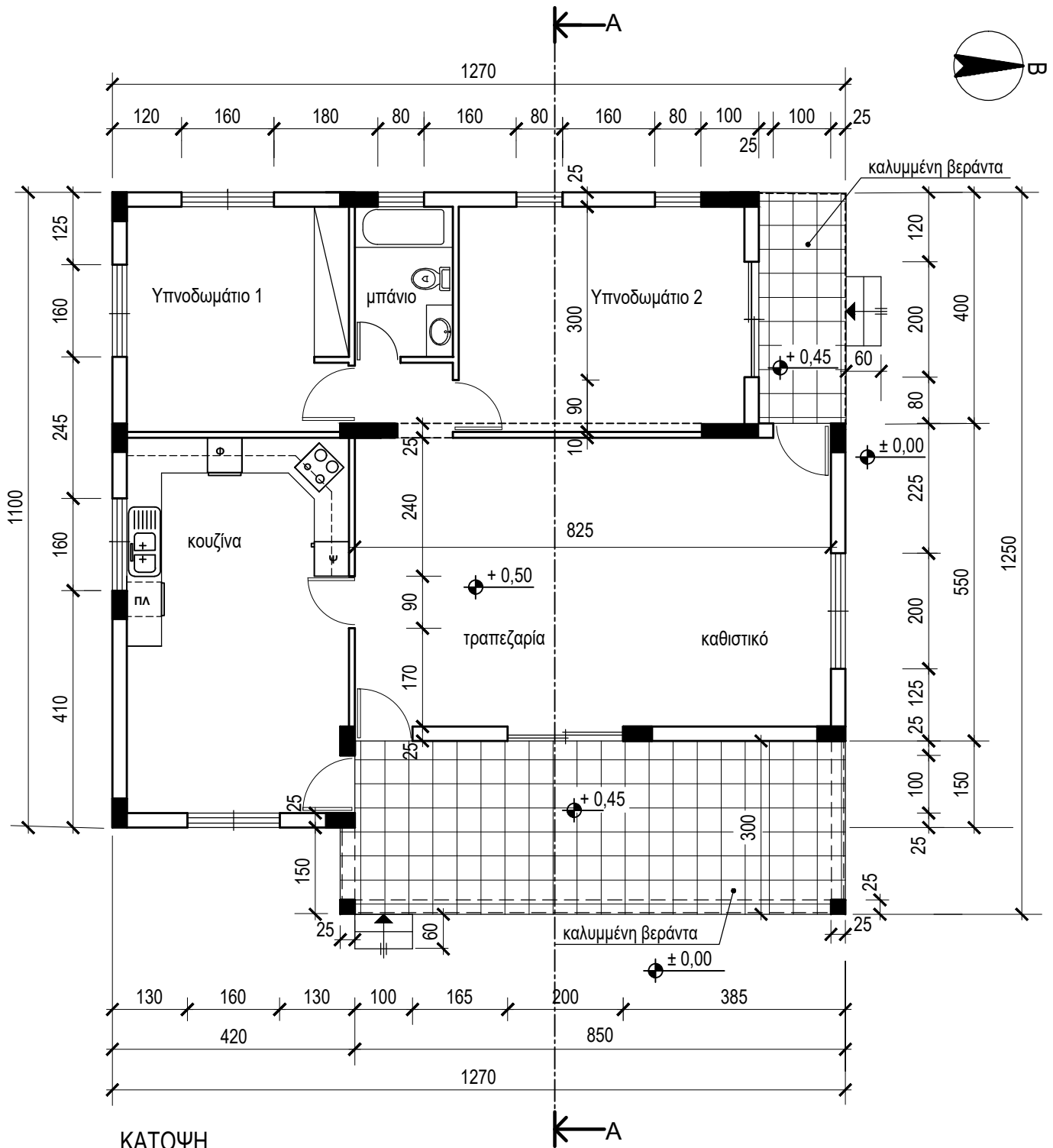
ΟΔΗΓΙΕΣ

Το εξεταστικό δοκίμιο περιλαμβάνει δύο (2) μέρη, Α' και Β'.

Να λύσετε όλες τις ασκήσεις στα τέσσερα (4) φύλλα σχεδίασης Α3.

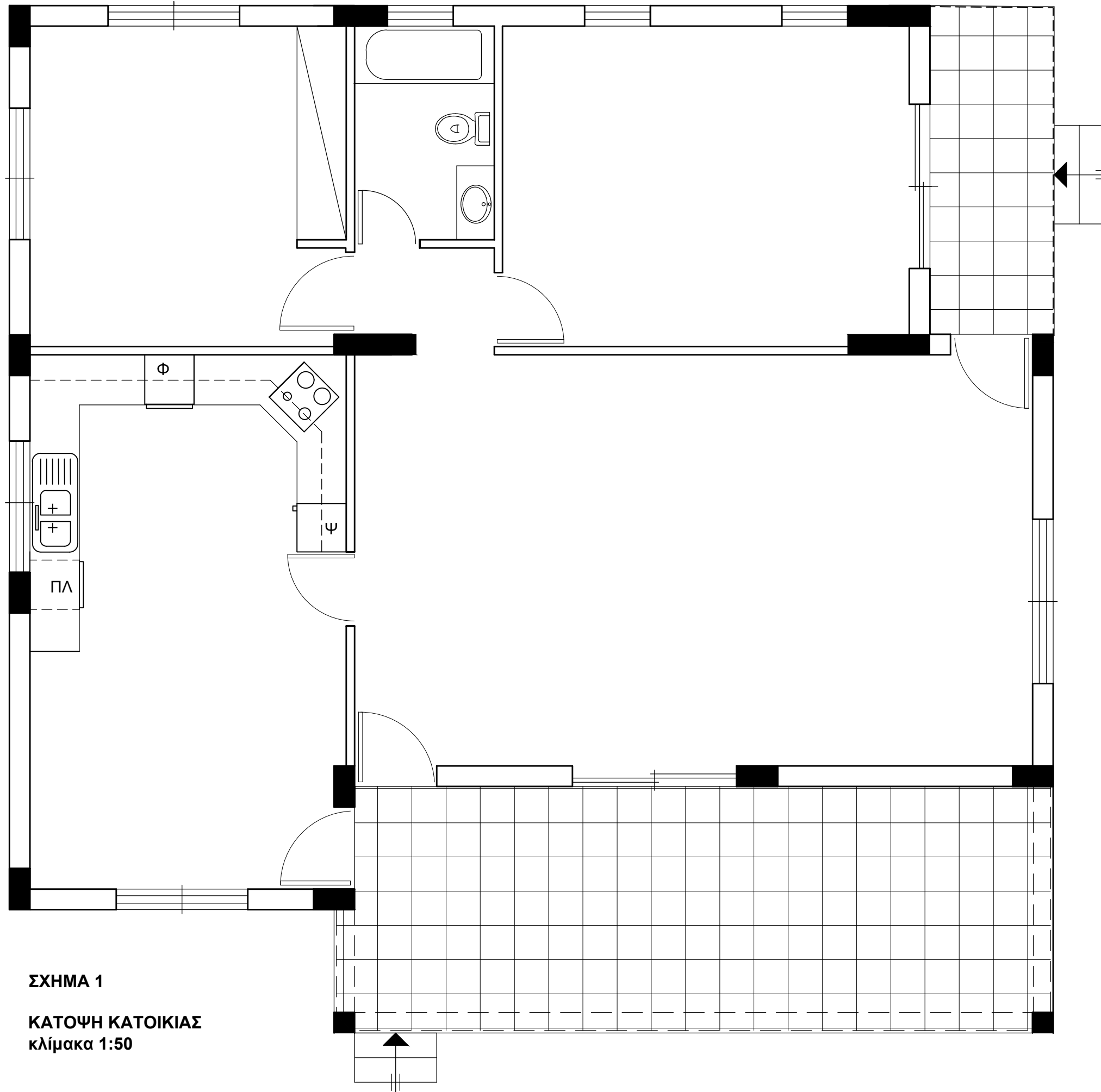
1. Να συμπληρώσετε τα στοιχεία σας με μπλε μελάνι στο έντυπο Α4 και στα τέσσερα (4) φύλλα σχεδίασης.
2. Να προσέξετε τη διάταξη των σχεδίων στο κάθε φύλλο σχεδίασης.
3. Να προσέξετε τη γραμμογραφία, τα γράμματα, τους αριθμούς και τους συμβολισμούς.
4. Να προσέξετε την όλη εμφάνιση και την καθαρότητα των σχεδίων σας.
5. Οι βοηθητικές γραμμές να παραμείνουν στα σχέδια.
6. Διαστάσεις που δεν αναφέρονται, να υπολογιστούν σε συνάρτηση με τις δοσμένες διαστάσεις.
7. Επιτρέπεται η χρήση κλιμακόμετρου και στένσιλ επίπλων.
8. Επιτρέπεται η χρήση μη προγραμματιζόμενης υπολογιστικής μηχανής.

ΠΑΡΑΡΤΗΜΑ



ΚΑΤΟΨΗ
κλίμακα 1:100

Πρόσοψη (Ανατολική όψη)



ΕΠΩΝΥΜΟ :

ΟΝΟΜΑ :

ΚΩΔΙΚΟΣ ΥΠΟΨΗΦΙΟΥ :

ΑΣΚΗΣΗ 1 (10 μονάδες)

Στο σχήμα 1 δίνεται η κάτοψη της κατοικίας του Παραρτήματος, σε κλίμακα 1:50, χωρίς διαστάσεις. Να διαρρυθμίσετε, κατά τρόπο λειτουργικό και με βάση τα εργονομικά μεγέθη, τον χώρο του υπνοδωματίου 2, σχεδιάζοντας:

- α) ένα κρεβάτι 160x200 cm,
- β) δύο κομοδίνα 50x50 cm,
- γ) ένα έπιπλο τουαλέτας με σκαμπό,
- δ) μία πολυθρόνα.

ΑΣΚΗΣΗ 2 (15 μονάδες)

Στην ίδια κάτοψη του σχήματος 1, να διαρρυθμίσετε, κατά τρόπο λειτουργικό και με βάση τα εργονομικά μεγέθη, τους χώρους του καθιστικού και της τραπεζαρίας, σχεδιάζοντας:

- α) ένα τριθέσιο καναπέ,
- β) ένα διθέσιο καναπέ,
- γ) ένα κεντρικό τραπέζακι 75x120 cm,
- δ) δύο πλαϊνά τραπέζακια 60x60 cm,
- ε) ένα έπιπλο τηλεόρασης
- στ) ένα τραπέζι 90x160 cm και καρέκλες για έξι άτομα,
- ζ) ένα έπιπλο τραπεζαρίας (μπουφέ) 50x200 cm.

ΣΧΗΜΑ 1

ΚΑΤΟΨΗ ΚΑΤΟΙΚΙΑΣ
κλίμακα 1:50

ΑΣΚΗΣΗ 3 (25 μονάδες)

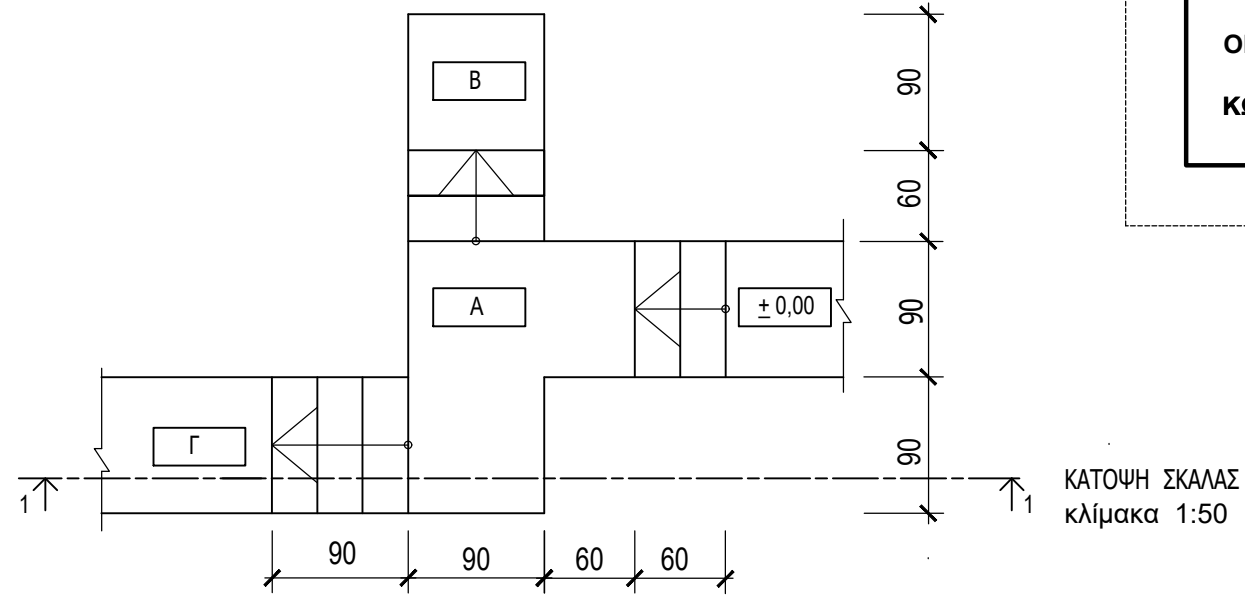
Δίνεται η κάτοψη σκάλας (κλίμακας) σε κλίμακα 1:50.

- α) Να σχεδιάσετε σε κλίμακα **1:20** την **τομή 1-1** της σκάλας (κλίμακας).
 β) Να υπολογίσετε τα υψόμετρα Α, Β και Γ στα πλατύσκαλα και να αναγράψετε **όλα τα υψόμετρα** στην τομή.
 γ) Να αναγράψετε τον τίτλο και την κλίμακα του σχεδίου.

Σημειώσεις :

- Το πάτημα της σκάλας είναι **30 cm**.
- Το ύψος των σκαλιών είναι **18 cm**.
- Η σκάλα είναι κατασκευασμένη από οπλισμένο σκυρόδεμα και το πάχος της πλάκας της είναι **15 cm**.
- Οι διαστάσεις δίνονται σε **εκατοστόμετρα (cm)** και τα υψόμετρα σε **μέτρα (m)**.

Να μη σχεδιαστεί η κάτοψη της σκάλας.



ΕΠΩΝΥΜΟ :

ΟΝΟΜΑ :

ΚΩΔΙΚΟΣ ΥΠΟΨΗΦΙΟΥ :

ΑΣΚΗΣΗ 4 (20 μονάδες)

Στο Παράρτημα, δίνεται η κάτοψη κατοικίας σε κλίμακα 1:100.

α) Να σχεδιάσετε σε κλίμακα **1:50**, την **πρόσοψη (Ανατολική όψη)** της κατοικίας, λαμβάνοντας υπόψη όλες τις πληροφορίες που δίνονται στις σημειώσεις και στο τμήμα της τυπικής τομής.

β) Να αναγράψετε τον τίτλο και την κλίμακα του σχεδίου.

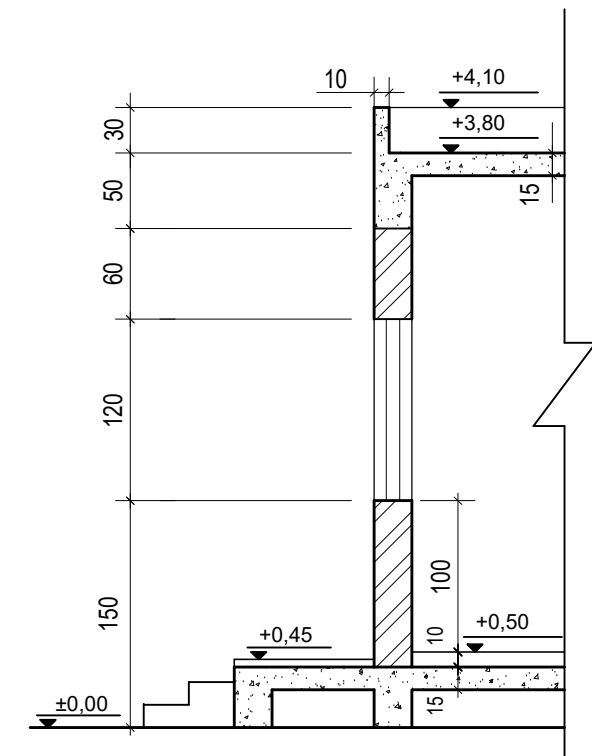
Σημειώσεις :

- Οι διαστάσεις δίνονται σε **εκατοστόμετρα (cm)** και τα υψόμετρα σε **μέτρα (m)**. Όπου δεν αναγράφονται οι διαστάσεις να υπολογιστούν σε συνάρτηση με τις δοσμένες διαστάσεις.
- Το ύψος της πάνω πλευράς των ανοιγμάτων των θυρών και των παραθύρων (ανώφλι) είναι 220 cm από το δάπεδο του εσωτερικού χώρου της κατοικίας.
- Το ύψος του κάτω μέρους των παραθύρων (ποδιά) είναι 100 cm από το δάπεδο του εσωτερικού χώρου της κατοικίας, εκτός από εκείνο της κουζίνας που είναι 120 cm από το δάπεδο.

ΕΠΩΝΥΜΟ :

ΟΝΟΜΑ :

ΚΩΔΙΚΟΣ ΥΠΟΨΗΦΙΟΥ :



ΤΥΠΙΚΗ ΤΟΜΗ
Κλίμακα 1:50

ΑΣΚΗΣΗ 5 (30 μονάδες)

Στο Παράρτημα, δίνεται η κάτοψη κατοικίας σε κλίμακα 1:100.

- α) Να σχεδιάσετε σε κλίμακα **1:50**, την **τομή Α - Α** της κατοικίας, λαμβάνοντας υπόψη όλες τις πληροφορίες που δίνονται στις σημειώσεις και στο τμήμα της τυπικής τομής.
- β) Να αναγράψετε τα απαραίτητα υψόμετρα (υψόμετρο εδάφους, δαπέδου βεράντας, δαπέδου εσωτερικού χώρου, πάνω μέρους πλάκας οροφής και στηθαίου οροφής).
- γ) Να αναγράψετε τον τίτλο και την κλίμακα του σχεδίου.

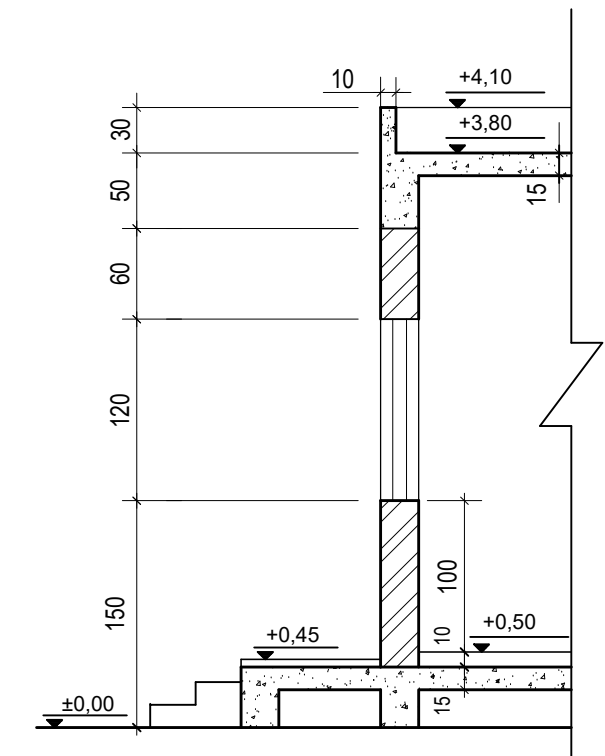
Σημειώσεις :

- Οι διαστάσεις δίνονται σε **εκατοστόμετρα (cm)** και τα υψόμετρα σε **μέτρα (m)**. Όπου δεν αναγράφονται οι διαστάσεις να υπολογιστούν σε συνάρτηση με τις δοσμένες διαστάσεις.
- Το ύψος της πάνω πλευράς των ανοιγμάτων των θυρών και των παραθύρων (ανώφλι) είναι 220 cm από το δάπεδο του εσωτερικού χώρου της κατοικίας.
- Το ύψος του κάτω μέρους των παραθύρων (ποδιά) είναι 100 cm από το δάπεδο του εσωτερικού χώρου της κατοικίας, εκτός από εκείνο της κουζίνας που είναι 120 cm από το δάπεδο.

ΕΠΩΝΥΜΟ :

ΟΝΟΜΑ :

ΚΩΔΙΚΟΣ ΥΠΟΨΗΦΙΟΥ :



ΤΥΠΙΚΗ ΤΟΜΗ
Κλίμακα 1:50