

ΥΠΟΥΡΓΕΙΟ ΠΑΙΔΕΙΑΣ, ΑΘΛΗΤΙΣΜΟΥ ΚΑΙ ΝΕΟΛΑΙΑΣ
ΔΙΕΥΘΥΝΣΗ ΑΝΩΤΕΡΗΣ ΕΚΠΑΙΔΕΥΣΗΣ
ΥΠΗΡΕΣΙΑ ΕΞΕΤΑΣΕΩΝ

ΠΑΓΚΥΠΡΙΕΣ ΕΞΕΤΑΣΕΙΣ ΠΡΟΣΒΑΣΗΣ 2024

Μάθημα: **ΓΡΑΦΙΚΕΣ ΤΕΧΝΕΣ (46)**
Ημερομηνία και ώρα εξέτασης: **Τετάρτη, 19 Ιουνίου 2024**
08:00 - 11:00







ΛΥΣΕΙΣ

ΜΕΡΟΣ Α΄

(ΜΟΝΑΔΕΣ 25)

Αποτελείται από πέντε (5) ερωτήσεις.
Να απαντήσετε και στις πέντε (5) ερωτήσεις.



1. Να παρατηρήσετε τα παρακάτω λογότυπα και να γράψετε την κατηγορία, στην οποία ανήκει το κάθε ένα. (μονάδες 6)

 CONVERSE συνδυασμός επωνυμίας-συμβόλου	 billboard τυπογραφικό	 Inc. τυπογραφικό
α)	β)	γ)
 DUNKIN' DONUTS τυπογραφικό	 Timberland συνδυασμός επωνυμίας-συμβόλου	 Timberland συνδυασμός επωνυμίας-συμβόλου
δ)	ε)	στ)

2. Δίνονται τα παρακάτω σήματα/σύμβολα (i), (ii) και (iii).

Αφού τα παρατηρήσετε, να σημειώσετε με ✓ στον πίνακα που ακολουθεί, την πρόταση, η οποία περιγράφει και τα τρία (3) παρακάτω σήματα/σύμβολα.

ΠΡΟΣΟΧΗ: Υπάρχει μόνο μία (1) σωστή απάντηση. (μονάδες 2)



ΠΡΟΤΑΣΕΙΣ	
α. Σήματα/σύμβολα – που προέρχονται από αφηρημένες φόρμες	
β. Σήματα/σύμβολα – ανθρωπομορφικά	
γ. Σήματα/σύμβολα – βασισμένα στο φυσικό περιβάλλον	✓
δ. Σήματα/σύμβολα – που προέρχονται από σχήματα και γράμματα	

3. Δίνεται παρακάτω η μπροστινή και η πίσω όψη της συσκευασίας παγωτού «plan(e)t».

Αφού τις παρατηρήσετε, να γράψετε στον παρακάτω χώρο πέντε (5) ενδείξεις που παρουσιάζονται στις δύο (2) όψεις της συσκευασίας. (μονάδες 5)



- (i) Λογότυπο / Όνομα εταιρείας / Χρώματα
- (ii) Όνομα προϊόντος / Περιεχόμενο / Καθαρή ποσότητα περιεχομένου (e)
- (iii) Οδηγίες χρήσης και διατήρησης / Συστατικά
- (iv) Χρονολογία ελάχιστης διατηρησιμότητας / Γραμμωτός κώδικας (Barcode)
- (v) Διεύθυνση παρασκευαστή ή συσκευαστή / Χώρα προέλευσης ή παραγωγής

4. Η σακούλα είναι ένα από τα είδη **Ειδικών Μορφών Συσκευασίας**. Η χρήση της αποτελεί μέσο για τους καταναλωτές, προκειμένου να μεταφέρουν τα προϊόντα που αγόρασαν από ένα κατάστημα στο σπίτι. Να γράψετε δύο (2) άλλες Ειδικές Μορφές Συσκευασίας που χρησιμοποιούνται στο εμπόριο προϊόντων. (μονάδες 2)

- (i) Ετικέτα
- (ii) Χαρτί περιτυλίγματος

5. Δίνεται η παρακάτω σειρά διαφημίσεων (i) και (ii) του ελληνικού παγωτού «ραβάνη».

Αφού την παρατηρήσετε, να απαντήσετε στις ακόλουθες ερωτήσεις: (μονάδες 10)



(i)



(ii)

α) Να γράψετε τα αριθμημένα μέρη που συνθέτουν τις παραπάνω διαφημίσεις (i) και (ii). (μονάδες 3)

- 1 Εικόνα / Φωτογραφία
- 2 Τίτλος / Σλόγκαν
- 3 Λογότυπο / Επωνυμία εταιρείας

β) Να υπογραμμίσετε την κατηγορία, στην οποία ανήκουν οι διαφημίσεις (i) και (ii). (μονάδα 1)

καταναλωτική κοινωνική/πολιτιστική πολιτική

γ) Να γράψετε δύο (2) διαφορές που έχουν οι διαφημίσεις (i) και (ii). (μονάδες 2)

Τίτλος / Χρώμα φόντου / Εικόνα / Φωτογραφία / Χρώμα πλαισίου

Σύνθεση / Διάταξη στοιχείων (Τοποθέτηση λογοτύπου, εικόνας, τίτλου / σλόγκαν)

δ) Να ονομάσετε το είδος της ισορροπίας των παραπάνω διαφημίσεων (i) και (ii) και να δικαιολογήσετε την απάντησή σας. (μονάδες 4)

Η ισορροπία της σύνθεσης στις δύο διαφημίσεις είναι ασύμμετρη γιατί αν τραβήξουμε

ένα νοητό κάθετο κεντρικό άξονα βλέπουμε ότι τα οπτικά στοιχεία είναι ανισοβαρή δεξιά

και αριστερά από τον κεντρικό άξονα.

ΤΕΛΟΣ ΜΕΡΟΥΣ Α΄
ΑΚΟΛΟΥΘΕΙ ΤΟ ΜΕΡΟΣ Β΄

ΜΕΡΟΣ Β΄

(ΜΟΝΑΔΕΣ 75)

Αποτελείται από δύο (2) σχεδιαστικές ασκήσεις.
Να εκτελέσετε και τις δύο (2) σχεδιαστικές ασκήσεις

6. Να σχεδιάσετε μία ΠΡΟΤΑΣΗ για το ΛΟΓΟΤΥΠΟ των νέων αιθουσών μπόουλινγκ με την επωνυμία «Στράικ».
(μονάδες 25)

Δίνονται:

- Η ΕΠΩΝΥΜΙΑ των νέων αιθουσών μπόουλινγκ «Στράικ»
- ΕΙΚΟΝΕΣ - ΕΙΚΑΣΤΙΚΑ ΣΤΟΙΧΕΙΑ
Μπορείτε, εάν θέλετε, να προσθέσετε και δικά σας στοιχεία σχετικά με το θέμα.

Σχεδιαστικές απαιτήσεις:

- Να έχει δύο (2) χρώματα.
- Να περιέχει το σήμα/σύμβολο που θα δημιουργήσετε και την επωνυμία των νέων αιθουσών μπόουλινγκ «Στράικ».

Τα στοιχεία μπορείτε να τα αξιοποιήσετε με αποτύπωση (αντιγραφή) στο μέγεθος και στη θέση που επιθυμείτε. Τα διαφανή φύλλα σχεδίασης (ριζόχαρτα), τα οποία σας δόθηκαν, να χρησιμοποιηθούν ως βοηθητικό μέσο και δεν θα τύχουν αξιολόγησης.

Αξιολόγηση:

Σήμα/σύμβολο και επωνυμία των νέων αιθουσών μπόουλινγκ «Στράικ»	9 μονάδες
Χρήση δύο (2) χρωμάτων	2 μονάδες
Καταλληλότητα της λύσης σε σχέση με το θέμα	8 μονάδες
Ποιότητα της πρότασης	6 μονάδες

ΣΥΝΟΛΟ 25 μονάδες

ΕΠΩΝΥΜΙΑ

Στράικ Στράικ
ΣΤΡΑΙΚ Στράικ
Στράικ Στράικ

ΕΙΚΟΝΕΣ - ΕΙΚΑΣΤΙΚΑ ΣΤΟΙΧΕΙΑ



ΠΡΟΤΑΣΗ ΛΟΓΟΤΥΠΟΥ



7. Να σχεδιάσετε μία έγχρωμη **ΠΡΟΤΑΣΗ** για τη **ΣΑΚΟΥΛΑ** του φαγάδικου με την επωνυμία «**ΟΥΑΟΥ**».

(μονάδες 50)

ΠΡΟΣΧΕΔΙΑ ΣΑΚΟΥΛΑΣ

Δίνονται:

- Δύο (2) περιγράμματα της σακούλας για τα **ΠΡΟΣΧΕΔΙΑ 1 και 2**
- Ένα (1) περίγραμμα της σακούλας για την **ΤΕΛΙΚΗ ΠΡΟΤΑΣΗ** (σελίδα 6)
- Το **ΚΕΙΜΕΝΟ** «**Η απόλυτη νοστιμιά**» (σελίδα 7)
- Το **ΛΟΓΟΤΥΠΟ** του φαγάδικου «**ΟΥΑΟΥ**» (σελίδα 7)
- **ΕΙΚΟΝΕΣ - ΕΙΚΑΣΤΙΚΑ ΣΤΟΙΧΕΙΑ** (σελίδα 7)

Μπορείτε, εάν θέλετε, να σχεδιάσετε δικές σας εικόνες και σχήματα σχετικά με το θέμα.

Η σχεδιαστική πρόταση να περιλαμβάνει:

- Το **ΚΕΙΜΕΝΟ** «**Η απόλυτη νοστιμιά**»
- Το **ΛΟΓΟΤΥΠΟ** του φαγάδικου «**ΟΥΑΟΥ**»
- Εικονογραφημένη έγχρωμη σύνθεση με εικόνες ή και ανεικονικά στοιχεία (γραμμές και σχήματα).

Σχεδιαστικές απαιτήσεις:

- Τα **ΠΡΟΣΧΕΔΙΑ 1 και 2** πρέπει να είναι δύο (2) διαφορετικές έγχρωμες ιδέες. Μπορείτε, αν θέλετε, να χρησιμοποιήσετε δειγματικό κείμενο (ως ένδειξη τοποθέτησης κειμένου).
- Η **ΤΕΛΙΚΗ ΠΡΟΤΑΣΗ** για τη σακούλα του φαγάδικου «**ΟΥΑΟΥ**» να αποτελεί εξέλιξη των προσχεδίων σας.

Τα στοιχεία μπορείτε να τα αξιοποιήσετε με αποτύπωση (αντιγραφή) στο μέγεθος και στη θέση που επιθυμείτε. Τα διαφανή φύλλα σχεδίασης (ριζόχαρτα), τα οποία σας δόθηκαν, να χρησιμοποιηθούν ως βοηθητικό μέσο και δεν θα τύχουν αξιολόγησης.

Η κοπή και η επικόλληση των στοιχείων δεν επιτρέπεται.

Αξιολόγηση:

ΠΡΟΣΧΕΔΙΑ 1 και 2


- | | |
|--|-----------|
| • Σύνθεση | 2 μονάδες |
| • Χρώμα | 2 μονάδες |
| • Εικόνα ή και ανεικονικά στοιχεία (γραμμές και σχήματα) | 2 μονάδες |
| • Τοποθέτηση κειμένου | 2 μονάδες |

ΣΥΝΟΛΟ 8 μονάδες

ΤΕΛΙΚΗ ΠΡΟΤΑΣΗ


- | | |
|---|------------|
| • Σύνθεση (διάταξη στοιχείων) | 12 μονάδες |
| • Εικονογράφηση (ποιότητα, στυλ) | 10 μονάδες |
| • Τυπογραφικός σχεδιασμός | 8 μονάδες |
| • Καταλληλότητα της λύσης σε σχέση με το θέμα | 7 μονάδες |
| • Χρήση κατάλληλων χρωμάτων | 5 μονάδες |

ΣΥΝΟΛΟ 42 μονάδες



ΠΡΟΣΧΕΔΙΟ 1

(μονάδες 4)



ΠΡΟΣΧΕΔΙΟ 2

(μονάδες 4)

ΤΕΛΙΚΗ ΠΡΟΤΑΣΗ



(μονάδες 42)

Η απόλυτη νοστιμιά

Η απόλυτη νοστιμιά

Η απόλυτη νοστιμιά

Η απόλυτη νοστιμιά

Η απόλυτη νοστιμιά



Η απόλυτη νοστιμιά

Η απόλυτη νοστιμιά

Η απόλυτη νοστιμιά

Η απόλυτη νοστιμιά

ΛΟΓΟΤΥΠΟ



Η κοπή και η επικόλληση των στοιχείων δεν επιτρέπεται.

ΠΡΟΧΕΙΡΟ

Η σελίδα αυτή είναι για πρόχειρη χρήση και δεν αξιολογείται.

ΠΡΟΧΕΙΡΟ